



آزمون ۲
ریاضی

صفحه‌های ۲۹ تا ۵۶






۲۰. با کشیدن چوب خط ، بگو شکل‌های هر ردیف با هم چند تاست؟

(الف)



(ب)

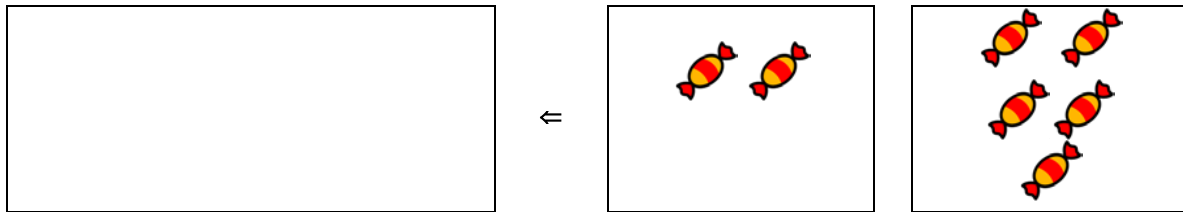


(ج)

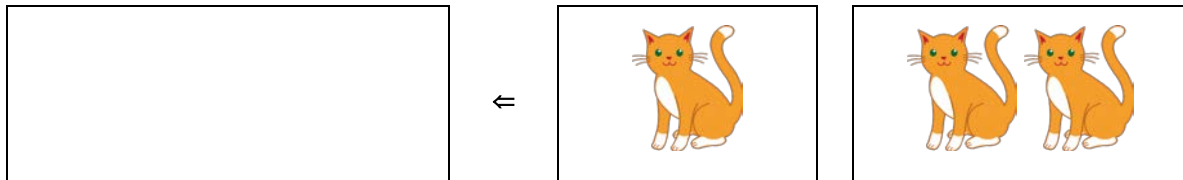


۲۱. تعداد شکل‌های سمت راست را با انگشتان خود نشان بده. حالا به تعداد شکل‌های سمت چپ از انگشتانت ببند. با چوب خط بگو چند تا مانده است؟

(الف)





(ب)



مکمل پشمار و بگو صفحه‌ی (۳۳ کتاب درسی

۲۲. الگوها را ادامه بده.

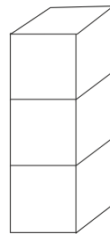
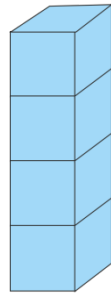


مکمل الگویابی کن، صفحه‌ی ۳۳۴ کتاب درسی

۲۳. از چینه‌های آبی رنگ به تعداد چوب خطها، خط بزن. بعد به تعداد باقی مانده از چینه‌های سمت راست،

رنگ کن.

(الف)





(ب)

مکمل پشمار و رنگ کن صفحه‌ی ۴۰ کتاب درسی

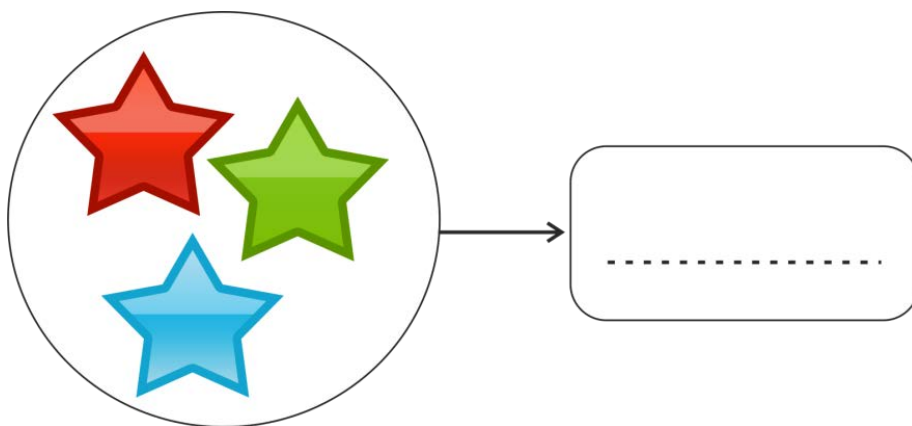


۲۴. به شکل‌ها نگاه کن. برای آن یک داستان بگو. روی هم چند تکه پیتزا باقی مانده است؟ با چوب خط نشان

بده.



مکمل پشمار و بنویس صفحه‌ی ۴۴ کتاب درسی

۲۵. در هر قسمت عددی که نوشته نشده را بنویس بعد هم لاک پشت را رنگ کن.



آزمون ۲

علوم

دنیای گیاهان، زمین خانه‌ی پر آب ما

صفحه‌های ۳۴ تا ۴۹



۲۶. دانش آموز کوشا

سبزه‌ی سفره‌ی هفت سین برای رشد به چه چیزهایی نیاز دارد؟

(۱) فقط آب

(۲) آب و نور خورشید می‌خواهد، ولی هوا نمی‌خواهد.

(۳) آب، نور خورشید و هوا

(۴) نور خورشید لازم ندارد ولی آب می‌خواهد.


مکمل تصویر صفحه‌های ۳۸ و ۳۹ کتاب درسی

۲۷. تصویر یک درخت که همیشه سبز است را بکش و قسمت‌های مختلف آن را نام‌گذاری کرده و نام آن درخت را بنویس.



مرتبط با متن صفحه‌ی ۳۶ کتاب درسی

۲۸. الف) تصویر یک درخت سیب را در ۴ فصل سال بکش.



ب) برای هر تصویر یک جمله بنویس.

ج) از دیدن این تصاویر به چه چیزی پی می‌بری و چه می‌کنی؟

مکمل متن صفحه ۳۸ کتاب درسی

۲۹. محقق کوچک،

در تعطیلات عید نوروز در مورد ارزش دارویی دو گیاه که در درمان بیماری‌ها مفید هستند تحقیق کن.
نام و یا تصویر آن دو را به همراه ارزش دارویی آن‌ها بکش یا بچسبان.



مکمل متن صفحه ۴۰ کتاب درسی

۳۰. پدر فاطمه مدیر ساختمان است. او جمله‌ی زیبایی در تابلو اعلانات نوشته است. شما این جمله را بخوانید ، معنی این جمله چیست؟

آب مایه‌ی حیات است، آن را هدر ندهیم.

۱) تمام موجودات زنده به آب نیاز دارند، پس در مصرف آن صرفه‌جویی کنیم.

۲) با آب نباید میاط را بشوییم چون هدر می‌رود.

۳) انسان‌ها بدون آب نمی‌توانند زندگی کنند ولی میوه‌ها می‌توانند.

۴) گیاهان آب را لازم دارند ولی جانوران نیاز ندارند.

مکمل متن صفحه‌ی ۴۳ کتاب درسی

۳۱. مثل یک نقاش ماهر با کشیدن تصویر، مراحل به‌وجود آمدن باران را نشان بده.



مکمل متن صفحه‌ی ۴۵ کتاب درسی

۳۲. به عنوان یک کارشناس آب، بگو

در کدام فصل باید در مصرف آب بیش‌تر صرفه‌جویی کنیم؟ چرا؟

(۱) تابستان، چون سردترین فصل سال است و مصرف آب زیاد است.

(۲) زمستان، چون سردترین فصل سال است و مصرف آب زیاد است.

(۳) تابستان، چون گرم‌ترین فصل سال است و مصرف آب زیاد است و بارش باران هم نیست.

(۴) زمستان، چون گرم‌ترین فصل سال است و مصرف آب زیاد است و بارش باران هم نیست.

مکمل متن صفحه‌ی ۴۶ کتاب درسی

۳۳. اگر در تعطیلات عید نوروز همراه خانواده کنار رودخانه بروید، چه کارهایی را برای آلوده نشدن آب انجام

می‌دهید؟



مرتبط با متن صفحه‌ی ۴۷ کتاب درسی

۳۴. آزاده هفته‌ی دوم فروردین ماه همراه پدر و مادرش به کنار دریا رفت تا تفریح و گردش کند. به نظر شما



دریا به‌جز تفریح و گردش چه فایده‌های دیگری دارد؟ (۳ مورد را بنویس یا تصویر آن را بکش.)



مرتبط با متن صفحه‌ی ۴۸ کتاب درسی

۳۵. قاسم و پسرعمویش در یکی از روزهای عید نوروز تصمیم گرفتند یک آزمایش انجام دهند. تو هم این آزمایش را انجام بده.

آزمایش: اشیاء زیر را داخل یک ظرف آب بیانداز و جدول زیر را کامل کن.



اشیائی که روی آب می‌مانند.	اشیائی که زیر آب می‌روند

مشابه متن صفحه ۴۹ کتاب درسی

خرگوش را به هویج برسان.



آزمون ۲


فارسی (صفحه‌های ۱۹ تا ۳۶)

چه دنیای قشنگی! در مسجد محله، نوروز در خانه‌ی ما.

نشانه‌های: آ-ب-آ-د-م-س



۳۶. کدام یک مربوط به داخل مسجد است؟ آن‌ها را به مسجد وصل کن.






۳۷. در هر ردیف روی شکلی که مربوط به سفره‌ی هفت‌سین نیست، علامت ضربدر بزن.



مرتبط با تصویر صفحه‌ی ۲۳ کتاب درسی

۳۸. حرف اول کدام یک از شکل‌های زیر با نشانه‌های «آ - ب - پ» شروع می‌شود؟ دور آن خط بکش.

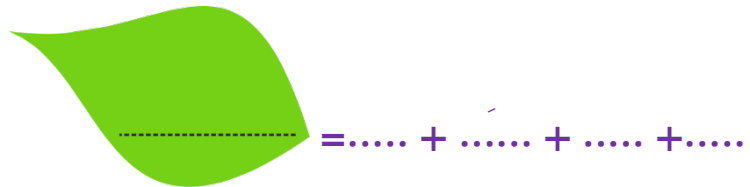
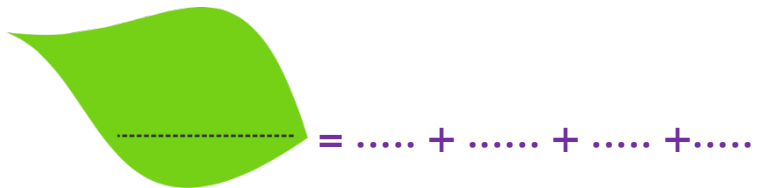



مرتبط با متن صفحه‌های ۲۷ و ۲۸ کتاب درسی




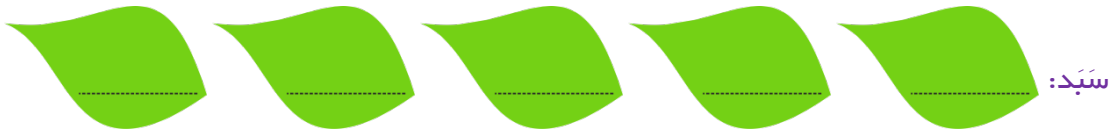
۳۹. در جاهای خالی با توجه به نشانه‌ی داده شده کلمه‌ی معنی‌دار بساز و داخل برگ بنویس.

آ - ا - ب - ب - ا - ا - د



مرتبط با متن صفحه‌های ۳۰ و ۳۱ کتاب درسی

۴۰. صداکشی کن و داخل برگ‌ها بنویس.



مرتبط با متن صفحه‌های ۳۴ و ۳۵ کتاب درسی