

آزمون ۱

فارسی

ستایش، کتابخانه‌ی کلاس ما، مسجد محله‌ی ما، خرس کوچولو
خوانداری: صفحه‌های ۲ تا ۲۲ / نوشتاری: صفحه‌های ۹ تا ۳۰



۱. مفهوم کدام مصراع نادرست است؟

- (۱) ای نام تو بهترین سرآغاز: ای خدایی که نام تو بهترین سرآغاز برای هر کاری است.
- (۲) بی‌نام تو، نامه کی کنم باز: بدون بر زبان آوردن نام تو، هیچ‌گاه کاری را آغاز نمی‌کنم.
- (۳) ای یاد تو مونس روانم: ای خدایی که روح و روان من را آفریده‌ای.
- (۴) جز نام تو، نیست بر زبانم: تنها نام تو را بر زبان می‌آورم.

مرتبط با شعر صفحه‌ی ۲ کتاب خوانداری، ستایش

۲. بر اساس درس «کتابخانه‌ی کلاس ما»، کدام گزینه جای خالی را کامل می‌کند؟

..... خوب، مانند دوست خوب است که می‌تواند به ما خیلی کمک کند.

- (۱) رایانه (۲) تلویزیون (۳) کتاب (۴) افراد دانا

مرتبط با صفحه‌ی ۵ کتاب خوانداری، کتابخانه‌ی کلاس ما

۳. کدام گزینه برای جای خالی مناسب است؟

از برادرم خواستم برای من تعریف کند.

- (۱) خاطره (۲) خاطره‌ای (۳) خاطره‌ی (۴) خاطره‌ها

مکمل پیامور و پگو، صفحه‌ی ۷ کتاب خوانداری، کتابخانه‌ی کلاس ما

۴. ابیات زیر با کلمات کدام گزینه کامل می‌شود؟

دان_____ و _____
با آن_____ بی_____ (بانم)

مَن _____
_____ هیم _____ فن _____

- (۱) مهربانم / خوش بیانم / فراوان (۲) خوش بیانم / بی‌زیانم / چه بسیار
(۳) مهربانم / خوش بیانم / چه بسیار (۴) خوش بیانم / مهربانم / فراوان

مرتبط با پخوان و حفظ کن، صفحه‌ی ۹ کتاب خوانداری، کتابخانه‌ی کلاس ما

۵. مانند نمونه دسته‌بندی کنید.

«صورت خورشید خواهر خوش‌حال بگوییم خواست»

		گروه	دسته‌ی اول
		خود	دسته‌ی دوم
		خواهش	دسته‌ی سوم


مکمل پیامور و پگو، صفحه‌ی ۱۲ کتاب خوانداری، مسجد مصلی ما

۶. برای هر کدام از نشانه‌های زیر، نمونه‌هایی از درس «خرس کوچولو» پیدا کن.

ع	ح	ص	ط

مکمل متن صفحه‌های ۱۶ و ۱۷ کتاب خوانداری، خرس کوچولو

۷. واژه‌های مناسب ستون «الف» و «ب» را به هم وصل کن، ترکیب صحیح بساز و واژه‌های جدید را در داخل دایره‌ها بنویس.




ب	الف
کار	هم
گروه	با
	بی

مرتبط با صفحه‌های ۲، ۱۲ و ۱۹ کتاب خوانداری، خرس کوچولو

کانون فرهنگی آموزش قلم چی

۸. بر اساس حکایت «راه سلامتی»، راز تندرستی مردم شهر در چه بود؟ (یک نقاشی زیبا در این مورد بکش.)



مرتبط با حکایت صفحه‌ی (۲ کتاب خوانداری، خرس کوچولو

۹. کلمات هم‌معنی را هم‌رنگ کن.

سلامتی ☆

پربرکت ☆

جالب ☆

همدم ☆

خوشحال ☆

شاداب ☆

شگفت‌انگیز ☆

تندرستی ☆

پرنعمت ☆

مونس ☆

مرتبط با صفحه‌های ۲، ۱۰، ۱۳، ۱۷ و (۲ کتاب خوانداری، خرس کوچولو

۱۰. شاعر شعر «ستاره» کدام است؟

(۱) نظامی

(۲) عباس یمنی شریف

(۳) سعدی

(۴) ناصر کشاورز

مکمل پخوان و حفظ کن، صفحه‌ی ۲۲ کتاب خوانداری، خرس کوچولو

آزمون ۱


ریاضی

عدد و رقم، جمع و تفریق اعداد دو رقمی

صفحه‌های ۱ تا ۲۷



۱۱. خوب به سفره‌ی هفت‌سین نگاه کن و تعداد سیب‌ها، ماهی‌ها و حبه‌های سیر را بنویس.



تعداد سیب‌ها:

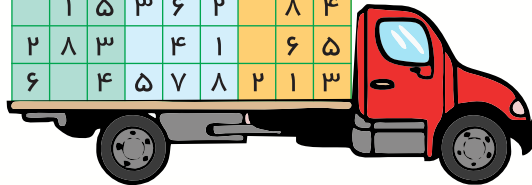
تعداد ماهی‌ها:

تعداد حبه‌های سیر:

مرتبط با کار در کلاس صفحه‌ی ۲ کتاب درسی، عدد و رقم

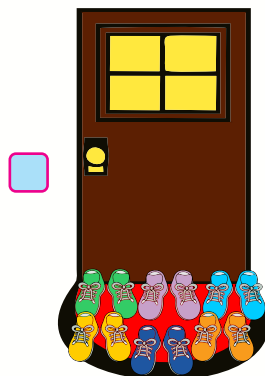
۱۲. جدول شگفت‌انگیز زیر را کامل کنید.

۵	۶	۱	۲	۴	۳	۸
۴	۲	۹	۸	۵	۳	۱
۳	۸			۶	۵	۴
		۲	۸		۴	۳
۳		۶	۴	۱	۵	۸
۸	۴	۲	۶	۳		۱
	۱	۵	۳	۶	۲	۸
۲	۸	۳		۴	۱	۶
۶		۴	۵	۷	۸	۲



مرتبط با تمرین آخر صفحه‌ی ۳ کتاب درسی، عدد و رقم

۱۳. کدام خانه تعداد مهمان بیش‌تری دارد؟ علامت ✓ بگذار.



مرتبط با حدس پنن صفحه‌ی ۸ کتاب درسی، عدد و رقم

کانون فرهنگی آموزش قلم چی

۱۴. امروز سه‌شنبه اول فروردین است. سه‌شنبه‌ی بعد چندم فروردین است؟ (روی محور نشان دهید).




مکمل سؤال (صفحه‌ی ۹ کتاب درسی، عدد و رقم)

۱۵. امیر ۵ ساله و الناز ۹ ساله است. زمانی که الناز ۲۳ ساله شود، امیر چند ساله می‌شود؟

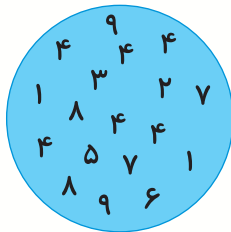
پاسخ

مرتبط با تمرین ۲ صفحه‌ی ۲۵ کتاب درسی، جمع و تفریق اعداد دو رقمی

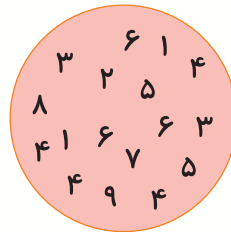
۱۶. در کدام یک از گزینه‌های زیر، عدد ۴ بیش‌ترین تکرار را دارد؟



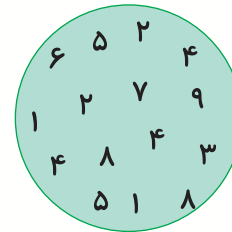
(۱۴)



(۱۳)



(۱۲)



(۱)

مکمل عدد و شمارش صفحه‌ی ۲ کتاب درسی، عدد و رقم

۱۷. با کارت‌های ۷، ۱ و ۹ چند عدد دو رقمی می‌توان ساخت؟ (بدون تکرار ارقام)

۹ (۱۴)

۸ (۱۳)

۷ (۱۲)

۶ (۱)

پاسخ

مکمل فعالیت صفحه‌ی ۵ کتاب درسی، عدد و رقم

۱۸. کدام گزینه یک عدد دو رقمی را نشان می‌دهد که رقم یکان آن بزرگ‌ترین عدد فرد یک رقمی است و رقم دهگان آن ۵ واحد کمتر از یکان است؟

۱۴) چهل

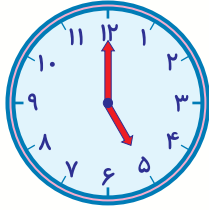
۱۳) نود

۱۲) چهل و نه

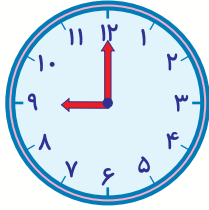
۱) نود و چهار

مکمل تمرین ۵ صفحه‌ی ۷ کتاب درسی، عدد و رقم

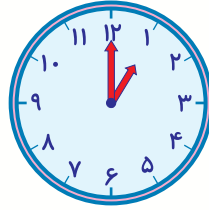
۱۹. با توجه به الگوی زیر، کدام گزینه ساعت شماره ۶ را به درستی نشان می‌دهد؟



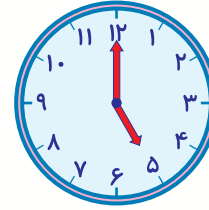
(۱)



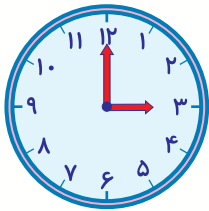
(۲)



(۳)



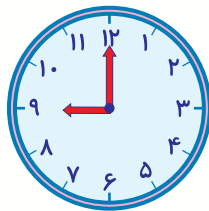
(۴)



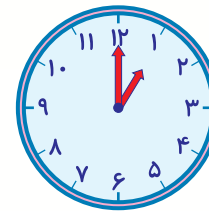
(۱۴)



(۱۳)



(۱۲)



(۱۱)

مرتبط با الگویابی کن صفحه ۱۷ کتاب درسی، عدد و رقم

۲۰. در شمارش ۷ تا ۷ تا، عدد بعد از ۳۵ و در شمارش ۴ تا ۴ تا، عدد قبل از ۳۲ به ترتیب عبارت‌اند از:

۲۸ و ۲۷ (۴)

۲۸ و ۴۲ (۳)

۳۶ و ۲۷ (۲)

۳۶ و ۴۲ (۱)

پاسخ

مکمل تمرین ۲ صفحه ۱۵ کتاب درسی، عدد و رقم

۲۱. در مربع‌های زیر چگونه + و - قرار دهیم تا عبارت زیر برقرار شود؟ (از چپ به راست)

$$5 \square 4 \square 3 \square 1 = 11$$

+, +, - (۴)

-, +, - (۳)

-, +, + (۲)

+, -, + (۱)

مکمل فعالیت صفحه ۲۳ کتاب درسی، جمع و تفریق اعداد دو رقمی

۲۲. در جاهای خالی به جای \square و \bigcirc به ترتیب چه اعدادی می‌توان نوشت؟

$$27, 31, 35, \bigcirc, 43, \square$$

۳۸ و ۴۶ (۲)

۴۶ و ۳۸ (۱)

۴۷ و ۳۹ (۴)

۳۹ و ۴۷ (۳)

مرتبط با الگویابی کن صفحه ۲۶ کتاب درسی، جمع و تفریق اعداد دو رقمی

کانون فرهنگی آموزش قلم چی

۲۳. چند عدد دو رقمی می‌توانیم بسازیم که رقم یکان آن‌ها ۲ یا ۵ یا ۱ و رقم دهگان آن‌ها ۸ یا ۴ باشد؟

۶ (۲)

۵ (۱)

۹ (۴)

۷ (۳)

پاسخ

مرتبط با حل مسئله (صفحه ۲۶ کتاب درسی، جمع و تفریق اعداد دو رقمی)

۲۴. کدام گزینه را باید به سمت راست شکل زیر اضافه کنیم تا شکل، الگوی مناسبی داشته باشد؟



مکمل الگوسازی صفحه ۲۷ کتاب درسی، جمع و تفریق اعداد دو رقمی

۲۵. مهسا چهار گلدان به رنگ‌های سفید، صورتی، قرمز و بنفش دارد. گلدان صورتی، نه گلدان اول است و نه آخر. گلدان بنفش، کنار گلدان قرمز نیست. گلدان بنفش، کنار گلدان سفید هم نیست. گلدان اول، قرمز است. گلدان‌ها به چه ترتیبی هستند؟ (از راست به چپ)

(۱) قرمز، صورتی، سفید، بنفش

(۲) قرمز، سفید، صورتی، بنفش

(۳) بنفش، قرمز، سفید، صورتی

(۴) بنفش، سفید، صورتی، قرمز

مرتبط و مشابه الگوسازی صفحه ۲۷ کتاب درسی، جمع و تفریق اعداد دو رقمی

آزمون ۱

علوم

ژنگ علوم، هوای سالم، آب سالم، زندگی ما و گردش زمین (۱)

صفحه‌های ۱۲ تا ۲۹



۲۶. دانش‌آموزان کلاس دوم، برای جشن نوروز امسال، می‌خواهند سفره‌ی هفت‌سینی را برای کلاس خود آماده کنند. معلم علوم آن‌ها، برای این کار، دانش‌آموزان را به سه گروه «کوشش»، «تلاش»، «کوشا»



تقسیم کرده و از آن‌ها می‌خواهد، گروه «کوشش» هر چیزی را که می‌توان چشید، سر سفره قرار دهد. گروه «تلاش» هر چیزی را که می‌توان بویید و گروه «کوشا» هر چیزی را که می‌توان لمس کرد، سر سفره‌ی هفت‌سین بگذارند. به آن‌ها کمک کنید و نام وسایلی را که هر گروه باید انتخاب کنند، در مقابل گروه بنویسید.

سیب سیر سکه سبزه سنجد سرکه سماق سیب


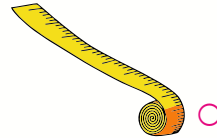
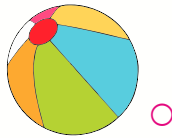

گروه کوشش :

گروه تلاش :

گروه کوشا :

صفحه‌های ۱۲ و ۱۳ کتاب درسی، ژنگ علوم


۲۷. اگر برای تعطیلات نوروز امسال به شهر تاریخی و زیبای «شیراز» سفر کنید و بخواهید گزارشی دقیق از مشاهدات خود را برای هم‌کلاسی‌هایتان تهیه کنید، به کدام وسیله‌ها احتمالاً نیاز خواهید داشت؟ آن را با علامت (✓) مشخص کنید.




صفحه‌ی ۱۵ کتاب درسی، ژنگ علوم

کانون فرهنگی آموزش قلم چی

۲۸. خانواده‌ی آقای «میرزایی» برای تعطیلات نوروز به منطقه‌ی تصویر (۱) و خانواده‌ی آقای «حیدری» به منطقه‌ی تصویر (۲) سفر کرده‌اند. به این تصویرها نگاه کنید و بگویید:



(۱)



(۲)

الف) شما دوست داشتید به جای کدام خانواده بودید؟ چرا؟

ب) برای این‌که سرنوشت منطقه‌ی تصویر (۲) به تصویر (۱) دچار نشود، چه پیشنهادهایی دارید؟

مکمل ایستگاه فکر صفحه‌ی ۱۸ کتاب درسی، هوای سالم، آب سالم

۲۹. کدام‌یک از افراد زیر، باید در شب هم فعالیت کنند؟ نام آن‌ها را در دفتر زیر یادداشت کنید.



صفحه‌ی ۲۹ کتاب درسی، زندگی ما و گردش زمین

۳۰. به هر یک از تصویرهای زیر نگاه کنید و بگویید هر یک از دماسنج‌ها، دمای کدام‌یک از منطقه‌های «۱»، «۲» و «۳» را نشان می‌دهند؟



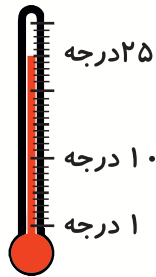
(۱)



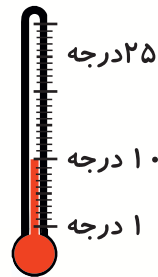
(۲)



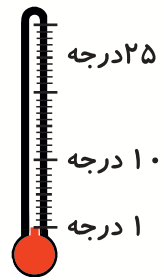
(۳)



(ا)



(ب)




(الف)

مکمل آزمایش کنید صفحه‌های ۲۵ و ۲۶ کتاب درسی، زندگی ما و گردش زمین!


❖ دو گروه «۱» و «۲» برای گردش علمی از یک باغ‌وحش، به بازدید از قفس شیرها رفتند و هر گروه گزارش خود را نوشتند. به گزارش آن‌ها نگاه کنید و به سوالات «۳۱»، «۳۲» و «۳۳» پاسخ بدهید.

گروه «۲»: دانش‌آموزان پسر



- شیر، ۳ بچه داشت.
- موهای بدنش طلایی‌رنگ بود.
- جثه‌ی شیر خیلی بزرگ بود.

گروه «۱»: دانش‌آموزان دختر



- جثه‌ی بزرگی دارد.
- ۳ بچه شیر در اطراف مادرشان بازی می‌کردند.
- صدای غرش شیر، بسیار بلند بود.
- بدنش پوشیده از موهای طلایی‌رنگ بود.
- غذایشان گوشت بود.
- اطراف قفس شیرها، بوی بدی می‌آمد.

کانون فرهنگی آموزش قلم چی

۳۱. گزارش کدام گروه کامل تر است؟ چرا؟

- ۱) گروه «۲»: چون از حواس بیش تری در مشاهده استفاده کرده است.
- ۲) گروه «۱»: چون از حواس بیش تری در مشاهده استفاده کرده است.
- ۳) گروه «۲»: چون از حواس کم تری در مشاهده استفاده کرده است.
- ۴) گروه «۱»: چون از حواس کم تری در مشاهده استفاده کرده است.

مکمل صفحه‌های ۱۲ و ۱۳ کتاب درسی، رنگ علوم

۳۲. گروهی که گزارش کامل تری نوشته است، از چند حس در مشاهده استفاده کرده است؟

- | | |
|-------|---------|
| ۱) دو | ۲) یک |
| ۳) سه | ۴) چهار |

مکمل صفحه‌های ۱۲ و ۱۳ کتاب درسی، رنگ علوم

۳۳. به نظر شما، کدام مورد می‌تواند یکی از مهم‌ترین دلایل متفاوت بودن گزارش این دو گروه باشد؟

- ۱) کامل ثبت نکردن مشاهده‌ها
- ۲) انتخاب یک باغ وحش یکسان برای انجام بررسی توسط دو گروه
- ۳) بازدید هر دو گروه از یک قفس
- ۴) بازدید هم‌زمان هر دو گروه از قفس شیرها

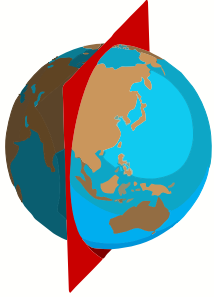
مرتبط با صفحه‌های ۱۴ و ۱۵ کتاب درسی، رنگ علوم

۳۴. در تعطیلات عید نوروز که در کنار خانواده‌ی خود هستید، با انجام کدام کار می‌توانید به داشتن هوای سالم کمک کنید؟

- ۱) هنگامی که به فضای سبز می‌رویم، زباله‌های خود را در کیسه‌های مخصوص بریزیم.
- ۲) شاخه‌های درختان را بشکنیم و با آنها آتش درست کنیم.
- ۳) زباله‌های روی زمین را برداریم و همه‌ی آنها در یک قسمت از پارک بریزیم.
- ۴) گل‌های باغچه را بچینیم و به مادرمان هدیه دهیم.

مرتبط با صفحه‌های ۱۷ و ۱۸ کتاب درسی، هوای سالم، آب سالم

۳۵. با توجه به تصویر زیر که زمین را نشان می‌دهد، کدام مورد صحیح نیست؟



(۱) خورشید به سمت راست زمین تابیده است.

(۲) آن طرف که پشت به خورشید است، شب است.

(۳) آن طرف که رو به خورشید است، روز است.

(۴) نیمه‌ی چپ زمین، ۲۴ ساعت دیگر، روز می‌شود.

مکمل مشاهده کنید صفحه‌ی ۲۳ کتاب درسی، زندگی ما و گردش زمین


۳۶. در کدام تصویر، انسان در حال آلوده کردن آب است؟



مکمل آپ سالم صفحه‌ی ۱۹ کتاب درسی، هوای سالم، آپ سالم

۳۷. دانشمندان کوچک، حالا که در تعطیلات نوروز در کنار مادر و پدر خود هستید، برای صرفه‌جویی در

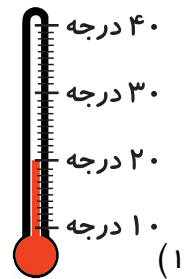
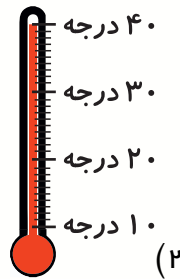
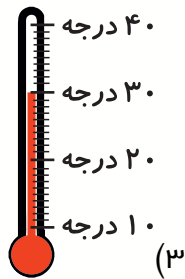
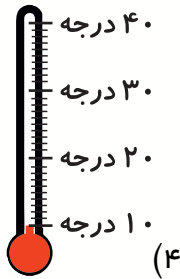
مصرف آب، آن‌ها را از انجام کدام کار دور می‌کنید؟



مکمل گفت و گو کنید صفحه‌ی ۲۰ کتاب درسی، هوای سالم، آپ سالم

کانون فرهنگی آموزش قلم چی

۳۸. دماسنج‌های زیر، دمای هوا را در یک روز بهاری از سال ۱۳۹۶ در ساعت‌های مختلف از شبانه‌روز نشان می‌دهد. با توجه به آن‌ها، می‌توان گفت: ...



(۱) زمین هر روز به طور ناگهانی گرم می‌شود.


(۲) زمین در هر ۲۴ ساعت، یک‌بار به دور خود می‌چرخد.

(۳) گرمی زمین در تمامی روز یک اندازه نیست.

(۴) زمین دائماً در حال گردش به دور خودش است.

مرتبط با آزمایش کنید صفحه‌ی ۲۵ کتاب درسی، زندگی ما و گردش زمین (۱)

۳۹. کدام جاندار می‌تواند با استفاده از نور خورشید، هم برای خود غذا درست کند و هم غذای جانداران دیگر را تأمین کند؟



مکمل متن صفحه‌ی ۲۸ کتاب درسی، زندگی ما و گردش زمین (۱)

۴۰. زمین‌شناسان کوچک، در تعطیلات عید نوروز یعنی از اولین روز بهار تا روز طبیعت (سیزده‌به‌در)، زمین چند بار به دور خود گردش می‌کند؟

۷ (۴)

۱۳ (۳)

۱ (۲)

۱۰ (۱)

مکمل متن صفحه‌ی ۲۴ کتاب درسی، زندگی ما و گردش زمین (۱)