

بِسْمِ
اللَّهِ
الرَّحْمَنِ
الرَّحِيمِ

نیتخبر

۳۳ آزمون
دقت و تمرکز

مؤلف: مسعود بیگدلی

- ۳۳ آزمون شبیه‌سازی شده تیزهوشان
- ۱۴۰۰ سؤال ویژه افزایش دقت، سرعت و تمرکز
- طراحی و چیدمان هوشمند سؤالات جهت تقویت قدرت تمرکز
- افزایش سرعت عمل از آزمون اول تا آزمون آخر



مقدمه ناشر

به نام خداوند بخشنده مهربان

شاید شما هم کلیپ مشهور برنده جایزه اسکار را دیده باشید. وی در این فیلم و در هنگام دریافت جایزه خود سخنرانی را بیان کرد که تاکنون ۲۳۵ میلیون بار تحسین شده است. وی گفت: «من خودم را با آنچه می‌توانم باشم مقایسه می‌کنم و تمام تلاشم را در جهت رشد و رسیدن به آنچه می‌توانم ده سال دیگر باشم، به کار می‌بندم و روی آن متمرکز می‌شوم.»

یک سؤال: چگونه ما می‌توانیم با تکیه بر تلاش و رشد خودمان، زندگی بهتری داشته باشیم و آیا این سؤال با سه موضوع شجاعت، دانایی و تمرکز ارتباطی دارد؟ من از شما می‌خواهم که به این سؤال فکر کنید و نظراتتان را در اینستاگرام پویش به آدرس «pooyeshbook» برایمان بفرستید.

با توجه به اینکه شما خواننده گرامی، این کتاب را برای رشد و پرورش توانایی‌هایتان خریداری کرده‌اید، بخشی از افراد برگزیده جامعه هستید که نه تنها می‌خواهید سرنوشت خود را با تلاشگری تغییر دهید؛ بلکه اطرافیان خود را نیز در این مسیر تحت تأثیر قرار خواهید داد.

«لیس للإنسان الی ما سعی»

برای شما بهترین‌ها را آرزو دارم.

تلاشگر و مسرور باشید.

مرتضی طاهری مقدم

مقدمه مؤلف

آغاز می‌کنیم به نام خداوندی که ما را از هیچ آفرید. به نام خداوندی که دستمان را گرفت و به نام خداوندی که هست و خواهد بود...

بالآخره ثمره تلاش شبانه‌روزی خود و تیم حرفه‌ای پویش را دیدم. کتاب ۳۳ آزمون دقت و تمرکز از مجموعه کتاب‌های نیترو هوش بر این مبنا طراحی و تألیف شده تا میزان دقت و تمرکز و سرعت عمل شما دانش‌آموزان عزیز را افزایش دهد، اشتباه نکنید؛ این کتاب مختص پایه خاصی نیست. مختص سن خاصی هم نیست؛ از هر سن و پایه‌ای می‌توان با این کتاب افزایش دقت و تمرکز را تجربه کرد. شاید خیلی از شما دانش‌آموزان یا شما پدران و مادران عزیز کشورمان، با مشکل کمبود دقت و تمرکز خودتان و یا حتی فرزندتان مواجه شده و به دنبال راهکاری برای افزایش دقت بوده باشید. اکنون این راهکار را ما پیش روی شما قرار دادیم.

شاید باورتان نشود، ولی به چشم خود، معجزه این کتاب را در گروه بازخوانی کتاب دیدم. وقتی از ویراستاری آزمون اول شروع کردند تا هنگامی که به آزمون آخر این کتاب برسند، شاهد رشد دقت و تمرکز و سرعت عمل این گروه بودم.

این کتاب به‌گونه‌ای طراحی شده تا با شروع از آزمون اول ابتدا با نقاط ضعف خود آشنا شوید؛ سپس مرحله به مرحله نقاط ضعف خود را کاهش داده و میزان دقت و تمرکز خود را افزایش دهید. نحوه کار با آزمون‌های این کتاب به این شکل است که در مرحله اول، سؤالات هر آزمون را در مدت زمان ۲۰ دقیقه باید پاسخ داد. در مرحله دوم باید با فاصله زمانی (حداقل یک روز) مجدداً همان آزمون را با زمان آزاد بزنید. اختلاف نمره خود را در دو آزمون (از نمره ۴) به دست آورید. آزمون به آزمون این اختلاف باید کاهش پیدا کند.

اما در آخر جا دارد از چند نفر تشکر ویژه کنم:

ابتدا از آقای «طاهری مقدم»، مدیر انتشارات پویش که با دادن فرصت به بنده موجبات تألیف این کتاب را فراهم آوردند. سپس از همسر مهربانم که در تک‌تک دقایق تألیف این کتاب پا به پای من کنار من بود و در خیلی از ایده‌ها الهام بخش بودند. تشکر می‌کنم از سرکار «خانم سلیمی»، مدیر پروژه که شاهد تلاش‌های شبانه‌روزی ایشان برای چاپ کتاب بودم و در آخر از گروه همکاران ویراستاری کتاب که زحمت فراوان کشیدند و نقش چشمگیری در حذف زوائد کتاب داشتند.

شعار ما برای کتاب این است: خداوند هرگز آرزویی را برای انسان قرار نمی‌دهد مگر اینکه قدرت رسیدنش را هم به او داده باشد. ما می‌توانیم...

«مسعود بیگدلی»

فهرست

۶۲	سؤال	آزمون ۱۰	۷	سؤال	آزمون ۱
۶۶	پاسخ		۱۱	پاسخ	
۶۷	سؤال	آزمون ۱۱	۱۳	سؤال	آزمون ۲
۷۱	پاسخ		۱۹	پاسخ	
۷۳	سؤال	آزمون ۱۲	۲۱	سؤال	آزمون ۳
۷۷	پاسخ		۲۵	پاسخ	
۷۹	سؤال	آزمون ۱۳	۲۶	سؤال	آزمون ۴
۸۳	پاسخ		۳۰	پاسخ	
۸۵	سؤال	آزمون ۱۴	۳۲	سؤال	آزمون ۵
۹۰	پاسخ		۳۶	پاسخ	
۹۳	سؤال	آزمون ۱۵	۳۸	سؤال	آزمون ۶
۹۸	پاسخ		۴۲	پاسخ	
۹۹	سؤال	آزمون ۱۶	۴۴	سؤال	آزمون ۷
۱۰۲	پاسخ		۴۸	پاسخ	
۱۰۴	سؤال	آزمون ۱۷	۵۰	سؤال	آزمون ۸
۱۰۹	پاسخ		۵۴	پاسخ	
۱۱۱	سؤال	آزمون ۱۸	۵۶	سؤال	آزمون ۹
۱۱۵	پاسخ		۶۰	پاسخ	

فهرست

۱۶۴ سؤال

۱۶۹ پاسخ

آزمون ۲۸

۱۱۷ سؤال

۱۲۲ پاسخ

آزمون ۱۹

۱۷۲ سؤال

۱۷۶ پاسخ

آزمون ۲۹

۱۲۴ سؤال

۱۲۷ پاسخ

آزمون ۲۰

۱۷۷ سؤال

۱۸۲ پاسخ

آزمون ۳۰

۱۲۸ سؤال

۱۳۱ پاسخ

آزمون ۲۱

۱۸۳ سؤال

۱۸۸ پاسخ

آزمون ۳۱

۱۳۲ سؤال

۱۳۶ پاسخ

آزمون ۲۲

۱۹۰ سؤال

۱۹۵ پاسخ

آزمون ۳۲

۱۳۷ سؤال

۱۴۱ پاسخ

آزمون ۲۳

۱۹۷ سؤال

۲۰۳ پاسخ

آزمون ۳۳

۱۴۳ سؤال

۱۴۷ پاسخ

آزمون ۲۴

۲۰۴ سؤال

۲۰۹ پاسخ

آزمون ۳۴

۱۴۹ سؤال

۱۵۴ پاسخ

آزمون ۲۵

۲۱۱ سؤال

۲۱۶ پاسخ

آزمون ۳۵

۱۵۵ سؤال

۱۵۸ پاسخ

آزمون ۲۶

۲۱۸ سؤال

۲۳۰ پاسخ

آزمون ۳۶

۱۵۹ سؤال

۱۶۳ پاسخ

آزمون ۲۷



آزمون ۲۰

در جدول زیر نمادهایی که نشان‌دهندهٔ اعداد در سرزمینی دوردست هستند را مشاهده می‌کنید. با توجه به آن به سوالات ۱ تا ۱۰ پاسخ دهید.

رقم	نماد	رقم	نماد
۰	*	۵	^
۱	%	۶	&
۲	#	۷	(
۳	@	۸)
۴	!	۹	\$


طبق جدول، عدد ۱۳ به شکل @.% است و عدد ۵۸۷ به شکل (^ است.

- عدد ۵۹۶۴ کدام است؟
 ۱) !&\$ (۱) ۲) ^\$&! (۲) ۳) ^!&\$ (۳) ۴) !\$& (۴)
- عدد ۵۹۸۶۴ به کدام شکل است؟
 ۱) !&)\$ (۱) ۲) ^!\$(& (۲) ۳) ^\$)&! (۳) ۴) #&)% (۴)
- نماد «*^#&» مربوط به کدام عدد است؟
 ۱) ۶۵۲۰ (۱) ۲) ۲۵۶۰ (۲) ۳) ۸۵۴۲ (۳) ۴) ۲۴۵۸ (۴)
- نماد «)%#&» مربوط به کدام عدد است؟
 ۱) ۱۰۹۲۸ (۱) ۲) ۱۰۹۲۷ (۲) ۳) ۸۲۹۰۱ (۳) ۴) ۷۲۹۰۱ (۴)
- کدام گزینه «*^&%» را تکمیل می‌کند تا عدد ۹۱۰۷۱۱۵۶ ساخته شود؟
 ۱)) (۱) ۲) ((۲) ۳) & (۳) ۴) @ (۴)
- کدام گزینه صحیح است؟
 ۱) (^!\$: ۹۹۵۸۴۲ (۱) ۲) %\$*# : ۲۹۱۱۴ (۲) ۳) ^&*## : ۵۶۰۲۲ (۳) ۴) @#\$&* : ۳۲۹۶۱ (۴)
- کدام گزینه صحیح نیست؟
 ۱) (&*!\$: ۷۷۰۰۴۶ (۱) ۲) %\$@& : ۱۹۳۳۶ (۲) ۳))@#\$\$: ۸۷۳۲۹۹ (۳) ۴) !#\$&* : ۱۱۴۲۹۶۰ (۴)
- اختلاف دو عدد &^* و \$\$\$\$ چند رقمی است؟
 ۱) ۷ رقمی (۱) ۲) ۶ رقمی (۲) ۳) ۵ رقمی (۳) ۴) ۴ رقمی (۴)
- کدام نمادها را به جای ○ و □ قرار دهیم تا عدد «% ^!» برابر با ۲۹۱۳۰۷۵۱ باشد؟
 ۱) @□○ (۱) ۲) @□○ (۲) ۳) □)○@ (۳) ۴) □○@ (۴)
- کدام گزینه یک عدد زوج است؟
 ۱) (&% : ۱ (۱) ۲)))#% : ۲ (۲) ۳) \$\$!@ : ۳ (۳) ۴) @@@@ : ۴ (۴)

* پاسخ اعداد در جدول ضرب اعداد ۱ تا ۱۰ را در نظر بگیرید و به سؤالات ۱۱ تا ۲۰ پاسخ دهید.

- | | | | |
|----|--|---------|---------|
| ۱۱ | در ستون ۱ تا ۳ چند ۷ وجود دارد؟ | یک (۱) | دو (۲) |
| ۱۲ | در ستون ۵ تا ۷ چند ۵ وجود دارد؟ | هشت (۱) | نه (۲) |
| ۱۳ | در ستون ۳ تا ۸ چند عدد دو رقمی وجود دارد؟ | ۵۱ (۱) | ۵۲ (۲) |
| ۱۴ | در ستون ۵ تا ۹ چند ۳ وجود دارد؟ | هشت (۱) | نه (۲) |
| ۱۵ | در ۳ ستون آخر چند بار از رقم «۱» استفاده شده است؟ | شش (۱) | پنج (۲) |
| ۱۶ | در ۵ ستون اول چند بار از رقم «۲» استفاده شده است؟ | ۱۳ (۱) | ۱۴ (۲) |
| ۱۷ | در چند ستون رقم ۷ وجود ندارد؟ | یک (۱) | دو (۲) |
| ۱۸ | در چند ستون رقم ۶ وجود دارد؟ | نه (۱) | ده (۲) |
| ۱۹ | در ستون‌های ۶ و ۷ و ۹، چند بار از رقم ۶ استفاده شده است؟ | نه (۱) | ده (۲) |
| ۲۰ | در ستون نهم..... | | |
- (۱) از همه ارقام استفاده نشده است.
 (۳) از رقم ۹، سه بار استفاده شده است.
- (۲) تعداد ارقام زوج، با فردها برابر است.
 (۴) تعداد ۱ با ۲ و ۳ برابر است.

* با توجه به شکل زیر، به سؤالات ۲۱ تا ۳۰ پاسخ دهید.



- ۲۱ شکل بالا، چند سطر و چند ستون دارد؟
- (۱) ۱۶ سطر و ۱۲ ستون (۲) ۱۶ ستون و ۱۲ سطر (۳) ۱۴ ستون و ۱۲ سطر (۴) ۱۴ سطر و ۱۲ ستون
- ۲۲ در ستون ششم، چند تا از پیکان‌ها سمت چپ را نشان می‌دهند؟
- یک (۱) دو (۲) سه (۳) چهار (۴)



- ۲۳ در سطر چهارم چند پیکان سمت چپ را نشان می‌دهند؟
 (۱) یک (۲) دو (۳) سه (۴) چهار
- ۲۴ در ستون نهم، چند پیکان سمت راست را نشان می‌دهد؟
 (۱) سه (۲) نه (۳) هفت (۴) ده
- ۲۵ چند ستون، ابتدا و انتهای یکسانی ندارند؟
 (۱) سه (۲) چهار (۳) پنج (۴) شش
- ۲۶ چند ستون وجود دارد که هیچ پیکانی به سمت راست ندارد؟
 (۱) صفر (۲) یک (۳) دو (۴) سه
- ۲۷ چند سطر وجود دارد که همه پیکان‌های آن به سمت راست است؟
 (۱) صفر (۲) یک (۳) دو (۴) سه
- ۲۸ ستون هفتم، چند پیکان به سمت چپ دارد؟
 (۱) یک (۲) سه (۳) پنج (۴) دو
- ۲۹ سطر هفتم چند پیکان به سمت راست دارد؟
 (۱) دو (۲) چهار (۳) دوازده (۴) چهارده
- ۳۰ انتهای چند ستون پیکان به سمت راست ندارد؟
 (۱) شش (۲) چهار (۳) پنج (۴) هفت
- ۳۱ چند سطر ۳ پیکان پشت سر هم به سمت راست را ندارد؟
 (۱) یک (۲) دو (۳) سه (۴) چهار
- ۳۲ در چند ستون، دو پیکان به سمت چپ وجود ندارد؟
 (۱) یک (۲) دو (۳) سه (۴) چهار
- ۳۳ در چند ستون دقیقاً ۲ پیکان به سمت چپ وجود دارد؟
 (۱) یک (۲) دو (۳) سه (۴) چهار
- ۳۴ چند ستون دقیقاً ۳ پیکان به سمت چپ دارد؟
 (۱) پنج (۲) شش (۳) هفت (۴) هشت
- ۳۵ در چند ستون دقیقاً ۴ پیکان به سمت چپ وجود دارد؟
 (۱) یک (۲) دو (۳) سه (۴) چهار
- ۳۶ در چند سطر دقیقاً ۴ پیکان به سمت چپ وجود دارد؟
 (۱) یک (۲) دو (۳) سه (۴) چهار
- ۳۷ در چند سطر دقیقاً ۲ پیکان به سمت چپ وجود دارد؟
 (۱) یک (۲) دو (۳) سه (۴) چهار
- ۳۸ در چند سطر دقیقاً ۵ پیکان به سمت چپ وجود دارد؟
 (۱) یک (۲) دو (۳) سه (۴) چهار
- ۳۹ ابتدا و انتهای چند سطر یکسان است؟
 (۱) سه (۲) چهار (۳) پنج (۴) شش
- ۴۰ انتهای چند سطر، کمان به سمت راست، ندارد؟
 (۱) یک (۲) دو (۳) سه (۴) چهار

پاسخنامه آزمون ۲۰

۲۲ گزینه ۱

فقط یکی آن هم در سطر چهارم

۲۳ گزینه ۴

شکل موجود در ستون‌های ۱۶، ۱۴، ۱۳، ۶ به سمت راست هستند.

۲۴ گزینه ۲

شکل‌های موجود در ستون‌های ۱۱، ۱۰، ۹، ۸، ۷، ۴، ۳، ۱ و ۱۲ در سطر نهم، به سمت راست هستند.

۲۵ گزینه ۴

ستون‌های ۱۲، ۸، ۷، ۵، ۱ و ۱۵ ابتدا و انتهای یکسانی ندارند.

۲۶ گزینه ۱

۲۷ گزینه ۲

فقط سطر (۱) این ویژگی را دارد.

۲۸ گزینه ۳

در ستون هفتم، پیکان‌های موجود در سطرها ۲، ۵، ۷، ۱۰ و ۱۲ همگی به سمت چپ هستند.

۲۹ گزینه ۴

۳۰ گزینه ۱

ستون‌های ۱، ۵، ۷، ۸، ۱۲ و ۱۵ پیکانی به سمت راست، ندارند.

۳۱ گزینه ۱

فقط سطر ۱۰ این ویژگی را ندارد.

۳۲ گزینه ۲

فقط ستون‌های ۳ و ۶

۳۳ گزینه ۴

ستون‌های ۲، ۱۱، ۱۰، ۱۴

۳۴ گزینه ۲

ستون‌های ۴-۵-۸-۹-۱۲-۱۵

۳۵ گزینه ۳

ستون‌های ۱-۱۳-۱۶

۳۶ گزینه ۲

سطرهای ۴-۶

۳۷ گزینه ۱

فقط سطر ۷ این ویژگی را دارد.

۳۸ گزینه ۲

سطرهای ۲ و ۸ دقیقاً ۵ پیکان به سمت چپ دارند.

۳۹ گزینه ۴

سطرهای مورد نظر: ۱۱-۱۰-۷-۶-۳-۱

۴۰ گزینه ۴

سطرهای مورد نظر: ۸-۶-۴-۲

۱ گزینه ۲

۲ گزینه ۳

۳ گزینه ۱

۴ گزینه ۳

۵ گزینه ۲

۶ گزینه ۳

۷ گزینه ۴

۸ گزینه ۱

حاصل تفریق یک عدد ۷ رقمی بزرگ و یک عدد دورقمی، حتماً ۷ رقمی است.

۹ گزینه ۲

۱۰ گزینه ۱

۱۱ گزینه ۲

۱۲ گزینه ۲

$7 \times 1 = 7$

$7 \times 3 = 21$

$5 \times 5 = 25$

$5 \times 3 = 15$

$5 \times 1 = 5$

$10 \times 5 = 50$

$5 \times 9 = 45$

$5 \times 7 = 35$

$6 \times 9 = 54$

$7 \times 8 = 56$

$1 \times 5 = 5$

۱۳ گزینه ۱

۱۴ گزینه ۲

$6 \times 5 = 30$

$5 \times 6 = 30$

$6 \times 6 = 36$

$7 \times 5 = 35$

$5 \times 7 = 35$

$9 \times 7 = 63$

$7 \times 9 = 63$

$8 \times 4 = 32$

$4 \times 8 = 32$

۱۵ گزینه ۲

$16 - 81 - 18 - 100 - 10$

۱۶ گزینه ۳

$27 - 25 - 20 - 32 - 28 - 24 - 12 - 12 - 27 - 21 - 12 - 20 - 12 - 2$

۱۷ گزینه ۴

در ستون‌های مربوط به ضرب ۲، ۴، ۶، ۵ عدد ۷ را نمی‌بینیم.

۱۸ گزینه ۱

در همه ستون‌ها، به جز ستون مربوط به ضرب ۵، رقم ۶ موجود است.

۱۹ گزینه ۴

$36 - 63 - 63 - 56 - 60 - 36 - 6$

۲۰ گزینه ۴

در ستون نهم جدول ضرب، یعنی ضرب ۹، از همه ارقام استفاده شده است. ولی تعداد ارقام زوج و فرد، با هم برابر نیست. از رقم ۹ هم فقط، ۲ بار استفاده شده است.

۲۱ گزینه ۲

آزمون ۲۵

* در سوالات ۱ تا ۱۰، تعداد موارد خواسته شده را مشخص کنید.

۱ چند **Y** در شکل وجود دارد؟

- (۱) هفت
- (۲) هشت
- (۳) نه
- (۴) شش




۲ چند **ا** در شکل وجود دارد؟

- (۱) شش
- (۲) هفت
- (۳) هشت
- (۴) پنج



۳ کدام گزینه تعداد **ح** در شکل مقابل را نشان می‌دهد؟


- (۱) نه
- (۲) ده
- (۳) هشت
- (۴) یازده



۴ تعداد **گ** را در شکل مقابل مشخص کنید.

- (۱) هشت
- (۲) نه
- (۳) ده
- (۴) یازده





۵. چه تعداد **C** در شکل مقابل وجود دارد؟

- ۹ (۱)
- ۱۰ (۲)
- ۱۱ (۳)
- ۱۲ (۴)




۶. چند **G** در شکل مقابل می‌بینید؟

- ۹ (۱)
- ۱۰ (۲)
- ۸ (۴)
- ۱۱ (۳)



۷. تعداد **X** موجود در شکل مقابل کدام است؟

- ۹ (۳)
- ۱۰ (۲)
- هشت (۴)
- ۱۱ (۱)




۸. تعداد صحیح **H** در شکل مقابل کدام گزینه است؟

- ۱۲ (۲)
- ۱۱ (۱)
- ۱۰ (۴)
- ۱۳ (۳)



۹. چند **S** در شکل مقابل مشاهده می‌شود؟

- ۵ (۱)
- ۶ (۲)
- هشت (۴)
- ۷ (۳)




۱۰. چه تعداد **N** در شکل مقابل وجود دارد؟

- ۱۱ (۲)
- ۱۲ (۱)
- ۹ (۴)
- ۱۰ (۳)

آزمون
۲۵

* باتوجه به شکل زیر به سؤالات ۱۱ تا ۳۱ پاسخ دهید.



- ۱۱ شکل بالا چند سطر و چند ستون دارد؟
 (۱) ۱۶ ستون و ۲۸ سطر (۲) ۲۸ ستون و ۱۶ سطر (۳) ۱۸ ستون و ۳۰ سطر (۴) ۳۰ ستون و ۱۸ سطر
- ۱۲ چند سطر وجود دارد که ابتدا و انتهای آن یکسان است؟
 (۱) پنج (۲) شش (۳) هفت (۴) هشت
- ۱۳ چند ستون وجود دارد که ابتدا و انتهای یکسانی دارد؟
 (۱) پنج (۲) شش (۳) هفت (۴) هشت
- ۱۴ ابتدای چند ستون با شروع می‌شود؟
 (۱) پنج (۲) شش (۳) هفت (۴) هشت
- ۱۵ ابتدای چند سطر با شروع می‌شود؟
 (۱) شش (۲) هفت (۳) پنج (۴) هشت
- ۱۶ ابتدای چند سطر با شروع می‌شود؟
 (۱) پنج (۲) شش (۳) سه (۴) چهار
- ۱۷ چند سطر با به پایان می‌رسد؟
 (۱) پنج (۲) شش (۳) سه (۴) چهار
- ۱۸ چند ستون با آغاز می‌شود؟
 (۱) پنج (۲) شش (۳) هفت (۴) هشت
- ۱۹ چند ستون با به پایان می‌رسد؟
 (۱) پنج (۲) شش (۳) هفت (۴) هشت
- ۲۰ در ستون سوم از سمت راست، چند وجود دارد؟
 (۱) چهار (۲) پنج (۳) سه (۴) شش
- ۲۱ در سطر سوم از پایین چند مشاهده می‌شود؟
 (۱) هفت (۲) ده (۳) نه (۴) هشت
- ۲۲ در سطر ششم از بالا چند وجود دارد؟
 (۱) نه (۲) هشت (۳) هفت (۴) شش
- ۲۳ در چند ستون شکل را می‌بینیم؟
 (۱) پنج (۲) شش (۳) هفت (۴) هشت



- ۲۴ در چند ستون شکل را می‌بینیم؟
 (۱) پنج (۲) شش (۳) هفت (۴) هشت
- ۲۵ در چند ستون هر دو شکل و وجود دارند؟
 (۱) یک (۲) دو (۳) سه (۴) چهار
- ۲۶ در چند ستون شکل را می‌توان دید؟
 (۱) پنج (۲) شش (۳) هفت (۴) هشت
- ۲۷ در چند ستون شکل قابل مشاهده است؟
 (۱) هیچ (۲) یک (۳) دو (۴) سه
- ۲۸ در چند سطر شکل و را می‌بینیم؟
 (۱) چهار (۲) پنج (۳) شش (۴) هفت
- ۲۹ در همهٔ شکل چند مرتبه را خواهیم دید؟
 (۱) هشت (۲) هفت (۳) شش (۴) نه
- ۳۰ در همهٔ شکل چند مرتبه را می‌بینیم؟
 (۱) یک (۲) دو (۳) سه (۴) چهار
- ۳۱ در چند سطر شکل وجود دارد؟
 (۱) یک (۲) دو (۳) سه (۴) چهار

آزمون
۲۵

* در سؤالات ۳۲ تا ۳۶، گزینه‌ای که هر دو متن آن یکسان است را انتخاب نمایید.

- ۳۲ الف: سازمان برنامه‌ریزی و بودجه، بودجهٔ سال ۹۸ را اعلام کرد.
 ب: سازمان برنامه‌ریزی بودجه، بودجهٔ سال ۹۸ را اعلام کرد.
 (۲) الف: شیرهای قدیمی همواره پوسیده و چکه می‌کنند.
 ب: شیرهای قدیمی همواره پوسیده و چیکه می‌کنند.
 (۳) الف: ساختار کتاب گلستان به این صورت است که یک دیباچه و هشت باب دارد.
 ب: ساختار کتاب گلستان به این صورت است که یک دیباچه و هشت باب دارد.
 (۴) الف: دیباچهٔ گلستان با عبارت مشهور «منت خدای را عز و جل که طاعتش موجب قربت است و به شکر اندرش مزید نعمت...» آغاز می‌شود.
 ب: دیباچهٔ گلستان با عبارت مشهور «منت خدای را عز و جل که طاعتش موجب قربت است و به شکر اندرش مزید نعمت...» آغاز می‌شود.

- ۳۳ (۱) الف: درویشی مستجاب الدعوه در بغداد پدید آمد حجاج یوسف را خیر کردند.
 ب: درویشی مستجاب الدعوه در بغداد پدید آمد حجاج یوسف را خیر کردند.
 (۲) الف: گفت: خدایا جانم بستان گفت از بهر خدای این چه دعاست!
 ب: گفت: خدایا جانم بستان گفت: از بهر خدای این چه دعاست!
 (۳) الف: دو برادر یکی خدمت سلطان کردی و دیگر به زور بازو نان خوردی.
 ب: دو برادر یکی خدمت سلطان کردی و دیگری به زور بازو نان خوردی.
 (۴) الف: باری این توانگر گفت درویش را که چرا خدمت نکنی تا از مشقت کار کردن برهی؟
 ب: باری این توانگر گفت درویش را که چرا خدمت نکنی تا از مشقت کار کردن برهی؟

۳۴

- ۱) الف: و چرا کار نکنی تا از مذلت خدمت رهایی یابی؟
 ب: تو چرا کار نکنی تا از مذلت خدمت رهایی یابی؟
 ۳) الف: خردمندان گفته‌اند نان خود خوردن و نشستن به که کمر شمشیر زرّین به خدمت بستن.
 ب: خردمندان گفته‌اند نان خود خوردن و نشستن به که کمر شمشیر زرّین به خدمت بستن.
 ۳) الف: یکی از وزرا پیش ذوالنون مصری رفت و همّت خواست.
 ب: یکی از وزرا پیش ذولنون مصری رفت و همّت خواست.
 ۴) الف: روز و شب به خدمت سلطان مشغولم و به خیرش امیدوار و از عقوبتش ترسان.
 ب: روز و شب به خدمت سلطان مشغولم و به خیرش امیدوار و از عاقبتش ترسان.

۳۵

- ۱) الف: اگر من خدای را عزّوجلّ چنین پرستیدمی که تو سلطان راه، از جمله صدیقان بودمی.
 ب: اگر من خدای را عزّوجلّ چنین پرستیدمی که تو سلطان راه، از جمله صدیقان بودمی.
 ۳) الف: یکی از پادشاهان پارسایی را دید، گفت.
 ب: یکی از پادشاهان پارسایی را دید گفت.
 ۳) الف: دزدی به خانه پارسایی در آمد چندانکه جست چیزی نیافت.
 ب: دزدی به خانه پارسایی در آمد چندانکه جست چیزی یافت.
 ۴) الف: پارسا خبر شد گلیمی که بر آن خفته بود در راه دزد انداخت تا محروم نشود.
 ب: پارسا خبر شد گلیمی که بر آن خفته بود به راه دزد انداخت تا محروم نشود.


۳۶

- ۱) الف: مودت اهل صفا، چه در روی و چه در قفا، نه چنان کز پست عیب گیرند و پیشت بیش میرند.
 ب: مودت اهل صفا، چه در روی و چه در قفا، نه چنان که از پست عیب گیرند و پیشت بیش میرند.
 ۲) الف: مودت اهل صفا، چه در روی و چه در قفا، نه چنان کز پست عیب گیرند و پیشت بیش میرند.
 ب: مودت اهل صفا، چه در روی و چه در قفا، به چنان کز پست عیب گیرند و پیشت بیش میرند.
 ۳) الف: مودت اهل صفا، چه در روی و چه در قفا، نه چنان کز پست عیب گیرند و پیشت بیش میرند.
 ب: مودت اهل صفا، چه در روی چه در قفا، نه چنان کز پست عیب گیرند و پیشت بیش میرند.
 ۴) الف: مودت اهل صفا، چه در روی و چه در قفا، نه چنان کز پست عیب گیرند و پیشت بیش میرند.
 ب: مودت اهل صفا، چه در روی و چه در قفا، نه چنان کز پست عیب گیرند و پیشت بیش میرند.

۳۷) کدام گزینه با بقیه فرق دارد؟



۳۸) کدام گزینه با بقیه فرق دارد؟



۳۹) کدام گزینه با بقیه فرق دارد؟



۴۰) کدام گزینه با بقیه فرق دارد؟





پاسخنامه آزمون ۲۵

۲۱ گزینه ۴

۲۲ گزینه ۴

۲۳ گزینه ۴

۲۴ گزینه ۳

۲۵ گزینه ۲

ستون‌های مورد نظر (از سمت چپ): ۱-۱۳

۲۶ گزینه ۱

ستون‌های مورد نظر (از سمت چپ): ۴-۱۵-۱۸-۲۸-۲۵

۲۷ گزینه ۲

فقط ستون ۱۳ این شکل را دارد.

۲۸ گزینه ۳

سطرهای مورد نظر: ۶-۸-۹-۱۱-۱۴

۲۹ گزینه ۱

سطرهای مورد نظر: ۸-۸-۱۶-۱۴-۱۱-۹-۸-۶

۳۰ گزینه ۱

فقط در سطر هشتم این شکل را می‌توان دید.

۳۱ گزینه ۳

سطرهای مورد نظر: ۳-۱۱-۱۶

۳۲ گزینه ۳

۳۳ گزینه ۴

۳۴ گزینه ۲

۳۵ گزینه ۱

۳۶ گزینه ۴

۳۷ گزینه ۱

۳۸ گزینه ۴

۳۹ گزینه ۴

۴۰ گزینه ۳

۱ گزینه ۱

۲ گزینه ۱

۳ گزینه ۱

۴ گزینه ۴

۵ گزینه ۲

۶ گزینه ۱

۷ گزینه ۴

۸ گزینه ۲

۹ گزینه ۲

۱۰ گزینه ۲

۱۱ گزینه ۲

۱۲ گزینه ۳

سطرهای مورد نظر: ۲-۵-۶-۷-۸-۱۰-۱۵

۱۳ گزینه ۳

ستون‌های مورد نظر (از سمت چپ): ۳-۸-۱۲-۱۷-۲۱-۲۲-۲۶

۱۴ گزینه ۲

ستون‌های مورد نظر (از سمت چپ): ۲-۴-۱۰-۱۶-۱۸-۲۴

۱۵ گزینه ۱

سطرهای مورد نظر: ۴-۶-۸-۱۲-۱۴-۱۶

۱۶ گزینه ۴

سطرهای مورد نظر: ۱-۳-۹-۱۱

۱۷ گزینه ۳

سطرهای مورد نظر: ۴-۱۴-۱۶

۱۸ گزینه ۲

ستون‌های مورد نظر (از سمت چپ): ۱-۶-۱۳-۱۵-۲۰-۲۷

۱۹ گزینه ۱

ستون‌های مورد نظر (از سمت چپ): ۷-۹-۱۶-۲۳-۲۸

۲۰ گزینه ۳

آزمون
۲۵