

بسم الله الرحمن الرحيم

هندسه مسطحه

از مقدمات تا المياد



انتشارات فوشفوان

مؤلفان: سيامک احمدپور

مصطفى مسگری مشهدی

پیشگفتار ناشر

مسابقه‌ها، کنکورها و المپیادهای علمی نقش عمده‌ای را در بارور کردن و شکفتن استعدادهای دانش‌آموزان ایفا می‌کنند و باید به جرأت ادعا کرد که این مسابقات توانسته‌اند اعتماد به نفس لازم در جوانان عزیز کشورمان برای رقابت علمی با جوانان سایر نقاط جهان را تا حد زیادی افزایش دهند. کتاب‌های موجود در دوره‌های تحصیلی به هیچ عنوان نمی‌توانند دانش‌آموزان را برای آماده شدن در این رقابت‌ها اغنا کنند، لذا لازم است در کنار کتاب‌های درسی، خلأ موجود خصوصاً برای دانش‌آموزان مستعد و ممتاز شناسایی و پر شود. در همین راستا انتشارات خوشخوان با استعانت از حضرت حق تعالی و به کمک تنی چند از اساتید و دبیران ممتاز ایران و نیز فارغ‌التحصیلان دانشگاه‌های مختلف که اغلب آنان در زمانی نه چندان دور، مدال‌آور المپیادهای علمی در سطح ایران و جهان بوده‌اند، کتاب‌هایی را تألیف و به دانش‌آموزان ارائه می‌نماید. امید است مورد پسند و استفاده‌ی دانش‌آموزان و دبیران این مرز و بوم قرار گیرند.

تقدیم به بزرگترین داشته های زندگیمان

دستان پر تلاش پدران

و قلب پر مهر مادران

و ای کاش چیزی با ارزش تر از این داشتیم...

فهرست مطالب

مقدمه	۱
سخنی با خواننده	۳
فصل اول: هندسه مقدماتی ۱	
۱-۱. همنهشتی مثلث‌ها	۵
۲-۱. تشابه مثلث‌ها	۱۹
تمرینات تکمیلی	۴۰
فصل دوم: هندسه مقدماتی ۲	
۱-۲. دایره و زوایا	۴۱
۲-۲. قوت نقطه نسبت به دایره	۵۹
۳-۲. چهارضلعی‌های محاطی	۶۵
۴-۲. مکان هندسی	۸۲
تمرینات تکمیلی	۹۰
فصل سوم: خواص مثلث	
۱-۳. ارتفاع	۹۱
۲-۳. میانه	۱۰۳
۳-۳. نیمساز و دایر محاطی	۱۱۲
۴-۳. دایره نه نقطه	۱۲۹
تمرینات تکمیلی	۱۴۰

فصل چهارم: هم‌رسی و هم‌خطی

۱۴۱	۱-۴. سوا، متلاؤس، دزارگ
۱۶۲	۲-۴. قضیه کارنو
۱۷۲	۳-۴. خط سیمسون
۱۸۰	۴-۴. قضیه پاسکال
۱۹۱	تمرینات تکمیلی

فصل پنجم: دایره‌ها

۱۹۳	۱-۵. محور اصلی
۲۰۵	۲-۵. دایره‌های متعامد
۲۱۱	۳-۵. دایره‌های هم‌محور
۲۱۸	تمرینات تکمیلی

فصل ششم: هندسه برداری

۲۱۹	۱-۶. خواص و کاربردهای بردارها
۲۳۹	۲-۶. بردار دوران
۲۴۹	تمرینات تکمیلی

فصل هفتم: تبدیلات هندسی

۲۵۱	۱-۷. تجانس
۲۶۴	۲-۷. دوران و تجانس ماریچی
۲۸۵	۳-۷. تقسیم هم‌ساز یا توافقی
۲۹۳	۴-۷. قطب و قطبی
۳۰۶	۵-۷. انعکاس
۳۱۹	تمرینات تکمیلی
۳۲۱	راه حل تمرینات تکمیلی
۳۸۵	مسائل بدون حل
۴۱۵	فهرست منابع

مقدمه

هندسه یکی از قدیمی‌ترین علوم امروزی است که تاریخ آن به حدود ۴۰۰۰ سال پیش بازمی‌گردد و همواره در طول اعصار مختلف بزرگترین فیلسوفان و دانشمندان و متفکران از افلاطون و دکارت و اقلیدس گرفته تا خیام و نظام‌الملک و خواجه نصیرالدین طوسی و علامه طباطبایی را مسحور و مجذوب زیبایی‌های خود کرده است. اما متأسفانه آنچه امروزه به عنوان هندسه در دبیرستان‌ها و سیستم آموزشی ما تدریس می‌شود به شدت با آنچه باید باشد فاصله دارد و هرگز نتوانسته‌ایم مفاهیم و زیبایی‌های مباحث هندسه را به درستی برای دانش‌آموزان و علاقمندان به تصویر بکشیم. در این کتاب برای اولین بار سعی شده تا با بکارگیری نرم‌افزار Geometer's sketchpad در نسخه الکترونیکی آن، مفاهیم و مباحث هندسه مسطحه با روشی جدید و البته کاملاً جذاب برای دانش‌آموزان و علاقمندان بیان شود تا شاید بتوانیم قسمتی از ضعف‌ها و کاستی‌های سیستم آموزشی را بپوشانیم. امید است این روش جدید آموزشی در هندسه مسطحه مورد اقبال و استفاده دانش‌آموزان، معلمان و اساتید محترم قرار گیرد. همچنین این کتاب تمام مباحث هندسه از مقدماتی‌ترین مطالب تا سطح المپیادهای ریاضی را پوشش می‌دهد و می‌تواند منبع مناسبی برای علاقمندان به شرکت در مسابقات المپیادهای ریاضی باشد.

در اینجا لازم می‌دانیم از زحمات بی‌دریغ خانم مینا نورهاشمی و آقای بهزاد مهرداد که مسئولیت ویراستاری این اثر را بر عهده داشتند تشکر کنیم. همچنین از خانم عطیبه عسگری و آقایان حامد احمدی و شمس‌الدین آخوندزاده و آرمان فاضلی و محمدجواد مقدم‌زاده به خاطر کمک‌های ایشان در نمونه خوانی و ویراست این اثر و خانم خدیجه احمدپور که در آماده‌سازی شکل‌ها زحمات زیادی را متحمل شدند و همچنین آقای مهندس غلامرضا نجف‌پور به خاطر کمک‌های نرم‌افزاری ایشان کمال تشکر را داریم و در پایان از خانم نساء پورحسین که با صبر و حوصله حروف‌چینی این اثر را به نحو احسن انجام داده‌اند و مسئول محترم انتشارات خوشخوان جناب آقای رسول حاجی‌زاده که برای چاپ و ارائه هر چه بهتر این مجموعه تلاش زیادی داشتند قدردانی و تشکر می‌کنیم.

سیامک احمدپور
مصطفی مسگری مشهدی

سخنی با خواننده

خدا می‌داند

خدا می‌داند

و فقط خدا می‌داند، چه شب‌ها که تا صبح دانسته‌های هندسی‌مان را روی کاغذ آوردیم و چه روزها که تا شب سر از کاغذ و کتاب‌های مختلف برداشتیم و چه ساعت‌های طولانی که بر سر مباحث و مسائل مختلف کتاب بحث و حتی جدل کردیم. اما همه اینها نبود جز به عشق اینکه حاصل سال‌ها تلاش و مطالعه‌مان در سینه مدفون نشود و این دانسته‌های محدودمان و البته مهمتر از همه، درک و فهم‌مان از حقایق و زیبایی‌های عمیق هندسه را نه به یک یا چند کلاس ۲۰ نفره، که به هزاران تن از دوستان عزیز و علاقمندان در سراسر ایران تقدیم کنیم.

و همین برای ما بس ...

این کتاب با رویکردی جامعیت‌گرا نگاشته شده است بطوری که تمام مباحث لازم برای علاقمندان به هندسه و داوطلبان شرکت در المپیادهای ریاضی را از مقدماتی‌ترین تا پیشرفته‌ترین مباحث پوشش می‌دهد. این کتاب شامل ۷ فصل است که فصول ۱ و ۲ آن به ترتیب حاوی مباحثی از هندسه ۱ سال دوم دبیرستان و هندسه ۲ سال سوم دبیرستان که در المپیاد ریاضی کاربرد فراگیری دارند، می‌باشد. مطالب و مباحث سه فصل اول این کتاب برای شرکت در مرحله اول المپیادهای ریاضی ایران لازم و البته کافی نیز می‌باشد. برای تسلط بالاتر بر این مباحث و حل مسایل بیشتر می‌توانید به منابع [۲۲]، [۲۳] و [۲۴] از همین کتاب مراجعه کنید.

مباحث فصول ۴، ۵ و ۶ و بخش ۷-۱ نیز برای آمادگی برای شرکت در مرحله دوم المپیاد ریاضی لازم و کافی است. بقیه مطالب فصل ۷ نیز هر چند به دلیل سطح بالای مطالب بیشتر در مرحله سوم المپیاد ریاضی کاربرد دارند اما گاه برای حل مسایلی در سطح مرحله دوم نیز کاربرد دارند و تسلط بر آنها برای مرحله دوم خالی از فایده نخواهد بود. به دلیل ماهیت مبتکرانه و خلاق مباحث و مسایل هندسه مسطحه، مؤثرترین روش آموزشی برای تفهیم و انتقال این مباحث، روش آموزش از طریق حل مسأله است. یعنی روشی که دانش‌آموز پس از دانستن اصول اولیه بحث، با تفکر و تعمق بر روی مسائل مربوط به آن بحث و دیدن و بکارگیری ایده‌های مختلف در حل مسایل، قوه ابتکار و خلاقیت خود را پرورش داده و یاد می‌گیرد که چگونه آن را در حل مسایل مختلف بکارگیرد. بنابراین مهم‌ترین قسمت فرآیند آموزشی این کتاب مسایل داخل و انتهای هر بخش و به دنبال آن تمرینات تکمیلی مربوط به هر فصل است که طی آن یاد می‌گیرید که مباحث مختلف را در کنار هم برای حل یک مسأله بکارگیرید.

به دلیل همین اهمیت است که برای اولین بار در ارائه این مجموعه، از نرم‌افزار Geometer's sketchpad که یک نرم‌افزار تخصصی هندسه است و در بسیاری از کشورها برای آموزش هندسه بکار گرفته می‌شود، استفاده شده است. این نرم‌افزار که نسخه اصلی آن در ایران نبوده و قیمت فوق‌العاده‌ای نیز دارد، ابزاری فوق‌العاده برای فهم و درک مباحث و حل مسایل هندسی بدست می‌دهد. در نسخه الکترونیکی این کتاب که روی CD همراه این کتاب عرضه می‌شود، مباحث و مسایل کتاب با استفاده از نرم‌افزار Geometer's sketchpad بیان شده‌اند و برای هر قضیه یا مسأله یک sketch آمده که در آن مفهوم و شکل آن قضیه یا مسأله بطور ملموسی بیان و رسم شده است و شما را با یک یا چند راهنمایی در حل آن یاری می‌رساند، درست مثل معلمی که قدم به قدم شما را در حل یک مسأله راهنمایی می‌کند. راه حل کامل این مسایل نیز در کتاب آمده است.

برای استفاده بهتر از این مجموعه رعایت نکات زیر در مطالعه آن توصیه می‌شود:

- ۱- ترتیب فصول و بخش‌ها و حتی مسایل را در مطالعه آن رعایت کنید.
 - ۲- بعد از بیان هر قضیه، بلافاصله مسأله‌ای نیز بیان شده که شما را با کاربرد آن قضیه آشنا می‌کند. پس آنها را در همان مقطع حل کنید.
 - ۳- یکی از نکات مثبت کتاب حل تمام مسایل آن است که اگر به آن تکیه کنید اثر منفی خواهد داشت. پس سعی کنید مباحث و قضایا را از روی نسخه الکترونیکی کتاب مطالعه و با توجه به راهنمایی که در sketch ها آمده‌اند خودتان مسایل و قضایا را حل و اثبات کنید و در آخر برای مشاهده راه حل نهایی به کتاب مراجعه کنید.
 - ۴- هرگز کیفیت مطالعه را فدای کمیت آن نکنید و به خاطر مطالعه حجم بیشتری از کتاب از روی مسایل آن به سرعت عبور نکنید. پس برای حل هر مسأله زمان مناسبی اختصاص دهید و قدم به قدم از راهنمایی‌های آن استفاده کنید تا خودتان به جواب مسأله برسید.
 - ۵- فرآیند یادگیری شما طی همین تفکر بر روی مسایل اتفاق می‌افتد. پس حتی اگر بعد از ساعت‌ها مسأله‌ای حل نشود، وقت شما تلف نشده و قدرت حل مسأله شما تقویت شده است.
- در پایان از تمامی دوستان علاقمند، دانش‌آموزان و اساتید محترم صمیمانه خواهشمندیم که ما را از نظرات انتقادی، پیشنهادی یا تأییدی خود محروم نکنید و از طریق پست الکترونیکی geobook@gmail.com با ما در ارتباط باشید. همچنین می‌توانید sketch های خود برای مسایل حل نشده انتهای کتاب یا سایر مسایل و مباحث هندسه را برای ما ارسال کنید تا در چاپ‌های بعدی کتاب در نسخه الکترونیکی آن با نام خودتان آورده شود. با آرزوی موفقیت برای تمام دوستان

سیامک احمدپور
مصطفی مسگری مشهدی

فصل اول

هندسه مقدماتی ۱

۱-۱ هم‌نهشتی مثلث‌ها

هدف بخش: در این بخش با مثلث‌های هم‌نهشت و خواص آن‌ها آشنا شده و سعی می‌شود با همین مفهوم ساده هندسی مسائلی در سطوح بالا طرح و بررسی شود.

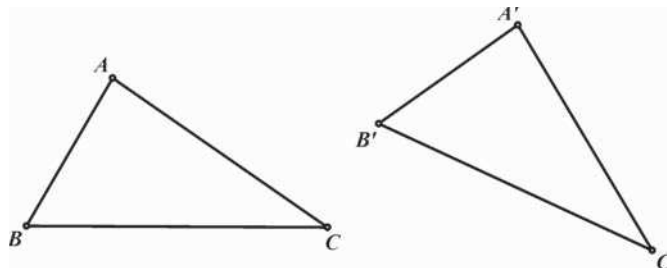
تعریف: دو مثلث هم‌نهشت دو مثلثی هستند که بتوان کاملاً بر یکدیگر منطبق کرد.

بدیهی است که در دو مثلث هم‌نهشت یا قابل انطباق اضلاع دو به دو با یکدیگر و زوایا نیز دو به دو با یکدیگر برابرند، که به این زوایا و اضلاع برابر، زوایا و اضلاع متناظر می‌گوییم.

به عنوان مثال اگر دو مثلث ABC و $A'B'C'$ هم‌نهشت باشند ($\triangle ABC = \triangle A'B'C'$) بطوری که $\hat{A} = \hat{A}'$ ، $\hat{B} = \hat{B}'$ و $\hat{C} = \hat{C}'$ آنگاه اضلاع متناظر AB و $A'B'$ و نیز به ترتیب برابر اضلاع AC و $A'C'$ خواهند بود. دو مثلث، بنا بر هر یک از سه حالت زیر با یکدیگر هم‌نهشت خواهند بود:

الف) قضیه ۱-۱: هرگاه دو ضلع و زاویه بین آن‌ها از مثلثی با دو ضلع و زاویه بین آن‌ها از مثلثی دیگر برابر باشند، آن دو مثلث هم‌نهشت هستند.

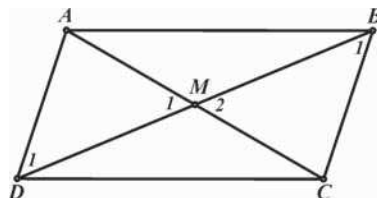
$$\left. \begin{array}{l} AB = A'B' \\ \widehat{A} = \widehat{A'} \\ AC = A'C' \end{array} \right\} \Rightarrow \triangle ABC = \triangle A'B'C'$$



برای اثبات کافی است دو مثلث را بر روی زوایای مساوی A و A' بر یکدیگر منطبق کنیم، از آنجا که $AB = A'B'$ و $AC = A'C'$ هستند، رؤس B, B' و همچنین C, C' نیز بر یکدیگر منطبق خواهند شد.

مسئله ۱-۱: ثابت کنید هر چهارضلعی که اقطار آن یکدیگر را نصف کنند، یک متوازی‌الاضلاع است. (متوازی‌الاضلاع چهارضلعی است که اضلاع آن دو به دو با یکدیگر موازی‌اند.)

در چهارضلعی $ABCD$ ، محل تقاطع دو قطر AC و BD را M می‌نامیم



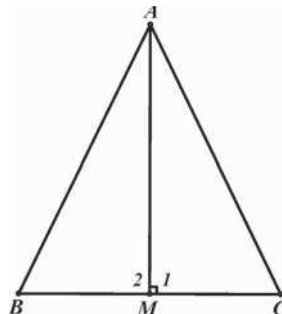
$$\left. \begin{array}{l} MA = MC \\ \widehat{M}_1 = \widehat{M}_2 \\ MD = MB \end{array} \right\} \Rightarrow \triangle MAD = \triangle MCB$$

$$\Rightarrow \widehat{B}_1 = \widehat{D}_1 \Rightarrow BC \parallel AD$$

به ترتیب مشابه می‌توان نشان داد: $AB \parallel CD$. در نتیجه $ABCD$ یک متوازی‌الاضلاع است.

مسئله ۱-۲: ثابت کنید هر مثلثی که میانه و ارتفاع آن بر یکدیگر منطبق باشد، یک مثلث متساوی‌الساقین است.

در مثلث ABC ، AM هم میانه و هم ارتفاع است.



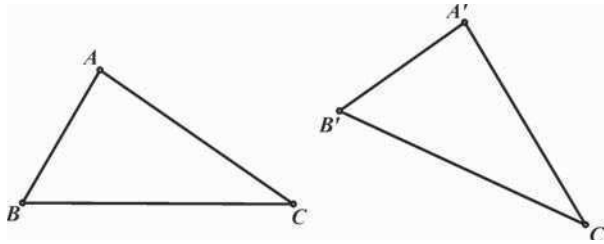
$$\left. \begin{array}{l} BM = CM \\ \widehat{M}_1 = \widehat{M}_2 = 90^\circ \\ AM = AM \end{array} \right\} \Rightarrow \triangle AMB = \triangle AMC \Rightarrow AB = AC$$

در نتیجه مثلث ABC متساوی‌الساقین است.

نتیجه: هر نقطه روی عمود منصف یک پاره‌خط، از دو سر آن به یک فاصله است.

ب) قضیه ۱-۲: هرگاه دو زاویه و ضلع بین آن‌ها از مثلثی با دو زاویه و ضلع بین آن‌ها از مثلثی دیگر برابر باشند، آن دو مثلث همنهشت هستند.

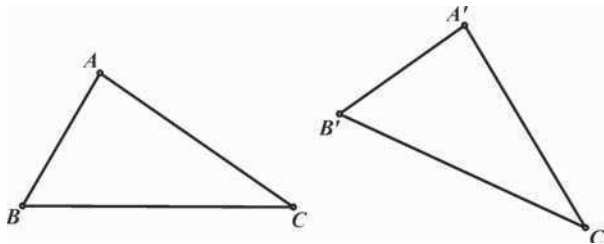
$$\left. \begin{array}{l} \widehat{B} = \widehat{B}' \\ BC = B'C' \\ \widehat{C} = \widehat{C}' \end{array} \right\} \Rightarrow \triangle ABC = \triangle A'B'C'$$



اثبات این حالت نیز مانند حالت قبل است که به خود شما واگذار می‌شود.

مسئله ۱-۳: اگر در دو مثلث ABC و $A'B'C'$ ، $BC = B'C'$ و $\widehat{A} = \widehat{A}'$ و $\widehat{B} = \widehat{B}'$ باشد ثابت کنید:

$$\triangle ABC = \triangle A'B'C'$$



می‌دانیم که در هر مثلث مجموع زوایای داخلی برابر 180° است. پس داریم:

$$\widehat{A} + \widehat{B} + \widehat{C} = 180^\circ \Rightarrow \widehat{C} = 180^\circ - \widehat{A} - \widehat{B}$$

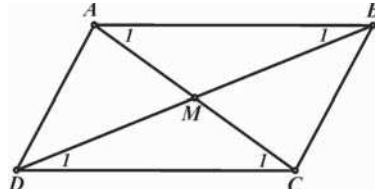
$$\widehat{A}' + \widehat{B}' + \widehat{C}' = 180^\circ \Rightarrow \widehat{C}' = 180^\circ - \widehat{A}' - \widehat{B}'$$

$$\left. \begin{array}{l} \widehat{A} = \widehat{A}' \\ \widehat{B} = \widehat{B}' \end{array} \right\} \Rightarrow 180^\circ - \widehat{A} - \widehat{B} = 180^\circ - \widehat{A}' - \widehat{B}'$$

با توجه به روابط بالا نتیجه می‌گیریم که زوایای C و C' نیز با هم برابرند.

$$\left. \begin{array}{l} \widehat{B} = \widehat{B}' \\ BC = B'C' \\ \widehat{C} = \widehat{C}' \end{array} \right\} \Rightarrow \triangle ABC = \triangle A'B'C'$$

مسأله ۱-۴: ثابت کنید هر چهارضلعی که دو ضلع روبروی آن با یکدیگر مساوی و موازی باشد، یک متوازی‌الاضلاع است.



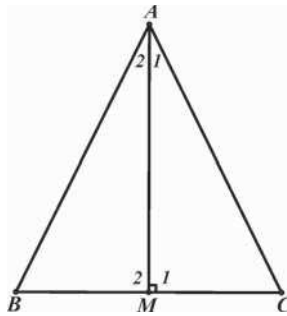
در چهارضلعی $ABCD$ اضلاع AB و CD با یکدیگر مساوی و موازی‌اند. محل برخورد اقطار AC و BD را M می‌نامیم.

$$AB \parallel CD \Rightarrow \left\{ \begin{array}{l} \widehat{A}_1 = \widehat{C}_1 \\ \widehat{B}_1 = \widehat{D}_1 \\ AB = CD \end{array} \right\} \Rightarrow \triangle MAB = \triangle MCD$$

$$\Rightarrow \left\{ \begin{array}{l} AM = CM \\ BM = DM \end{array} \right.$$

در چهارضلعی $ABCD$ اقطار AC و BD یکدیگر را نصف می‌کنند. پس طبق مسأله ۱-۱ $ABCD$ یک متوازی‌الاضلاع است.

مسأله ۱-۵: ثابت کنید هر مثلثی که نیمساز و ارتفاع آن بر یکدیگر منطبق باشند، یک مثلث متساوی‌الساقین است. در مثلث ABC ، AM هم نیمساز و هم ارتفاع است. بنابراین دو مثلث ABM و ACM به حالت دو زاویه و ضلع بین با یکدیگر هم‌نهشت‌اند.

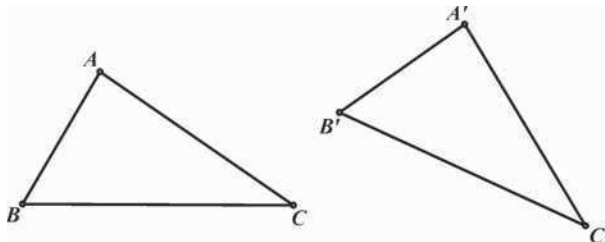


$$\left. \begin{array}{l} \widehat{A}_1 = \widehat{A}_2 \\ AM = AM \\ \widehat{M}_1 = \widehat{M}_2 = 90^\circ \end{array} \right\} \Rightarrow \triangle ABM = \triangle ACM \Rightarrow AB = AC$$

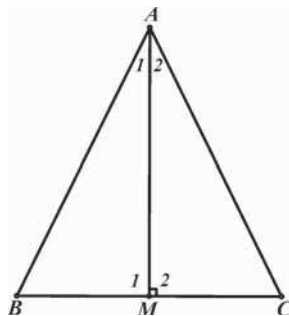
در نتیجه مثلث ABC متساوی‌الساقین است.

ج) قضیه ۱-۳: هرگاه سه ضلع از مثلثی با سه ضلع از مثلثی دیگر برابر باشند، آن دو مثلث با یکدیگر هم‌نهشت هستند.

$$\left. \begin{array}{l} AB = A'B' \\ AC = A'C' \\ BC = B'C' \end{array} \right\} \Rightarrow \triangle ABC = \triangle A'B'C'$$



مسأله ۱-۶: ثابت کنید در هر مثلث متساوی‌الساقین، میانه وارد بر قاعده، ارتفاع و نیمساز نیز می‌باشد.



در مثلث متساوی‌الساقین ABC ، AM میانه‌ی وارد بر قاعده است.

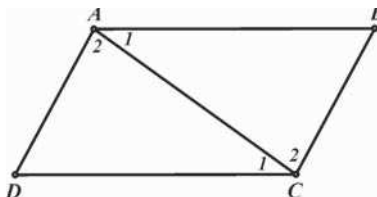
$$\left. \begin{array}{l} AB = AC \\ BM = CM \\ AM = AM \end{array} \right\} \Rightarrow \triangle ABM = \triangle ACM \Rightarrow \begin{cases} \widehat{A}_1 = \widehat{A}_2 \\ \widehat{M}_1 = \widehat{M}_2 \end{cases}$$

$$\left. \begin{array}{l} \widehat{M}_1 = \widehat{M}_2 \\ \widehat{M}_1 + \widehat{M}_2 = 180^\circ \end{array} \right\} \Rightarrow \widehat{M}_1 = \widehat{M}_2 = 90^\circ$$

در نتیجه، AM ، نیمساز و ارتفاع مثلث ABC می‌باشد.

نتیجه: از همنهشتی دو مثلث ABM و ACM می‌توان نتیجه گرفت در هر مثلث متساوی‌الساقین دو زاویه مجاور به قاعده با یکدیگر برابرند ($\widehat{B} = \widehat{C}$) و بالعکس.

مسأله ۱-۷: ثابت کنید هر چهارضلعی که اضلاع مقابل آن دو به دو با یکدیگر برابر باشند، یک متوازی‌الاضلاع است.



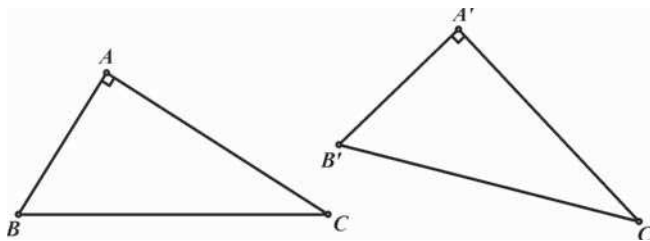
$$\left. \begin{array}{l} AB = CD \\ AD = BC \\ AC = AC \end{array} \right\} \Rightarrow \triangle ABC = \triangle CAD \Rightarrow \left\{ \begin{array}{l} \widehat{A}_1 = \widehat{C}_1 \Rightarrow AB \parallel CD \\ \widehat{A}_2 = \widehat{C}_2 \Rightarrow AD \parallel BC \end{array} \right.$$

در نتیجه چهارضلعی $ABCD$ یک متوازی‌الاضلاع است.

دو مثلث قائم‌الزاویه علاوه بر سه حالت گذشته، بنا بر هر یک از دو حالت زیر نیز هم‌نهشت خواهند بود:

الف) قضیه ۱-۴: هرگاه وتر و یک زاویه حاده از مثلث قائم‌الزاویه‌ای با وتر و یک زاویه حاده از مثلث قائم‌الزاویه دیگری برابر باشند، آن دو مثلث هم‌نهشت خواهند بود.

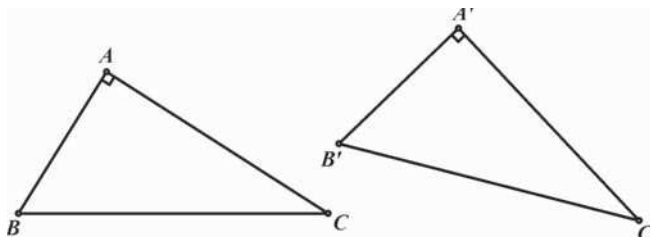
$$\left. \begin{array}{l} \widehat{A} = \widehat{A'} = 90^\circ \\ BC = B'C' \\ \widehat{B} = \widehat{B'} \end{array} \right\} \Rightarrow \triangle ABC = \triangle A'B'C'$$



اثبات این قضیه مشابه مسأله ۱-۳ می‌باشد.

ب) قضیه ۱-۵: هرگاه وتر و یک ضلع از مثلث قائم‌الزاویه‌ای با وتر و یک ضلع از مثلث قائم‌الزاویه دیگری برابر باشند، آن دو مثلث با یکدیگر هم‌نهشت خواهند بود.

$$\left. \begin{array}{l} \widehat{A} = \widehat{A'} = 90^\circ \\ BC = B'C' \\ AB = A'B' \end{array} \right\} \Rightarrow \triangle ABC = \triangle A'B'C'$$



طبق قضیه فیثاغورث در هر مثلث قائم‌الزاویه داریم:

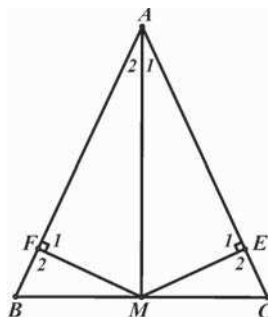
$$\begin{cases} AB^2 + AC^2 = BC^2 & \Rightarrow AC^2 = BC^2 - AB^2 \\ A'B'^2 + A'C'^2 = B'C'^2 & \Rightarrow A'C'^2 = B'C'^2 - A'B'^2 \end{cases}$$

$$\left. \begin{array}{l} BC = B'C' \\ AB = A'B' \end{array} \right\} \Rightarrow BC^2 - AB^2 = B'C'^2 - A'B'^2$$

$$\Rightarrow AC^2 = A'C'^2 \Rightarrow AC = A'C'$$

بنابراین دو مثلث به حالت سه ضلع با هم همنهشت می‌شوند.

مسئله ۸-۱: ثابت کنید هر مثلثی که میانه و نیمساز آن بر یکدیگر منطبق باشند، یک مثلث متساوی‌الساقین است.



میانه AM از مثلث ABC را رسم می‌کنیم و پای عمودهای وارد از M بر اضلاع AC و AB را به ترتیب E و F می‌نامیم.

$$\left. \begin{array}{l} \widehat{E}_1 = \widehat{F}_1 = 90^\circ \\ AM = AM \\ \widehat{A}_1 = \widehat{A}_2 \end{array} \right\} \Rightarrow \triangle AME = \triangle AMF \Rightarrow \begin{cases} AE = AF \\ ME = MF \end{cases} \quad (1)$$

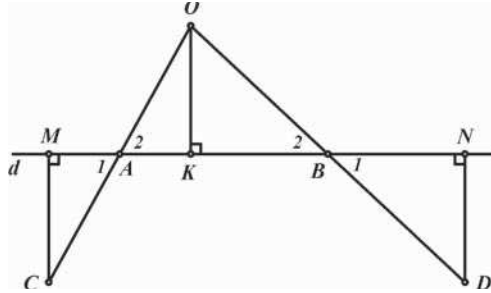
$$\left. \begin{array}{l} \widehat{E}_2 = \widehat{F}_2 = 90^\circ \\ MC = MB \\ ME = MF \end{array} \right\} \Rightarrow \triangle MCE = \triangle MBF \Rightarrow CE = BF \quad (2)$$

با جمع روابط (۱) و (۲) نتیجه می‌گیریم:

$$AE + CE = AF + BF \Rightarrow AC = AB$$

مسائل

(۱) خط d و دو نقطه A و B روی آن و نقطه O خارج از آن مفروض اند. از O به A و B وصل کرده و هر کدام را به اندازه خودش امتداد می دهیم تا نقاط C و D حاصل شوند. ثابت کنید نقاط C و D از خط d هم فاصله اند.



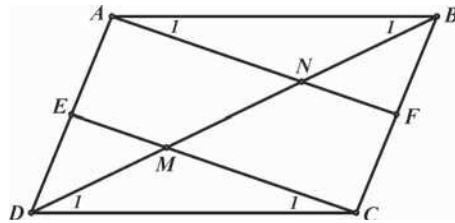
عمودهای CM ، DN و OK را بر خط d رسم می کنیم. می دانیم مثلث های زیر به حالت وتر و یک زاویه حاده با هم برابرند. یعنی داریم:

$$\left. \begin{array}{l} OA = AC \\ \widehat{A}_1 = \widehat{A}_2 \\ \widehat{M} = \widehat{K} = 90^\circ \end{array} \right\} \Rightarrow \triangle MAC = \triangle KAO \Rightarrow CM = OK \quad (1)$$

$$\left. \begin{array}{l} OB = BD \\ \widehat{B}_1 = \widehat{B}_2 \\ \widehat{N} = \widehat{K} = 90^\circ \end{array} \right\} \Rightarrow \triangle NBD = \triangle KBO \Rightarrow DN = OK \quad (2)$$

$$(1), (2) \Rightarrow CM = DN = OK$$

(۲) متوازی الاضلاع $ABCD$ مفروض است. اوساط اضلاع AD و BC را به ترتیب E و F می نامیم. اگر CE و AF قطر BD را به ترتیب در M و N قطع کنند، نشان دهید: $DM = BN$



برای اثبات حکم کافی است نشان دهیم $\triangle ABN = \triangle CDM$. برای این منظور می دانیم که دو ضلع AB و CD با هم برابرند و دو زاویه \widehat{B}_1 و \widehat{D}_1 نیز که به دلیل توازی AB و CD با هم برابرند. پس فقط کافی است نشان دهیم: $\widehat{A}_1 = \widehat{C}_1$

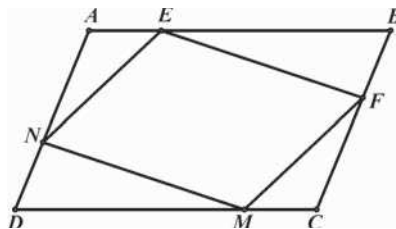
از آنجا که E و F اوساط AD و BC هستند داریم:

$$\left. \begin{array}{l} AE = CF \\ AE \parallel CF \end{array} \right\} \Rightarrow AECF \text{ متوازی‌الاضلاع} \Rightarrow AF \parallel CE$$

بنابراین چون اضلاع دو زاویه \widehat{A}_1 و \widehat{C}_1 با هم موازی‌اند پس این دو زاویه با هم برابرند یعنی داریم:

$$\left. \begin{array}{l} \widehat{A}_1 = \widehat{C}_1 \\ \widehat{B}_1 = \widehat{D}_1 \\ AB = CD \end{array} \right\} \Rightarrow \triangle ABN = \triangle CDM \Rightarrow BN = DM$$

(۳) روی اضلاع AB ، BC ، CD و DA از متوازی‌الاضلاع $ABCD$ به ترتیب چهار پاره خط AE ، BF ، CM و DN را بطور مساوی جدا می‌کنیم. ثابت کنید چهارضلعی $EFMN$ متوازی‌الاضلاع است.



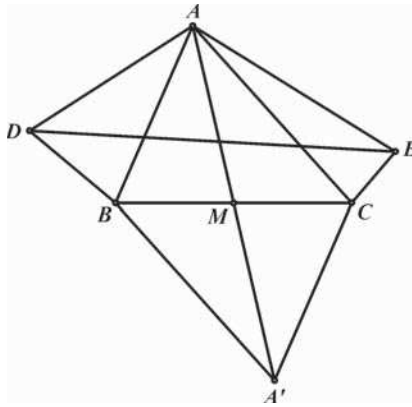
برای اثبات حکم کافی است نشان دهیم هر دو ضلع روبرو از این چهارضلعی با هم برابرند.

$$\left. \begin{array}{l} AE = CM \\ \widehat{A} = \widehat{C} \\ DN = BF \Rightarrow AN = CF \end{array} \right\} \Rightarrow \triangle AEN = \triangle CMF \Rightarrow NE = MF$$

$$\left. \begin{array}{l} DN = BF \\ \widehat{D} = \widehat{B} \\ CM = AE \Rightarrow DM = BE \end{array} \right\} \Rightarrow \triangle DNM = \triangle BFE \Rightarrow NM = EF$$

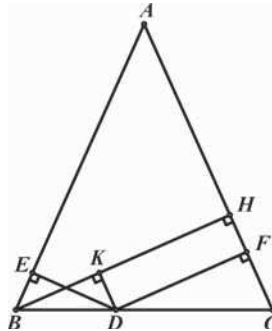
(۴) روی اضلاع AB و AC از مثلث ABC و در خارج از آن دو مثلث متساوی‌الساقین ACE و ABD را می‌سازیم بطوری که $AB = AD$ و $AC = AE$. اگر داشته باشیم $\widehat{DAE} = \widehat{B} + \widehat{C}$ و نقطه M وسط ضلع BC باشد، ثابت کنید: $DE = 2AM$

میانۀ AM را به اندازه خودش و از طرف M امتداد می‌دهیم تا نقطه A' حاصل شود. از آنجا که اقطار چهارضلعی $ABA'C$ یکدیگر را نصف می‌کنند بنابراین $ABA'C$ متوازی‌الاضلاع است. برای اثبات حکم کافی است نشان دهیم $DE = AA'$ و برای این منظور نشان می‌دهیم: $\triangle ABA' = \triangle ADE$



$$\left. \begin{array}{l} AE = AC \\ BA' = AC \end{array} \right\} \Rightarrow AE = BA' \left. \begin{array}{l} AD = BA \\ \widehat{DAE} = \widehat{BA'A} = \widehat{B} + \widehat{C} \end{array} \right\} \Rightarrow \triangle ABA' = \triangle ADE \Rightarrow DE = AA' = 2AM$$

(۵) نقطه دلخواه D را بر روی قاعده BC از مثلث متساوی الساقین ABC انتخاب می‌کنیم. اگر E و F به ترتیب پای عمودهای وارد از D بر اضلاع AB و AC و BH ارتفاع وارد بر AC باشد، ثابت کنید: $DE + DF = BH$



راه حل اول: عمود DK را بر BH رسم می‌کنیم. چهارضلعی $DKHF$ مستطیل است و $KH = DF$.
 پس برای اثبات حکم کافی است نشان دهیم $BK = DE$.
 برای این منظور ثابت می‌کنیم: $\triangle BKD = \triangle BED$

$$\left. \begin{array}{l} DK \perp BH \\ AC \perp BH \end{array} \right\} \Rightarrow DK \parallel AC \Rightarrow \left. \begin{array}{l} \widehat{BDK} = \widehat{BCA} \\ \widehat{CBA} = \widehat{BCA} \end{array} \right\} \Rightarrow \widehat{BDK} = \widehat{CBA}$$

پس از آنجا که دو مثلث قائم‌الزاویه BED و BKD در وتر BD نیز مشترک هستند، بنابراین به حالت
وتر و یک زاویه حاده با هم برابرند. پس داریم:

$$\left. \begin{array}{l} BK = DE \\ KH = DF \end{array} \right\} \Rightarrow DE + DF = BH$$

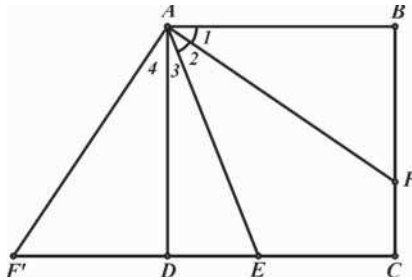
راه حل دوم: برای اثبات حکم از مفهوم مساحت مثلث‌ها استفاده می‌کنیم.

$$S_{ABC} = S_{ABD} + S_{ACD} \Rightarrow \frac{1}{2}BH \cdot AC = \frac{1}{2}DE \cdot AB + \frac{1}{2}DF \cdot AC$$

از آنجا که $AB = AC$ نتیجه می‌شود:

$$\frac{1}{2}BH \cdot AC = \frac{1}{2}AC(DE + DF) \Rightarrow BH = DE + DF$$

۶) مربع $ABCD$ و نقطه E بر ضلع CD مفروض‌اند. نیمساز زاویه EAB را رسم می‌کنیم تا ضلع BC
را در F قطع کند. ثابت کنید: $BF + DE = AE$



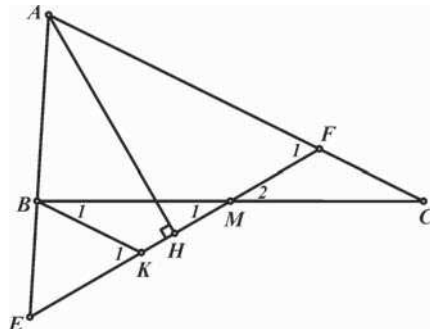
ضلع DC از مربع را از طرف D به اندازه BF امتداد می‌دهیم تا نقطه F' حاصل شود. حال برای
اثبات حکم کافی است نشان دهیم $AE = F'E$ یعنی مثلث AEF' متساوی‌الساقین است.

$$\left. \begin{array}{l} AD = AB \\ \widehat{D} = \widehat{B} = 90^\circ \\ F'D = FB \end{array} \right\} \Rightarrow \triangle AF'D = \triangle AFB \Rightarrow \left\{ \begin{array}{l} \widehat{AF'D} = \widehat{AFB} \\ \widehat{A_4} = \widehat{A_1} \end{array} \right. \quad (1)$$

$$\left. \begin{array}{l} \widehat{A_4} = \widehat{A_1} \\ \widehat{A_2} = \widehat{A_1} \\ AD \parallel BC \Rightarrow \widehat{A_2} + \widehat{A_3} = \widehat{AFB} \end{array} \right\} \Rightarrow \widehat{A_4} + \widehat{A_3} = \widehat{AFB} \quad (2)$$

$$(1), (2) \Rightarrow \widehat{A_3} + \widehat{A_4} = \widehat{AF'D} \Rightarrow \widehat{F'AE} = \widehat{AF'E} \Rightarrow AE = F'E = BF + DE$$

۷) در مثلث ABC ، از M وسط ضلع BC عمودی بر نیمساز داخلی زاویه A رسم می‌کنیم تا اضلاع AB و AC و یا امتداد آن‌ها را به ترتیب در نقاط E و F قطع کند. ثابت کنید: $BE = CF$



از نقطه B خطی موازی FC رسم می‌کنیم تا EF را در K قطع کند و ثابت می‌کنیم BE و CF هر دو با BK برابرند.

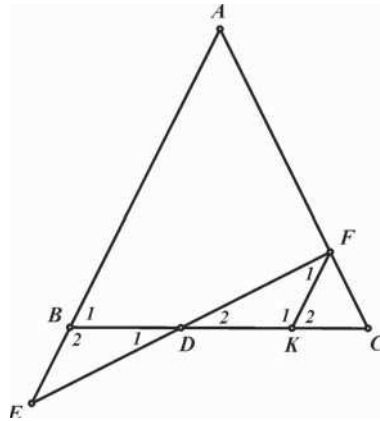
$$\left. \begin{array}{l} MC = MB \\ \widehat{M}_2 = \widehat{M}_1 \\ BK \parallel AC \Rightarrow \widehat{C} = \widehat{B}_1 \end{array} \right\} \Rightarrow \triangle MBK = \triangle MCF \Rightarrow FC = BK \quad (1)$$

در مثلث AEF نیمساز و ارتفاع بر یکدیگر منطبق شده‌اند بنابراین مثلث AEF متساوی‌الساقین بوده و زوایای \widehat{E} و \widehat{F}_1 با یکدیگر برابرند.

$$\left. \begin{array}{l} \widehat{E} = \widehat{F}_1 \\ BK \parallel AC \Rightarrow \widehat{K}_1 = \widehat{F}_1 \end{array} \right\} \Rightarrow \widehat{E} = \widehat{K}_1 \Rightarrow BE = BK \quad (2)$$

$$(1), (2) \Rightarrow BE = FC$$

۸) در مثلث متساوی‌الساقین ABC ($AB = AC$)، نقاط E و F را به ترتیب روی AC و امتداد AB طوری انتخاب می‌کنیم که $BE = CF$ باشد. نشان دهید BC ، پاره خط EF را نصف می‌کند.



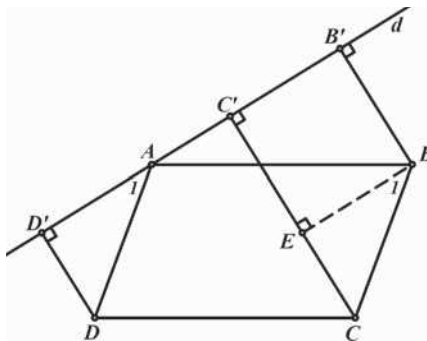
از نقطه F خطی موازی AB رسم می‌کنیم تا BC را در K قطع کند و ثابت می‌کنیم دو مثلث BDE و FDK با یکدیگر همنهشت‌اند.

$$\left. \begin{array}{l} AB = AC \Rightarrow \widehat{B}_1 = \widehat{C} \\ AB \parallel FK \Rightarrow \widehat{B}_1 = \widehat{K}_2 \end{array} \right\} \Rightarrow \widehat{C} = \widehat{K}_2 \Rightarrow FK = CF$$

$$\left. \begin{array}{l} FK = CF \\ BE = CF \end{array} \right\} \Rightarrow BE = FK$$

$$\left. \begin{array}{l} BE = FK \\ AE \parallel FK \Rightarrow \widehat{E} = \widehat{F}_1 \\ AE \parallel FK \Rightarrow \widehat{B}_2 = \widehat{K}_1 \end{array} \right\} \Rightarrow \triangle BED = \triangle FDK \Rightarrow DE = DF$$

۹) چهارضلعی $ABCD$ یک متوازی‌الاضلاع است. از نقاط B ، C و D ، عمودهای BB' ، CC' و DD' را بر خط d که از نقطه‌ی A می‌گذرد، فرود می‌آوریم. نشان دهید: $CC' = BB' + DD'$



پای عمود وارد از B بر CC' را E می‌نامیم.

$$\left. \begin{array}{l} BE \perp CC' \\ d \perp CC' \end{array} \right\} \Rightarrow BE \parallel d$$

$$\left. \begin{array}{l} CE \perp d \\ DD' \perp d \end{array} \right\} \Rightarrow CE \parallel DD'$$

$$\left. \begin{array}{l} BE \parallel d \\ BC \parallel AD \\ \widehat{D}' = \widehat{E} = 90^\circ \\ BC = AD \end{array} \right\} \Rightarrow \triangle BCE = \triangle ADD' \Rightarrow CE = DD'$$

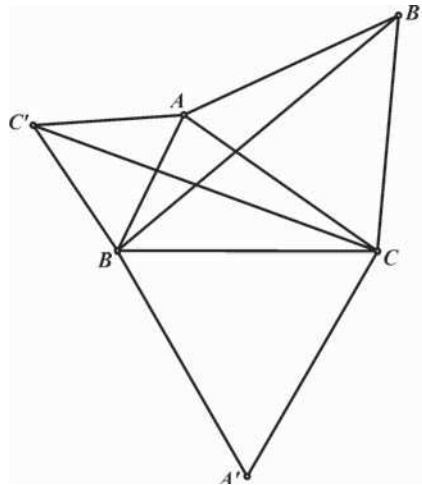
همچنین در مستطیل $BEC'B'$ ، دو ضلع BB' و EC' با هم برابرند.

$$\Rightarrow BB' + DD' = EC' + CE$$

$$\Rightarrow BB' + DD' = CC'$$

(۱۰) روی اضلاع مثلث ABC و در خارج آن سه مثلث متساوی‌الاضلاع ABC' ، BCA' ، $CB'A$ را

می‌سازیم. ثابت کنید: $AA' = BB' = CC'$



$$\left. \begin{array}{l} \widehat{C'AC} = \widehat{BAC} + 60^\circ \\ \widehat{BAB'} = \widehat{BAC} + 60^\circ \end{array} \right\} \Rightarrow \widehat{C'AC} = \widehat{BAB'}$$

$$\left. \begin{array}{l} AB = AC' \\ AB' = AC \\ \widehat{C'AC} = \widehat{BAB'} \end{array} \right\} \Rightarrow \triangle CAC' = \triangle BAB'$$

$$\Rightarrow BB' = CC'$$

به ترتیب مشابه می‌توان نشان داد که:

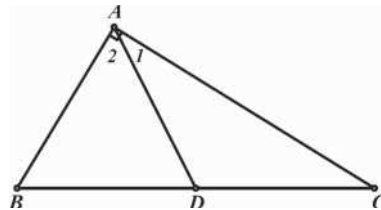
$$AA' = BB' \Rightarrow AA' = BB' = CC'$$

(۱۱) ثابت کنید در هر مثلث قائم‌الزاویه

(الف) میانه وارد بر وتر نصف وتر است.

(ب) اگر یکی از زوایا برابر 30° درجه باشد، ضلع روبروی زاویه 30° درجه برابر نصف وتر است.

(الف) در مثلث قائم‌الزاویه ABC ($\widehat{A} = 90^\circ$) نقطه‌ی D را روی وتر BC طوری انتخاب می‌کنیم که $\widehat{A_1} = \widehat{C}$ باشد.



$$\widehat{A_1} = \widehat{C} \Rightarrow AD = CD \quad (۱)$$

$$\left. \begin{array}{l} \widehat{A_1} + \widehat{A_2} = 90^\circ \\ \widehat{C} + \widehat{B} = 90^\circ \\ \widehat{A_1} = \widehat{C} \end{array} \right\} \Rightarrow \widehat{A_2} = \widehat{B} \Rightarrow AD = BD$$

با توجه به رابطه (۱) نتیجه می‌گیریم که:

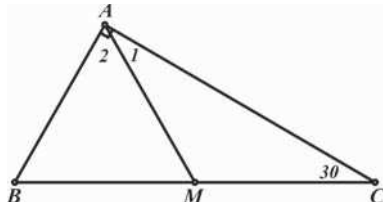
$$\Rightarrow AD = CD = BD \Rightarrow AD = \frac{1}{2} BC$$

پس AD میانه‌ی مثلث ABC است.

توجه داشته باشید که عکس این قسمت هم برقرار است یعنی در هر مثلثی اگر میانه وارد بر یک ضلع نصف آن باشد، آن مثلث قائم‌الزاویه است.

ب) میانه AM را رسم می‌کنیم. بنا بر قسمت قبل داریم:

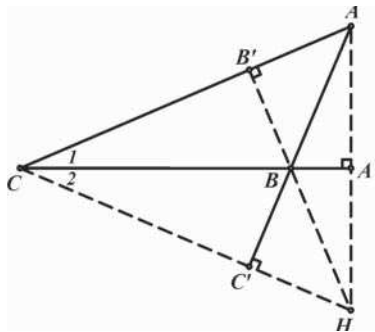
$$AM = CM \Rightarrow \widehat{A}_1 = \widehat{C} = 30^\circ \Rightarrow \widehat{A}_2 = 60^\circ$$



از آنجا که دو زاویه A_2 و B از مثلث ABM برابر 60° درجه هستند مثلث ABM متساوی‌الاضلاع است بنابراین داریم:

$$\left. \begin{array}{l} AM = AB \\ AM = \frac{1}{2}BC \end{array} \right\} \Rightarrow AB = \frac{1}{2}BC$$

۱۲) در مثلث ABC ، $\widehat{B} - \widehat{C} = 90^\circ$ است. اگر نقطه‌ی H محل برخورد ارتفاع‌های مثلث باشد، ثابت کنید که دو مثلث ABC و HBC هم‌نهشت هستند.



زاویه ABC زاویه خارجی مثلث CBC' بوده و برابر مجموع دو زاویه غیر مجاور از مثلث می‌باشد. بنابراین

$$\widehat{ABC} = \widehat{C}_2 + 90^\circ \Rightarrow \widehat{C}_2 = \widehat{ABC} - 90^\circ \quad (1)$$

از طرفی طبق فرض مسئله داریم:

$$\widehat{ABC} - \widehat{C}_1 = 90^\circ \Rightarrow \widehat{C}_1 = \widehat{ABC} - 90^\circ$$

با توجه به رابطه (۱) نتیجه می‌گیریم که: $\widehat{C}_1 = \widehat{C}_2$

در مثلث ACH ، ارتفاع CA' نیمساز زاویه ACH است، پس مثلث ACH متساوی‌الساقین است. در نتیجه داریم:

$$\left. \begin{array}{l} AC = HC \\ \widehat{C}_1 = \widehat{C}_2 \\ CB = CB \end{array} \right\} \Rightarrow \triangle ABC = \triangle HBC$$

۲-۱ تشابه مثلث‌ها

هدف بخش: در این بخش برآنیم تا ضمن شناخت خواص مثلث‌های متشابه، با کاربردهای وسیع و گوناگون تشابه در انواع مسایل هندسی آشنا شویم.

پیش از آنکه به قضیه تالس و تشابه مثلث‌ها بپردازیم، بدلیل کاربرد برخی خواص نسبت‌های تناسب در تشابه، مروری بر بعضی از مهمترین این خواص خواهیم داشت.

قضیه ۱-۶: اگر تساوی $\frac{a}{b} = \frac{c}{d}$ برقرار باشد نسبت‌های زیر برقرار خواهند بود:

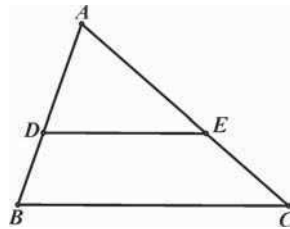
الف) $\frac{a \pm b}{b} = \frac{c \pm d}{d}$. به این خاصیت ترکیب در صورت (+) یا تفضیل در صورت (-) می‌گویند.

ب) $\frac{a}{b \pm a} = \frac{c}{d \pm c}$. به این خاصیت ترکیب در مخرج (+) یا تفضیل در مخرج (-) می‌گویند.

ج) $\frac{a}{b} = \frac{c}{d} = \frac{a \pm c}{b \pm d}$

اثبات تمامی قسمت‌های بالا مشابه یکدیگر است و کافی است هر نسبت را طرفین - وسطین کرده و ساده کنید، تا به عبارت $ad = bc$ که همان فرض $\frac{a}{b} = \frac{c}{d}$ است، برسید.

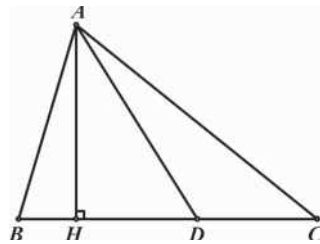
قضیه تالس ۱-۷: هر خط موازی با یکی از اضلاع مثلث، دو ضلع دیگر مثلث را به نسبت‌های یکسان تقسیم می‌کند.



$$DE \parallel BC \Rightarrow \frac{AD}{DB} = \frac{AE}{EC}$$

برای اثبات قضیه تالس ابتدا لم مهم و کاربردی زیر را مطرح می‌کنیم.

لم: برای هر خط دلخواه AD که ضلع BC از مثلث ABC را قطع می‌کند نسبت پاره‌خط‌های بوجود آمده بر روی



BC با نسبت مساحت مثلث‌های متناظر برابر است.

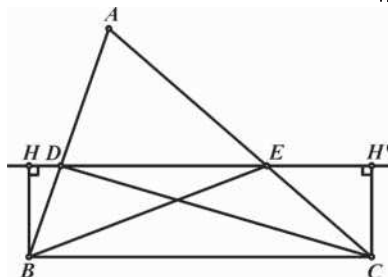
$$\text{حکم: } \frac{BD}{DC} = \frac{S_{ABD}}{S_{ADC}}$$

H را پای ارتفاع نظیر رأس A می‌نامیم.

$$\frac{S_{ABD}}{S_{ADC}} = \frac{\frac{1}{2}AH \cdot BD}{\frac{1}{2}AH \cdot DC} = \frac{BD}{DC}$$

برای اثبات قضیه تالس هر کدام از نسبت‌های $\frac{AD}{DB}$ و $\frac{AE}{EC}$ را با استفاده از لم فوق به نسبت مساحت‌ها تبدیل

می‌کنیم تا حکم جدید حاصل گردد.

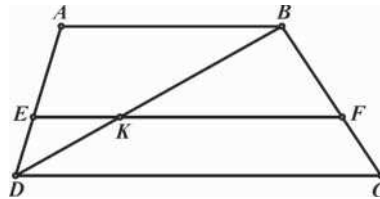


$$\left. \begin{array}{l} \frac{AD}{DB} = \frac{S_{EDA}}{S_{EDB}} \\ \frac{AE}{EC} = \frac{S_{DEA}}{S_{DEC}} \end{array} \right\} \Rightarrow \frac{S_{EDA}}{S_{EDB}} = \frac{S_{DEA}}{S_{DEC}} \Rightarrow S_{EDB} = S_{DEC} \quad \text{حکم جدید:}$$

$$\left. \begin{array}{l} S_{EDB} = \frac{1}{2} DE \cdot BH \\ S_{DEC} = \frac{1}{2} DE \cdot CH' \\ BC \parallel DE \Rightarrow BH = CH' \end{array} \right\} \Rightarrow S_{EDB} = S_{DEC}$$

پس حکم جدید برقرار است که از آن حکم $\frac{AD}{DB} = \frac{AE}{EC}$ نتیجه می‌شود.

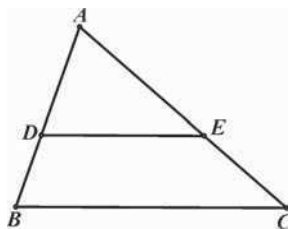
مسأله ۹-۱: ثابت کنید هر خط موازی قاعده‌های دوزنقه، ساق‌های آن را به‌طور متناسب قطع می‌کند.



محل برخورد BD و EF را K می‌نامیم. با استفاده از قضیه تالس در دو مثلث ABD و BCD خواهیم داشت:

$$\left. \begin{array}{l} EK \parallel AB \Rightarrow \frac{AE}{ED} = \frac{BK}{KD} \\ FK \parallel CD \Rightarrow \frac{BF}{FC} = \frac{BK}{KD} \end{array} \right\} \Rightarrow \frac{AE}{ED} = \frac{BF}{FC}$$

عکس قضیه تالس: هر خطی که دو ضلع از مثلث را به‌طور متناسب قطع کند با ضلع سوم موازی خواهد بود.

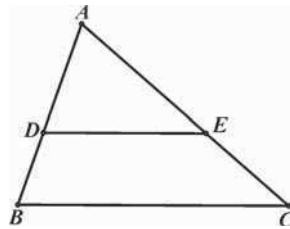


$$\frac{AD}{DB} = \frac{AE}{EC} \Rightarrow DE \parallel BC$$

اثبات عکس قضیه تالس را به خود شما واگذار می‌کنیم.

راهنمایی: برای اثبات عکس قضیه تالس از نقطه D خطی موازی BC رسم کنید تا AC را در نقطه‌ی E' قطع کند. با استفاده از قضیه تالس ثابت کنید که نقطه E' بر نقطه‌ی E منطبق است.

نکته: طبق قضیه تالس $DE \parallel BC$ است، اگر و فقط اگر $\frac{AD}{DB} = \frac{AE}{EC}$ باشد. اما طبق خواص نسبت‌های تناسب شرط $\frac{AD}{DB} = \frac{AE}{EC}$ را می‌توان با استفاده از ترکیب در مخرج یا صورت به نسبت‌های زیر تبدیل کرد.



$$\frac{AD}{DB + AD} = \frac{AE}{EC + AE} \Rightarrow \frac{AD}{AB} = \frac{AE}{AC} \quad \text{الف}$$

$$\frac{AD + DB}{DB} = \frac{AE + EC}{EC} \Rightarrow \frac{AB}{DB} = \frac{AC}{EC} \quad \text{ب}$$

به عبارت دیگر طبق قضیه تالس $DE \parallel BC$ است اگر و فقط اگر هر کدام از نسبت‌های فوق برقرار باشد.

تعریف: دو مثلث ABC و $A'B'C'$ با یکدیگر متشابه هستند ($\triangle ABC \sim \triangle A'B'C'$) اگر و فقط اگر:

$$1- \widehat{A} = \widehat{A'}, \widehat{B} = \widehat{B'}, \widehat{C} = \widehat{C'} \quad \text{۱- زوایای دو مثلث دو بدو با یکدیگر برابر باشند.}$$

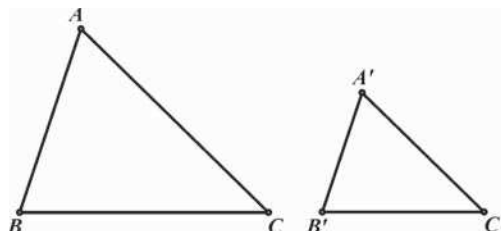
$$\frac{AB}{A'B'} = \frac{AC}{A'C'} = \frac{BC}{B'C'} = k \quad \text{۲- اضلاع متناظر متناسب باشند.}$$

که به عدد ثابت k نسبت تشابه دو مثلث گفته می‌شود.

دو مثلث بنا بر هر یک از سه حالت زیر متشابه خواهند بود:

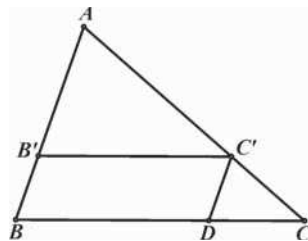
الف) قضیه ۱-ا: هرگاه دو زاویه از مثلثی با دو زاویه از مثلث دیگر برابر باشند، آن دو مثلث متشابه هستند.

$$\left. \begin{array}{l} \widehat{A} = \widehat{A'} \\ \widehat{B} = \widehat{B'} \end{array} \right\} \Rightarrow \triangle ABC \sim \triangle A'B'C'$$



از آنجا که دو زاویه A و A' با یکدیگر و B و B' نیز با یکدیگر برابرند، پس زوایای C و C' نیز با هم برابر خواهند بود. بنابراین شرط اول تشابه دو مثلث یعنی تساوی زوایا برقرار است. اما برای اثبات تناسب اضلاع، مثلث $A'B'C'$ را روی مثلث ABC طوری قرار می‌دهیم که دو زاویه A و A' بر یکدیگر منطبق شوند.

$$\widehat{B} = \widehat{B'} \Rightarrow B'C' \parallel BC$$



طبق قضیه تالس داریم

$$\frac{AB'}{AB} = \frac{AC'}{AC} \quad (۱)$$

پس تناسب دو ضلع برقرار است، اما برای اثبات نسبت ضلع سوم، از C' خطی به موازات AB رسم می‌کنیم تا ضلع BC را در D قطع کند. طبق قضیه تالس خواهیم داشت:

$$C'D \parallel AB \Rightarrow \frac{AC'}{AC} = \frac{BD}{BC}$$

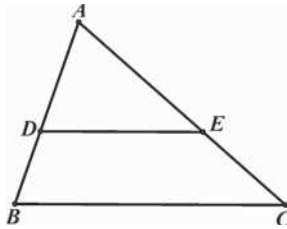
در متوازی‌الاضلاع $B'C'DB$ دو ضلع BD و $B'C'$ با هم برابرند

$$\Rightarrow \frac{AC'}{AC} = \frac{B'C'}{BC}$$

$$\frac{AB'}{AB} = \frac{AC'}{AC} = \frac{B'C'}{BC}$$

با توجه به رابطه (۱) داریم:

از آنجا که شرط دوم تشابه یعنی تناسب اضلاع نیز برقرار است، دو مثلث ABC و $A'B'C'$ متشابه هستند.



نتیجه: طبق قضیه فوق در صورتی که خطی موازی BC ، دو ضلع دیگر مثلث را در نقاط D و E قطع کند خواهیم داشت:

$$\frac{AD}{AB} = \frac{AE}{AC} = \frac{DE}{BC}$$

مسئله ۱-۱۰: ثابت کنید در دو مثلث متشابه همواره:

الف) نسبت طول نیمسازهای نظیر دو مثلث برابر نسبت تشابه دو مثلث است.

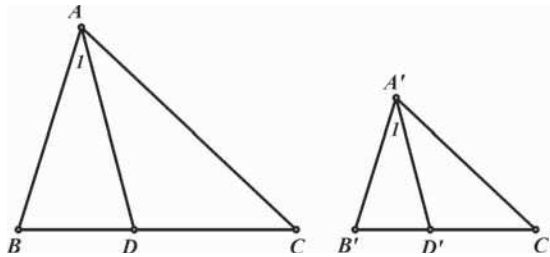
ب) نسبت طول ارتفاع‌های نظیر دو مثلث برابر نسبت تشابه دو مثلث است.

ج) نسبت مساحت دو مثلث برابر مربع نسبت تشابه دو مثلث است.

د) نسبت محیط دو مثلث برابر نسبت تشابه دو مثلث است.

الف) عدد ثابت k را برابر نسبت تشابه دو مثلث ABC و $A'B'C'$ در نظر می‌گیریم.

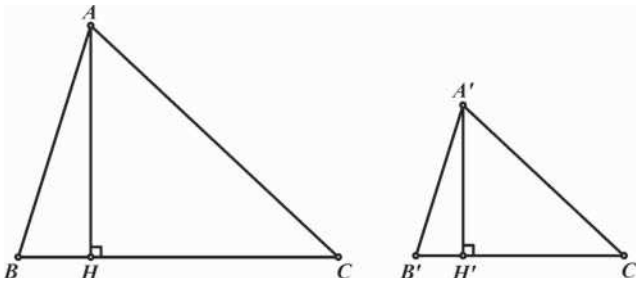
AD و $A'D'$ به ترتیب نیمسازهای داخلی دو مثلث متشابه ABC و $A'B'C'$ هستند.



$$\triangle ABC \sim \triangle A'B'C' \Rightarrow \begin{cases} \widehat{A} = \widehat{A'} \\ \widehat{B} = \widehat{B'} \end{cases} \Rightarrow \frac{\widehat{AD}}{AD} = \frac{\widehat{A'D'}}{A'D'}$$

$$\left. \begin{array}{l} \widehat{A}_1 = \widehat{A}'_1 \\ \widehat{B} = \widehat{B}' \end{array} \right\} \Rightarrow \triangle ABD \sim \triangle A'B'D' \Rightarrow \frac{AD}{A'D'} = \frac{AB}{A'B'} = k$$

ب) AH و $A'H'$ ، به ترتیب ارتفاع‌های دو مثلث مشابه ABC و $A'B'C'$ هستند.



$$\left. \begin{array}{l} \triangle ABC \sim \triangle A'B'C' \Rightarrow \widehat{B} = \widehat{B}' \\ \widehat{H} = \widehat{H}' = 90^\circ \end{array} \right\} \Rightarrow \triangle ABH \sim \triangle A'B'H'$$

$$\Rightarrow \frac{AH}{A'H'} = \frac{AB}{A'B'} = k$$

$$\frac{S_{ABC}}{S_{A'B'C'}} = \frac{\frac{1}{2}AH \cdot BC}{\frac{1}{2}A'H' \cdot B'C'} = \frac{AH}{A'H'} \cdot \frac{BC}{B'C'} = k \cdot k = k^2 \quad \text{ج)}$$

$$\Rightarrow \frac{S_{ABC}}{S_{A'B'C'}} = k^2$$

$$\frac{AB}{A'B'} = \frac{AC}{A'C'} = \frac{BC}{B'C'} = k \quad \text{د)}$$

با استفاده از خواص نسبت‌های تناسب داریم:

$$\Rightarrow \frac{AB + AC + BC}{A'B' + A'C' + B'C'} = \frac{AB}{A'B'} = k$$

مسأله ۱-۱: ثابت کنید میانه‌های هر مثلث یکدیگر را به نسبت ۲ به ۱ قطع می‌کنند.

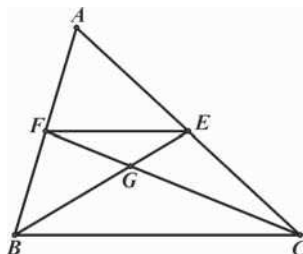
$$\text{حکم: } \frac{BG}{GE} = \frac{CG}{GF} = \frac{2}{1}$$

در مثلث ABC ، BE و CF میانه‌های مثلث هستند.

یعنی داریم:

$$AE = CE, \quad AF = BF$$

$$\Rightarrow \frac{AF}{FB} = \frac{AE}{EC} = 1$$



طبق عکس قضیه تالس نتیجه می‌گیریم که:

$$\begin{aligned} &\Rightarrow EF \parallel BC \\ &\Rightarrow \left. \begin{aligned} \widehat{AFE} = \widehat{ABC} \\ \widehat{A} = \widehat{A} \end{aligned} \right\} \Rightarrow \triangle AFE \sim \triangle ABC \Rightarrow \frac{FE}{BC} = \frac{AF}{AB} = \frac{1}{2} \end{aligned} \quad (1)$$

$$\left. \begin{aligned} EF \parallel BC \Rightarrow \widehat{EFG} = \widehat{BCG} \\ EF \parallel BC \Rightarrow \widehat{FEG} = \widehat{CBG} \end{aligned} \right\} \Rightarrow \triangle GEF \sim \triangle GBC$$

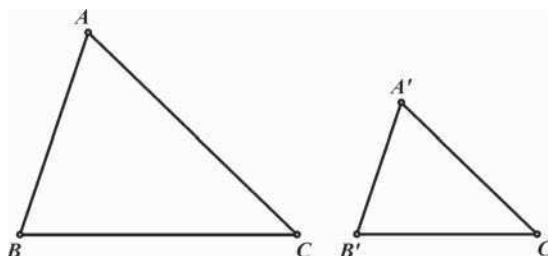
$$\Rightarrow \frac{GB}{GE} = \frac{GC}{GF} = \frac{BC}{FE}$$

$$\frac{GB}{GE} = \frac{GC}{GF} = \frac{2}{1}$$

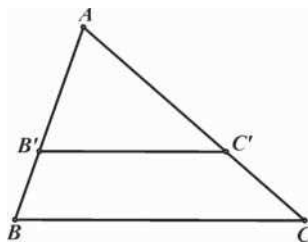
با توجه به رابطه (۱) نتیجه می‌گیریم:

ب) قضیه ۹-۱: هرگاه دو ضلع از مثلثی با دو ضلع از مثلثی دیگر متناسب باشند و زاویه بین آن‌ها نیز برابر باشد، دو مثلث متشابه هستند.

$$\left. \begin{aligned} \widehat{A} = \widehat{A'} \\ \frac{A'B'}{AB} = \frac{A'C'}{AC} \end{aligned} \right\} \Rightarrow \triangle ABC \sim \triangle A'B'C'$$



برای اثبات، مانند قسمت قبل مثلث‌ها را روی یکدیگر قرار می‌دهیم. طبق فرض و عکس قضیه تالس خواهیم داشت:

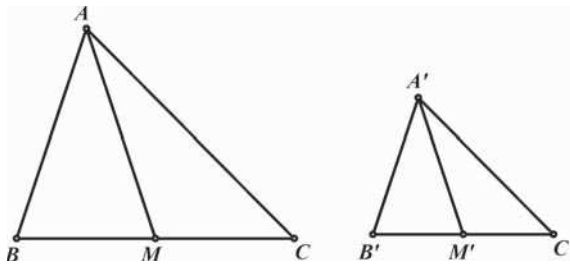


$$\frac{AB'}{AB} = \frac{AC'}{AC} \Rightarrow B'C' \parallel BC$$

$$\left. \begin{aligned} \widehat{B} = \widehat{B'} \\ \widehat{A} = \widehat{A} \end{aligned} \right\} \Rightarrow \triangle AB'C' \sim \triangle ABC$$

طبق حالت دو زاویه، دو مثلث ABC و $AB'C'$ متشابه‌اند.

مسئله ۱-۱۲: ثابت کنید در دو مثلث متشابه همواره نسبت طول میانه‌های متناظر دو مثلث برابر نسبت تشابه دو مثلث است.



عدد k را برابر نسبت تشابه دو مثلث ABC و $A'B'C'$ فرض می‌کنیم. AM و $A'M'$ به ترتیب میانه‌های دو مثلث متشابه ABC و $A'B'C'$ هستند.

$$\triangle ABC \sim \triangle A'B'C' \Rightarrow \begin{cases} \widehat{B} = \widehat{B'} \\ \frac{BC}{B'C'} = \frac{AB}{A'B'} = k \end{cases} \quad (۱)$$

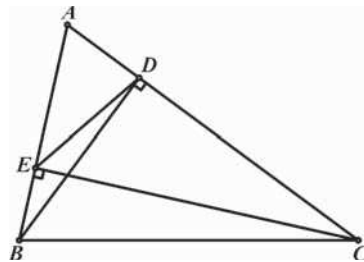
$$\frac{BM}{B'M'} = \frac{\frac{BC}{2}}{\frac{B'C'}{2}} = \frac{BC}{B'C'} = k \quad (۲)$$

با توجه به روابط (۱) و (۲) نتیجه می‌گیریم که:

$$\triangle ABM \sim \triangle A'B'M' \Rightarrow \frac{AM}{A'M'} = \frac{AB}{A'B'} = k$$

مسئله ۱-۱۳: اگر ارتفاع‌های مثلث ABC باشند، ثابت کنید: $\triangle ABC \sim \triangle ADE$

ابتدا ثابت می‌کنیم که دو مثلث ABD و ACE متشابه‌اند.



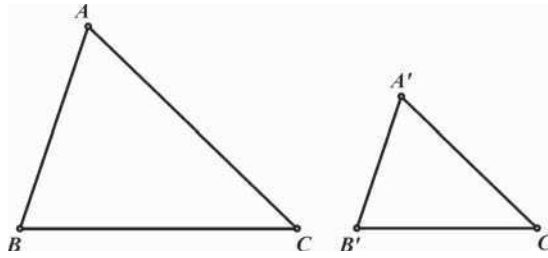
$$\left. \begin{aligned} \widehat{ADB} = \widehat{AEC} = 90^\circ \\ \widehat{A} = \widehat{A} \end{aligned} \right\} \Rightarrow \triangle ABD \sim \triangle ACE$$

$$\Rightarrow \frac{AD}{AE} = \frac{AB}{AC}$$

$$\left. \begin{aligned} \Rightarrow \frac{AD}{AB} = \frac{AE}{AC} \\ \widehat{A} = \widehat{A} \end{aligned} \right\} \Rightarrow \triangle ADE \sim \triangle ABC$$

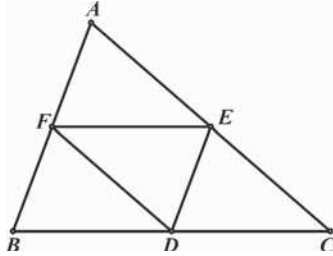
ج) قضیه ۱-۱۰: هرگاه سه ضلع از مثلثی با سه ضلع از مثلثی دیگر متناسب باشند، آن دو مثلث متشابه هستند.

$$\frac{AB}{A'B'} = \frac{AC}{A'C'} = \frac{BC}{B'C'} \Rightarrow \triangle ABC \sim \triangle A'B'C'$$



اثبات این قضیه به خود شما واگذار می‌شود.

مسئله ۱-۱۴: اگر D و E و F اوساط اضلاع مثلث ABC باشند، ثابت کنید دو مثلث DEF و ABC به نسبت ۲ به ۱ با یکدیگر متشابه‌اند.



D و E و F را به ترتیب اوساط اضلاع BC ، AC و AB می‌نامیم.

$$\begin{aligned} \frac{AF}{FB} &= \frac{AE}{EC} = 1 \Rightarrow FE \parallel BC \\ \Rightarrow \frac{FE}{BC} &= \frac{AF}{AB} = \frac{1}{2} \\ \Rightarrow BC &= 2FE \end{aligned}$$

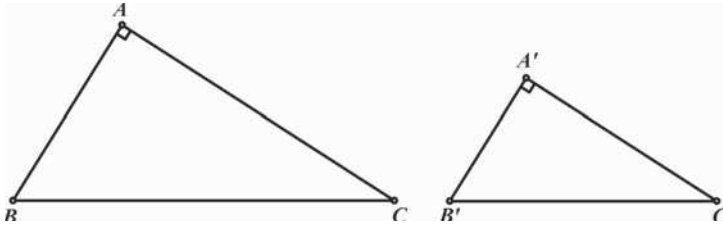
$$AC = 2DF, \quad AB = 2DE$$

به ترتیب مشابه می‌توان نشان داد که

$$\Rightarrow \frac{BC}{EF} = \frac{AC}{DF} = \frac{AB}{DE} = 2 \Rightarrow \triangle ABC \sim \triangle DEF$$

مسئله ۱-۱۵: اگر برای دو مثلث قائم‌الزاویه ABC و $A'B'C'$ ، $\widehat{A} = \widehat{A'} = 90^\circ$ داشته باشیم

$$\triangle ABC \sim \triangle A'B'C' \quad \text{ثابت کنید:} \quad \frac{AB}{A'B'} = \frac{BC}{B'C'}$$



عدد k را برابر نسبت $\frac{BC}{B'C'}$ در نظر می‌گیریم.

$$\begin{aligned} \Rightarrow \begin{cases} AB = k \cdot A'B' \Rightarrow AB^2 = k^2 \cdot A'B'^2 \\ BC = k \cdot B'C' \Rightarrow BC^2 = k^2 \cdot B'C'^2 \end{cases} \\ \Rightarrow BC^2 - AB^2 = k^2 \cdot B'C'^2 - k^2 \cdot A'B'^2 = k^2 (B'C'^2 - A'B'^2) \end{aligned}$$

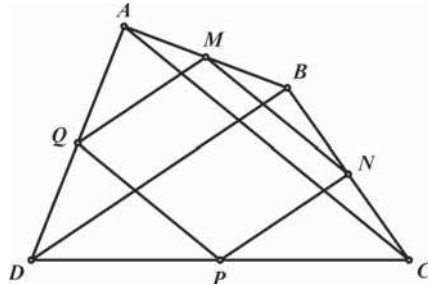
طبق قضیه فیثاغورث نتیجه می‌گیریم که:

$$AC^2 = k^2 \cdot A'C'^2 \Rightarrow \frac{AC}{A'C'} = k$$

$$\Rightarrow \frac{AB}{A'B'} = \frac{BC}{B'C'} = \frac{AC}{A'C'} = k \Rightarrow \triangle ABC \sim \triangle A'B'C'$$

مسائل

(۱) نقاط اوساط اضلاع AB, BC, CD, DA از چهارضلعی $ABCD$ را به ترتیب M, N, P, Q می‌نامیم. ثابت کنید چهارضلعی $MNPQ$ متوازی‌الاضلاع است.



برای اثبات حکم کافی است نشان دهیم اضلاع روبروی چهارضلعی $MNPQ$ دو به دو با هم موازی هستند. طبق عکس قضیه تالس داریم:

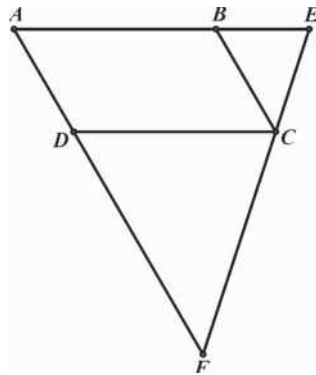
$$\left. \begin{aligned} \frac{AM}{MB} = \frac{AQ}{QD} &\Rightarrow MQ \parallel BD \\ \frac{CN}{NB} = \frac{CP}{PD} &\Rightarrow NP \parallel BD \end{aligned} \right\} \Rightarrow MQ \parallel NP$$

به همین ترتیب می‌توان ثابت کرد $MN \parallel PQ$ و بنابراین چهارضلعی $MNPQ$ متوازی‌الاضلاع است.

(۲) خط دلخواهی را از رأس C از متوازی‌الاضلاع $ABCD$ می‌گذرانیم تا امتدادهای اضلاع AB و AD

را به ترتیب در نقاط E و F قطع کند. ثابت کنید: $\frac{AB}{AE} + \frac{AD}{AF} = 1$

در مثلث AEF داریم:

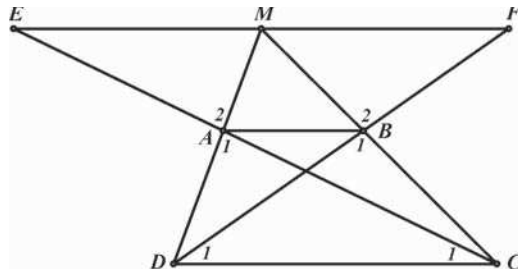


$$\left. \begin{aligned} DC \parallel AE &\Rightarrow \frac{DC}{AE} = \frac{FC}{FE} \\ AB = DC & \end{aligned} \right\} \Rightarrow \frac{AB}{AE} = \frac{FC}{FE} \quad (1)$$

$$\left. \begin{aligned} BC \parallel AF &\Rightarrow \frac{BC}{AF} = \frac{EC}{EF} \\ AD = BC & \end{aligned} \right\} \Rightarrow \frac{AD}{AF} = \frac{EC}{EF} \quad (2)$$

$$(1), (2) \Rightarrow \frac{AB}{AE} + \frac{AD}{AF} = \frac{FC}{FE} + \frac{EC}{EF} = \frac{EF}{EF} = 1$$

(۳) امتداد ساق‌های AD و BC از دوزنقه $ABCD$ یکدیگر را در M قطع می‌کنند. از خطی به موازات دو قاعده رسم می‌کنیم تا امتدادهای AC و BD را به ترتیب در E و F قطع کند. ثابت کنید: $EM = MF$



برای اثبات حکم نشان می‌دهیم $\frac{EM}{DC} = \frac{MF}{DC}$ تا حکم مسأله حاصل شود.

$$\left. \begin{array}{l} MF \parallel DC \Rightarrow \widehat{D}_1 = \widehat{F} \\ \widehat{B}_1 = \widehat{B}_2 \end{array} \right\} \Rightarrow \triangle MFB \sim \triangle DCB \Rightarrow \frac{MF}{DC} = \frac{MB}{BC} \quad (1)$$

$$\left. \begin{array}{l} EM \parallel DC \Rightarrow \widehat{C}_1 = \widehat{E} \\ \widehat{A}_1 = \widehat{A}_2 \end{array} \right\} \Rightarrow \triangle MEA \sim \triangle DCA \Rightarrow \frac{EM}{DC} = \frac{MA}{AD} \quad (2)$$

از طرفی طبق قضیه تالس در مثلث MDC داریم:

$$AB \parallel DC \Rightarrow \frac{MA}{AD} = \frac{MB}{BC} \quad (3)$$

$$(1), (2), (3) \Rightarrow \frac{MF}{DC} = \frac{EM}{DC} \Rightarrow MF = EM$$

(۴) وسط ضلع BC از مثلث ABC را M می‌نامیم. نقطه دلخواه F را بر روی AC انتخاب می‌کنیم و BF

را رسم می‌کنیم تا AM را در E قطع کند. ثابت کنید: $\frac{AF}{AC} = \frac{EF}{BE}$

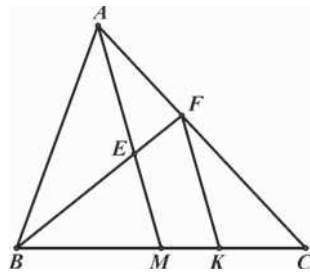
از F خطی موازی AM رسم می‌کنیم تا BC را در K قطع کند. بنا بر قضیه تالس در مثلث AMC داریم:

$$\left. \begin{array}{l} FK \parallel AM \Rightarrow \frac{AF}{AC} = \frac{MK}{MC} \\ MB = MC \end{array} \right\} \Rightarrow \frac{AF}{AC} = \frac{MK}{MB} \quad (1)$$

از طرفی بنا بر قضیه تالس در مثلث BFK داریم:

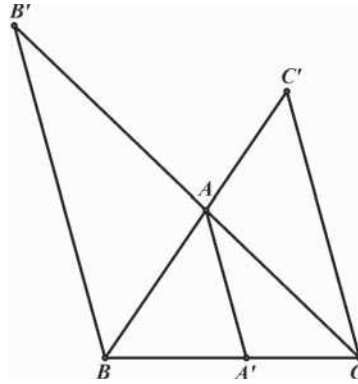
$$EM \parallel FK \Rightarrow \frac{EF}{BE} = \frac{MK}{BM} \quad (2)$$

$$(1), (2) \Rightarrow \frac{AF}{AC} = \frac{EF}{BE}$$



(۵) مثلث ABC مفروض است. سه خط موازی یکدیگر از سه رأس A, B, C می‌گذرانیم تا اضلاع مقابل یا امتداد

آنها را به ترتیب در A', B', C' قطع کند. اگر A' بین B و C باشد، ثابت کنید: $\frac{1}{AA'} = \frac{1}{BB'} + \frac{1}{CC'}$



اگر دو طرف حکم را در AA' ضرب کنیم حکم به عبارت زیر تبدیل می‌شود:

$$\frac{AA'}{BB'} + \frac{AA'}{CC'} = 1 \quad \text{حکم جدید:}$$

در مثلث CBB' داریم:

$$AA' \parallel BB' \Rightarrow \frac{AA'}{BB'} = \frac{CA'}{CB} \quad (1)$$

همچنین در مثلث BCC' داریم:

$$AA' \parallel CC' \Rightarrow \frac{AA'}{CC'} = \frac{BA'}{BC} \quad (2)$$

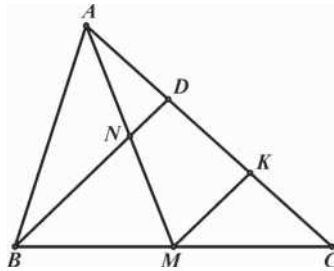
$$(1), (2) \Rightarrow \frac{AA'}{BB'} + \frac{AA'}{CC'} = \frac{CA'}{CB} + \frac{BA'}{BC} = \frac{BC}{BC} = 1$$

۶) در مثلث ABC ، M وسط ضلع BC و N وسط میانه‌ی AM است. محل تقاطع AC با امتداد BN

را D می‌نامیم. نشان دهید:

$$AD = \frac{1}{3} AC \quad \text{الف)}$$

$$ND = \frac{1}{4} BD \quad \text{ب)}$$



الف) از M خطی موازی BD رسم می‌کنیم تا AC را در K قطع کند.

$$ND \parallel MK \Rightarrow \frac{AD}{DK} = \frac{AN}{NM} = 1 \Rightarrow AD = DK \quad (1)$$

$$MK \parallel BD \Rightarrow \frac{CK}{KD} = \frac{CM}{MB} = 1 \Rightarrow CK = KD \quad (2)$$

$$AD = \frac{1}{3}AC$$

با توجه به روابط (۱) و (۲) نتیجه می‌گیریم که:

$$ND \parallel MK \Rightarrow \frac{ND}{MK} = \frac{AN}{AM} = \frac{1}{2} \quad (ب)$$

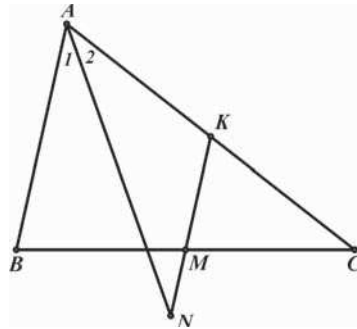
$$MK \parallel BD \Rightarrow \frac{MK}{BD} = \frac{CM}{CB} = \frac{1}{2}$$

با توجه به دو رابطه‌ی اخیر نتیجه می‌گیریم که:

$$\frac{ND}{BD} = \frac{ND}{MK} \cdot \frac{MK}{BD} = \frac{1}{2} \times \frac{1}{2} = \frac{1}{4} \Rightarrow ND = \frac{1}{4}BD$$

(۷) در مثلث ABC ، از M وسط ضلع BC ، خطی موازی AB رسم می‌کنیم تا نیمساز رأس A را در N

قطع کند. نشان دهید: $MN = \frac{|AC - AB|}{2}$



فرض می‌کنیم $AC > AB$ باشد و MN را امتداد می‌دهیم تا AC را در K قطع کند.

$$MK \parallel AB \Rightarrow \frac{CK}{KA} = \frac{CM}{MB} = 1 \Rightarrow CK = KA \quad (۱)$$

$$MK \parallel AB \Rightarrow \frac{MK}{AB} = \frac{CM}{CB} = \frac{1}{2} \Rightarrow MK = \frac{AB}{2} \quad (۲)$$

$$MK \parallel AB \Rightarrow \left. \begin{array}{l} \widehat{KNA} = \widehat{BAN} \\ \widehat{BAN} = \widehat{CAN} \end{array} \right\} \Rightarrow \widehat{KNA} = \widehat{CAN} \Rightarrow NK = KA$$

با توجه به رابطه (۱) نتیجه می‌گیریم که:

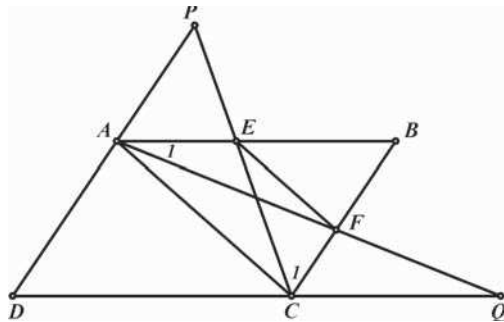
$$\Rightarrow NK = \frac{AC}{2} \quad (۳)$$

$$MN = NK - MK$$

با توجه به روابط (۲) و (۳) نتیجه می‌گیریم که:

$$MN = \frac{AC}{2} - \frac{AB}{2} = \frac{AC - AB}{2}$$

۸) خطی که موازی قطر AC از متوازی‌الاضلاع $ABCD$ رسم می‌شود، اضلاع AB و BC را در E و F قطع می‌کند. محل برخورد دو خط CE و AD را P و محل برخورد دو خط AF و DC را Q می‌نامیم. ثابت کنید خط PQ نیز با قطر AC موازی است.



برای اثبات موازی دو خط AC و PQ در مثلث DPQ کافی است ثابت کنیم: $\frac{DA}{AP} = \frac{DC}{CQ}$

$$\left. \begin{array}{l} AB \parallel CQ \Rightarrow \widehat{A} = \widehat{Q} \\ \widehat{AFB} = \widehat{CFQ} \end{array} \right\} \Rightarrow \triangle AFB \sim \triangle CFQ$$

$$\Rightarrow \frac{AB}{CQ} = \frac{BF}{FC} \Rightarrow \frac{DC}{CQ} = \frac{BF}{FC} \quad (1)$$

$$\left. \begin{array}{l} BC \parallel AP \Rightarrow \widehat{P} = \widehat{C} \\ \widehat{PEA} = \widehat{BEC} \end{array} \right\} \Rightarrow \triangle PEA \sim \triangle BEC$$

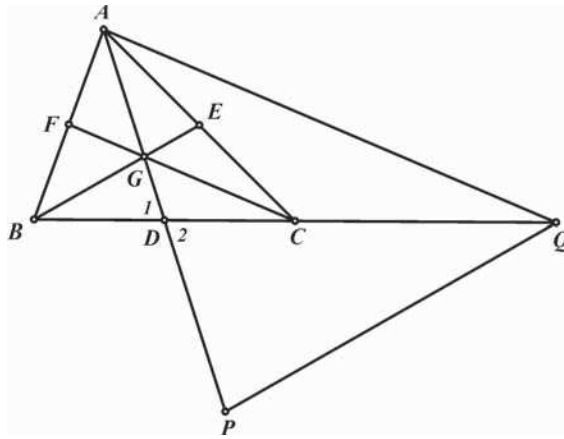
$$\Rightarrow \frac{CB}{AP} = \frac{BE}{AE} \Rightarrow \frac{DA}{AP} = \frac{BE}{AE} \quad (2)$$

طبق قضیه تالس در مثلث ABC داریم:

$$EF \parallel AC \Rightarrow \frac{BF}{FC} = \frac{BE}{AE} \quad (3)$$

از سه رابطه (۱) و (۲) و (۳) نتیجه می‌شود $\frac{DC}{CQ} = \frac{DA}{AP}$ بنابراین طبق عکس قضیه تالس AC و PQ با یکدیگر موازی‌اند.

۹) در مثلث ABC ، A را نسبت به نقطه‌ی وسط BC ، قرینه می‌کنیم تا P و نقطه‌ی B را نسبت به C قرینه می‌کنیم تا Q بدست آید. ثابت کنید که اضلاع مثلث APQ دو برابر میانه‌های مثلث ABC است. در مثلث ABC ، D و E و F را به ترتیب اوساط اضلاع BC و AC و AB می‌نامیم. بدیهی است که AP دو برابر میانه‌ی AD است.



طبق عکس قضیه تالس داریم:

$$\frac{BF}{FA} = \frac{BC}{CQ} = 1$$

$$\Rightarrow FC \parallel AQ \Rightarrow \frac{FC}{AQ} = \frac{BF}{AB} = \frac{1}{2} \Rightarrow AQ = 2FC$$

پس AQ نیز دو برابر میانه‌ی FC است.

می‌دانیم که میانه‌ها یکدیگر را به نسبت ۲ به ۱ در نقطه‌ای مانند G قطع می‌کنند بنابراین داریم:

$$BG = \frac{2}{3}BE \quad (1)$$

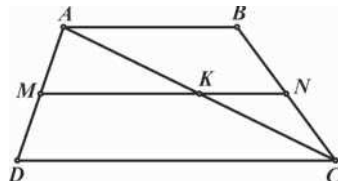
$$\left. \begin{array}{l} GD = \frac{1}{3}AD \Rightarrow \frac{GD}{AD} = \frac{1}{3} \\ AD = DP \end{array} \right\} \Rightarrow \frac{GD}{DP} = \frac{1}{3}$$

$$\left. \begin{array}{l} \frac{GD}{DP} = \frac{1}{3} \\ \frac{BD}{DQ} = \frac{1}{3} \\ \widehat{D_1} = \widehat{D_2} \end{array} \right\} \Rightarrow \triangle BGD \sim \triangle PQD \Rightarrow \frac{BG}{PQ} = \frac{1}{3}$$

اگر BG را از رابطه (۱) در رابطه فوق جایگزین کنیم PQ هم دو برابر میانه BE خواهد شد.

$$\frac{\frac{2}{3}BE}{PQ} = \frac{1}{3} \Rightarrow \frac{BE}{PQ} = \frac{1}{2} \Rightarrow PQ = 2BE$$

(۱) اگر نقاط M و N اوساط ساق‌های AD و BC از دوزنقه $ABCD$ باشند ثابت کنید:



$$MN \parallel AB \parallel CD \quad (\text{الف})$$

$$MN = \frac{AB + CD}{2} \quad (\text{ب})$$

(الف) برای اثبات حکم، M را نقطه وسط ساق AD در نظر می‌گیریم و از نقطه M خطی به موازات قاعده‌ها رسم می‌کنیم تا ساق BC را در N قطع کند و نشان می‌دهیم که N وسط BC است.

$$MK \parallel DC \Rightarrow \frac{AK}{KC} = \frac{AM}{MD} \Rightarrow \frac{AK}{KC} = 1$$

$$KN \parallel AB \Rightarrow \frac{BN}{NC} = \frac{AK}{KC} \Rightarrow \frac{BN}{NC} = 1 \Rightarrow BN = NC$$

$$MK \parallel DC \Rightarrow \triangle AMK \sim \triangle ADC \Rightarrow \frac{MK}{DC} = \frac{AM}{AD} = \frac{1}{2} \quad (\text{ب})$$

$$\Rightarrow MK = \frac{1}{2}DC$$

$$NK \parallel AB \Rightarrow \triangle CNK \sim \triangle CBA \Rightarrow \frac{NK}{AB} = \frac{CN}{CB} = \frac{1}{2}$$

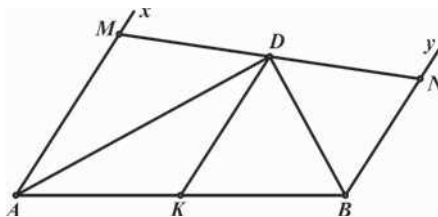
$$\Rightarrow NK = \frac{1}{2}AB$$

و با جمع کردن طرفین دو رابطه فوق حکم نتیجه می‌شود:

$$MN = \frac{1}{2}(DC + AB)$$

(۱۱) دو نیم خط موازی Ax و By را از دو سر پاره خط AB و در یک طرف آن رسم می‌کنیم. نقاط M و

N را به ترتیب روی این دو نیم خط طوری انتخاب می‌کنیم که $AM + BN = AB$. اگر D وسط MN باشد، ثابت کنید زاویه ADB قائمه است.



برای اثبات قائم‌الزاویه بودن مثلث ADB ، میانه DK را رسم کرده و ثابت می‌کنیم این میانه نصف ضلع AB است.

در دوزنقه $ABNM$ خط DK اوساط دو ساق غیر موازی را به هم وصل کرده است. پس بنا بر مسأله قبل داریم:

$$DK = \frac{AM + BN}{2} = \frac{AB}{2}$$

پس میانه DK نصف ضلع AB بوده و مثلث ADB قائم‌الزاویه است.