

پ. ای مطالعه

### اعداد طبیعی، اعداد صحیح و اعداد گویا

**اعداد طبیعی (N):** عددهای ۱، ۲، ۳، ۴، ۵، ... که از آن‌ها برای شمارش اشیاء استفاده می‌شود، عددهای طبیعی نام دارند. با داشتن یک مقیاس به عنوان واحد از شمارش برای اندازه‌گیری می‌توان استفاده کرد.

**نکته:**

- مجموع دو عدد طبیعی فرد یا دو عدد طبیعی زوج، یک عدد طبیعی زوج است و مجموع یک عدد طبیعی فرد و یک عدد طبیعی زوج، عددی فرد می‌باشد.
  - حاصل ضرب دو عدد طبیعی فرد، فرد است. اما حاصل ضرب هر عدد زوج در هر عدد طبیعی (زوج یا فرد)، عددی طبیعی و زوج می‌باشد.
- اعداد صحیح (Z):** با انتخاب نقطه‌ای روی یک خط افقی به عنوان مبدأ و تقسیم نیم‌خط راست به پاره‌خطهایی به طول واحد، یک محور اعداد می‌توان ساخت به طوری که مبدأ را متناظر با عدد صفر و نقاط ایجاد شده توسط پاره‌خطها را به ترتیب از چپ به راست متناظر با اعداد طبیعی ۱، ۲، ۳، ... در نظر می‌گیریم. حال اگر قرینه‌ی هر عدد طبیعی مانند  $a$  را نسبت به مبدأ با  $-a$  نمایش دهیم، در این صورت فاصله‌ی نقطه‌ی نمایش عدد طبیعی  $a$  و قرینه‌اش  $-a$  تا مبدأ برابر است. به این ترتیب مجموعه‌ی اعداد طبیعی به همراه قرینه‌هایشان و عدد صفر را اعداد صحیح می‌نامند.

**تذکر:** قرینه‌ی اعداد طبیعی را اعداد صحیح منفی می‌نامند و اعداد صحیح نامنفی (اعداد طبیعی به همراه صفر) را اعداد حسابی (W) می‌گویند.

**نکته:**

- قرینه‌ی هر عدد صحیح، عددی صحیح می‌باشد و مجموع هر عدد صحیح با قرینه‌اش، برابر صفر است.
- حاصل ضرب هر دو عدد صحیح مثبت یا هر دو عدد صحیح منفی مثبت است، اما حاصل ضرب یک عدد صحیح مثبت در یک عدد صحیح منفی، عددی صحیح و منفی است.

**اعداد گویا (Q):** اگر روی محور اعداد هر پاره‌خط به ابتدای مبدأ و انتهای یک عدد صحیح به چند قسمت مساوی تقسیم گردد، نقاط تازه‌ای به دست می‌آیند که متناظر با اعداد گویا می‌باشند که به شکل یک کسر نوشته می‌شوند.

**نکته:**

- اعداد گویا در واقع از تقسیم یک عدد صحیح بر یک عدد طبیعی به دست می‌آیند.
- هر عدد طبیعی، یک عدد صحیح و هر عدد صحیح، یک عدد گویا (با مخرج ۱) است.
- هر عدد گویا را به بی‌شمار شکل می‌توان نشان داد، به طور مثال:

$$\frac{1}{3} = \frac{2}{6} = \frac{3}{9} = \dots$$

**مقایسه‌ی اعداد گویا:** برای مقایسه‌ی دو عدد گویا، پس از هم مخرج کردن آن‌ها (به شکل یک عدد طبیعی)، عددی را به عنوان عدد بزرگ‌تر معرفی کنیم که صورت آن بزرگ‌تر باشد. توجه کنید که بین دو عدد صحیح منفی، عددی بزرگ‌تر است که قرینه‌اش از قرینه‌ی عدد دیگر کوچک‌تر باشد. (به مبدأ نزدیک‌تر باشد).

$$a < b < 0 \Leftrightarrow -a > -b > 0$$

**مثال:** اعداد گویای  $\frac{3}{4}$ ،  $-\frac{3}{5}$ ،  $\frac{5}{7}$ ،  $-\frac{1}{3}$  را از کوچک به بزرگ مرتب کنید.

**پاسخ:** ابتدا اعداد گویای منفی و سپس اعداد گویای مثبت را با هم مقایسه می‌کنیم:

$$\left. \begin{array}{l} \left\{ \begin{array}{l} \frac{-1}{3} = \frac{-5}{15} \\ \frac{-3}{5} = \frac{-9}{15} \end{array} \right\} \xrightarrow{5 < 9} \frac{-5}{15} > \frac{-9}{15} \Rightarrow -\frac{1}{3} > -\frac{3}{5} \quad (1) \\ \left\{ \begin{array}{l} \frac{5}{7} = \frac{20}{28} \\ \frac{3}{4} = \frac{21}{28} \end{array} \right\} \xrightarrow{21 > 20} \frac{21}{28} > \frac{20}{28} \Rightarrow \frac{3}{4} > \frac{5}{7} \quad (2) \end{array} \right\} \Rightarrow -\frac{3}{5} < -\frac{1}{3} < \frac{5}{7} < \frac{3}{4}$$

**اعمال ریاضی روی اعداد گویا: ۱** برای جمع و تفریق دو عدد گویا ابتدا آن‌ها را هم‌مخرج می‌کنیم، سپس صورت‌ها را با هم جمع یا تفریق کرده و بر یکی از مخرج‌ها تقسیم می‌کنیم.

**نتیجه:** مجموع و تفاضل دو عدد گویا عددی گویا است.

**۲** برای ضرب دو عدد گویا کافی است، صورت‌ها را در هم و مخرج‌ها را نیز در هم ضرب کنیم. اما برای تقسیم دو عدد گویا عدد اول را در معکوس عدد (ناصفر) دوم ضرب می‌کنیم.

$$\left(\frac{a}{b} \times \frac{b}{a} = 1\right) \text{ است که داریم: } \frac{b}{a} \text{ برابر با } \frac{a}{b} \text{ (} a, b \neq 0 \text{)}$$

**نتیجه:** حاصل ضرب هر دو عدد گویا و حاصل تقسیم هر عدد گویا بر هر عدد گویای مخالف صفر، عددی گویا است.

**۳** برای محاسبه‌ی یک عبارت ریاضی که شامل جمع، تفریق، ضرب و تقسیم است، اولاً عملیات‌های داخل پرانتز در اولویت‌اند، ثانیاً به ترتیب از چپ به راست ابتدا اعمال ضرب و تقسیم و سپس اعمال جمع و تفریق را انجام می‌دهیم.

**به‌دست آوردن اعداد گویای بین دو عدد گویا:** برای به‌دست آوردن یک یا چند عدد گویا بین دو عدد گویا بهتر است بدانید که:

**۱** میانگین دو عدد گویا همواره بین آن‌ها قرار دارد:

$$\frac{a}{b} < \frac{c}{d} \Rightarrow \frac{a}{b} < \frac{\frac{a}{b} + \frac{c}{d}}{2} < \frac{c}{d}$$

**۲** عدد گویای  $\frac{a+c}{b+d}$  بین دو عدد گویای  $\frac{a}{b}$  و  $\frac{c}{d}$  قرار دارد:

$$\frac{a}{b} < \frac{c}{d} \Rightarrow \frac{a}{b} < \frac{a+c}{b+d} < \frac{c}{d}$$

**۳** اگر دو عدد گویا مخرج مساوی داشته باشند، هر عدد گویایی که صورت‌اش عددی بین صورت‌های دو عدد گویا باشد، بین آن‌ها قرار دارد:

$$\frac{a}{b} < \frac{a+n}{b} \Rightarrow \frac{a}{b} < \frac{a+1}{b} < \frac{a+2}{b} < \dots < \frac{a+(n-1)}{b} < \frac{a+n}{b}$$

**سؤال:** دانش‌پژوه (فورشید فریار): اگه بعد از هم‌مخرج کردن کسرهای صورت‌ها دو عدد متوالی باشن، اون وقت چه‌طوری بینشون اعداد گویا بنویسیم؟

**پاسخ:** آخرین سؤال فوبی پرسیری. این نکته رو یادت باشه:

**نکته:** اگر بخواهیم بین دو عدد گویای هم‌مخرج با صورت‌های متوالی،  $n$  عدد گویای دیگر بنویسیم، کافی است صورت و مخرج را در  $(n+1)$  ضرب کنیم.

**مثال:** سه عدد گویا بین اعداد گویای  $\frac{2}{5}$  و  $\frac{3}{7}$  بنویسید.

**پاسخ:** ابتدا مخرج اعداد داده شده را مساوی می‌کنیم:

$$\frac{2}{5} = \frac{14}{35}, \quad \frac{3}{7} = \frac{15}{35}$$

سپس صورت و مخرج اعداد گویای داده شده را در  $4 = 3 + 1$  ضرب می‌کنیم، داریم:

$$\left\{ \begin{array}{l} \frac{2}{5} = \frac{14 \times 4}{35 \times 4} = \frac{56}{140} \\ \frac{3}{7} = \frac{15 \times 4}{35 \times 4} = \frac{60}{140} \end{array} \right. \Rightarrow \frac{2}{5} = \frac{56}{140} < \frac{57}{140} < \frac{58}{140} < \frac{59}{140} < \frac{60}{140} = \frac{3}{7}$$

سه عدد گویای مورد نظر

**نتیجه:** بین دو عدد گویا بی‌شمار عدد گویای دیگر موجود است.

۱- تعداد اعداد طبیعی فرد بزرگ‌تر از ۲۷۸ و کوچک‌تر از ۳۱۲ کدام است؟

۱۹ (۴)

۱۸ (۳)

۱۷ (۲)

۱۶ (۱)

۲- چند مستطیل با ابعاد طبیعی و مساحت ۷۲ متر مربع وجود دارد؟

۸ (۴)

۷ (۳)

۶ (۲)

۵ (۱)

۳- اگر نقطه‌ی A روی محور اعداد متناظر با عدد ۲ و فاصله‌اش با نقطه‌ی B که در سمت چپ آن قرار دارد، ۳ باشد، طول پاره‌خط BC چه قدر است؟ (C قرینه‌ی نقطه‌ی B نسبت به مبدأ است.)

۱ (۴)

۲ (۳)

۵ (۲)

۱۰ (۱)

۴- فاصله‌ی دو عدد  $2a$  و  $a-6$  تا مبدأ با هم برابر است. مقدار a کدام است؟

-۳ (۴)

۳ (۳)

-۲ (۲)

۲ (۱)

۵- کدام عدد کوچک تر است؟

$$\frac{1}{2} \quad (۱) \quad -\frac{2}{3} \quad (۲) \quad -\frac{3}{5} \quad (۳) \quad -\frac{5}{7} \quad (۴)$$

(سراسری فنیمرفه‌ای ۸۷)

۶- حاصل  $\frac{5}{42} - \frac{23}{231}$  کدام است؟

$$\frac{7}{143} \quad (۱) \quad \frac{3}{154} \quad (۲) \quad \frac{9}{147} \quad (۳) \quad \frac{7}{154} \quad (۴)$$

۷- حاصل عبارت  $\frac{(2\frac{4}{3}) \div (-3\frac{1}{3})}{(-\frac{7}{4} + \frac{3}{5}) \div \frac{23}{20}}$  کدام است؟

$$۱ \quad (۱) \quad -۱ \quad (۲) \quad \frac{1}{2} \quad (۳) \quad -\frac{1}{2} \quad (۴)$$

(آزاد فنیمرفه‌ای ۸۳)

۸- به ازای چه مقدار  $a$ ، عدد گویای  $\frac{a}{4}$  بین  $\frac{1}{3}$  و  $\frac{2}{5}$  قرار می‌گیرد؟

$$۱۱ \quad (۱) \quad ۹ \quad (۲) \quad ۷ \quad (۳) \quad ۳ \quad (۴)$$

۹- به منظور معرفی تنها سه عدد گویا بین  $\frac{1}{5}$  و  $\frac{1}{3}$ ، پس از به دست آوردن کوچک ترین مخرج مساوی برای آن‌ها، صورت و مخرج هر کسر در کدام عدد باید ضرب شود؟

$$۲ \quad (۱) \quad ۳ \quad (۲) \quad ۴ \quad (۳) \quad ۵ \quad (۴)$$

۱۰- کسر  $\frac{p}{q}$  برابر کسر  $\frac{495}{1155}$  می‌باشد. اگر  $p$  و  $q$  اعداد طبیعی باشند، کوچک ترین مقدار  $p + q$  چه قدر است؟

$$۱۰ \quad (۱) \quad ۱۱ \quad (۲) \quad ۱۲ \quad (۳) \quad ۱۳ \quad (۴)$$

۱۱- مبلغ ۵۴ میلیون تومان را به نسبت  $\frac{1}{6}$ ،  $\frac{1}{3}$  و  $\frac{1}{2}$  تقسیم کرده‌ایم. تفاوت بیشترین سهم از کم ترین سهم چند میلیون تومان است؟

$$۱۵ \quad (۱) \quad ۱۶ \quad (۲) \quad ۱۷ \quad (۳) \quad ۱۸ \quad (۴)$$

(سراسری فنیمرفه‌ای ۷۸)

## درسنامه‌ی ۲

### نمایش اعشاری و اعداد اعشاری

برای نوشتن اعداد طبیعی از دستگاه ده‌دهی استفاده می‌کنیم که این شیوه از نمایش اعداد طبیعی را نمایش اعشاری آن‌ها می‌نامند. به‌طور مثال:

$$۱۴۷۲ = ۱ \times ۱۰^۳ + ۴ \times ۱۰^۲ + ۷ \times ۱۰ + ۲ \times ۱$$

مرتبه یکان      مرتبه دهگان      مرتبه صدگان      مرتبه هزارگان

**سؤال:** دانش‌پژوه (نیره فرابفشی): آگه عدد ما کوچک‌تر از ۱ بود، اونو چه طوری نمایش بدیم؟

**پاسخ:** سؤال فوبیه! برای این اعداد، ارزش‌های مکانی به اندازه‌ی  $\frac{1}{10}$ ،  $\frac{1}{100}$ ،  $\frac{1}{1000}$  و ... رو در نظر می‌گیریم. مثلاً عدد  $۴/۰۵$  رو به صورت زیر نشون میریم:

$$۴/۰۵ = ۴ + ۰ \times \frac{1}{10} + ۵ \times \frac{1}{100} = \frac{۴ \times ۱۰۰ + ۰ \times ۱۰ + ۵}{۱۰۰} = \frac{۴۰۵}{۱۰۰}$$

مرتبه یکان      مرتبه  $\frac{1}{10}$       مرتبه  $\frac{1}{100}$

برخی از اعداد گویای مثبت را می‌توان به‌صورت مجموع یک عدد صحیح و یک کسر که مخرج آن توانی از  $۱۰$  است، نمایش داد. این اعداد گویا و قرینه‌ی آن‌ها را اعداد اعشاری می‌نامند.

**نکته:** مجموع، تفاضل و حاصل ضرب هر دو عدد اعشاری، همواره عددی اعشاری است، اما حاصل تقسیم دو عدد اعشاری ممکن است اعشاری باشد یا نباشد. به‌طور مثال حاصل  $۰/۷۵ = ۰/۸ \div ۰/۸$  عددی اعشاری است ولی حاصل  $۰/۷ \div ۰/۳$  عددی اعشاری نیست.

**سؤال:** دانش‌پژوه (کلسا جواتگیری): ببخشید چرا  $۰/۸۵۷ \div ۰/۷ = ۰/۱۲۲۷$  اعشاری نیست؟ ممیز که داره!

**پاسخ:** کی گفته هر عددی که ممیز داشته باشه، عدد اعشاریه؟ آگه ارقام بعد از ممیز به جایی تموم بشه، بله عدد اعشاریه و گویا هم هست، اما آگه تموم نشه، اعشاری نیست. در واقع باید بگیم هر عدد اعشاری یک عدد گویا هست اما هر عدد گویا لزوماً اعشاری نیست.

در یک عدد اعشاری مثبت، عدد حسابی قبل از ممیز را قسمت صحیح آن عدد اعشاری نامیده و با قرار دادن صفر به جای قسمت صحیح، عدد اعشاری ساخته شده را قسمت اعشاری آن عدد می‌نامند. مثلاً  $۲۷۵$  قسمت صحیح و  $۰/۳۸۲۲$  قسمت اعشاری عدد  $۲۷۵/۳۸۲۲$  هستند.

**نکته:** عددهای طبیعی هم اعداد اعشاری اند که قسمت اعشاری آن‌ها صفر است.

**تذکر:** صفرهایی که در سمت راست قسمت اعشاری قرار می‌گیرند را می‌توان حذف کرد. به طور مثال دو عدد  $۰/۱۷$  و  $۰/۱۷۰$  با هم مساوی هستند.

**مقایسه اعداد اعشاری:** برای مقایسه‌ی اعداد اعشاری مثبت با قسمت‌های صحیح مساوی، رقم‌های بعد از ممیز را به ترتیب از چپ به راست مقایسه می‌کنیم، هر کدام که بزرگ‌تر بود، آن عدد بزرگ‌تر است.

به‌طور مثال در دو عدد  $۰/۳۵$  و  $۰/۳۶$  اولین رقم بعد از ممیز در آن‌ها مساوی است، پس رقم بعدی را مقایسه می‌کنیم. چون  $۵ < ۶$ ، پس:

$$۰/۳۶ > ۰/۳۵$$

**جمع و تفریق اعداد اعشاری:** در جمع و تفریق اعداد اعشاری، آن‌ها را طوری زیر هم می‌نویسیم که ممیزهایشان زیر هم قرار گیرد و سپس طبق قواعد جمع و تفریق عددهای طبیعی و حفظ ممیز در جای خود، آن‌ها را جمع و تفریق می‌کنیم. به طور مثال:

$$\begin{array}{r} ۲/۳۲۴۰۸ \\ + ۲۰۹/۷۰۹ \\ \hline ۲۱۲/۰۳۳۰۸ \end{array}$$

**ضرب و تقسیم اعداد اعشاری:** برای ضرب دو عدد اعشاری، ابتدا با نادیده گرفتن ممیزهایشان آن‌ها را در هم ضرب می‌کنیم. سپس در عدد حاصل، به اندازه‌ی مجموع تعداد ارقام بعد از ممیز آن‌ها، رقم‌های سمت راست را بعد از ممیز قرار می‌دهیم. به طور مثال:

$$\begin{array}{r} ۴۱/۳۰۲ \\ \times ۳/۴۱۸۹ \\ \hline ۱۴۱/۲۰۷۴۰۷۸ \end{array}$$

در تقسیم اعداد اعشاری، ابتدا آن‌ها را به صورت کسر می‌نویسیم و سپس با معکوس کردن کسر دوم، تقسیم را به ضرب تبدیل می‌کنیم. به طور مثال:

$$۱۲ \div ۱/۲ = \frac{۱۲}{۱} \div \frac{۱}{۲} = \frac{۱۲}{۱} \times \frac{۲}{۱} = ۲۴$$

**ضرب و تقسیم یک عدد اعشاری در  $۱۰$ ،  $۱۰^۲$ ،  $۱۰^۳$  و ...:** وقتی یک عدد اعشاری را در توانی از  $۱۰$  ضرب می‌کنیم، به اندازه‌ی توان  $۱۰$ ، یعنی  $۱$ ،  $۲$ ،  $۳$  و ...، ممیز را به جلو، یعنی سمت راست عدد می‌بریم. به طور مثال داریم:

$$\frac{۱۲/۵۷۸ \times ۱۰^۲}{\rightarrow} = ۱۲۵۷/۸$$

۲ رقم به جلو

در هنگام تقسیم، به اندازه‌ی توان  $۱۰$ ، ممیز را به عقب، یعنی سمت چپ عدد می‌بریم. به طور مثال:

$$\frac{۳۸/۷۴ \div ۱۰^۳}{\leftarrow} = ۰/۰۳۸۷۴$$

۳ رقم به عقب

۱۲- قسمت صحیح و اعشاری حاصل  $۳/۱۲ \times ۰/۵۲$  به ترتیب از راست به چپ، در کدام یک از گزینه‌های زیر آمده است؟

- (۱) صفر و  $۰/۱۶۶۴$  (۲)  $۰/۶۶۴$  و  $۱$  (۳) صفر و  $۰/۰۱۶۶۴$  (۴)  $۱$  و  $۰/۱۶۶۴$

۱۳- حاصل عبارت  $(۳/۱۸ \div ۱۰) - (۰/۰۲ \times ۳/۲۶)$  برابر کدام است؟

- (۱)  $۱/۱۷۳۶$  (۲)  $۰/۳۱۴۸$  (۳)  $۰/۴۴۵۲$  (۴)  $۱/۰۷۳۶$

۱۴- حاصل عبارت  $۴/۲۹۳ \times ۲ \div ۳ - ۵$  کدام است؟

- (۱)  $-۲/۸۶۲$  (۲)  $-۳/۸۶۲$  (۳)  $-۲/۱۳۸$  (۴)  $-۳/۱۳۸$

۱۵- کدام یک از اعداد زیر از بقیه بزرگ‌تر است؟

- (۱)  $۸/۷ \times ۱۰^۲$  (۲)  $۹۰/۱ \times ۱۰$  (۳)  $۸۷۰$  (۴)  $۰/۹ \times ۱۰۰$

۱۶- یک ظرف آب به ظرفیت  $۲۰۰$  سانتی‌متر مکعب که  $۱۸۰$  سانتی‌متر مکعب آب درون آن است را در مقابل آفتاب قرار داده‌ایم. اگر  $۱۵\%$  حجم آب آن بخار شود، آب باقی‌مانده چند درصد حجم ظرف را اشغال کرده است؟

- (۱)  $۷۰$  (۲)  $۷۶/۵$  (۳)  $۸۳$  (۴)  $۸۹/۵$

### درسنامه‌ی ۳

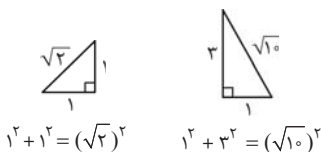
#### اعداد حقیقی

بر روی محور اعداد، اعدادی وجود دارند که نمی‌توان آن‌ها را به شکل تقسیم عددی صحیح بر عددی طبیعی نشان داد، یعنی این اعداد گویا نیستند. چنین اعدادی را اعداد گنگ می‌نامند، مانند  $\sqrt{۲}$  و  $\pi$ .

**نکته:** تمام اعداد رادیکالی که عدد زیر رادیکال آن‌ها مربع کامل هیچ عددی نیست، جزء عددهای گنگ اند، مثل  $\sqrt{15}$ .

عددهای گویا و گنگ را با هم اعداد حقیقی می‌گویند و آن را با  $\mathbb{R}$  نشان می‌دهند.

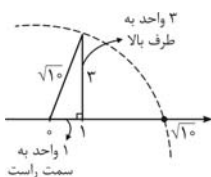
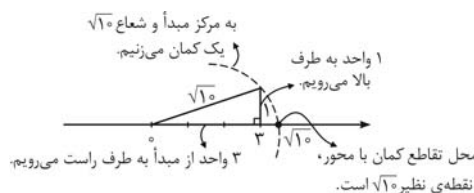
مثلث‌های قائم‌الزاویه روبه‌رو را که در آن‌ها یکی از اضلاع قائمه ۱ و دیگری بزرگ‌تر مساوی ۱ می‌باشد، در نظر بگیرید. می‌دانیم که در هر مثلث قائم‌الزاویه با استفاده از رابطه فیثاغورس می‌توان طول ضلع یا وتر آن را به دست آورد.



حال با استفاده از این خاصیت می‌توانیم نقاط نظیر برخی از اعداد گنگ مانند  $\sqrt{2}$ ،  $\sqrt{10}$  و... را روی محور نشان دهیم.

**مثال:** عدد  $\sqrt{10}$  را روی محور نشان دهید.

**پاسخ:** برای نشان دادن عدد  $\sqrt{10}$  به صورت زیر عمل می‌کنیم:



**سؤال:** دانش‌پژوه (کریم شاکری): اجازه! ما این طوری  $\sqrt{10}$  رو روی محور نشون دادیم، درسته؟

**پاسخ:** آفرین! بله، روش شما کاملاً درسته.

**نکته:**

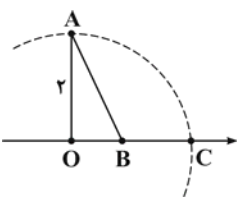
۱ حاصل جمع یا تفریق یک عدد گویا با یک عدد گنگ همواره عددی گنگ است.

۲ مجموع و تفاضل دو عدد گنگ، ممکن است گنگ  $(-\sqrt{2} + \sqrt{2} = -\sqrt{2})$  و یا گویا  $(1 - \sqrt{2} + \sqrt{2} = 1)$  باشد.

۳ حاصل ضرب و تقسیم دو عدد گنگ، ممکن است گنگ  $(\sqrt{2} \times \sqrt{3} = \sqrt{6})$  و یا گویا  $(\sqrt{2} \times 2\sqrt{2} = 4)$  باشد.

۴ حاصل ضرب یک عدد گنگ در یک عدد گویای غیرصفر، همواره عددی گنگ است.

**تذکره:** برای نشان دادن اعداد گنگی که از جمع یا تفریق یک عدد گویای غیرصفر با یک عدد گنگ حاصل شده‌اند، کافی است به جای رسم کمان به مرکز مبدأ، به مرکز آن عدد گویا کمان رسم کنیم.



**مثال:** اگر در شکل مقابل، نقطه‌ی B متناظر با عدد ۱ روی محور اعداد باشد و B شعاع AB کمانی

رسم کنیم تا محور را در نقطه‌ی C قطع کند، C متناظر با چه عددی است؟ ( $OA = 2$  و O مبدأ است).

**پاسخ:** مثلث AOB قائم‌الزاویه است، پس طبق قضیه فیثاغورس داریم:

$$AB^2 = OA^2 + OB^2 = 2^2 + 1^2 = 4 + 1 = 5 \Rightarrow AB = \sqrt{5}$$

پس کمان به مرکز B و شعاع  $\sqrt{5}$  محور را در  $1 + \sqrt{5}$  و  $1 - \sqrt{5}$  قطع می‌کند که اولی در سمت راست و دومی در سمت چپ B است. چون مطابق شکل، C در سمت راست B است، پس  $1 + \sqrt{5}$  را نشان می‌دهد.

۱۷- بین  $\pi$  و ۳/۱۴ چند عدد گویا وجود دارد؟

- (۱) صفر      (۲) ۱      (۳) ۲      (۴) بی‌شمار

۱۸- کدام یک از اعداد زیر، روی محور اعداد در سمت چپ اعداد دیگر قرار می‌گیرد؟

- (۱)  $\sqrt{2}$       (۲)  $\sqrt{2} - \frac{1}{3}$       (۳)  $-1 + \sqrt{2}$       (۴)  $\frac{3}{2}$

۱۹- در شکل مقابل، عدد متناظر با نقطه‌ی A کدام است؟

- (۱)  $1 + \sqrt{3}$       (۲)  $2 + \sqrt{2}$       (۳)  $2 + \sqrt{3}$       (۴)  $3 + \sqrt{2}$



۲۰- چند مثلث قائم‌الزاویه وجود دارد که طول یک ضلع آن  $\sqrt{5}$  و طول دو ضلع دیگر آن اعداد طبیعی باشند؟

- (۱) صفر      (۲) ۱      (۳) ۲      (۴) ۳

## درسنامه ۴

## تقریب‌های اعشاری اعداد حقیقی

می‌دانیم برخی اعداد حقیقی را می‌توان به صورت عددهای اعشاری نشان داد، ولی برخی دیگر مانند  $\frac{3}{14}$  و  $\sqrt{3}$  و  $\pi$  و  $1/...$  را نمی‌توان به این شکل نمایش داد. برای این دسته دوم از اعداد حقیقی می‌توان تقریب‌هایی اعشاری به دست آورد. هرچه تعداد ارقام بعد از ممیز در این تقریب‌ها بیشتر باشد، تقریب به عدد حقیقی مورد نظر نزدیک‌تر و دقت تقریب بالاتر است. این نوع تقریب را تقریب زدن به روش قطع کردن می‌گویند. به‌طور مثال، برای به دست آوردن تقریب اعشاری عدد حقیقی  $\frac{3}{14}$  تا ۴ رقم اعشار، ۳ را بر ۱۴ تقسیم می‌کنیم. حاصل  $0.2142857\dots$  است که با توجه به آن تقریب اعشاری  $\frac{3}{14}$  تا ۴ رقم اعشار  $0.2142$  می‌شود.

\* نکته:

- تقریب اعشاری که به روش قطع کردن به دست آید، همیشه از عدد حقیقی مورد نظر کوچک‌تر است.
- اگر به آخرین رقم تقریب اعشاری ۱ واحد اضافه کنیم، عدد حاصل از عدد حقیقی مورد نظر بزرگ‌تر خواهد بود. مثلاً اگر  $x = 3/2346$  باشد، تقریب اعشاری آن تا ۱ رقم اعشار  $3/2$  است و  $3/2 < x < 3/3$ .

۲۱- حاصل تقریبی  $\frac{\sqrt{65} + \left(\frac{6}{\sqrt{15}} - \frac{1}{2}\right)^2}{\sqrt{10}}$  برابر کدام است؟

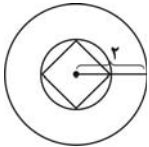
- (۱) ۲ (۲) ۳ (۳)  $\sqrt{5}$  (۴)  $\sqrt{3}$

۲۲- اگر بدانیم  $3/71 < x < 3/7098$ ، کدام گزینه درباره‌ی تقریب  $x$  به روش قطع کردن صحیح است؟

- (۱) تقریب عدد  $x$  حداکثر تا ۴ رقم اعشار ممکن است.  
 (۲) تقریب عدد  $x$  حداکثر تا ۳ رقم اعشار ممکن است.  
 (۳) تقریب عدد  $x$  تا ۲ رقم اعشار برابر  $3/71$  است.  
 (۴) تقریب عدد  $x$  تا ۱ رقم اعشار برابر ۳ است.

۲۳- هواپیمایی در هر ۴۹۰ کیلومتر، ۳۹ لیتر سوخت مصرف می‌کند. میزان مصرف سوخت این هواپیما در هر کیلومتر تا چهار رقم اعشار چند لیتر است؟

- (۱)  $0.0759$  (۲)  $0.07095$  (۳)  $0.0795$  (۴)  $0.0796$



۲۴- در شکل روبه‌رو که شعاع دایره‌ی کوچک‌تر نصف شعاع دایره‌ی بزرگ‌تر است، مساحت مربع که قطرش همان قطر دایره‌ی کوچک است، تقریباً چند درصد مساحت دایره‌ی بزرگ است؟ (دو دایره هم‌مرکزند.)

- (۱)  $15/9$  (۲)  $6/36$  (۳)  $1/59$  (۴)  $63/6$

## درسنامه ۵

## قدرمطلق

فاصله‌ی نقطه‌ی نظیر یک عدد حقیقی روی محور اعداد تا مبدأ را قدرمطلق آن عدد حقیقی می‌گوییم و برای عدد حقیقی  $m$ ، قدرمطلق آن را با نماد  $|m|$  نشان می‌دهیم. به‌طور مثال فاصله‌ی نقاط نظیر دو عدد  $\frac{1}{4}$  و  $(-\frac{1}{4})$  تا مبدأ برابر  $\frac{1}{4}$  است، پس قدرمطلق هر دو عدد  $\frac{1}{4}$  و  $(-\frac{1}{4})$  برابر  $\frac{1}{4}$  می‌باشد.

\* نکته:

- از آن‌جا که قدرمطلق اعداد حقیقی از جنس فاصله است، پس قدرمطلق همیشه نامنفی می‌باشد.
- قدرمطلق اعداد حقیقی مثبت با خودش برابر است.
- قدرمطلق اعداد حقیقی منفی، برابر با قرینه‌ی آن‌ها است.
- قدرمطلق عدد صفر، برابر با صفر است.

۵) قدرمطلق هر عدد حقیقی با قدرمطلق قرینه‌اش برابر است.  $(|a| = |-a|)$

مثال:  $|1 - \sqrt{2}|$  و  $|1 - \sqrt{3}|$  را بدون استفاده از نماد قدرمطلق بنویسید.

پاسخ: از بحث تقریب‌های اعشاری اعداد حقیقی می‌دانیم که  $\sqrt{2} > 1$  و  $\sqrt{3} > 1$  پس:

$$\sqrt{2} - 1 > 0 \Rightarrow |\sqrt{2} - 1| = \sqrt{2} - 1, \quad \sqrt{3} - 1 > 0 \Rightarrow 1 - \sqrt{3} < 0 \Rightarrow |1 - \sqrt{3}| = -(1 - \sqrt{3}) = \sqrt{3} - 1$$

\* نکته: فاصله‌ی عدد  $a$  و عدد  $b$  روی محور اعداد، برابر  $|a - b|$  یا  $|b - a|$  است.

۲۵- فاصله‌ی نقطه‌ی متناظر با کدام عدد روی محور اعداد به مبدأ نزدیک‌تر است؟

$(۱) -\sqrt{2}$        $(۲) \sqrt{3}$        $(۳) -1 + \sqrt{3}$        $(۴) -\sqrt{3} + 1$

(سراسری ۸۸)

۲۶- خلاصه شده‌ی عبارت  $|1 - \sqrt{3}| - \sqrt{3} - |2 - \sqrt{3}|$  کدام است؟

$(۱) -2$        $(۲) -1$        $(۳) 1$        $(۴) 5 - 2\sqrt{3}$

۲۷- حاصل عبارت  $|3 - \sqrt{5}| - 2|\sqrt{5} - 4|$  برابر کدام است؟

$(۱) -2$        $(۲) 2$        $(۳) 2\sqrt{5} - 2$        $(۴) 4\sqrt{5} - 10$

درسنامه‌ی ۶

نمادها و زبان ریاضی

برای آسان‌تر صحبت کردن در ریاضیات از نمادها استفاده می‌کنیم. مثلاً وقتی می‌خواهیم از عدد دلخواهی در ریاضی صحبت کنیم، از یکی از حروف انگلیسی مانند  $a, x, y$  و... به عنوان نماد آن عدد استفاده می‌کنیم. یعنی وقتی می‌نویسیم «برای هر عدد حقیقی  $a$  داریم  $a^2 = 0$  یا  $a^2 > 0$ »، در واقع به زبان ریاضی گفته‌ایم: «مجذور هر عدد حقیقی، عددی نامنفی است.»

**تذکره:** ضرب یک عدد در خودش را مربع یا مجذور آن عدد می‌نامند.

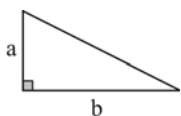
**مثال:** جمله‌ی «مجموع هر عدد حقیقی با قرینه‌اش برابر صفر است.» را به زبان ریاضی بنویسید.

**پاسخ:** اگر  $a$  عددی حقیقی باشد، داریم:  $a + (-a) = 0$

نمایش هندسی برای عبارات ریاضی

گاهی با استفاده از شکل‌های هندسی، می‌توان عبارات‌های ریاضی را به دست آورد.

**مثال:** یک نمایش هندسی مناسب برای عبارت ریاضی  $\frac{1}{4}ab$  ارائه کنید.



**پاسخ:** نمایش هندسی مناسب برای این عبارت ریاضی، می‌تواند مثلث قائم‌الزاویه‌ای به اضلاع قائمه‌ی  $a$  و  $b$  باشد که مساحت آن  $\frac{1}{4}ab$  فواید بود. شکل مقابل نشان‌دهنده‌ی این نمایش هندسی است:

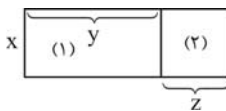
$\frac{1}{4}ab$  فواید بود. شکل مقابل نشان‌دهنده‌ی این نمایش هندسی است:

$\frac{1}{4}ab = \text{مساحت مثلث} \Rightarrow \text{ارتفاع} \times \text{قاعده} \times \frac{1}{2} = \text{مساحت مثلث}$

**نکته:** به تساوی  $x(y+z) = xy + xz$ ، پخش کردن عمل ضرب روی عمل جمع می‌گویند. اما اگر سمت

راست تساوی را داشته باشیم و از آن به سمت چپ تساوی برسیم، یعنی داشته باشیم  $xy + xz = x(y+z)$ ، به این

عمل فاکتورگیری می‌گوئیم. در این‌جا از عامل  $x$  فاکتور گرفته‌ایم. نمایش هندسی  $x(y+z) = xy + xz$  به صورت



مقابل است و داریم:  $x(y+z) = xy + xz \Rightarrow \text{مساحت مستطیل (۲)} + \text{مساحت مستطیل (۱)} = \text{مساحت کل}$

۲۸- نمایش فارسی کدام یک از جملات ریاضی زیر نادرست است؟

(۱)  $a^2 + 1 \geq 2a$ : مربع هر عدد به اضافه‌ی ۱، از دو برابر آن عدد کوچک‌تر نیست.

(۲)  $x^2 \geq 0$ : مجذور هر عدد حقیقی، مثبت است.

(۳)  $|x| = |-x|$ : فاصله‌ی هر نقطه از مبدأ، برابر فاصله‌ی قرینه‌ی آن نقطه از مبدأ است.

(۴)  $\sqrt{a^2} = |a|$ : جذر مربع هر عدد، با قدرمطلق آن عدد برابر است.

۲۹- معکوس تفاضل دو عدد حقیقی متمایز و تفاضل معکوس دو عدد حقیقی غیرصفر به ترتیب کدام‌اند؟ ( $x \neq 0, y \neq 0$ )

$(۱) \frac{1}{x-y}, \frac{1}{x-y}$        $(۲) \frac{1}{x-y}, \frac{1}{x} - \frac{1}{y}$        $(۳) x - \frac{1}{y}, \frac{1}{x} - \frac{1}{y}$        $(۴) \frac{1}{x} - \frac{1}{y}, \frac{1}{x} + \frac{1}{y}$

۳۰- جمله‌ی «تفاضل مجموع مربعات دو عدد از مربع تفاضل آن‌ها مساوی است با قرینه‌ی دو برابر حاصل‌ضربشان» را چگونه نمایش می‌دهند؟

(۱)  $(x^2 + y^2) - (x - y)^2 = -2xy$

(۲)  $(x - y)^2 - (x^2 - y^2) = -2xy$

(۳)  $(x^2 - y^2) - (x + y)^2 = -2xy$

(۴)  $(x - y)^2 - (x^2 + y^2) = -2xy$

۳۱- حاصل  $xy + 2x^2y + 3xy^2$  کدام است؟

$(۱) x^2y(1 + 2x + 3y)$        $(۲) xy(1 + 2x + 3y)$        $(۳) xy(2x + 3y)$        $(۴) x^2y(2x + 3y)$

## پایخ‌های تشریحی

۱- (۲)

اعداد طبیعی بزرگ‌تر از ۲۷۸ و کوچک‌تر از ۳۱۲ عبارت‌اند از:  $۲۷۹, ۲۸۰, ۲۸۱, \dots, ۳۱۰, ۳۱۱$ . عبارت‌اند از:  $۲۷۹, ۲۸۰, ۲۸۱, \dots, ۳۱۰, ۳۱۱$

برای شمارش اعداد فرد از میان این اعداد با شروع از عدد ۲۷۹ می‌بینیم که به ازای هر عدد فرد یک عدد زوج بعد از آن وجود دارد. تنها برای عدد ۳۱۱ هیچ عدد زوجی بعد از آن موجود نیست. بنابراین تعداد اعداد فرد در میان این اعداد یکی بیشتر از تعداد اعداد زوج است. از طرفی تعداد کل این اعداد برابر است با:  $۳۱۱ - ۲۷۹ + ۱ = ۳۳$

پس در اعداد بالا ۱۷ عدد طبیعی فرد و ۱۶ عدد طبیعی زوج وجود دارد.

**سؤال:** دانش‌پژوه (میترا راوری): می‌شه توضیح بدین که چه طوری تعداد اعداد طبیعی بزرگ‌تر از ۲۷۸ و کوچک‌تر از ۳۱۲ رو به‌دست آوردین؟

**پاسخ:** من از این نکته استفاده کردم:

**نکته:** اگر  $m$  و  $n$  دو عدد صحیح باشند به طوری که  $m > n$ ، آن‌گاه تعداد اعداد صحیح از  $n$  تا  $m$  (با احتساب خود  $n$  و  $m$ ) برابر است با  $m - n + ۱$ .

۲- (۲)

مساحت هر مستطیل برابر است با حاصل ضرب طول و عرض آن. از آن‌جا که طبق فرض مسئله ابعاد مستطیل اعداد طبیعی هستند، بنابراین ما به دنبال تعداد حالت‌هایی هستیم که بتوان عدد ۷۲ را به صورت حاصل ضرب دو عدد طبیعی نوشت:

$$۷۲ = ۱ \times ۷۲ = ۲ \times ۳۶ = ۳ \times ۲۴ = ۴ \times ۱۸ = ۶ \times ۱۲ = ۸ \times ۹$$

می‌بینیم که عدد ۷۲ را به شش صورت مختلف می‌توان به شکل حاصل ضرب دو عدد طبیعی نوشت. پس ۶ مستطیل با این شرایط وجود دارد.

**سؤال:** دانش‌پژوه (یوسف قهرمان): چرا  $۱۸ \times ۴$  یا  $۱۲ \times ۶$  رو جزء حالت‌ها در نظر نگرفتین؟

**پاسخ:** این با  $۱۸ \times ۴$  یا  $۱۲ \times ۶$  هیچ فرقی نمی‌کنه. بابه‌بایی عددی مربوط به طول و عرض مستطیل، به مستطیل میرید ایفاد نمی‌کنه که بابا!

**سؤال:** دانش‌پژوه (سعیر فوشیفت): چه نیازی بود توی صورت مسأله بگه مستطیل با ابعاد طبیعی؟ مگه اعداد دیگه‌ای هم وجود دارن که ضربشون بشه ۷۲؟

**پاسخ:** آره، بچه بون! بی‌شمار عدد حقیقی و بی‌شمار عدد صحیح دارن که ضربشون می‌شه ۷۲. مثلاً  $۱/۵ \times ۴۸$ ،  $۰/۱ \times ۷۲$ ،  $۵/۱۴ \times ۵$ ، ...

۳- (۳)

نقطه‌ی  $A$  متناظر با عدد ۲ روی محور است. دقت کنید که دو نقطه وجود دارند که از  $A$  به فاصله‌ی ۳ هستند: یکی در سمت راست  $A$  و دیگری در سمت چپ آن. برای رسیدن به نقطه‌ای که در سمت راست  $A$  و به فاصله‌ی ۳ از آن قرار دارد باید از  $A$ ، ۳ واحد به سمت راست حرکت کنیم که به نقطه‌ی  $۲ + ۳ = ۵$  می‌رسیم. و برای رسیدن به نقطه‌ای که در سمت چپ  $A$  به فاصله‌ی ۳ از آن قرار دارد باید از  $A$ ، ۳ واحد به سمت چپ حرکت کنیم که به نقطه‌ی  $۲ - ۳ = -۱$  می‌رسیم که همان  $B$  است. پس  $C$  که قرینه‌ی  $B$  است متناظر با  $+۱ = -(-۱)$  می‌باشد. در این صورت فاصله‌ی  $B$  تا  $C$  که همان طول پاره‌خط  $BC$  است برابر خواهد بود با:  $۱ + ۱ = ۲$ . یا با استفاده از نکته‌ی زیر داریم:

**نکته:** اگر قرینه‌ی نقطه‌ی  $A$  نسبت به مبدأ  $O$  نقطه‌ی  $B$  باشد، طول پاره‌خط  $AB$  دو برابر طول پاره‌خط  $AO$  و نیز دو برابر طول پاره‌خط  $OB$  است، یعنی  $AB = ۲AO = ۲BO$ .

حال با توجه به نکته‌ی ذکر شده، چون فاصله‌ی نقطه‌ی  $B$  تا مبدأ برابر ۱ است، پس فاصله‌ی  $B$  تا قرینه‌اش برابر  $۲ \times ۱ = ۲$  خواهد بود.

۴- (۱)

برای آن‌که فاصله‌ی این دو عدد تا مبدأ با هم برابر باشد، باید یا بر هم منطبق بوده و یا قرینه‌ی یکدیگر باشند. پس:

$$a = -۶ \Rightarrow a = ۶ \Rightarrow -a = ۶ \Rightarrow a - ۶ = ۲a \Rightarrow a = ۲$$

$$a = ۲ \Rightarrow a = \frac{۶}{۳} \Rightarrow ۳a = ۶ \Rightarrow a + ۲a = ۶ \Rightarrow a - ۶ = -۲a \Rightarrow a = ۲$$

فقط  $a = ۲$  در گزینه‌ها وجود دارد.





$$\text{پس از هم‌مخرج کردن دو عدد داریم: } -\frac{2}{3} - \frac{1}{4} \text{ و } -\frac{2}{3} - \frac{1}{4} \text{ (۴) - ۵}$$

از آن‌جا که  $-\frac{3}{6} < -\frac{4}{6}$ ، پس  $-\frac{2}{3} < -\frac{1}{4}$ ، حال  $-\frac{2}{3} - \frac{1}{4}$  را با  $-\frac{3}{6}$  مقایسه می‌کنیم:

$$-\frac{2}{3} - \frac{1}{4} = -\frac{2 \times 4}{3 \times 4} - \frac{1 \times 3}{4 \times 3} = -\frac{8}{12} - \frac{3}{12} = -\frac{11}{12}$$

پس  $-\frac{2}{3} - \frac{1}{4} < -\frac{3}{6}$ ، حال  $-\frac{2}{3} - \frac{1}{4}$  را با  $-\frac{5}{6}$  مقایسه می‌کنیم:

$$-\frac{2}{3} - \frac{1}{4} = -\frac{2 \times 4}{3 \times 4} - \frac{1 \times 3}{4 \times 3} = -\frac{8}{12} - \frac{3}{12} = -\frac{11}{12}$$

پس  $-\frac{2}{3} - \frac{1}{4} < -\frac{5}{6}$ ، بنابراین  $-\frac{5}{6}$  از بقیه‌ی عددها کوچک‌تر است.

**روش دوم:** هر چهار عدد را هم‌مخرج می‌کنیم. بنابراین عددها عبارت‌اند از:

$$-\frac{1}{2} = -\frac{1 \times 3 \times 5 \times 7}{2 \times 3 \times 5 \times 7} = -\frac{105}{210}, \quad -\frac{2}{3} = -\frac{2 \times 2 \times 5 \times 7}{3 \times 2 \times 5 \times 7} = -\frac{140}{210}$$

$$-\frac{3}{5} = -\frac{3 \times 2 \times 3 \times 7}{5 \times 2 \times 3 \times 7} = -\frac{126}{210}, \quad -\frac{5}{7} = -\frac{5 \times 2 \times 3 \times 5}{7 \times 2 \times 3 \times 5} = -\frac{150}{210}$$

از آن‌جا که  $-\frac{150}{210} < -\frac{140}{210} < -\frac{126}{210} < -\frac{105}{210}$ ، پس  $-\frac{5}{7}$  از بقیه‌ی عددها کوچک‌تر می‌باشد.

$$\frac{5}{42} - \frac{23}{231} = \frac{55 - 46}{462} = \frac{9}{462} = \frac{3}{154}$$

(۲) - ۶

(۱) - ۷

**یادآوری:** مجموع یک عدد طبیعی و یک عدد گویای مثبت (کوچک‌تر از ۱) را به شکل  $a \frac{b}{c}$  نیز نشان می‌دهند که در آن  $a$  عدد طبیعی و  $\frac{b}{c}$  عدد گویای مثبت (کم‌تر از ۱) است. این شکل نمایش را کسر مرکب (عدد مخلوط) می‌گویند. مثلاً:

$$3 \frac{4}{9} = 3 + \frac{4}{9} = \frac{9 \times 3 + 4}{9} = \frac{31}{9}$$

$$\left\{ \begin{array}{l} \frac{2}{3} = \frac{10}{3} \\ -\frac{3}{3} = -\frac{10}{3} \end{array} \right\} \Rightarrow \left( \frac{2}{3} \right) \div \left( -\frac{3}{3} \right) = \frac{10}{3} \div \left( -\frac{10}{3} \right) = -1 \Rightarrow \text{حاصل عبارت} = \frac{-1}{-1} = 1$$

$$-\frac{7}{4} + \frac{3}{5} = \frac{-35 + 12}{20} = -\frac{23}{20} \Rightarrow \left( -\frac{7}{4} + \frac{3}{5} \right) \div \frac{23}{20} = -\frac{23}{20} \div \frac{23}{20} = -1$$

**روش اول:** هر دو کسر  $\frac{2}{5}$  و  $\frac{1}{4}$  را به کسرهایی با مخرج ۲۰ تبدیل می‌کنیم: (۲) - ۸

$$\frac{1}{2} = \frac{1 \times 10}{2 \times 10} = \frac{10}{20}, \quad \frac{2}{5} = \frac{2 \times 4}{5 \times 4} = \frac{8}{20}$$

در بین گزینه‌ها تنها اگر  $a = 9$  باشد،  $\frac{2}{5} = \frac{8}{20} < \frac{a}{20} < \frac{10}{20} = \frac{1}{2}$  خواهد بود.

$$\frac{1}{2} + \frac{2}{5} = \frac{5 + 4}{10} = \frac{9}{10} = \frac{9}{20}$$

**روش دوم:** اگر میانگین دو عدد  $\frac{1}{5}$  و  $\frac{2}{4}$  را به‌دست آوریم، داریم:

می‌دانیم میانگین دو عدد همواره بین آن دو قرار دارد، پس چون مخرج این کسر با کسر  $\frac{a}{20}$  مساوی است، می‌توان گفت که  $a = 9$  می‌باشد.

$$\left\{ \begin{array}{l} \frac{1}{3} = \frac{5 \times 2}{15 \times 2} = \frac{10}{30} \\ \frac{1}{5} = \frac{3 \times 2}{15 \times 2} = \frac{6}{30} \end{array} \right\} \Rightarrow \frac{6}{30} < \frac{7}{30} < \frac{8}{30} < \frac{9}{30} < \frac{10}{30}$$

پس از هم‌مخرج کردن کسرها، کافی است صورت و مخرج را در ۲ ضرب کنیم، داریم:

(۱) - ۹

باید صورت و مخرج  $\frac{495}{1155}$  را تا جایی که ممکن است ساده کنیم: (۱) - ۱۰

$$\frac{495}{1155} = \frac{495 \div 5}{1155 \div 5} = \frac{99}{231} = \frac{99 \div 11}{231 \div 11} = \frac{9}{21} = \frac{9 \div 3}{21 \div 3} = \frac{3}{7}$$

بنابراین  $\frac{p}{q} = \frac{495}{1155} = \frac{3}{7}$  است. چون  $\frac{p}{q}$  دیگر ساده شدنی نیست، پس کوچک‌ترین مقدار  $p + q$  برابر  $3 + 7 = 10$  است.

۱۱- (۴) **روش اول:** هر سهم را به دست می‌آوریم:  $۵۴ \times \frac{۱}{۳} = ۱۸$  میلیون و  $۵۴ \times \frac{۱}{۶} = ۹$  میلیون و  $۵۴ \times \frac{۱}{۲} = ۲۷$  میلیون

پس تفاوت بیشترین و کمترین سهم برابر است با:

$$۲۷ - ۹ = ۱۸$$

**روش دوم:** بیشترین سهم مربوط به نسبت  $\frac{۱}{۲}$  و کمترین سهم مربوط به نسبت  $\frac{۱}{۶}$  است. پس ابتدا تفاضل این دو نسبت را به دست آورده و

سپس نسبت حاصل را در ۵۴ ضرب کرده تا مقدار آن به دست آید:

$$\frac{۱}{۲} - \frac{۱}{۶} = \frac{۳-۱}{۶} = \frac{۲}{۶} = \frac{۱}{۳} \Rightarrow \frac{۱}{۳} \times ۵۴ = ۱۸ \text{ میلیون}$$

۱۲- (۱) ابتدا ضرب اعشاری داده شده را محاسبه می‌کنیم. برای این کار عدد ۳۲ را در ۵۲ ضرب می‌کنیم و در پایان برای جواب به دست آمده ۴ رقم

$$۳/۲ \times ۰/۰۵۲ = ۰/۱۶۶۴$$

اعشار در نظر می‌گیریم:

پس قسمت صحیح عدد برابر با صفر و قسمت اعشاری آن برابر با ۰/۱۶۶۴ است.

$$۱۳- (۲) (۳/۸ \div ۱۰) - (۰/۰۲ \times ۳/۲۶) = (۰/۳۸) - (۰/۰۶۵۲) = ۰/۳۱۴۸$$

حتماً دقت کنید که عملیات ضرب و عملیات تقسیم بر جمع و تفریق تقدم دارند:

$$۱۴- (۳) ۴/۲۹۳ \times ۲ \div ۳ - ۵ = ((۴/۲۹۳ \times ۲) \div ۳) - ۵ = (۸/۵۸۶ \div ۳) - ۵ = ۲/۸۶۲ - ۵ = -۲/۱۳۸$$

۱۵- (۲) ابتدا توان‌های ۱۰ را در اعداد اعشاری ضرب می‌کنیم:

$$(۱) ۸/۷ \times ۱۰^۲ = ۸۷۰/۰ = ۸۷۰$$

$$(۲) ۹۰/۱ \times ۱۰ = ۹۰۱/۰ = ۹۰۱$$

$$(۴) ۰/۹ \times ۱۰۰ = ۹۰/۰ = ۹۰$$

حال واضح است که از بین همه‌ی گزینه‌ها، عدد گزینه‌ی (۲) از همه بزرگ‌تر است. در واقع عدد گزینه‌های (۱) و (۳) برابر هستند و عدد

گزینه‌ی (۴) از همه کوچک‌تر است.

۱۶- (۲)

۱۵٪ آب بخار  $\xrightarrow{\text{سانتی‌متر مکعب}} ۱۸۰ \times ۱۵\% = ۱۸۰ \times \frac{۱۵}{۱۰۰} = \frac{۲۷۰۰}{۱۰۰} = ۲۷$  سانتی‌متر مکعب شده است.

بنابراین  $۱۸۰ - ۲۷ = ۱۵۳$  سانتی‌متر مکعب آب درون ظرف باقی‌مانده که چون حجم ظرف ۲۰۰ سانتی‌متر مکعب است، پس  $\frac{۱۵۳}{۲۰۰}$  حجم ظرف

را آب اشغال کرده است. این میزان برابر  $\frac{۱۵۳}{۲۰۰} \times ۱۰۰ = \frac{۱۵۳}{۲} = ۷۶/۵$  درصد حجم ظرف است.

**سؤال:** دانش‌پژوه (نور فوریو): این معنی اینه که تو هر ۱۰۰ سانتی‌متر مکعب از حجم ظرف، ۷۶/۵ سانتی‌متر مکعب آب هست؟

✓ پاسخ: دقیقاً معنی همین!

۱۷- (۴)  $\pi$  با تقریب چهار رقم اعشار برابر است با  $۳/۱۴۱۵$ ، یعنی  $۳/۱۴ < ۳/۱۴۱۵ < \pi$ . بین  $۳/۱۴$  و  $۳/۱۴۱۵$  که دو عدد گویا هستند، بی‌شمار

عدد گویا وجود دارد. پس بین  $۳/۱۴$  و  $\pi$  نیز بی‌شمار عدد گویا وجود دارد.

۱۸- (۳)  $\sqrt{۲}$  و  $\frac{۳}{۲}$  از ۱ بزرگ‌ترند. ضمن این‌که  $\sqrt{۲} < \frac{۳}{۲} < \sqrt{۲} - \frac{۱}{۲} < \sqrt{۲} - ۱ + \sqrt{۲}$  است. پس  $-۱ + \sqrt{۲}$  از همه‌ی اعداد دیگر کوچک‌تر است و این به این

معنی است که در سمت چپ همه‌ی آن‌ها قرار می‌گیرد.

**سؤال:** دانش‌پژوه (بهرام پهلپله): از کجا بدونیم  $\sqrt{۲}$  از ۱ بزرگ‌تره؟

✓ پاسخ: فب معلومه چون ۲ از ۱ بزرگ‌تره،  $\sqrt{۲}$  هم از ۱ بزرگ‌تره، همین‌طور از  $\sqrt{۴}$  کوچک‌تره، یعنی  $\sqrt{۴} < \sqrt{۲} < \sqrt{۱}$ . نتیجه این

میشه که  $۱ < \sqrt{۲} < ۲$ .

۱۹- (۳) به کمک قضیه‌ی فیثاغورس، طول دو وتر را به دست می‌آوریم:



$$\Rightarrow A = ۲ + \sqrt{۳}$$

۲۰- (۳) اگر  $\sqrt{۵}$  طول وتر مثلث قائم‌الزاویه باشد، آن‌گاه:

مجموع مجذورهای دو ضلع مجاور زاویه‌ی قائمه  $= (\sqrt{۵})^۲ = ۵$

چون طول دو ضلع مجاور زاویه‌ی قائمه باید عددهایی طبیعی باشند، باید دید عدد ۵ را به چند صورت می‌توان به

شکل مجموع مجذورهای دو عدد طبیعی نوشت. این کار فقط به صورت  $۵ = ۱^۲ + ۲^۲ = (\sqrt{۵})^۲$  ممکن است. پس یکی

از این مثلث‌ها به اضلاع ۱، ۲ و  $\sqrt{۵}$  است که مطابق شکل مقابل رسم می‌شود:

