

## مجموع جملات دنباله‌های حسابی و هندسی

### یادآوری دنباله‌ی حسابی

در سال دوم، با دنباله‌ی حسابی آشنا شدید. دنباله‌ای از اعداد که اختلاف بین هر دو عدد متوالی آن، مقدار ثابتی به نام **قدرنسبت (d)** است را دنباله‌ی حسابی می‌نامیم.

$$a_1 \xrightarrow{+d} a_1 + d \xrightarrow{+d} a_1 + 2d \xrightarrow{+d} a_1 + 3d \xrightarrow{+d} \dots \xrightarrow{+d} a_n = a_1 + (n-1)d$$

$a_1$  را جمله‌ی اول،  $d$  را قدرنسبت و  $a_n$  را جمله‌ی عمومی دنباله‌ی حسابی می‌نامیم. با ذکر چند مثال کاربردهای این رابطه را مرور می‌کنیم.

◇ **مثال:** جمله‌ی سیزدهم دنباله‌ی حسابی  $2014000 - 2$  را به دست آورید.

✎ **پاسخ:** جمله‌ی اول این دنباله عدد  $-2$  و قدرنسبت (اختلاف جملات متوالی) آن برابر با  $3$  است. داریم:

$$\begin{cases} a_1 = -2 \\ d = 3 \end{cases} \xrightarrow[n=13]{a_n = a_1 + (n-1)d} a_{13} = a_1 + (13-1)d = a_1 + 12d = -2 + 12(3) = 34$$

◇ **مثال:** دنباله‌ی حسابی  $307011000083$  را در نظر بگیرید.

الف) این دنباله چند جمله دارد؟  
ب) عدد  $51$  جمله‌ی چندم این دنباله است؟

✎ **پاسخ:** الف)

$$\begin{cases} d = 4 \\ a_1 = 3 \\ a_n = 83 \end{cases} : a_n = a_1 + (n-1)d \Rightarrow 83 = 3 + (n-1)(4) \Rightarrow 4(n-1) = 80 \Rightarrow n-1 = 20 \Rightarrow n = 21$$

ب) فرض کنیم  $a_n = 51$  باشد، داریم:

$$a_n = 51 \Rightarrow 3 + (n-1)(4) = 51 \Rightarrow 4(n-1) = 48 \Rightarrow n-1 = 12 \Rightarrow n = 13$$

◇ **مثال:** چند عدد طبیعی دو رقمی و مضرب  $6$  وجود دارد؟

✎ **پاسخ:** اعداد دو رقمی مضرب  $6$  بدین صورت هستند:  $12, 18, \dots, 96$  اگر دقت کنید با دنباله‌ای حسابی مواجه هستیم که در آن جمله‌ی اول برابر  $12$ ، قدرنسبت برابر  $6$  و جمله‌ی آخر برابر  $96$  است. داریم:

$$a_n = a_1 + (n-1)d \Rightarrow 96 = 12 + (n-1)(6) \Rightarrow 84 = 6(n-1) \Rightarrow n-1 = 14 \Rightarrow n = 15$$

✎ **تمرین:** چند عدد سه رقمی وجود دارد که رقم یکان آن‌ها  $4$  باشد؟

✎ **پاسخ:**  $90$

### رابطه‌ی بین دو جمله‌ی متمایز و قدرنسبت در دنباله‌ی حسابی

اگر  $a_m$  و  $a_n$  دو جمله‌ی متمایز از یک دنباله‌ی حسابی باشند، داریم:

$$d = \frac{a_m - a_n}{m - n}$$

برای اثبات این فرمول، کافی است به جای  $a_m$  و  $a_n$ ، قرار دهید  $a_1 + (m-1)d$  و  $a_1 + (n-1)d$ .

◇ **مثال:** اگر در یک دنباله‌ی حسابی جمله‌ی پنجم برابر  $11$  و جمله‌ی هشتم برابر  $20$  باشد، قدرنسبت این دنباله را بیابید.

✎ **پاسخ:** روش اول:

$$\begin{cases} a_5 = 11 \Rightarrow a_1 + 4d = 11 \\ a_8 = 20 \Rightarrow a_1 + 7d = 20 \end{cases} \xrightarrow{\text{تفاضل}} 3d = 9 \Rightarrow d = 3$$

روش دوم: با استفاده از رابطه‌ی فوق داریم:

$$d = \frac{a_m - a_n}{m - n} \Rightarrow d = \frac{a_8 - a_5}{8 - 5} = \frac{20 - 11}{3} = \frac{9}{3} = 3$$

◇ **مثال:** در یک دنباله‌ی حسابی  $a_7 = 19$  و  $a_3 = -9$  است. جمله‌ی هفدهم این دنباله را بیابید.

✎ **پاسخ:**

$$\left. \begin{aligned} d &= \frac{a_7 - a_3}{7 - 3} = \frac{19 - (-9)}{4} = \frac{28}{4} = 7 \\ a_7 &= 19 \Rightarrow a_1 + 6d = 19 \xrightarrow{d=7} a_1 + 42 = 19 \Rightarrow a_1 = -23 \end{aligned} \right\} \Rightarrow a_{17} = a_1 + 16d = -23 + 16(7) = 89$$



◇ **مثال:** در يك دنباله‌ی حسابی  $a_7 + a_9 = 20$  است.

(ب) مقدار  $a_7 + a_{13}$  را بیابید.

(الف) مقدار  $a_8$  را بیابید.

**پاسخ:**  $a_7 + a_9 = 20 \Rightarrow (a_1 + 6d) + (a_1 + 8d) = 20 \Rightarrow 2a_1 + 14d = 20 \xrightarrow{\div 2} a_1 + 7d = 10 \xrightarrow{a_8 = a_1 + 7d} a_8 = 10$

(ب)  $a_7 + a_{13} = (a_1 + 6d) + (a_1 + 12d) = 2a_1 + 18d \xrightarrow{\text{طبق «الف»}} 20$

### واسطه‌ی حسابی و جملات متساوی‌الفاصله در دنباله‌ی حسابی

**نتیجه‌ی (۱):** اگر سه عدد  $a$  و  $b$  و  $c$  جملات متوالی یک دنباله‌ی حسابی باشند، در این صورت  $2b = a + c$  است و  $b$  را **واسطه‌ی حسابی**  $a$  و  $c$  می‌گوییم. برای اثبات نتیجه‌ی فوق، کافی است به این نکته توجه کنید که « $b - a = c - b$  = قدرنسبت.»

**توجه:** در قسمت «الف» مثال قبل،  $a_8$  واسطه‌ی حسابی  $a_7$  و  $a_9$  است، پس:

$$2a_8 = a_7 + a_9 \Rightarrow 2a_8 = 20 \Rightarrow a_8 = 10$$

**نتیجه‌ی (۲):** اگر  $m$  و  $n$  و  $p$  و  $q$  اعدادی طبیعی بوده و  $m + n = p + q$  باشد، در این صورت  $a_m + a_n = a_p + a_q$  خواهد بود.

**توجه:** در قسمت «ب» مثال قبل  $7 + 9 = 3 + 13$  است، پس  $a_7 + a_9 = a_3 + a_{13}$  می‌باشد، بنابراین  $a_7 + a_{13} = 20$  خواهد بود.

برای اثبات نتیجه‌ی (۲)، کافی است از رابطه‌ی عمومی دنباله‌ی حسابی، یعنی  $a_n = a_1 + (n - 1)d$  کمک بگیرید. (بر عهده‌ی خودتان)

◇ **مثال:** در دنباله‌ی حسابی  $-2, x, 10, \dots$ ، واسطه‌ی حسابی جملات دهم و دوازدهم را به دست آورید.

$$2x = -2 + 10 \Rightarrow x = 4$$

**پاسخ:**  $x$  واسطه‌ی حسابی  $-2$  و  $10$  است، داریم:

پس دنباله به صورت  $-2, 4, 10, \dots$  خواهد بود که قدرنسبت آن برابر با  $6$  است. واسطه‌ی حسابی جملات دهم و دوازدهم، همان جمله‌ی یازدهم

(جمله‌ی وسط آن‌ها) است. پس:

$$a_{11} = a_1 + 10d = -2 + 10(6) = 58$$

⌚ **تمرین:** در يك دنباله‌ی حسابی  $a_5 + a_6 + a_7 + a_8 + a_9 = 60$  است.

(ب) مقدار  $a_7 + a_{13}$  را بیابید.

(الف) مقدار  $a_7$  را بیابید.

(ب) ۲۴

**پاسخ:** (الف) ۱۲

حال که نکات مهم مبحث دنباله‌ی حسابی مربوط به سال گذشته را مرور کردیم، شما را با موضوعات جدیدی از این مبحث آشنا می‌کنیم.

### مجموع جملات دنباله‌ی حسابی به روش گاوس

کارل فردریش گاوس، ریاضی‌دان آلمانی، در کودکی روشی برای جمع اعداد  $1$  تا  $100$  ارائه کرد. بدین صورت که اعداد  $1$  تا  $100$  را یک‌بار از آخر به اول زیر آن‌ها نوشت و آن‌ها را با هم جمع کرد:

$$\begin{array}{r} 1 + 2 + 3 + \dots + 98 + 99 + 100 \\ + \\ 100 + 99 + 98 + \dots + 3 + 2 + 1 \\ \hline 101 + 101 + 101 + \dots + 101 + 101 + 101 \\ \text{۱۰۰ مرتبه} \end{array}$$

بعد از جمع کردن دو سطر،  $100$  مرتبه عدد  $101$  به وجود آمد، که مجموع آن‌ها برابر باشد با:

$$100 \times 101 = 10100$$

ولی از آن جایی که عدد به دست آمده دو برابر چیزی بود که گاوس مجموع آن را می‌خواست، حاصل را بر  $2$  تقسیم کرد:

$$1 + 2 + \dots + 100 = \frac{10100}{2} = 5050$$

می‌دانیم اعداد طبیعی، یک دنباله‌ی حسابی با جمله‌ی اول  $1$  و قدرنسبت  $1$  می‌باشد. در واقع گاوس برای محاسبه‌ی  $100$  جمله‌ی اول این دنباله‌ی حسابی، از نکته‌ی مربوط به **جملات متساوی‌الفاصله** استفاده کرد، به این ترتیب که:

$$a_1 + a_{100} = a_2 + a_{99} = a_3 + a_{98} = \dots = a_{50} + a_{51}$$

$$\Rightarrow \text{مجموع } 100 \text{ جمله} = \underbrace{a_1 + a_2 + a_3 + \dots + a_{98} + a_{99} + a_{100}}_{\substack{\uparrow \\ = (a_1 + a_{100})}} = \underbrace{(a_1 + a_{100})}_{= (a_1 + a_{100})} + \underbrace{(a_2 + a_{99})}_{= (a_1 + a_{100})} + \dots + \underbrace{(a_{50} + a_{51})}_{= (a_1 + a_{100})} = \left(\frac{100}{2}\right) \times (a_1 + a_{100})$$

می‌توان تعمیم روش گاوس را به صورت زیر بیان کرد.

اگر  $\{a_n\}$  یک دنباله‌ی حسابی با جمله‌ی اول  $a_1$  باشد، مجموع  $n$  جمله‌ی اول این دنباله برابر است با:

$$S_n = \frac{n}{2} (a_1 + a_n)$$

مثال: با استفاده از روش گاوس، حاصل عبارات زیر را بیابید.

الف)  $1 + 2 + 3 + \dots + n$

ب)  $1 + 3 + 5 + \dots + (2n - 1)$

پاسخ:

$$\begin{aligned} \text{الف)} \quad & \frac{1 + 2 + \dots + (n-1) + n}{n + (n-1) + \dots + 2 + 1} \\ & \underbrace{(n+1) + (n+1) + \dots + (n+1) + (n+1)}_{n \text{ مرتبه}} \end{aligned}$$

بنابراین  $1 + 2 + \dots + n = \frac{n(n+1)}{2}$  می شود.

$$\begin{aligned} \text{ب)} \quad & \frac{1 + 3 + \dots + (2n-3) + (2n-1)}{(2n-1) + (2n-3) + \dots + 3 + 1} \\ & \underbrace{2n + 2n + \dots + 2n + 2n}_{n \text{ مرتبه}} \end{aligned}$$

بنابراین داریم:

$$1 + 3 + \dots + (2n-1) = \frac{n \times 2n}{2} \Rightarrow 1 + 3 + \dots + (2n-1) = n^2$$

تمرین: با استفاده از روش گاوس نشان دهید:

الف)  $2 + 4 + 6 + \dots + 2n = n^2 + n$

ب)  $3 + 7 + 11 + \dots + (4n - 1) = 2n^2 + n$

### رابطه‌ی $S_n$ در دنباله‌ی حسابی

در یک دنباله‌ی حسابی با جمله‌ی اول  $a$  و قدرنسبت  $d$ ، مجموع  $n$  جمله‌ی اول دنباله، از رابطه‌ی  $S_n = \frac{n}{2}[2a + (n-1)d]$  به دست می‌آید. زیرا:

$$S_n = \frac{n}{2}(a_1 + a_n) \xrightarrow{a_n = a_1 + (n-1)d} S_n = \frac{n}{2}[a_1 + (a_1 + (n-1)d)] \Rightarrow S_n = \frac{n}{2}[2a_1 + (n-1)d]$$

توجه: در مثال قبل، می‌توان با فرمول  $S_n$  جواب‌ها را یافت. دقت کنید:

$$1 + 2 + \dots + n = ? \Rightarrow \begin{cases} a = 1 \\ d = 1 \end{cases} \Rightarrow S_n = \frac{n}{2}[2(1) + (n-1)(1)] = \frac{n}{2}(n+1) = \frac{n(n+1)}{2}$$

$$1 + 3 + \dots + (2n-1) = ? \Rightarrow \begin{cases} a = 1 \\ d = 2 \end{cases} \Rightarrow S_n = \frac{n}{2}[2(1) + (n-1)(2)] = \frac{n}{2}(2n) = n^2$$

مثال: مجموع ۷ جمله‌ی اول دنباله‌های حسابی زیر را بیابید.

الف)  $-2, 1, 4, \dots$       ب)  $2, x, 8, \dots$       ج)  $1, b, c, \frac{11}{4}, \dots$       د)  $\log_3 3, \log_3 12, \log_3 48, \dots$

پاسخ: الف) در دنباله‌ی  $-2, 1, 4, \dots$  جمله‌ی اول برابر  $-2$  و قدرنسبت برابر  $3$  است، داریم:

$$S_7 = \frac{7}{2}[2(-2) + (7-1)(3)] = \frac{7}{2}(-4 + 18) = \frac{7}{2} \times 14 = 49$$

ب) ابتدا مقدار  $x$  را می‌یابیم و سپس مجموع را محاسبه می‌کنیم.

$$2, x, 8 \xrightarrow{\text{واسطه‌ی حسابی است. } x} 2x = 2 + 8 \Rightarrow x = 5$$

$$2, 5, 8, \dots \Rightarrow \begin{cases} a = 2 \\ d = 3 \end{cases} \Rightarrow S_7 = \frac{7}{2}[2(2) + (7-1)(3)] = \frac{7}{2}(22) = 77$$

ج)

$$1, b, c, \frac{11}{4}, \dots \Rightarrow \begin{cases} a = 1 \\ a_4 = \frac{11}{4} \end{cases} \Rightarrow a + 3d = \frac{11}{4} \Rightarrow 1 + 3d = \frac{11}{4} \Rightarrow 3d = \frac{7}{4} \Rightarrow d = \frac{7}{12}$$

$$S_7 = \frac{7}{2}[2a + (7-1)d] = \frac{7}{2}[2 + 6(\frac{7}{12})] = \frac{7}{2}(11) = 38\frac{1}{2}$$



$$\log_{10} 3, \log_{10} 12, \log_{10} 48, \dots \Rightarrow \log_{10} 3, 2 \log 2 + \log 3, 4 \log 2 + \log 3, \dots \quad (د)$$

$$\Rightarrow \begin{cases} a_1 = \log_{10} 3 \\ d = 2 \log_{10} 2 = \log_{10} 4 \end{cases} \Rightarrow S_7 = \frac{7}{2} [2 \log_{10} 3 + (7-1) \log_{10} 4] = \frac{7}{2} [2 \log_{10} 3 + \log_{10} 4^6] = 7 \log_{10} [3^2 \times 4^6]^{\frac{1}{2}} = 7 \log_{10} 192$$

مثال: مجموع آن دسته از اعداد طبیعی دو رقمی را بیابید که:

(الف) بر ۲ بخش پذیر باشند. (ب) بر ۳ و ۵ بخش پذیر باشند. (ج) رقم یکان آن‌ها ۳ باشد.

پاسخ: (الف) اعداد دو رقمی مضرب ۲ تشکیل یک دنباله‌ی حسابی به صورت ۱۰، ۱۲، ۱۴، ...، ۹۸ می‌دهند که در آن جمله‌ی اول ۱۰ و قدرنسبت ۲ می‌باشد. ابتدا تعداد این اعداد و سپس  $S_{45}$  را می‌یابیم.

$$a_n = 98 \Rightarrow 10 + (n-1)(2) = 98 \Rightarrow 2n - 2 = 88 \Rightarrow n = 45$$

$$S_{45} = \frac{45}{2} [2(10) + (45-1)(2)] = \frac{45}{2} (108) = 45 \times 54 = 2430$$

(ب) اعدادی بر ۳ و ۵ بخش پذیرند که بر ۱۵ بخش پذیر باشند. اعداد دو رقمی مضرب ۱۵ تشکیل یک دنباله‌ی حسابی به صورت ۱۵، ۳۰، ۴۵، ...، ۹۰ که در آن جمله‌ی اول ۱۵ و قدرنسبت نیز ۱۵ می‌باشد.

$$a_n = 90 \Rightarrow 15 + (n-1)(15) = 90 \Rightarrow 15(n-1) = 75 \Rightarrow n-1 = 5 \Rightarrow n = 6$$

$$S_6 = \frac{6}{2} [2(15) + (6-1)(15)] = 3(30 + 75) = 3(105) = 315$$

(ج) اعداد دو رقمی که رقم یکان آن‌ها ۳ است تشکیل یک دنباله‌ی حسابی به صورت ۱۳، ۲۳، ۳۳، ...، ۹۳ می‌دهند که در آن جمله‌ی اول ۱۳ و قدرنسبت ۱۰ می‌باشد. مشخص است که تعداد این اعداد برابر با ۹ است، داریم:

$$S_9 = \frac{9}{2} [2(13) + (9-1)(10)] = \frac{9}{2} (26 + 80) = \frac{9}{2} \times 106 = 477$$

مثال: حداکثر چند جمله از جملات دنباله‌ی حسابی  $1, \frac{3}{4}, \frac{5}{4}, \dots$  را با هم جمع کنیم تا حاصل عددی مثبت گردد.

پاسخ: در واقع می‌خواهیم در دنباله‌ی فوق  $S_n > 0$  باشد، پس داریم:

$$S_n > 0 \Rightarrow \frac{n}{2} (2a_1 + (n-1)d) > 0 \Rightarrow \frac{n}{2} (2(1) + (n-1)(-\frac{1}{4})) > 0 \xrightarrow{\times 2} n(6 - \frac{(n-1)}{2}) > 0$$

$$\xrightarrow{\times 2} n(12 - n + 1) > 0 \Rightarrow n(13 - n) > 0 \Rightarrow 0 < n < 13$$

بنابراین حداکثر مقداری که  $n$  می‌تواند اختیار کند تا به ازای آن  $S_n$  عددی مثبت باشد برابر ۱۲ است.

مثال: مجموع چند جمله از دنباله‌ی حسابی  $7, 12, \dots$  برابر با ۸۵ می‌شود؟

پاسخ: طبق صورت سؤال  $S_n = 85$ ،  $d = 5$ ،  $a = 7$  می‌باشند. بنابراین داریم:

$$S_n = 85 \Rightarrow 85 = \frac{n}{2} [2(7) + (n-1)(5)] \Rightarrow 85 = \frac{n}{2} (5n + 9) \Rightarrow 5n^2 + 9n - 170 = 0 \Rightarrow n = 5$$

تمرین: اگر مجموع  $n$  عدد زوج متوالی (با شروع از ۲) برابر تعداد آن‌ها باشد، مقدار  $n$  را بیابید.

پاسخ: ۱۳

مثال: در هر یک از حالات زیر در دنباله‌ی حسابی مفروض  $S_7$  را بیابید.

$$\text{(الف)} a_1 = 1, a_8 = 9 \quad \text{(ب)} a_6 = 11, a_7 = 3 \quad \text{(ج)} a_{13} = 19, a_8 = 9 \quad \text{(د)} S_{10} = 100, a_7 = 7$$

$$a_8 = 9 \Rightarrow a_1 + 7d = 9 \xrightarrow{a_1=1} 1 + 7d = 9 \Rightarrow 7d = 8 \Rightarrow d = \frac{8}{7}$$

پاسخ: (الف)

$$S_7 = \frac{7}{2} [2(1) + (7-1)(\frac{8}{7})] = 10(2 + 8) = 10 \times 10 = 100$$

(ب)

$$\begin{cases} a_7 = 3 \\ a_8 = 11 \end{cases} \Rightarrow d = \frac{a_8 - a_7}{8-7} = \frac{11-3}{1} = 8 = \frac{8}{1} = 8 \xrightarrow{a_7=3} a_1 + 6d = 3 \Rightarrow a_1 = -45$$

$$S_7 = \frac{7}{2} [2(-45) + (7-1)(8)] = 10[-90 + 48] = 10 \times (-42) = -420$$

(ج) (روش اول)

$$\begin{cases} a_8 = 9 \\ a_{13} = 19 \end{cases} \Rightarrow d = \frac{a_{13} - a_8}{13-8} = \frac{19-9}{5} = \frac{10}{5} = 2 \xrightarrow{a_8=9} a_1 + 7d = 9 \Rightarrow a_1 = -5$$

$$S_7 = \frac{7}{2} [2(-5) + (7-1)(2)] = 10[-10 + 12] = 20$$

**روش دوم:** وقتی اعداد تشکیل دنباله‌ی حسابی می‌دهند، کافی است برای محاسبه‌ی  $S_n$ ، میانگین جمله‌ی اول و آخر (یا در صورت وجود عدد وسط) را در تعداد کل اعداد ضرب کنیم.

$$S_n = n \left( \frac{a_1 + a_n}{2} \right) \xrightarrow{\text{اگر } n \text{ فرد باشد}} S_n = n \times \text{جمله‌ی وسط} = n \times a_{\left(\frac{n+1}{2}\right)}$$

با استفاده از این رابطه خواهیم داشت:

$$\left. \begin{aligned} S_{20} &= 20 \left( \frac{a_1 + a_{20}}{2} \right) \\ 1 + 20 &= 13 + 8 \Rightarrow a_1 + a_{20} = a_8 + a_{13} = 9 + 19 = 28 \end{aligned} \right\} \Rightarrow S_{20} = 20 \left( \frac{28}{2} \right) = 280$$

(د)

$$\begin{cases} a_7 = 7 \Rightarrow a_1 + 3d = 7 \\ S_{10} = 100 \Rightarrow \frac{1}{2} [2a_1 + (10-1)d] = 100 \Rightarrow 10a_1 + 45d = 100 \end{cases} \Rightarrow \begin{cases} a_1 + 3d = 7 \\ 10a_1 + 45d = 100 \end{cases} \Rightarrow a_1 = 1, d = 2$$

$$S_{20} = \frac{20}{2} [2(1) + (20-1)(2)] = 10(2 + 38) = 400$$

**مثال:** اگر به قدرنسبت یک دنباله‌ی حسابی ۴ واحد اضافه کرده و از جمله‌ی اول آن ۳ واحد کم کنیم، مجموع بیست جمله‌ی اول آن چه تغییری نسبت به قبل می‌کند؟

$$S_{20}' = \frac{20}{2} [2a + (20-1)(d)] = 10[2a + 19d]$$

پاسخ:

حال  $d$  را به  $d+4$  و  $a$  را به  $a-3$  تبدیل می‌کنیم، داریم:

$$S_{20}' = 10[2(a-3) + 19(d+4)] = 10[2a - 6 + 19d + 76] = 10[2a + 19d + 70] = 10[2a + 19d] + 700 = S_{20} + 700$$



**مثال:** در یک فروشگاه قوطی‌های آب معدنی «IQ» به طریق مقابل چیده شده‌اند: «بالاترین ردیف ۳

قوطی، زیر آن ۵ قوطی، بعد ۷ قوطی و ...» اگر قوطی‌ها در ۸ ردیف چیده شده باشند، تعداد کل

قوطی‌هایی که به این طریق چیده شده‌اند را بیابید.

پاسخ:

$$a_1 = 3, a_2 = 5, a_3 = 7, \dots \Rightarrow \begin{cases} a_1 = 3 \\ d = 2 \end{cases} \Rightarrow S_8 = \frac{8}{2} [2(3) + (8-1)(2)] = 4(6 + 14) = 80$$

پس در ردیف اول تا هشتم در مجموع ۸۰ قوطی چیده شده است.

**مثال:** اعداد فرد را به گونه‌ای دسته‌بندی می‌کنیم که تعداد اعداد هر دسته، برابر با شماره‌ی آن دسته باشد، دقت کنید:

$$(1), (3, 5), (7, 9, 11), (13, 15, 17, 19), \dots$$

(ب) مجموع تمام اعداد دسته‌ی دهم را بیابید.

(الف) کوچک‌ترین و بزرگ‌ترین عدد دسته‌ی دهم را به دست آورید.

پاسخ: (الف) مجموع تعداد اعداد دسته‌های اول تا نهم برابر است با:

$$1 + 2 + 3 + \dots + 9 = \frac{9 \times 10}{2} = 45$$

بنابراین کوچک‌ترین عدد دسته‌ی دهم، چهل و ششمین عدد فرد، یعنی عدد ۹۱ و بزرگ‌ترین عدد دسته‌ی دهم، پنجاه و پنجمین عدد فرد یعنی

۱۰۹ است:

دسته‌ی دهم: ۹۱, ۹۵, ۹۹, ۱۰۳, ۱۰۷, ۱۱۱, ۱۱۵, ۱۱۹, ۱۲۳, ۱۲۷, ۱۳۱, ۱۳۵, ۱۳۹, ۱۴۳, ۱۴۷, ۱۵۱, ۱۵۵, ۱۵۹

(ب) برای یافتن مجموع اعداد دسته‌ی دهم، داریم:

$$\begin{cases} a_1 = 91 \\ d = 2 \end{cases} \Rightarrow S_{10} = \frac{10}{2} [2(91) + (10-1)(2)] = 5(182 + 18) = 1000$$

**مثال:** طول پله‌های یک نردبان به طور یکنواخت از پایین به بالا از ۴۰ سانتی‌متر به ۳۰ سانتی‌متر می‌رسد. اگر مجموع

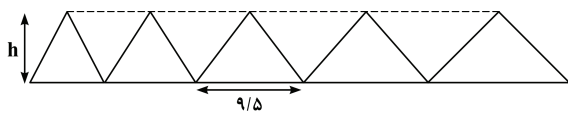
طول پله‌ها ۵۱۲۵ متر باشد، این نردبان چند پله دارد؟

پاسخ: اگر تعداد پله‌ها را  $n$  فرض کنیم، داریم:

$$\begin{cases} a_1 = 40 \text{ cm} \\ a_n = 30 \text{ cm} \\ S_n = 5125 = 525 \text{ cm} \end{cases} \Rightarrow S_n = n \left( \frac{a_1 + a_n}{2} \right) \Rightarrow 525 = n \left( \frac{40 + 30}{2} \right) \Rightarrow 525 = 35n \Rightarrow n = \frac{525}{35} = 15$$

پس این نردبان ۱۵ پله دارد.





مثال: ۵ مثلث داریم که هم ارتفاع هستند و اندازه‌ی قاعده‌ی آن‌ها تشکیل دنباله‌ی حسابی می‌دهند. (طبق شکل)

اگر مجموع مساحت‌های این مثلث‌ها برابر ۹۵ و اندازه‌ی قاعده‌ی مثلث میانی برابر ۹/۵ باشد، اندازه‌ی ارتفاع این مثلث‌ها را بیابید.

پاسخ: طبق اطلاعات صورت سؤال داریم:

$$\begin{cases} n = 5 \\ S_5 = 95 \\ a_r = \frac{1}{r} (9/5) h \end{cases} \Rightarrow 95 = \frac{5}{2} [2a_1 + (5-1)(d)] \Rightarrow 95 = \frac{5}{2} (2a_1 + 4d) \Rightarrow a_1 + 2d = 19 \xrightarrow{a_r = a_1 + rd} \frac{1}{r} (9/5) h = 19 \Rightarrow h = 4$$

تمرین: مهرداد برای خرید یک دوچرخه، بهای آن را قسطی پرداخت می‌کند. برای قسط اول ۲۰ هزار تومان، برای قسط دوم ۲۵ هزار تومان و برای قسط سوم ۳۰ هزار تومان و به همین شکل هر با پنج هزار تومان به قسط می‌افزاید. طی چند قسط مهرداد بهای دوچرخه را که ۶۵۰ هزار تومان است پرداخت می‌کند؟

پاسخ:  $n = 13$

مثال: معادلات مقابل را حل کنید. الف)  $(x+1) + (x+4) + (x+7) + \dots + (x+31) = 400$  ب)  $9^{2+4+6+\dots+2x} = 27^{28}$

پاسخ: الف) ابتدا تعداد جملات (تعداد پرانتزها) را می‌یابیم:

$$\begin{cases} a_1 = x+1 \\ a_n = x+31 \Rightarrow x+31 = (x+1) + (n-1)(3) \Rightarrow x+31 = x+3n-2 \Rightarrow n=11 \\ d = 3 \end{cases}$$

حال  $S_{11}$  را محاسبه کرده و برابر با ۴۰۰ قرار می‌دهیم:

$$S_{11} = 400 \Rightarrow \frac{11}{2} [2(x+1) + (11-1)(3)] = 400 \Rightarrow \frac{11}{2} [2x+32] = 400 \Rightarrow 11x+176 = 400 \Rightarrow 11x = 224 \Rightarrow x = \frac{224}{11}$$

ب)

$$9^{2+4+6+\dots+2x} = 27^{28} \Rightarrow (3^2)^{2+4+\dots+2x} = (3^3)^{28} \Rightarrow 4+8+\dots+4x = 84 \xrightarrow{+4} 1+2+\dots+x = 21 \Rightarrow \frac{x(x+1)}{2} = 21 \Rightarrow x = 6$$

حال دنباله‌ی حسابی را رها کرده و به سراغ دنباله‌ی هندسی می‌رویم و با یادآوری مبحث دنباله‌ی هندسی کتاب ریاضی (۲) درس را آغاز می‌کنیم.

### یادآوری دنباله‌ی هندسی

در سال دوم با دنباله‌ی هندسی آشنا شدید. دنباله‌ای از اعداد که نسبت جملات متوالی آن مقدار ثابتی به نام قدرنسبت (q) است.

$$a_1 \xrightarrow{\times q} a_1 q \xrightarrow{\times q} a_1 q^2 \xrightarrow{\times q} a_1 q^3 \xrightarrow{\times q} \dots \xrightarrow{\times q} a_n = a_1 q^{n-1}$$

$a_1$  جمله‌ی اول، q را قدرنسبت و  $a_n$  را جمله‌ی عمومی دنباله‌ی هندسی می‌نامیم. با ذکر چند مثال، کاربردهای این رابطه را مرور می‌کنیم.

مثال: جمله‌ی دهم دنباله‌ی هندسی  $\dots, -\frac{1}{4}, -\frac{1}{2}, 1, -2, \dots$  را بیابید.

پاسخ:

$$\begin{cases} a_1 = -2 \\ q = -\frac{1}{2} \Rightarrow a_{10} = a_1 q^9 = (-2) \left(-\frac{1}{2}\right)^9 = -2 \times \frac{-1}{2^9} = \frac{1}{2^8} = \frac{1}{256} \end{cases}$$

مثال: دنباله‌ی هندسی  $\frac{1}{8}, \frac{1}{4}, \dots, 32$  را در نظر بگیرید.

الف) این دنباله چند جمله دارد؟ ب) اگر این دنباله را به همین صورت ادامه دهیم، عدد ۱۲۸ جمله‌ی چندم این دنباله است؟

پاسخ:

$$\text{الف) } \begin{cases} a_1 = \frac{1}{8} \\ q = 2 \Rightarrow 32 = \frac{1}{8} (2)^{n-1} \Rightarrow 2^{n-1} = 256 = 2^8 \Rightarrow n-1 = 8 \Rightarrow n = 9 \\ a_n = 32 \end{cases}$$

$$\text{ب) } a_n = 128 \Rightarrow a_1 q^{n-1} = 128 \xrightarrow{\substack{a_1 = \frac{1}{8} \\ q = 2}} \frac{1}{8} (2)^{n-1} = 128 \Rightarrow 2^{n-1} = 8 \times 128 \Rightarrow 2^{n-1} = 2^{10} \Rightarrow n-1 = 10 \Rightarrow n = 11$$

مثال: در یک دنباله‌ی هندسی  $a_4 = 5$  و  $a_6 = 45$  است. قدرنسبت این دنباله را بیابید.

پاسخ:

$$\begin{cases} a_4 = 5 \Rightarrow a_1 q^3 = 5 \\ a_6 = 45 \Rightarrow a_1 q^5 = 45 \end{cases} \xrightarrow{\text{تقسیم}} \frac{1}{q^2} = \frac{1}{9} \Rightarrow q^2 = 9 \Rightarrow q = \pm 3$$

## رابطه‌ی بین دو جمله متمایز و قدرنسبت در دنباله‌ی هندسی

اگر  $a_m$  و  $a_n$  دو جمله‌ی مخالف صفر از یک دنباله‌ی هندسی باشند، داریم:

$$q^{m-n} = \frac{a_m}{a_n}$$

برای اثبات این فرمول، کافی است به جای  $a_m$  و  $a_n$ ، قرار دهید  $a_1 q^{m-1}$  و  $a_1 q^{n-1}$ .

**توجه:** در مثال قبل می‌توان نوشت:

$$q^{6-4} = \frac{a_6}{a_4} \Rightarrow q^2 = \frac{45}{5} = 9 \Rightarrow q = \pm 3$$

◇ **مثال:** در يك دنباله‌ی هندسی جمله‌ی سوم برابر ۷ و جمله‌ی ششم برابر ۵۶ است. جمله‌ی نهم را به دست آورید.

📌 **پاسخ:**

$$\begin{cases} a_3 = 7 \Rightarrow a_1 q^2 = 7 \\ a_6 = 56 \Rightarrow a_1 q^5 = 56 \end{cases} \xrightarrow{\text{تقسیم}} \frac{1}{q^3} = \frac{1}{8} \Rightarrow q^3 = 8 \Rightarrow q = 2$$

از آن جایی که  $a_3 = 7$  است، داریم:

$$a_3 = 7 \Rightarrow a_1 (2)^2 = 7 \Rightarrow a_1 = \frac{7}{4} \Rightarrow a_9 = a_1 q^8 = \frac{7}{4} (2)^8 = 7 \times 2^6 = 448$$

## واسطه‌ی هندسی

اگر سه عدد  $a$  و  $b$  و  $c$  جملات متوالی یک دنباله‌ی هندسی باشند، در این صورت  $b^2 = ac$  است و  $b$  را **واسطه‌ی هندسی**  $a$  و  $c$  می‌گوییم.

برای اثبات رابطه‌ی  $b^2 = ac$ ، کافی است به این نکته توجه کنید که « $\frac{b}{a} = \frac{c}{b}$ » قدرنسبت است.

**توجه:** در مثال قبل، جمله‌های سوم و ششم داده شده‌اند و جمله‌ی نهم خواسته شده است، پس:

$$(a_6)^2 = a_3 \times a_9 \Rightarrow (56)^2 = 7 \times a_9 \Rightarrow a_9 = 7 \times 64 = 448$$

◇ **مثال:** در يك دنباله‌ی هندسی حاصل ضرب جملات سوم و هفتم برابر ۶۴ است.

الف) جمله‌ی پنجم را به دست آورید.

ب) حاصل ضرب جملات چهارم و ششم را به دست آورید.

$$\text{الف) } \underbrace{a_3 \times a_7}_{\text{دنباله‌ی هندسی}} = a_5^2 \Rightarrow (a_5)^2 = a_3 \times a_7 \Rightarrow (a_5)^2 = 64 \Rightarrow a_5 = \pm 8$$

📌 **پاسخ:**

$$\text{ب) } a_4 \times a_6 = 64 \Rightarrow a_1 q^3 \times a_1 q^5 = 64 \Rightarrow a_1^2 \times q^8 = 64 \Rightarrow a_4 \times a_6 = a_1 q^3 \times a_1 q^5 = a_1^2 \times q^8 = 64$$

## جملات متساوی‌الفاصله در دنباله‌ی هندسی

**نتیجه:** اگر  $m$  و  $n$  و  $p$  و  $q$  اعدادی طبیعی بوده و  $m+n = p+q$  باشد، در این صورت  $a_m \times a_n = a_p \times a_q$  خواهد بود.

$$a_3 \times a_7 = a_4 \times a_6 = 64$$

**توجه:** در قسمت «ب» مثال قبل، چون  $3+7 = 4+6$  است، پس:

🕒 **تمرین:** در يك دنباله‌ی هندسی حاصل ضرب جملات سوم، چهارم، پنجم و ششم برابر با ۶۴ است. حاصل ضرب جملات دوم و هفتم را به دست آورید.

دست آورید.

📌 **پاسخ:** ۸ یا ۸-

## مجموع جملات دنباله‌ی هندسی

فرض کنید می‌خواهیم مجموع جملات دنباله‌ی  $2, 4, 8, 16, 32, 64, 128$  را به دست آوریم. می‌توانیم به این طریق عمل کنیم:

$$A = 2 + 4 + 8 + \dots + 128$$

مجموع جملات را برابر با  $A$  می‌گیریم:

به طرفین عدد ۲ را اضافه می‌کنیم:

$$A + 2 = 2 + 2 + 4 + 8 + \dots + 128 \Rightarrow A + 2 = 4 + 4 + 8 + 16 + \dots + 128 \Rightarrow A + 2 = 8 + 8 + 16 + \dots + 128$$

$$\Rightarrow \dots \Rightarrow A + 2 = 128 + 128 = 256 \Rightarrow A = 254$$

ولی این روش کمی وقت‌گیر است و مطمئناً در همه‌ی مسائل اجرایی نیست. پس فرمولی برای یافتن  $S_n$  بیان می‌کنیم.

**$S_n$  دنباله هندسی:**

**قضیه:** نشان دهید در یک دنباله هندسی با جمله اول  $a_1$  و قدرنسبت  $q$  ( $q \neq 1$ )، مجموع  $n$  جمله اول دنباله برابر است با:

$$S_n = a_1 \frac{1-q^n}{1-q}, \quad S_n = a_1 \frac{q^n-1}{q-1}, \quad S_n = \frac{a_1-a_{n+1}}{1-q}, \quad S_n = \frac{a_{n+1}-a_1}{q-1}$$

**اثبات:** روش اول:

$$S_n = a_1 + a_1q + a_1q^2 + \dots + a_1q^{n-1} = a_1(1+q+q^2+\dots+q^{n-1}) = a_1 \frac{(1+q+q^2+\dots+q^{n-1})(1-q)}{1-q}$$

$$\Rightarrow S_n = a_1 \frac{1-q^n}{1-q} = a_1 \frac{q^n-1}{q-1} \Rightarrow S_n = \frac{a_1-a_1q^n}{1-q} = \frac{a_1-a_{n+1}}{1-q} = \frac{a_{n+1}-a_1}{q-1}$$

روش دوم:

$$\begin{cases} S_n = a_1 + a_1q + \dots + a_1q^{n-1} \\ S_n q = a_1q + a_1q^2 + \dots + a_1q^n = a_1q + a_1q^2 + \dots + a_1q^n \end{cases}$$

$$S_n q - S_n = (a_1q + a_1q^2 + \dots + a_1q^n) - (a_1 + a_1q + \dots + a_1q^{n-1}) = a_1q^n - a_1 \Rightarrow S_n(q-1) = a_1q^n - a_1$$

$$\Rightarrow S_n = \frac{a_1q^n - a_1}{q-1} = \frac{a_1(q^n-1)}{q-1} \Rightarrow S_n = a_1 \frac{1-q^n}{1-q} = a_1 \frac{q^n-1}{q-1}$$

**توجه:** در مثال فوق داریم:

$$2 + 4 + 8 + \dots + 128 = ?$$

$$\begin{cases} a_1 = 2 \\ q = 2 \Rightarrow S_7 = 2 \left( \frac{2^7-1}{2-1} \right) = 2(128-1) = 2 \times 127 = 254 \\ n = 7 \end{cases}$$

**مثال:** مجموع ۵ جمله اول دنباله‌های هندسی زیر را بیابید.

الف)  $1, 2, 4, \dots$       ب)  $-\frac{2}{5}, \frac{1}{2}, -\frac{5}{8}, \dots$       ج)  $2, x, y, \frac{1}{4}, \dots$       د)  $\log_1 2, \log_1 4, \log_1 16, \dots$

**پاسخ:**

الف)  $\begin{cases} a_1 = 1 \\ q = 2 \end{cases} \Rightarrow S_5 = 1 \left( \frac{2^5-1}{2-1} \right) = 32-1 = 31$

ب)  $\begin{cases} a_1 = -\frac{2}{5} \\ q = \frac{1}{-\frac{2}{5}} = -\frac{5}{2} \end{cases} \Rightarrow S_5 = -\frac{2}{5} \left( \frac{\left(-\frac{5}{2}\right)^5-1}{-\frac{5}{2}-1} \right) = -\frac{2}{5} \left( \frac{-\frac{4149}{32}-1}{-\frac{7}{2}} \right) = -\frac{461}{640}$

ج)  $\begin{cases} a_1 = 2 \\ a_4 = \frac{1}{4} \end{cases} \Rightarrow \frac{1}{4} = 2q^3 \Rightarrow q = \frac{1}{2} \Rightarrow S_5 = 2 \left( \frac{\left(\frac{1}{2}\right)^5-1}{\frac{1}{2}-1} \right) = -4 \left( \frac{1}{32}-1 \right) = \frac{31}{8}$

د)  $\log_1 2, \log_1 4, \log_1 16, \dots \Rightarrow \log_1 2, 2 \log_1 2, 4 \log_1 2, \dots$

$$\begin{cases} a_1 = \log_1 2 \\ q = 2 \end{cases} \Rightarrow S_5 = \log_1 2 \times \left( \frac{2^5-1}{2-1} \right) = 31 \times \log_1 2 = \log_1 2^{31}$$

**مثال:** اگر جملات اول و هفتم يك دنباله هندسی به ترتیب ۳ و ۲۴ باشد، مجموع ۶ جمله اول این دنباله چه قدر است؟

**پاسخ:**

$$\frac{a_7}{a_1} = q^{7-1} \Rightarrow \frac{24}{3} = q^6 \Rightarrow q = \sqrt[6]{8} = \sqrt[6]{2^3} \Rightarrow q = \sqrt{2}$$

$$S_6 = \frac{a_7 - a_1}{q - 1} = \frac{24 - 3}{\sqrt{2} - 1} = 21(\sqrt{2} + 1)$$



مثال: مجموع چندجمله از دنباله هندسی  $\dots, 4, 2, 1$  برابر با ۴۳ می‌شود؟

پاسخ:

$$\begin{cases} a_1 = 1 \\ q = -2 \Rightarrow 43 = 1 \left( \frac{(-2)^n - 1}{-2 - 1} \right) \Rightarrow 43 = \frac{(-2)^n - 1}{-3} \Rightarrow (-2)^n - 1 = -129 \Rightarrow (-2)^n = -128 \Rightarrow n = 7 \\ S_n = 43 \end{cases}$$

مثال: در يك دنباله هندسی مجموع ۱۰ جمله اول دنباله ۳۳ برابر مجموع ۵ جمله اول آن است. قدرنسبت این دنباله را بیابید.

$$S_{10} = 33S_5 \Rightarrow a_1 \left( \frac{q^{10} - 1}{q - 1} \right) = 33 a_1 \left( \frac{q^5 - 1}{q - 1} \right) \Rightarrow (q^5 - 1)(q^5 + 1) = 33(q^5 - 1) \Rightarrow q^5 + 1 = 33 \Rightarrow q^5 = 32 \Rightarrow q = 2$$

پاسخ:

مثال: اگر  $S_n$  مجموع  $n$  جمله اول دنباله هندسی  $\{a_n\}$  با قدرنسبت  $q$  باشد، ثابت کنید:

الف)  $\frac{S_{2n}}{S_n} = q^n + 1$

ب)  $\frac{\text{مجموع } n \text{ جمله دوم}}{\text{مجموع } n \text{ جمله اول}} = q^n$

پاسخ: الف)

$$\frac{S_{2n}}{S_n} = \frac{a_1(q^{2n} - 1)}{q - 1} = \frac{q^{2n} - 1}{q^n - 1} = \frac{(q^n)^2 - 1^2}{q^n - 1} \xrightarrow{\text{اتحاد مزدوج}} \frac{(q^n - 1)(q^n + 1)}{q^n - 1} = q^n + 1$$

ب) ابتدا  $n$  جمله اول و  $n$  جمله دوم دنباله  $\{a_n\}$  را مشخص می‌کنیم:

$$\underbrace{a_1, a_2, \dots, a_n}_{n \text{ جمله اول}}, \underbrace{a_{n+1}, a_{n+2}, \dots, a_{2n}}_{n \text{ جمله دوم}}$$

مجموع  $n$  جمله اول (یعنی  $a_1 + a_2 + \dots + a_n$ ) همان  $S_n$  است. مجموع  $2n$  جمله اول (یعنی  $a_1 + a_2 + \dots + a_{2n}$ ) نیز همان  $S_{2n}$  است که در قسمت «الف» با آن مواجه بودیم. حال باید مجموع  $n$  جمله دوم را به دست آوریم:

$$\text{مجموع } n \text{ جمله دوم} = a_{n+1} + a_{n+2} + \dots + a_{2n} = (a_1 + a_2 + \dots + a_n + a_{n+1} + a_{n+2} + \dots + a_{2n}) - (a_1 + a_2 + \dots + a_n) = S_{2n} - S_n$$

$$\Rightarrow \frac{\text{مجموع } n \text{ جمله دوم}}{\text{مجموع } n \text{ جمله اول}} = \frac{S_{2n} - S_n}{S_n} = \frac{S_{2n}}{S_n} - \frac{S_n}{S_n} = \frac{S_{2n}}{S_n} - 1 \xrightarrow{\text{طبق الف}} (q^n + 1) - 1 = q^n$$

تمرین: در يك دنباله هندسی  $\frac{S_8}{S_4} = 17$  است. مقدار  $\frac{a_8}{a_4}$  را به دست آورید.

پاسخ: ۱۶

مثال: در دنباله هندسی  $\dots, \frac{1}{4}, \frac{1}{2}, 1$  مجموع ۴ جمله اول دنباله چند برابر مجموع ۴ جمله بعدی آن است؟

پاسخ:

$$\text{مجموع } 4 \text{ جمله اول دنباله} = S_4 = \frac{\left(\frac{1}{2}\right)^4 - 1}{\frac{1}{2} - 1} = \frac{-\frac{15}{16}}{-\frac{1}{2}} = \frac{15}{8}$$

$$\text{مجموع } 4 \text{ جمله دوم دنباله} = S_8 - S_4 = \frac{\left(\frac{1}{2}\right)^8 - 1}{\frac{1}{2} - 1} - \frac{\left(\frac{1}{2}\right)^4 - 1}{\frac{1}{2} - 1} = \frac{255}{128} - \frac{15}{8} = \frac{15}{128} \Rightarrow \frac{S_4}{S_8 - S_4} = \frac{\frac{15}{8}}{\frac{15}{128}} = \frac{128}{8} = 16$$

مثال: حداقل چند جمله از دنباله هندسی  $\dots, 2, 1, \frac{1}{2}$  را (با شروع از جمله اول) جمع کنیم تا حاصل بزرگ‌تر از ۹۰۰ شود؟

پاسخ: باید از نامعادله  $S_n > 900$  کم‌ترین مقدار  $n$  را بیابیم.

$$S_n = \frac{1}{\frac{1}{2}} \left( \frac{\left(\frac{1}{2}\right)^n - 1}{\frac{1}{2} - 1} \right) > 900 \Rightarrow 2^n - 1 > 1800 \Rightarrow 2^n > 1801 \Rightarrow n > 10 \Rightarrow \text{کم‌ترین مقدار } n \text{ برابر با } 11 \text{ است.}$$

مثال: در يك دنباله هندسی  $a_7 = 36$  و  $a_8 = 4$  است. اگر دنباله صعودی باشد، مقدار  $S_4$  را بیابید.

پاسخ:

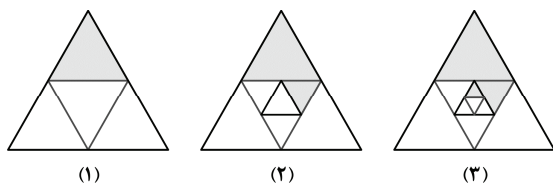
$$\begin{cases} a_8 = 4 \\ a_7 = 36 \end{cases} \Rightarrow q^{7-8} = \frac{36}{4} \Rightarrow q^2 = 9 \xrightarrow{\text{دنباله صعودی است}} q = 3 \Rightarrow a_1 = \frac{4}{81} \Rightarrow S_4 = \frac{4}{81} \left( \frac{3^4 - 1}{3 - 1} \right) = \frac{4}{81} \left( \frac{80}{2} \right) = \frac{160}{81}$$

مثال: اسب مسابقه‌ای را ۸۰۰۰۰۰ تومان قیمت گذاشتند ولی خریدار متعقد بود قیمت اسب گران است. فروشنده پیشنهادی به خریدار کرد، او گفت: «من اسب را به شما می‌دهم ولی ۲۰ میخ نعل‌های این اسب را به این طریق به شما می‌فروشم که برای میخ اول ۱ تومان، برای میخ دوم ۲ تومان، برای میخ سوم ۴ تومان و ... می‌گیرم». خریدار که از این پیشنهاد خوشحال شده بود، اسب را خرید. به نظر شما خریدار سود کرده یا ضرر؟ چه قدر؟

پاسخ: باید قیمت کل ۲۰ میخ را حساب کنیم. داریم:

$$\begin{cases} a_1 = 1 \\ q = 2 \Rightarrow S_{20} = 1 \left( \frac{2^{20} - 1}{2 - 1} \right) = 2^{20} - 1 = 1048575 \text{ تومان} \\ n = 20 \end{cases}$$

مشخص است که خریدار ضرر کرده است، چون قیمت میخ‌ها برابر با یک میلیون و چهل و هشت هزار و پانصد و هفتاد و پنج تومان شده، یعنی دویست و چهل و هشت هزار و پانصد و هفتاد و پنج تومان ضرر کرده است.



مثال: در شکل مقابل، وسط‌های اضلاع مثلثی متساوی‌الاضلاع را متوالیاً به هم وصل می‌کنیم و در هر مرحله یکی از مثلث‌های ایجاد شده را رنگ می‌نماییم و این کار را ادامه می‌دهیم. از مرحله چندم به بعد، بیش از  $\frac{33}{3}$  درصد مثلث اولیه رنگ می‌شود؟

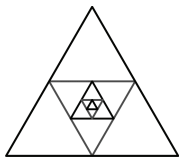
پاسخ:

$$S_n = \frac{1}{4} + \left(\frac{1}{4}\right)^2 + \left(\frac{1}{4}\right)^3 + \dots + \left(\frac{1}{4}\right)^n$$

باید  $S_n > \frac{33}{100}$  باشد، پس:

$$\frac{1}{4} \left( \frac{\left(\frac{1}{4}\right)^n - 1}{\frac{1}{4} - 1} \right) > \frac{33}{100} \Rightarrow -\frac{1}{3} \left( \left(\frac{1}{4}\right)^n - 1 \right) > \frac{33}{100} \xrightarrow{\times(-3)} \left(\frac{1}{4}\right)^n - 1 < -\frac{99}{100} \Rightarrow \frac{1}{4^n} < \frac{1}{100} \Rightarrow 4^n > 100 \Rightarrow n \geq 5$$

بنابراین، از شروع مرحله‌ی (پنجم) به بعد بیشتر از  $\frac{33}{3}$  درصد مثلث اولیه رنگ می‌شود.



مثال: در مثلث متساوی‌الاضلاع به ضلع واحد، وسط‌های اضلاع را متوالیاً به هم وصل می‌کنیم تا مثلث متساوی‌الاضلاع جدیدی به وجود آید و این کار را ادامه می‌دهیم. حداکثر تا مرحله چندم می‌توانیم این عمل را تکرار کنیم تا مجموع محیط‌های مثلث‌ها از  $\frac{5}{98}$  تجاوز نکند؟

پاسخ:

(چرا؟)  $3, \frac{3}{2}, \frac{3}{4}, \dots$  دنباله‌ی محیط‌های مثلث‌ها

مجموع محیط‌های مثلث‌ها نباید از  $\frac{5}{98}$  تجاوز کند، پس باید  $S_n \leq \frac{5}{98}$  باشد، داریم:

$$3 \left( \frac{\left(\frac{1}{2}\right)^n - 1}{\frac{1}{2} - 1} \right) \leq \frac{5}{98} \Rightarrow -6 \left( \frac{1}{2^n} - 1 \right) \leq \frac{5}{98} \Rightarrow \frac{6}{2^n} \geq 0.02 \Rightarrow 2^n \leq 300 \Rightarrow n \leq 8 \Rightarrow \text{حداکثر تا ۸ مرحله}$$

تمرین: برای از بین بردن ذرات معلق در یک محلول، آن را از صافی‌هایی عبور می‌دهیم. اگر در اثر عبور از هر صافی، تعداد ذرات معلق موجود در محلول نصف شود، حداقل چه تعداد صافی لازم است تا بیش از ۹۷ درصد ذرات معلق موجود در محلول از بین بروند؟

پاسخ: ۶

مثال: حاصل عبارات زیر را بیابید.

(الف)  $9 + 99 + 999 + \dots + \underbrace{99\dots9}_{10 \text{ مرتبه}}$

(ب)  $11 + 101 + 1001 + \dots + \underbrace{100\dots01}_{10 \text{ مرتبه}}$

پاسخ: (الف) دنباله را بدین صورت می‌نویسیم:

$$9, 99, 999, \dots, \underbrace{99\dots9}_{10} = 10 - 1, 10^2 - 1, 10^3 - 1, \dots, 10^{10} - 1 \Rightarrow (10 + 10^2 + 10^3 + \dots + 10^{10}) - (10 \times 1) = 10 \left( \frac{10^{10} - 1}{10 - 1} \right) - 10 = 10 \left( \frac{10^{10} - 10}{9} \right)$$

(ب) دنباله را بدین صورت می‌نویسیم:

$$11 + 101 + 1001 + \dots + \underbrace{100\dots01}_{10} = 10 + 1, 10^2 + 1, 10^3 + 1, \dots, 10^{10} + 1$$

$$\Rightarrow (10 + 10^2 + \dots + 10^{10}) + (11 \times 1) = 10 \left( \frac{10^{11} - 1}{10 - 1} \right) + 11 = \frac{10}{9} (10^{11} - 1) + 11$$