

۱. مقدمه


شیمی‌دان‌ها با مطالعه خواص و رفتار ماده، هم‌چنین برهم‌کنش نور با ماده، برای یافتن پاسخ این پرسش‌ها که «جهان هستی چگونه پدید آمده است؟» ذره‌های سازنده جهان هستی طی چه فرآیندی و چگونه به وجود آمده‌اند؟ سهم بسزایی داشته‌اند. تلاش دانشمندان برای شناخت کیهان هم‌چنان ادامه دارد. نمونه‌ای از آن، سفر طولانی و تاریخی دو فضاپیما به نام وویجر ۱ و ۲ (Voyager I, II) در سال ۱۹۷۷ میلادی (۱۳۵۶ خورشیدی) برای شناخت بیش‌تر سامانه خورشیدی است. دو فضاپیما مأموریت داشتند با گذر از کنار سیاره‌های مشتری، زحل، اورانوس و نپتون، شناسنامه‌های فیزیکی و شیمیایی آن‌ها را تهیه کنند و بفرستند. این شناسنامه‌ها می‌تواند حاوی اطلاعاتی باشد، مانند:

۱. نوع عنصرهای سازنده
۲. ترکیب‌های شیمیایی در اتمسفر آن‌ها
۳. ترکیب درصد مواد (این ترکیب‌های شیمیایی)

تذکر

شواهد تاریخی که از سنگ‌نیشته‌ها و نقاشی‌های دیوار غارها به دست آمده است نشان می‌دهد که انسان اولیه با نگاه به آسمان و مشاهده ستارگان در پی فهم نظام و قانونمندی در آسمان بوده است.

۲. عنصرها چگونه پدید آمدند؟



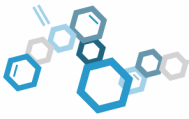
با بررسی نوع و مقدار عنصرهای سازنده برخی سامانه‌های خورشیدی و مقایسه آن با عنصرهای سازنده خورشید می‌توان به درک بهتری از چگونگی تشکیل عنصرها دست یافت. شکل روبه‌رو عنصرهای سازنده دو سیاره زمین و مشتری را نشان می‌دهد.



حال به چند نکته زیر در مورد شکل بالا توجه بفرمائید:

۱. زمین از جنس سنگ بوده و مقایسه عنصرهای سازنده آن به ترتیب درصد فراوانی، به صورت زیر است:

آلومینیم > کلسیم > (S) گوگرد > (Ni) نیکل > (Mg) منیزیم > (Si) سیلیسیم > (O) اکسیژن > (Fe) آهن



۲. فراوان ترین عنصر سازنده زمین آهن (Fe) است و پس از آن عنصرهای اکسیژن (O)، سیلیسیم (Si) و منیزیم (Mg) بیشترین درصد فراوانی را دارند.
۳. مقایسه درصد فراوانی عنصرهای سازنده سیاره مشتری به صورت زیر است:

مقایسه درصد فراوانی عنصرهای سازنده مشتری



(Ne) نئون > (Ar) آرگون > (S) گوگرد > (N) نیتروژن > (O) اکسیژن > (C) کربن > (He) هلیم > (H) هیدروژن

۴. بر این اساس، می توان پیش بینی کرد جنس سیاره مشتری بیش تر از جنس گاز است، زیرا فراوان ترین عنصر سازنده آن هیدروژن (H) و پس از آن گاز هلیم (He) است.

۵. عنصرهای اکسیژن (O) و گوگرد (S) در هر دو سیاره وجود دارند.

۶. نوع و میزان فراوانی عنصرها در دو سیاره زمین و مشتری متفاوت است.

مثال ۱ کدام یک از عبارتهای زیر درست هستند؟

الف) فراوان ترین عنصر سازنده سیاره مشتری گاز هلیم است.

ب) عنصرهای گوگرد و نیکل در هر دو سیاره زمین و مشتری وجود دارد.

پ) درصد فراوانی عنصر کلسیم از عنصر منیزیم در سیاره زمین کم تر است.

ت) هر سه عنصر کربن، نیتروژن و گوگرد در سیاره مشتری وجود دارند.

۱) الف) و ب) ۲) الف) و پ) و ت) ۳) ب) و پ) و ت) ۴) پ) و ت)

حل: گزینه ۴ درست است.

بررسی عبارتها:

الف) نادرست است، فراوان ترین عنصر سازنده سیاره مشتری گاز هیدروژن (H) است و پس از آن فراوان ترین عنصر، گاز هلیم (He) است.
ب) نادرست است، عنصرهای گوگرد (S) و اکسیژن (O) در هر دو سیاره زمین و مشتری وجود دارند (نیکل در سیاره مشتری وجود ندارد!).

پ) درست است، درصد فراوانی کلسیم (Ca) از منیزیم (Mg) در سیاره زمین کم تر است.

ت) درست است، هر سه عنصر کربن، نیتروژن و گوگرد در سیاره مشتری وجود دارند.



نکته تفاوت نوع و میزان فراوانی عنصرها در دو سیاره زمین و مشتری نشان می دهد که عنصرها به صورت ناهمگون در جهان هستی توزیع شده اند.

مهبانگ (Big bang): برخی دانشمندان معتقدند که سرآغاز کیهان با انفجاری مهیب (مهبانگ) همراه بود که طی آن انرژی عظیمی آزاد شده است. در آن شرایط پس از پدید آمدن ذره های زیراتمی مانند الکترون، نوترون و پروتون، عنصرهای هیدروژن و هلیم پا به عرصه وجود گذاشتند.



سحابی: با گذشت زمان و کاهش دما، گازهای هیدروژن و هلیم تولید شده، متراکم شد و مجموعه های گازی به نام سحابی ایجاد کرد. بعدها این سحابی ها سبب پیدایش ستاره ها و کهکشان ها شد.

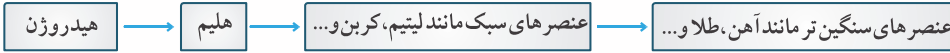
نکته سحابی عقرب یکی از مکان های زایش ستاره هاست.

ستاره ها: درون ستاره ها همانند خورشید در دماهای بسیار بالا و ویژه، واکنش های هسته ای رخ می دهد؛ واکنش هایی که در آنها از عنصرهای سبک تر، عنصرهای سنگین تر پدید می آید. ستارگان را می توان کارخانه تولید عنصرها دانست.

نکته دما و اندازه هر ستاره تعیین می کند که چه عنصرهایی باید در آن ستاره سافته شود. هر چه دمای ستاره بیش تر باشد، شرایط تشکیل عنصرهای سنگین تر فراهم می شود. چنین ستارگانی پس از چندین میلیون سال نورافشانی و گرمابفشی، پایداری خود را از دست داده، در انفجاری مهیب متلاشی شده اند و اتم های سنگین درون آنها در سرتاسر گیتی پراکنده شده اند. به همین دلیل باید ستارگان را کارخانه تولید عنصرها دانست.



به عبارت دیگر روند تشکیل عنصرها به صورت زیر است:



نکته ستاره‌ها متولد می‌شوند، رشد می‌کنند و زمانی می‌میرند. هرگز ستاره با انفجاری بزرگ همراه است که سبب می‌شود عنصرهای تشکیل شده در آن در فضا پراکنده شود.

مثال ۲ با گذشت زمان و ، گازهای هیدروژن و هلیم تولید شده متراکم شد و مجموعه‌های گازی به نام ایجاد کرد. باید را کارخانه تولید عنصرها دانست.

- ۱) کاهش دما، ستاره‌ها، سحابی
 - ۲) افزایش دما، ستاره‌ها، ستاره‌ها
 - ۳) کاهش دما، سحابی، ستاره‌ها
 - ۴) افزایش دما، سحابی، ستاره‌ها
- حل:** گزینه ۳ درست است.

با گذشت زمان و کاهش دما، گازهای هیدروژن و هلیم تولید شده متراکم شد و مجموعه‌های گازی به نام سحابی را ایجاد کرد. باید ستاره‌ها (ستارگان) را کارخانه تولید عنصرها دانست.



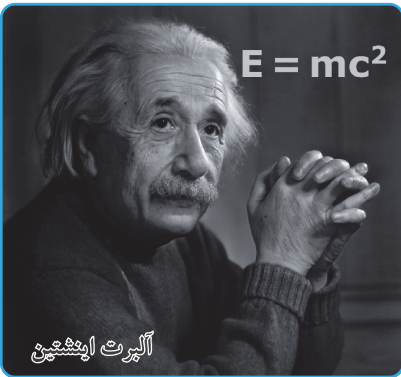
مثال ۳ کدام یک از عنصرهای زیر در یک ستاره کوچک و با دمای متوسط موجود است؟

- ۱) طلا
 - ۲) آهن
 - ۳) اورانیم
 - ۴) کربن
- حل:** گزینه ۴ درست است.

دما و اندازه هر ستاره تعیین می‌کند که چه عنصرهایی باید در آن ساخته شود. هرچه دمای ستاره بیش‌تر باشد، شرایط تشکیل عنصرهای سنگین‌تر (مثل طلا (Au)، آهن (Fe) و اورانیم (U)) فراهم می‌شود. در ستاره‌های کوچک و با دمای متوسط عنصرهای سبک مانند لیتیم، کربن و ... تولید می‌شود.



رابطه اینشتین



دریافتید که درون ستاره‌ها به دلیل انجام واکنش‌های هسته‌ای، انرژی بسیار زیادی آزاد می‌شود. اینشتین رابطه زیر را برای محاسبه انرژی تولید شده در واکنش‌های هسته‌ای ارائه کرد:

$$E = mc^2$$

که در رابطه بالا داریم:

m: جرم ماده بر حسب کیلوگرم (kg)

c: سرعت نور (($3 \times 10^8 \frac{m}{s}$)) بر حسب متر بر ثانیه ($\frac{m}{s}$)

E: انرژی آزاد شده بر حسب ژول (J)

نکته

$$1J = 1 \frac{kg \cdot m^2}{s^2} \quad یا \quad 1J = 1kgm^2s^{-2}$$

مثال ۴ تجربه نشان داده است که در تبدیل هیدروژن به هلیم، ۰/۰۰۲۴ گرم ماده به انرژی تبدیل می‌شود.

الف) حساب کنید در این واکنش هسته‌ای چندکیلو ژول انرژی تولید می‌شود؟

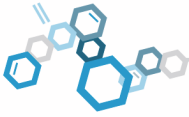
ب) حساب کنید این مقدار انرژی چند گرم آهن را ذوب خواهد کرد؟ (برای ذوب شدن یک گرم آهن ۲۴۷ ژول انرژی لازم است.)

حل: الف) برای محاسبه مقدار انرژی تولید شده در واکنش‌های هسته‌ای از رابطه اینشتین استفاده می‌کنیم:

$$E = mc^2$$

$$?kg = 0.0024g \times \frac{1kg}{1000g} \times (3 \times 10^8)^2 = 2.7 \times 10^{-6} kg$$

ابتدا یکای جرم ماده را از گرم به کیلوگرم تبدیل می‌کنیم:



حال در رابطه $E = mc^2$ جای گذاری می کنیم:

$$E = mc^2 = (2/4 \times 10^{-6} \text{ kg}) \times (3 \times 10^8 \frac{\text{m}}{\text{s}})^2 = 2/16 \times 10^{11} \frac{\text{kgm}^2}{\text{s}^2} = 2/16 \times 10^{11} \text{ J} = 2/16 \times 10^8 \text{ kJ}$$

ب) برای محاسبه مقدار آهن ذوب شده از تناسب استفاده می کنیم:

$$247 \text{ J} \rightarrow 1 \text{ g} \text{ آهن} \quad 247 \text{ J} \sim 1 \text{ g}$$

$$216 \times 10^{11} \text{ J} \rightarrow x \text{ g آهن}$$

$$\frac{1 \text{ g}}{x \text{ g}} = \frac{247 \text{ J}}{216 \times 10^{11} \text{ J}} \Rightarrow x = \frac{(216 \times 10^{11}) \times (1)}{247} = 8,7 \times 10^8 \text{ g آهن}$$



مثال ۵

در یک واکنش هسته‌ای ۰/۰۲ گرم ماده به انرژی تبدیل شده است. انرژی تولید شده چند ژول است؟ (سرعت انتشار نور در

خلأ $3 \times 10^8 \frac{\text{km}}{\text{s}}$ است.)

$$1/8 \times 10^{12} \quad (1) \quad 1/8 \times 10^{11} \quad (2) \quad 1/8 \times 10^6 \quad (3) \quad 1/8 \times 10^5 \quad (4)$$

حل: گزینه ۱ درست است.

طبق رابطه اینشتین، مقدار انرژی تولید شده در واکنش‌های هسته‌ای را می توان به دست آورد:

$$E = mc^2 \quad \text{ابتدا مقادیر داده شده را برحسب یکاهای قابل استفاده در رابطه بالا، به دست می آوریم:}$$

$$? \text{ kg} = 0,02 \text{ g} \times \frac{1 \text{ kg}}{1000 \text{ g}} = 2 \times 10^{-5} \text{ kg}$$

$$c = 3 \times 10^8 \frac{\text{km}}{\text{s}} \times \frac{1000 \text{ m}}{1 \text{ km}} = 3 \times 10^8 \frac{\text{m}}{\text{s}}$$

$$E = mc^2 = (2 \times 10^{-5} \text{ kg}) \times (3 \times 10^8 \frac{\text{m}}{\text{s}})^2 = 18 \times 10^{11} \text{ J} = 1/8 \times 10^{12} \text{ J}$$

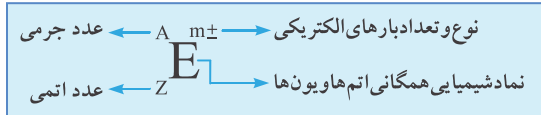
حال، با جای گذاری در رابطه، خواهیم داشت:



اخترشیمی: یکی از شاخه‌های جذاب شیمی است و به مطالعه مولکول‌هایی می پردازد که در فضاها بین ستاره‌ای یافت می شود. اختر شیمی دان‌ها توانسته‌اند وجود مولکول‌های گوناگونی را در مکان‌هایی بسیار دور ثابت کنند که تاکنون پای هیچ انسانی به آن‌جا نرسیده است.

۳. عدد جرمی و عدد اتمی

نماد شیمیایی عنصر: اتم یا یون هر عنصر را با نماد ویژه‌ای که یک یا دو حرفی است، نشان می دهند. در این نماد تعداد ذره‌های زیراتمی و بار الکتریکی اتم را نیز می توان مشخص کرد:



تذکر

نماد E، صرف نفست واژه Element به معنای عنصر است.

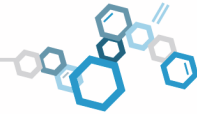
تذکر

برای نشان دادن تعداد الکترون‌های هرگونه (اتم یا یون) نیز از نماد E استفاده می کنیم.

عدد اتمی (Z): عدد اتمی (Z) تعداد پروتون‌های موجود در هسته هر اتم را مشخص می کند و با نماد Z نشان داده می شود.
عدد جرمی (A): به مجموع تعداد پروتون‌ها و نوترون‌های موجود در هسته اتم، عدد جرمی می گویند و آن را با نماد A نشان می دهند.

$$\text{تعداد نوترون‌ها} + \text{تعداد پروتون‌ها} = \text{عدد جرمی}$$

$$A = Z + N$$

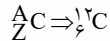


مثال ۶ نماد شیمیایی عنصر کربن با ۶ پروتون و ۶ نوترون کدام است؟

حل: عنصر کربن را با حرف C بزرگ نمایش می‌دهند. تعداد پروتون‌های اتم کربن برابر ۶ است یعنی عدد اتمی کربن برابر ۶ است ($Z=6$). و از آنجا که عدد جرمی برابر مجموع تعداد پروتون‌ها و نوترون‌هاست، عدد جرمی کربن نیز برابر ۱۲ می‌باشد ($A=Z+N=6+6=12$). در نتیجه نماد شیمیایی کربن را می‌توان به صورت زیر نوشت:

$$12 = 6 + 6 = \text{تعداد نوترون‌ها} + \text{تعداد پروتون‌ها} = A = Z + N$$

$$6 = \text{تعداد پروتون‌ها} = Z = \text{عدد اتمی}$$



نکته تعداد نوترون‌های هسته یک اتم مساوی یا بیش‌تر از تعداد پروتون‌های آن عنصر است (به جز هیدروژن معمولی (${}^1_1 H$) که نوترون ندارد).

یا تعداد پروتون‌ها \geq تعداد نوترون‌ها : در هسته اتم‌ها $N \geq Z$

مثال ۷ عدد جرمی عنصر M برابر ۴۵ و تفاوت تعداد پروتون‌ها و نوترون‌های آن برابر ۵ می‌باشد. عدد اتمی این عنصر کدام است؟

- ۱) ۲۰ ۲) ۲۵ ۳) ۴۰ ۴) ۴۵

حل: گزینه ۱ درست است.

عدد جرمی این عنصر برابر ۴۵ می‌باشد، یعنی مجموع تعداد پروتون‌ها و نوترون‌های آن برابر ۴۵ است: $A = Z + N \Rightarrow 45 = Z + N$. تفاوت تعداد پروتون‌ها و نوترون‌های هسته اتم این عنصر برابر ۵ است و طبق نکته بیان شده می‌دانیم که همواره تعداد نوترون‌ها بیش‌تر یا مساوی تعداد پروتون‌هاست، بنابراین نتیجه می‌گیریم در این عنصر تعداد نوترون‌ها ۵ تا بیش‌تر از تعداد پروتون‌هاست:

$$\begin{cases} Z + N = 45 \\ N - Z = 5 \end{cases} \Rightarrow N = 25, Z = 20$$

حال با حل دو معادله دو مجهول زیر، Z را به دست می‌آوریم:

بنابراین، عدد اتمی این عنصر برابر ۲۰ ($Z=20$) می‌باشد.



نکته اگر اتم عنصر M، n الکترون از دست دهد، بار آن برابر $n+$ (یون M^{n+}) می‌شود و اگر n الکترون بگیرد بار آن برابر

$n-$ (یون M^{n-}) می‌شود و اگر اتمی دارای بار نباشد، فنتی است، به عبارت دیگر تعداد الکترون‌ها و پروتون‌های آن برابر است. اما اگر گونه‌ای دارای بار منفی باشد به معنای آن است که تعداد الکترون‌های آن بیش‌تر از تعداد پروتون‌هاست و اگر دارای بار مثبت باشد به این معنی است که تعداد الکترون‌های آن کم‌تر از تعداد پروتون‌هاست زیرا بین اتم‌ها فقط الکترون جابه‌جا می‌شود.

مثال ۸ تعداد الکترون‌ها، پروتون‌ها و نوترون‌های اتم‌های ${}^{112}_{48} Cd^{2+}$ ، ${}^{24}_{12} Mg$ و ${}^{32}_{16} S^{2-}$ را بنویسید.

حل: $Z=48$: عدد اتمی و $A=Z+N=112$: عدد جرمی ${}^{112}_{48} Cd^{2+}$ ۱)

$$48 + N = 112 \Rightarrow N = 64$$

بنابراین می‌توان نوشت:

یعنی این اتم دارای ۴۸ پروتون و ۶۴ نوترون است. و چون بار الکتریکی این اتم (یون) برابر ۲ بار مثبت ($2+$) است، نتیجه می‌گیریم تعداد الکترون‌های آن، ۲ تا کم‌تر از تعداد پروتون‌های هسته آن اتم می‌باشد (۲ تا الکترون از دست داده است):

$$E = 48 - 2 = 46 \Rightarrow E = 46$$

یعنی این اتم دارای ۴۶ الکترون است.

$Z=12$: عدد اتمی و $A=Z+N=24$: عدد جرمی ${}^{24}_{12} Mg$ ۲)

یعنی این اتم دارای ۱۲ پروتون ($Z=12$) و ۱۲ نوترون ($N=12$) می‌باشد. و چون اتم خنثی است (بار الکتریکی ندارد)، تعداد

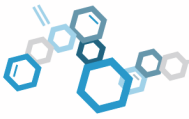
$$E = Z = 12$$

الکترون‌ها و پروتون‌های آن برابر است:

بنابراین این اتم دارای ۱۲ الکترون است.

$Z=16$: عدد اتمی و $A=Z+N=32$: عدد جرمی ${}^{32}_{16} S^{2-}$ ۳)

یعنی این اتم دارای ۱۶ پروتون ($Z=16$) و ۱۶ نوترون ($N=16$) است. و چون بار الکتریکی آن برابر ۲ بار منفی است ($2-$)، نتیجه می‌گیریم که تعداد الکترون‌های آن ۲ تا بیش‌تر از تعداد پروتون‌های آن است: $E = 16 + 2 = 18 \Rightarrow E = 18$



جمع بندی

اگر Z تعداد پروتون‌ها، E تعداد الکترون‌ها و N تعداد نوترون‌های اتم M باشد، خواهیم داشت: $A = Z + N$: عدد جرمی

Z : عدد اتمی

$N \geq Z$: در هسته همه اتم‌ها (به جز هیدروژن)

$$m = Z - E \rightarrow \begin{cases} E > Z \rightarrow M^{m-} & \text{(گونه دارای بار منفی)} \\ E = Z \rightarrow M & \text{(گونه خنثی)} \\ E < Z \rightarrow M^{m+} & \text{(گونه دارای بار مثبت)} \end{cases}$$



مثال ۹ اگر تفاوت تعداد الکترون‌ها با تعداد نوترون‌ها در یون تک اتمی ${}^{86}\text{A}^{4+}$ برابر ۱۴ باشد، عدد اتمی این عنصر کدام است؟

- ۳۴ (۱) ۳۸ (۲) ۴۸ (۳) ۵۲ (۴)

حل: گزینه ۲ درست است.

باتوجه به این که عدد جرمی عنصر ${}^{86}\text{A}^{4+}$ برابر ۸۶ است، نتیجه می‌گیریم مجموع تعداد پروتون‌ها و نوترون‌های آن برابر ۸۶ می‌باشد:

$$A = Z + N = 86$$

و از طرفی چون بار الکتریکی یون ${}^{86}\text{A}^{4+}$ برابر $4+$ است، نتیجه می‌گیریم تعداد الکترون‌های آن ۴ عدد کم‌تر از تعداد پروتون‌هاست:

$$Z - E = +4 \Rightarrow E = Z - 4$$

هم‌چنین از آن‌جا که تفاوت تعداد الکترون‌ها با نوترون‌ها برابر ۱۴ می‌باشد، می‌توان نوشت:

$$N - E = 14 \Rightarrow N - (Z - 4) = 14 \Rightarrow N - Z = 10$$

(در نظر داشته باشید که همواره تعداد نوترون‌ها بیش‌تر و یا مساوی تعداد پروتون‌ها و الکترون‌هاست)

$$\begin{cases} N - Z = 10 \\ N + Z = 86 \end{cases} \Rightarrow N = 48, Z = 38$$

حال با حل دو معادله دو مجهول زیر Z و N را به دست می‌آوریم:

بنابراین عدد اتمی این عنصر برابر با ۳۸ می‌باشد.



مثال ۱۰ تفاوت تعداد الکترون‌ها و نوترون‌های کدام یون، دو برابر تفاوت تعداد پروتون‌ها و نوترون‌ها در اتم ${}^{52}\text{Cr}$ است؟

- ${}_{13}^{27}\text{Al}^{3+}$ (۱) ${}_{51}^{112}\text{Sb}^{2-}$ (۲) ${}_{17}^{37}\text{Cl}^{-}$ (۳) ${}_{8}^{16}\text{O}^{2-}$ (۴)

حل: گزینه ۲ درست است.

ابتدا تفاوت تعداد پروتون‌ها و نوترون‌های ${}^{52}\text{Cr}$ را به دست می‌آوریم:

$${}^{52}\text{Cr} \rightarrow \text{عدد اتمی } Z = 24 \Rightarrow N = 28 \text{ و } A = Z + N = 52 \text{ عدد جرمی}$$

بنابراین تفاوت تعداد پروتون‌ها و نوترون‌های آن برابر $28 - 24 = 4$ می‌باشد.

حال تفاوت تعداد الکترون‌ها و نوترون‌های هر کدام از یون‌های داده شده را به دست می‌آوریم، این مقدار در هر کدام از گزینه‌ها برابر

$${}^{27}\text{Al}^{3+} \rightarrow A = Z + N = 27, Z = 13 \Rightarrow 13 + N = 27 \Rightarrow N = 14$$

عدد ۸ بود، آن را انتخاب می‌کنیم:

$$Z - E = +3 \Rightarrow 13 - E = +3 \Rightarrow E = 10$$

بار الکتریکی

بنابراین تفاوت تعداد الکترون‌ها و نوترون‌های آن برابر $N - E = 14 - 10 = 4$ می‌باشد.

$${}^{112}\text{Sb}^{2-} \rightarrow A = Z + N = 112, Z = 51 \Rightarrow 51 + N = 112 \Rightarrow N = 61$$

$$Z - E = -2 \Rightarrow 51 - E = -2 \Rightarrow E = 53$$

بار الکتریکی

بنابراین تفاوت تعداد الکترون‌ها و نوترون‌های آن برابر $N - E = 61 - 53 = 8$ می‌باشد (گزینه ۲ درست است).

$${}^{37}\text{Cl}^{-} \rightarrow A = Z + N = 37, Z = 17 \Rightarrow 17 + N = 37 \Rightarrow N = 20$$

$$Z - E = -1 \Rightarrow 17 - E = -1 \Rightarrow E = 18$$

بار الکتریکی

بنابراین تفاوت تعداد الکترون‌ها و نوترون‌های آن برابر $N - E = 20 - 18 = 2$ می‌باشد.



$${}^6_8\text{O}^{2-} \longrightarrow A = Z + N = 16, Z = 8 \Rightarrow 8 + N = 16 \Rightarrow N = 8$$

$$Z - E = -2 \Rightarrow 8 - E = -2 \Rightarrow E = 10$$

بنابراین تفاوت تعداد الکترون‌ها و پروتون‌های این اتم برابر $|N - E| = |8 - 10| = 2$ می‌باشد.



مثال ۱۱ عدد جرمی عنصر X برابر ۲۰۰ و تعداد نوترون‌های آن ۱/۵ برابر تعداد پروتون‌هاست. تعداد الکترون‌های X کدام است؟

- ۸۱ (۴) ۸۰ (۳) ۷۹ (۲) ۷۸ (۱)

حل: گزینه ۳ درست است.

عدد جرمی عنصر X برابر ۲۰۰ است، یعنی مجموع تعداد پروتون‌ها و نوترون‌های آن برابر ۲۰۰ است:

$$A = Z + N = 200 \quad \text{از طرفی، تعداد نوترون‌های آن } 1/5 \text{ برابر تعداد پروتون‌هاست، بنابراین می‌توان نوشت:}$$

$$N = 1/5 Z \quad \text{یا} \quad N = \frac{3}{5} Z$$

$$Z + N = 200 \Rightarrow Z + \frac{3}{5} Z = 200 \Rightarrow Z = 80$$

$$E = Z = 80 \quad \text{و چون اتم دارای بار نیست (خنثی است) تعداد الکترون‌های آن با تعداد پروتون‌ها برابر است:}$$



تذکر

الکترون‌ها و پروتون‌ها را ذره‌های زیراتمی باردار عنصر و نوترون‌ها را ذره‌های زیراتمی بدون بار عنصر می‌گویند.

نوکلئون: به پروتون یا نوترون موجود در هسته اتم، نوکلئون می‌گویند.

هم‌الکترون (ایزوالکترون): به عنصرها، یون‌ها و ترکیب‌های که دارای تعداد الکترون برابر هستند، گونه‌های هم‌الکترون گفته می‌شود. مثلاً یون‌های O^{2-} و F^- و Mg^{2+} و Na^+ دارای ۱۰ الکترون هستند، بنابراین آن‌ها را هم‌الکترون می‌نامند.



مثال ۱۲ کدام یک از عبارتهای زیر نادرست است؟

(الف) تفاوت تعداد الکترون‌ها و نوترون‌های ${}^{2x+2}_x\text{M}^{2+}$ برابر ۴ است.

(ب) نسبت تعداد ذره‌های باردار ${}^{11}_5\text{X}^{3-}$ به ذره‌های بدون بار ${}^{16}_6\text{Y}^+$ برابر $\frac{7}{5}$ است.

(پ) عدد جرمی برابر مجموع تعداد الکترون‌ها و پروتون‌هاست.

(ت) یون‌های OH^- ، Ne و O^{2-} هم‌الکترون هستند (H، O، Ne، H).

(۱) (الف) و (پ) (الف) و (ب) و (پ)

(۳) (ب) و (پ) و (ت) (ب) و (پ)

حل: گزینه ۴ درست است.

بررسی عبارتهای:

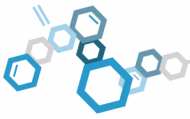
$$A = N + Z = 2x + 2, Z = x \Rightarrow N + x = 2x + 2 \Rightarrow N = x + 2 \quad \text{(الف) درست است.}$$

$$Z - E = +2 \Rightarrow x - E = 2 \Rightarrow E = x - 2 \longrightarrow N - E = x + 2 - (x - 2) = 4$$

بنابراین اختلاف تعداد الکترون‌ها و نوترون‌های ${}^{2x+2}_x\text{M}^{2+}$ برابر $|N - E| = 4$ می‌باشد.


(ب) نادرست است، وقتی می‌گوئیم ذره‌های باردار، منظور الکترون‌ها و پروتون‌های عنصر می‌باشند و وقتی می‌گوئیم ذره‌های بدون بار، منظور نوترون‌های عنصر هستند:

$$\frac{\text{تعداد ذره‌های باردار } {}^{11}_5\text{X}^{3-}}{\text{تعداد نوترون‌های بدون بار } {}^{16}_6\text{Y}^+} = \frac{\text{مجموع تعداد الکترون‌ها و پروتون‌ها } {}^{11}_5\text{X}^{3-}}{\text{تعداد نوترون‌های بدون بار } {}^{16}_6\text{Y}^+} = \frac{E_1 + Z_1}{N_2}$$



حال تعداد الکترون‌ها و پروتون‌های ${}^{110}\text{X}^{3-}$ را به دست می‌آوریم:
 $Z_1 = 51 =$ تعداد پروتون‌ها
 $E_1 - Z_1 = -3 \Rightarrow 51 - E_1 = -3 \Rightarrow E_1 = 54$ بار الکتريکی
 بنابراین مجموع تعداد الکترون‌ها و پروتون‌های این یون برابر $E_1 + Z_1 = 51 + 54 = 105$ می‌باشد.
 از طرفی تعداد نوترون‌های ${}^{106}\text{Y}^{+}$ برابر $106 - 46 = 60$ است، پس نسبت داده شده برابر $\frac{E_1 + Z_1}{N_p} = \frac{105}{60} = \frac{7}{4}$ است.
 (پ) نادرست است، عدد جرمی برابر مجموع تعداد پروتون‌ها و نوترون‌هاست.
 (ت) درست است، زیرا همه گونه‌های داده شده دارای ۱۰ الکترون هستند بنابراین هم‌الکترون محسوب می‌شوند.
 (۱) OH^- : عدد اتمی ${}^8\text{O}$ برابر ۸ و عدد اتمی H برابر ۱ می‌باشد، بنابراین چون هر دو اتم خنثی هستند، ترکیب آن‌ها یعنی OH نیز دارای $1 + 8 = 9$ الکترون می‌باشد و از طرفی ترکیب OH^- دارای یک بار منفی است پس ترکیب OH^- دارای ۱۰ الکترون می‌باشد.
 (۲) ${}^{10}\text{Ne}$: عدد اتمی ${}^{10}\text{Ne}$ برابر ۱۰ است و چون اتم خنثی است، تعداد الکترون‌ها برابر تعداد پروتون‌ها و مساوی ۱۰ می‌باشد.
 (۳) ${}^8\text{O}^{2-}$: $Z = 8$ و $Z - E = -2 \Rightarrow 8 - E = -2 \Rightarrow E = 10$ بار الکتريکی و $Z = 8$ بنابراین ${}^8\text{O}^{2-}$ دارای ۱۰ الکترون است.

۴. هم مکان (ایزوتوپ)



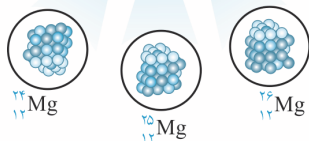
بررسی‌ها نشان می‌دهند که اغلب در یک نمونه طبیعی از عنصری معین، اتم‌های سازنده، جرم یکسانی ندارند.

ایزوتوپ (هم مکان): ایزوتوپ‌های یک عنصر دارای Z (عدد اتمی) یکسان اما A (عدد جرمی) متفاوت هستند. به عبارت دیگر، اتم‌های یک عنصر را که تعداد پروتون یکسان ولی تعداد نوترون متفاوتی دارند ایزوتوپ‌های آن عنصر می‌گویند. برای مثال بررسی یک نمونه منیزیم نشان می‌دهد که همه اتم‌های منیزیم در این نمونه یکسان نیست، بلکه مخلوطی از سه هم‌مکان (ایزوتوپ) ${}^{24}\text{Mg}$ ، ${}^{25}\text{Mg}$ و ${}^{26}\text{Mg}$ است.

شباهت‌ها و تفاوت‌های ایزوتوپ‌ها

شباهت ایزوتوپ‌ها } ۱. خواص شیمیایی یکسان دارند.
 ۲. در جدول دوره‌ای عنصرها در یک مکان قرار دارند.

خواص شیمیایی اتم‌های هر عنصر به عدد اتمی (Z) آن وابسته است؛ از این‌رو ایزوتوپ‌های یک عنصر (مثلاً اتم‌های منیزیم) همگی خواص شیمیایی یکسانی دارند و در جدول دوره‌ای تنها یک مکان را اشغال می‌کنند.



تفاوت ایزوتوپ‌ها } ۱. عدد جرمی و جرم اتمی متفاوت ← تعداد نوترون‌ها و در نتیجه عدد جرمی و جرم اتمی متفاوتی دارند.
 ۲. پایداری و زمان نیم عمر (ماندگاری) متفاوت ← برخی پایدار و برخی ناپایدار (پرتوزا) هستند.
 ۳. درصد فراوانی طبیعی متفاوت ← بسته به میزان پایداری درصد فراوانی متفاوتی دارند.
 ۴. خواص فیزیکی وابسته به جرم متفاوت ← برخی خواص فیزیکی وابسته به جرم مثل چگالی نقطه ذوب و نقطه جوش متفاوتی دارند.

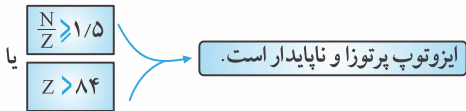
۵. پایداری ایزوتوپ‌ها

ایزوتوپ‌های یک عنصر را با توجه به میزان پایداری به دو گروه عمده می‌توان تقسیم کرد } ۱. ایزوتوپ‌های پایدار
 ۲. ایزوتوپ‌های ناپایدار و پرتوزا (رادیوایزوتوپ‌ها)



ایزوتوپ‌های ناپایدار: هسته ایزوتوپ‌های ناپایدار، ماندگار نیست و با گذشت زمان متلاشی می‌شود. این ایزوتوپ‌ها پرتوزا هستند و اغلب بر اثر تلاشی افزون بر ذره‌های پرنانرژی، مقدار زیادی انرژی نیز آزاد می‌کنند. ایزوتوپ‌های پرتوزا و ناپایدار، رادیو ایزوتوپ نامیده می‌شود.

نکته اغلب هسته‌هایی که نسبت شمار نوترون‌ها به پروتون‌های آن‌ها برابر یا بیش‌تر از $1/5$ باشد، پرتوزا و ناپایدارند و با گذشت زمان متلاشی می‌شوند. همچنین اگر عدد اتمی عنصری بیش از 84 باشد ($Z > 84$) می‌توان آن عنصر را پرتوزا و ناپایدار دانست:



تذکر

بدیهی است که اگر ایزوتوپی ناپایدار نباشد، پایدار است!!!



مثال ۱۳ کدام یک از اتم‌های مقابل پایدارند؟

حل:

${}^1_1\text{H} \rightarrow A = N + Z = 1, Z = 1 \Rightarrow 1 + N = 1 \Rightarrow N = 0 \Rightarrow \frac{N}{Z} = \frac{0}{1} = 0 \leq 1/5 \Rightarrow$ پایدار

${}^2_1\text{H} \rightarrow A = N + Z = 2, Z = 1 \Rightarrow 1 + N = 2 \Rightarrow N = 1 \Rightarrow \frac{N}{Z} = \frac{1}{1} = 1 < 1/5 \Rightarrow$ پایدار

${}^3_1\text{H} \rightarrow A = N + Z = 3, Z = 1 \Rightarrow 1 + N = 3 \Rightarrow N = 2 \Rightarrow \frac{N}{Z} = \frac{2}{1} > 1/5 \Rightarrow$ ناپایدار و پرتوزا

${}^{27}_{13}\text{Al} \rightarrow A = N + Z = 27, Z = 13 \Rightarrow 13 + N = 27 \Rightarrow N = 14 \Rightarrow \frac{N}{Z} = \frac{14}{13} < 1/5 \Rightarrow$ پایدار

${}^{89}_{47}\text{Ac} \rightarrow Z > 84 \Rightarrow$ ناپایدار و پرتوزا

${}^{196}_{77}\text{Ir} \rightarrow A = N + Z = 196, Z = 77 \Rightarrow N + 77 = 196 \Rightarrow N = 119 \Rightarrow \frac{N}{Z} = \frac{119}{77} = 1/54 > 1/5 \Rightarrow$ ناپایدار و پرتوزا

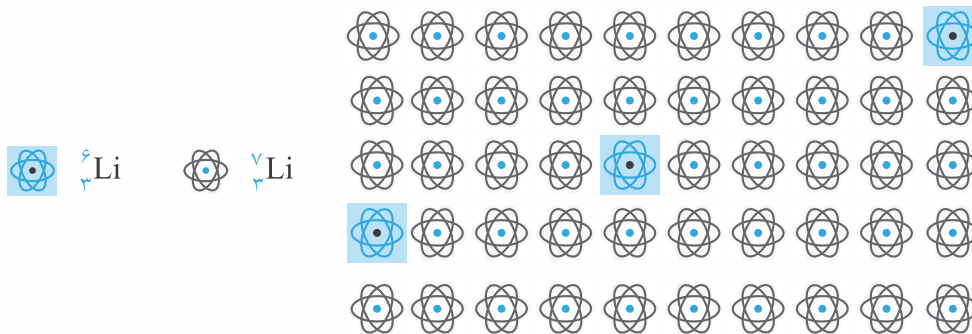


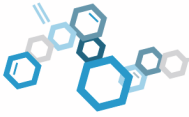
درصد فراوانی: به نسبت تعداد ایزوتوپ‌های معین از یک عنصر، به کل اتم‌های (ایزوتوپ‌های) مخلوط طبیعی آن عنصر، درصد فراوانی آن ایزوتوپ می‌گویند:

$a_i = i$ درصد فراوانی ایزوتوپ $= \frac{\text{تعداد ایزوتوپ‌های مورد نظر (i)}}{\text{کل ایزوتوپ‌ها}} \times 100$



مثال ۱۴ شکل زیر شمار تقریبی اتم‌های لیتیم را در یک نمونه طبیعی از آن نشان می‌دهد. با توجه به آن، درصد فراوانی هریک از ایزوتوپ‌های آن را حساب کنید.





حل:

$$a_7 = {}^7\text{Li} = \frac{\text{تعداد ایزوتوپ } {}^7\text{Li}}{\text{کل ایزوتوپ}} \times 100 = \frac{47}{50} \times 100 = 94\%$$

$$a_6 = {}^6\text{Li} = \frac{\text{تعداد ایزوتوپ } {}^6\text{Li}}{\text{کل ایزوتوپ}} \times 100 = \frac{3}{50} \times 100 = 6\%$$



نیم عمر: نیم عمر هر ایزوتوپ نشان می دهد که آن ایزوتوپ تا چه اندازه پایدار است. به طوری که هر چه ایزوتوپ پایدارتر باشد، نیم عمر آن طولانی تر است.

نکته درصد فراوانی هر ایزوتوپ با پایداری و نیم عمر آن ایزوتوپ نسبت مستقیم دارد. به طوری که هر چه ایزوتوپ پایدارتر باشد، نیم عمر و درصد فراوانی آن بیش تر خواهد بود.

نکته درصد فراوانی فقط برای ایزوتوپ های پایدار تعریف می شود، زیرا هسته ایزوتوپ های ناپایدار و پرتوزا، ماندگار نیست و با گذشت زمان متلاشی می شود. به عبارت دیگر، یک نمونه طبیعی فقط مخلوطی از ایزوتوپ های پایدار است.



مثال ۱۵ داده های جدول زیر را به دقت بررسی کنید؛ سپس به پرسش های مطرح شده پاسخ دهید. (با هم بیندیشیم - کتاب درسی)

نماد ایزوتوپ ویژگی ایزوتوپ	${}^1\text{H}$	${}^2\text{H}$	${}^3\text{H}$	${}^4\text{H}$	${}^5\text{H}$	${}^6\text{H}$	${}^7\text{H}$
نیم عمر	پایدار	پایدار	۱۲/۳۲ سال	1.4×10^{-22} ثانیه	9.1×10^{-22} ثانیه	2.9×10^{-22} ثانیه	2.3×10^{-23} ثانیه
درصد فراوانی در طبیعت	۹۹/۹۸۸۵	۰/۰۱۱۴	ناچیز	۰ (ساختگی)	۰ (ساختگی)	۰ (ساختگی)	۰ (ساختگی)

آ - چه شباهت ها و تفاوت هایی میان این ایزوتوپ ها وجود دارد؟

ب - یک نمونه طبیعی از عنصر هیدروژن، مخلوطی از چند ایزوتوپ است؟

پ - کدام ایزوتوپ هیدروژن از همه ناپایدارتر است؟

ت - چند ایزوتوپ هیدروژن پرتوزا است؟ توضیح دهید.

ث - چه تعداد از ایزوتوپ های هیدروژن، رادیو ایزوتوپ به شمار می رود؟

حل: آ - شباهت ها: عدد اتمی (Z) یکسان در نتیجه نوع عنصر (هیدروژن) و خواص شیمیایی آن ها یکسان است.

تفاوت ها: ۱- عدد جرمی و ۲- نیم عمر و پایداری ۳- درصد فراوانی در طبیعت

ب - زمان نیم عمر ${}^7\text{H}$ از همه کم تر است، بنابراین از همه ناپایدارتر است.

پ - زمان نیم عمر ایزوتوپ ${}^3\text{H}$ از همه کوتاه تر است، بنابراین از همه ناپایدارتر است. هم چنین با توجه به درصد فراوانی ایزوتوپ ${}^1\text{H}$ ، می توان گفت ${}^1\text{H}$ از همه ایزوتوپ ها پایدارتر است.

ت - نسبت تعداد نوترون ها به پروتون های همه ایزوتوپ ها را به دست می آوریم، ایزوتوپ هایی که این نسبت برای آن ها از ۱/۵

بزرگ تر باشد، ناپایدار و پرتوزا هستند: پایدار $\Rightarrow \frac{N}{Z} = 0 < 1/5 \Rightarrow N = 0 \Rightarrow N + 1 = 1 \Rightarrow Z = 1 \Rightarrow A = N + Z = 1$

پایدار $\Rightarrow \frac{N}{Z} = 1 < 1/5 \Rightarrow N = 1 \Rightarrow N + 1 = 2 \Rightarrow Z = 1 \Rightarrow A = N + Z = 2$

ناپایدار و پرتوزا $\Rightarrow \frac{N}{Z} = 2 > 1/5 \Rightarrow N = 2 \Rightarrow N + 1 = 3 \Rightarrow Z = 1 \Rightarrow A = N + Z = 3$

ناپایدار و پرتوزا $\Rightarrow \frac{N}{Z} = 3 > 1/5 \Rightarrow N = 3 \Rightarrow N + 1 = 4 \Rightarrow Z = 1 \Rightarrow A = N + Z = 4$

ناپایدار و پرتوزا $\Rightarrow \frac{N}{Z} = 4 > 1/5 \Rightarrow N = 4 \Rightarrow N + 1 = 5 \Rightarrow Z = 1 \Rightarrow A = N + Z = 5$