



کلاس:

معلم:



هفته‌ی اول مهرماه

نام:

نام خانوادگی:



صفحه‌ی ۴ تا



۱ کدام یک از وسایل زیر در خانه‌ی شما وجود دارد؟ رنگ کن.



۲ لباس مربوط به بابا را آبی و لباس مربوط به آزاده را قرمز کن.



۳ هر کدام از وسایل مربوط به چه کسی است؟ وصل کن.

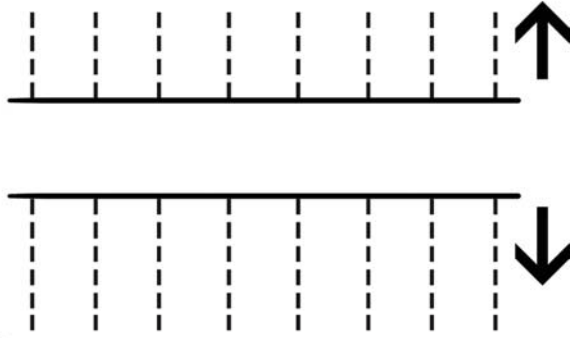



خرید آنلاین در [www.gajmarket.com](http://www.gajmarket.com)

۵۵



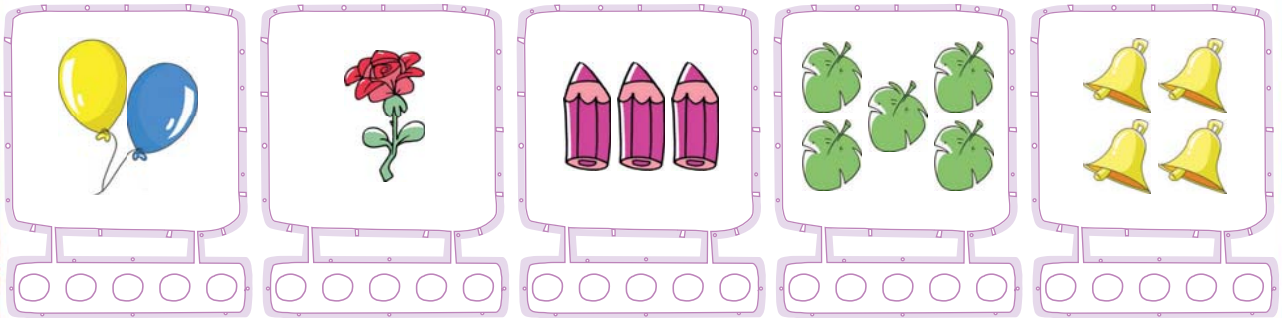
نقطه چین ها را پررنگ و شکل را رنگ آمیزی کن.



«بخش (۱)» • صفحه ی ۲ تا ۷

ریاضی

تعداد اشیای هر دسته را بشمار و به اندازه ی آن ها از گردی ها رنگ کن.



دور دسته ای که یک الگوی مشخص دارد، خط بکش و الگوی آن را با رنگ کردن نشان بده.











پیک آدینه • پایه ی اول دبستان






دسته‌هایی را که تعداد شکل‌هایشان مثل هم است، با خطکش به هم وصل کن.




طبق الگو، رنگ کردن شکل‌ها را ادامه بده.



درس ۱ «زنگ علوم» • صفحه‌ی ۱۰ تا ۱۳

علوم

با توجه به جهت تابش نور خورشید، در کدام تصویر، سایه‌ی درخت در ساعت ۹ صبح، درست رسم شده است؟

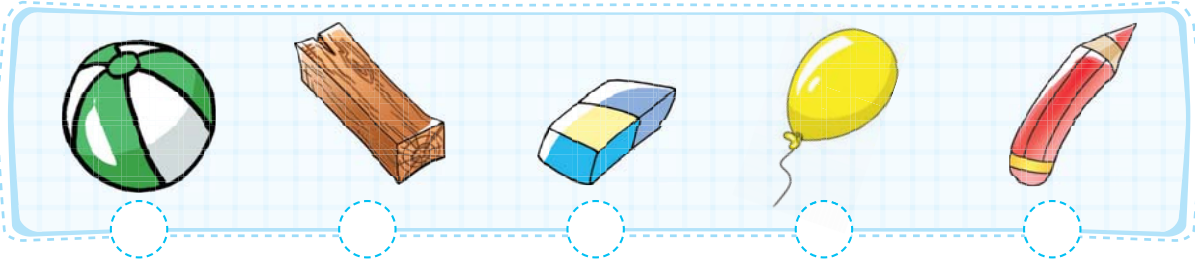


۳

۲

۱

۲ به شکل های زیر نگاه کن. گردی آنهایی را که روی آب قرار می گیرند، آبی و گردی آنهایی را که به زیر آب فرو می روند قرمز کن.



۳ برای دیدن چیزهای اطراف مان از چه اندامی استفاده می کنیم؟ **X** بزنی.



۴ قبل از خوردن غذا باید کدام کار را انجام دهیم؟ **X** بزنی.



### همسال سنجی

به اکثر سؤالات اشتباه پاسخ داده	به نیمی از سؤالات به درستی پاسخ داده	به اکثر سؤالات به درستی پاسخ داده	خیلی خوب	معیارها
				دوستم به سؤالات فارسی چگونه پاسخ داده است؟
				دوستم به سؤالات ریاضی چگونه پاسخ داده است؟
				دوستم به سؤالات علوم چگونه پاسخ داده است؟

نظر توصیفی معلم:







کلاس:

معلم:

# هفتگی ۲

هفتگی دوم مهرماه

نام:

نام خانوادگی:



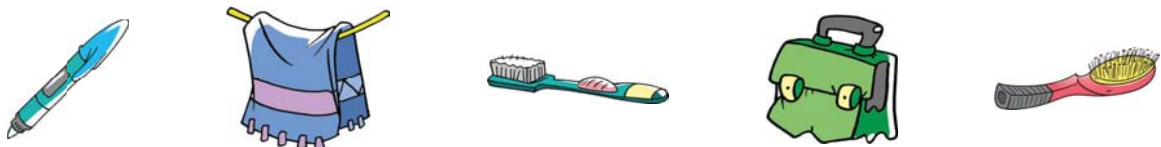
صفحه ۵ تا ۱۱

## فارسی

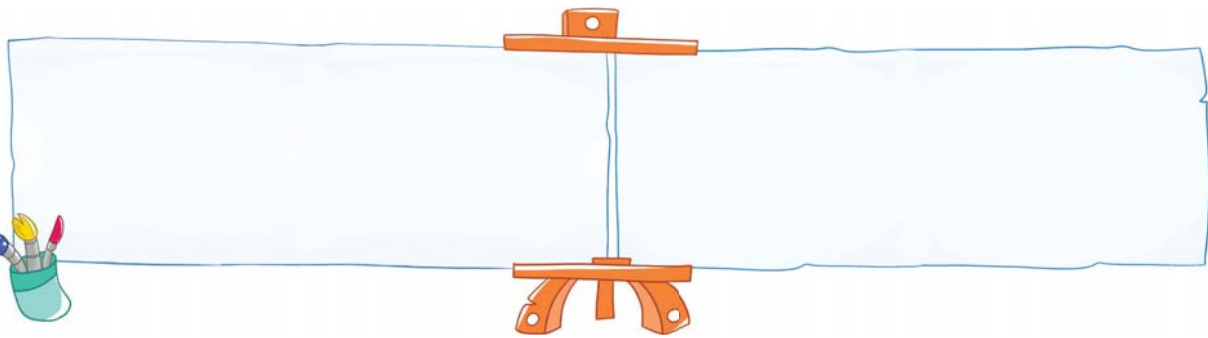
۱ کدام کودک آماده‌ی رفتن به مدرسه است؟ **X** بزن.



۲ کدام یک از وسایل زیر کاملاً شخصی است و دیگران **نباید** از آن استفاده کنند؟ دور آن‌ها خط بکش.



۳ دو وسیله را که هر روز در مدرسه می‌بینی، نقاشی کن.



۴ کدام تصویرها کار درست را نشان می‌دهند؟ گردی آن‌ها را رنگ کن.



خرید آنلاین در [www.gajmarket.com](http://www.gajmarket.com)

۵۵





نقطه چین ها را پررنگ کن.



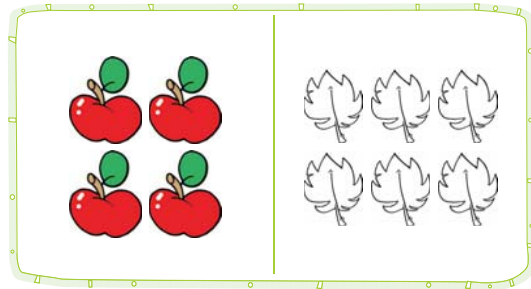
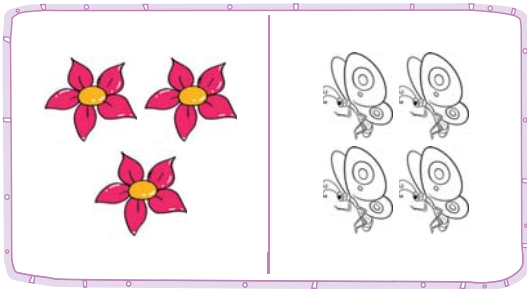
«بخش (۲)» • صفحه ۹ تا ۱۴




ریاضی



به اندازه ی شکل های سمت چپ از شکل های سمت راست رنگ بزن.



جدول های زیر را کامل کن.

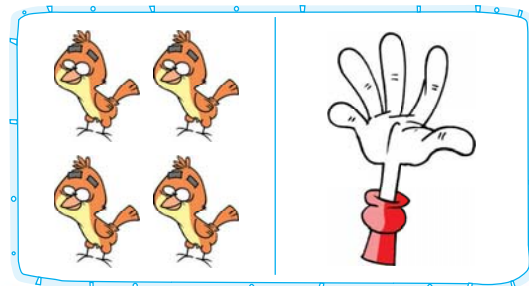
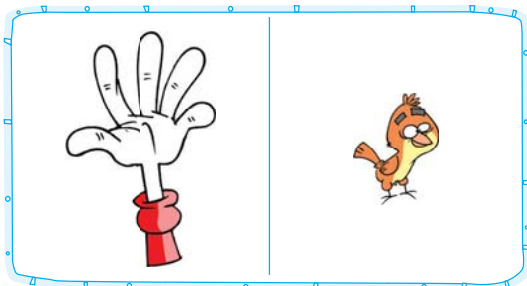


الگوهای زیر را ادامه بده و تا آخر سطر شکل های بعدی را بکش.



به تعداد شکل های سمت راست از انگشتان دست راست و به تعداد شکل های سمت چپ از انگشتان

دست چپ رنگ کن.



سنگ



پیک آدینه • پایه ی اول دبستان



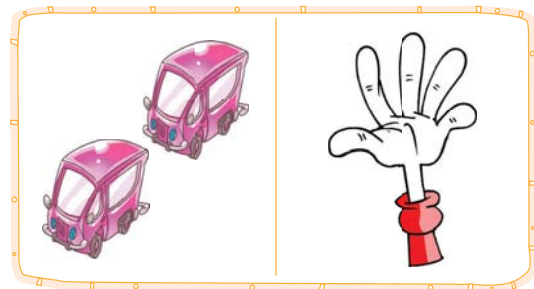
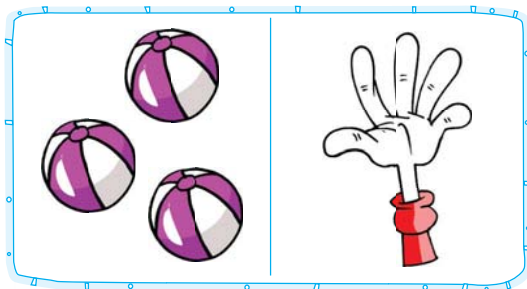




اگر به شکل‌های هر دسته یک شکل اضافه کنیم، چه عددی را نشان می‌دهند؟ از انگشتان دست به همان تعداد رنگ کن.



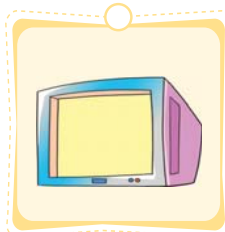

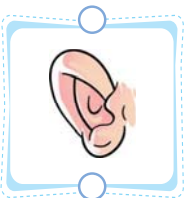

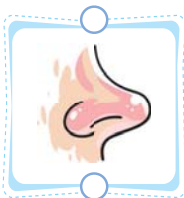


یکی قبل از تعداد شکل‌های هر دسته، چه عددی می‌شود؟ از انگشتان دست به همان تعداد رنگ کن.



درس ۲ «سلام، به من نگاه کن!» • صفحه‌ی ۱۴ تا ۱۷



برای استفاده از تصویرهای زیر، از کدام اندام حسی استفاده می‌شود؟ آن‌ها را به هم وصل کن.

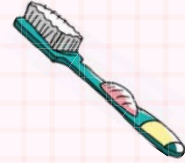
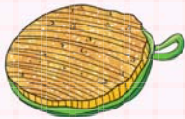




۲ کدام یک از نوشیدنی‌های زیر مزه ندارد؟ **X** بزن.



۳ با دست زدن به کدام یک از وسایل زیر احساس نرمی می‌کنی؟ زیر آن **X** بزن.



۴ کدام کارها به چشم آسیب می‌رساند؟ با **X** مشخص کن.



پیک آدینه • پایه اول دبستان



### همسال سنجی

به اکثر سؤالات اشتباه پاسخ داده	به نیمی از سؤالات به درستی پاسخ داده	به اکثر سؤالات به درستی پاسخ داده	خیلی خوب	معیارها
				دوستانم به سؤالات فارسی چگونه پاسخ داده است؟
				دوستانم به سؤالات ریاضی چگونه پاسخ داده است؟
				دوستانم به سؤالات علوم چگونه پاسخ داده است؟

نظر توصیفی معلم:







کلاس:

معلم:



هفته سوم مه‌ماه

نام:


نام خانوادگی:



صفحه ۱۲ تا ۱۸



گردی کارهای درست را آبی و گردی کارهای نادرست را قرمز کن.




گردی چیزهایی را که در کلاس می‌بینی آبی، چیزهایی را که در پارک می‌بینی سبز و چیزهایی را که در روستا می‌بینی، زرد کن.



می‌بینی، زرد کن.



گردی شکل‌هایی را که صدای اول آن‌ها مثل هم است، یک رنگ کن.



www.gajmarket.com در خرید آنلاین

۵۵






۴ صدای آخر کدام تصویر با بقیه فرق دارد؟ **X** بزن.



۵ وسایل مورد نیاز برای رفتن به مدرسه را پیدا کن و **X** بزن.



۶ نقطه چین ها را پررنگ کن.



بخش (۳) • صفحه‌ی ۱۶ تا ۲۱



ریاضی

۱ به هر دسته ۲ تا شکل اضافه کن و به تعداد آن‌ها از شکل‌های زیر هر دسته رنگ کن.

