


**۱۲۱**

پاسخ درست و کامل پرسش‌های زیر در کدام گزینه مطرح شده است؟

الف) همه گزینه‌ها بیانگر مفهوم کالاهای سرمایه‌ای است، به جز: .....

ب) از نظر اقتصاددانان، معنا و مفهوم اصطلاح "کمیابی" کدام است؟

ج) کدام گزینه، به ترتیب بیانگر: نمونه کالاهای ضروری - نمونه کالاهای سرمایه‌ای - نمونه کالاهای لوکس و تجملی است.

۱) الف) در فرآیند "تولید" خدمات آن‌ها مورد استفاده قرار می‌گیرد. ب) منابع و امکانات موجود امکان مصارف متعدد دارند. - با روش‌های مختلفی می‌توان از منابع و امکانات در دسترس استفاده کرد. ج) دارو - مسکن - ماشین‌آلات

۲) الف) شامل ابزار تولید و تجهیزاتی است که به وسیله بنگاه‌های تولیدی به کار گرفته می‌شود. ب) منابع و امکانات و ثروت‌های طبیعی محدود است. - روش‌های استفاده از منابع و امکانات متنوع است. ج) نمک - پوشاک - داروهای ویتامینه

۳) الف) در طول زمان با دوام هستند و تولیدکننده به وسیله آن‌ها ارزش افزوده ایجاد می‌کند. ب) انسان در بهره‌برداری هم زمان از منابع و امکانات محدودیت دارد. - منابع و ثروت‌های طبیعی کاربردهای گوناگون دارند. ج) نمک - فرش‌های گران‌قیمت - ابزار تولید

۴) الف) با تبدیل به "عوامل تولید" به فرآیند تولید کمک می‌کند. ب) انسان در بهره‌برداری از منابع و امکانات موجود محدودیت دارد. - منابع و امکانات موجود محدود است. ج) دارو - یخچال در مغازه بستنی‌فروشی - لوستر نورافشان

**۱۲۲**

در یک جامعه فرضی، یک دستگاه کالای سرمایه‌ای را به قیمت: ۷۲ میلیارد ریال خریداری کرده‌ایم و عمر مفید آن ۱۲ سال است. در این صورت:

الف) هر سال چه میزان سرمایه به‌عنوان هزینه استهلاکی باید کنار گذاشته شود؟

ب) چنانچه در سه سال آخر عمر مفید این کالای سرمایه‌ای، ۵٪ کاهش بها یافته باشد، مجموع هزینه استهلاکی سه سال آخر چه مقدار خواهد بود؟

ج) قیمت جدید کالای سرمایه‌ای کدام است؟

توجه: ارقام به میلیون و میلیارد ریال است.

۲) الف) ۶ ب) ۱۷,۱۰۱ ج) ۶۴,۸۰۰,۰۰۰

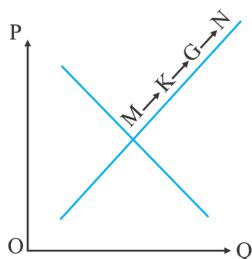
۱) الف) ۶ ب) ۱۷,۱۰۰ ج) ۶۸,۴۰۰,۰۰۰

۴) الف) ۷ ب) ۱۷,۱۰۱ ج) ۶۸,۴۰۰,۰۰۰

۳) الف) ۷ ب) ۱۷,۱۰۰ ج) ۶۴,۸۰۰,۰۰۰

**۱۲۳**

باتوجه به نمودار منحنی "....." علت حرکت از نقطه M به N، کدام است؟



۱) عرضه - قیمت بالاتر و عرضه کمتر

۲) تقاضا - قیمت پایین‌تر و تولید بیشتر

۳) عرضه - قیمت بیشتر و عرضه بیشتر

۴) تقاضا - توانایی تولید کمتر و قیمت بالاتر

پاسخ درست و کامل سؤالات زیر در کدام گزینه، مطرح شده است؟

الف) مطلب زیر مربوط به کدام مورد است؟

"در تحکیم بنیان‌های اقتصادی اصل، رفع نیازهای انسان در جریان رشد و تکامل اوست، نه همچون دیگر نظام‌های اقتصادی، تمرکز و تکثیر ثروت و سودجویی، زیرا در مکاتب مادی، اقتصاد عامل تخریب و فساد و تباهی می‌شود و در اسلام "....." است و از آن جزء کارآیی بهتر در راه وصول به مقصد و منظور مطلوب انتظار دیگری نمی‌توان داشت."

ب) بانک "....." مستقر در جده "....." بوده و بانک "....." محسوب می‌شود.

ج) مطلب زیر مربوط به کدام مورد است؟

"هر کشوری در پی جذب سرمایه‌گذاری خارجی برای کشور خود است. تا بدین ترتیب نه تنها پس‌اندازهای داخلی بلکه پس‌اندازهای کشورهای دیگر را نیز در جهت رشد و افزایش کارخانه‌ها و بخش‌های تولید داخل به کار گیرد."

د) علاوه بر خرید حضوری روش دیگر برای سرمایه‌گذاری در بورس، کدام است؟

۱) الف) اصل ۴۴ قانون اساسی - اقتصاد وسیله است نه هدف ب) توسعه اسلامی - وابسته به سازمان ممالک اسلامی حوزه خلیج فارس - تعاونی اسلامی ج) جابه‌جایی عوامل تولید - سرمایه‌گذاری‌های استعماری در ممالک جهان سوم د) اشخاص می‌توانند از طریق اینترنت به خرید سهام در بورس، اقدام کرده و تأیید عضویت خود را از سامانه معاملاتی بورس تقاضا نمایند.

۲) الف) مقدمه قانون اساسی - اقتصاد وسیله است نه هدف ب) توسعه اسلامی - وابسته به سازمان کنفرانس اسلامی - توسعه‌ای ج) مبادلات بین‌المللی در بازارهای نیروی کار و سرمایه - حرکت سرمایه د) اشخاص می‌توانند از طریق اینترنت نیز به خرید اقدام کنند و پس از عملیات، نمونه چاپی آن را به‌عنوان رسید دریافت نمایند.

۳) الف) مقدمه قانون اساسی - اقتصاد هدف است، نه وسیله ب) توسعه تعاونی جهان اسلام - وابسته به سازمان ممالک اسلامی حوزه خلیج فارس - توسعه‌ای ج) مبادلات بین‌المللی در بازارهای نیروی کار و سرمایه - مصادره سرمایه‌های خارجی د) با ثبت‌نام در اینترنت تأیید عضویت خود را از سامانه معاملاتی بورس، درخواست نمایند.

۴) الف) اصل ۴۳ قانون اساسی - اقتصاد هدف است، نه وسیله ب) توسعه تعاونی جهان اسلام - وابسته به سازمان کنفرانس اسلامی - تعاونی اسلامی ج) جابه‌جایی عوامل تولید - فرار سرمایه‌ها به خارج د) از طریق اینترنت ثبت‌نام کرده و رسید واریز مبلغ سرمایه‌گذاری را به کارگزاری مربوطه ارسال نمایند.

مندرجات جدول زیر، مربوط به یک جامعه فرضی است. چنانچه مجموع ارزش اقلام: مواد غذایی، پوشاک و ماشین‌آلات ۱۴۵

میلیارد ریال باشد، در این صورت:

الف) تولید خالص ملی،

ب) تولید ناخالص داخلی،

ج) تولید خالص داخلی سرانه،

در این جامعه، کدام است؟

۱	هزینه استهلاك	$\frac{1}{4}$ ارزش خدمات ارائه شده
۲	جمعیت کل کشور	۲۵ میلیون نفر
۳	ارزش تولید خارجیان مقیم کشور	۳۳ میلیارد ریال
۴	ارزش تولید مردم کشور که در خارج اقامت دارند.	$\frac{1}{3}$ ارزش تولید خارجیان مقیم کشور
۵	ارزش خدمات ارائه شده	۴۴ میلیارد ریال

(۲) الف) ۱۸۹ - ب) ۲۲۲ - ج) ۸,۴۴

(۱) الف) ۱۸۹ - ب) ۲۱۱ - ج) ۷,۳۳

(۴) الف) ۲۰۰ - ب) ۲۲۲ - ج) ۸,۴۴

(۳) الف) ۲۰۰ - ب) ۲۱۱ - ج) ۷,۳۳

کدام گزینه، بیانگر پاسخ درست و کامل سؤالات زیر است؟

الف) به تمامی مراحل "....."، "....." اطلاق می‌شود.

ب) کالاها و خدماتی را که تولید آن‌ها بدون توجه به میزان: سود، هزینه و بازار انجام می‌شود، "....." می‌نامند.

ج) همه فعالیت‌های تولیدی در "محاسبه تولید کل جامعه" مورد سنجش قرار می‌گیرند، به جز:

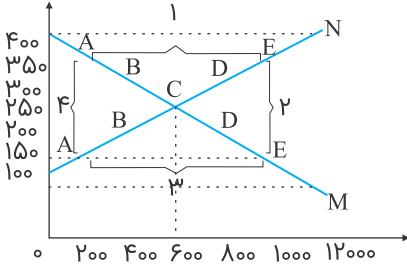
(۱) الف) کارآفرینی - ایجاد ارزش افزوده ب) محصولات تاکتیکی ج) فعالیت زنان در کارگاه‌های قالب‌بافی

(۲) الف) کارآفرینی - زنجیره خلق ارزش ب) محصولات حیات‌شده ج) کاشت میوه و سبزیجات گلخانه‌ای

(۳) الف) زنجیره خلق ارزش - ایجاد ارزش افزوده ب) محصولات نرم ج) فعالیت تولیدی زنان در خانه و تربیت فرزندان

(۴) الف) ایجاد ارزش افزوده - زنجیره خلق ارزش ب) محصولات راهبردی ج) کاشت سبزیجات در منزل برای مصرف خانگی

- (الف) کدام شماره، بیانگر مازاد عرضه است؟  
 (ب) کدام دو نقطه، به ترتیب بیانگر قیمت و مقدار و مفهوم تعادلی است؟  
 (ج) کدام شماره، مبین مفهوم کمبود عرضه است؟  
 (د) کدام حروف به ترتیب، بیانگر منحنی تقاضا و عرضه است؟  
 (هـ) کدام دو عدد بیانگر "عرضه صفر" است؟ و کدام دو عدد مبین "تقاضای صفر" است؟



۱ الف (۱) ب (۶۰۰ - ۲۵۰ - C) ج (۳) د (M و N) هـ (۱۰۰, ۱۲۰۰, ۴۰۰, ۱۲۰۰)

۲ الف (۱) ب (۶۰۰ - ۲۵۰ - B) ج (۴) د (M و N) هـ (۴۰۰, ۱۲۰۰, ۱۲۰۰, ۱۰۰)

۳ الف (۳) ب (۶۰۰ - ۲۵۰ - B) ج (۲) د (N و M) هـ (۴۰۰, ۱۲۰۰, ۱۰۰, ۱۲۰۰)

۴ الف (۳) ب (۶۰۰ - ۲۵۰ - C) ج (۱) د (N و M) هـ (۱۲۰۰, ۴۰۰, ۱۰۰, ۱۲۰۰)

در یک جامعه فرضی، چنانچه کشاورزان یک کیلوگرم پنبه تولیدی خود را به ارزش ۶۵۰۰ ریال به کارگاه‌های ریسندگی بفروشند. کارگاه‌های ریسندگی نیز این مقدار پنبه را به مقداری نخ تبدیل کرده و به ارزش ۷۵۰۰ ریال به کارگاه‌های پارچه‌بافی بفروشند و در کارگاه‌های پارچه‌بافی، نخ به پارچه تبدیل شده و به مبلغ ۱۱,۰۰۰ ریال به کارگاه‌های تولید پوشاک فروخته شود و در این کارگاه‌ها پارچه به پوشاک تبدیل شده و به مبلغ ۱۹,۰۰۰ ریال به دست مصرف‌کنندگان می‌رسد. باتوجه به این داده و ستاده‌ها:

(الف) ارزش افزوده مرحله دوم و چهارم، کدام است؟

(ب) به جز این روش چه روش‌های دیگری برای محاسبه تولیدات کلی وجود دارد و عناوین آن کدام است؟

(ج) در کدام روش محاسبه "تولیدات کلی" نگران اندازه‌گیری "تولیدات واسطه‌ای و مواد اولیه" نیستیم چرا که ارزش پولی همه آن‌ها در محاسبه کالاها و خدمات نهایی خود به خود اندازه‌گیری شده است. در ضمن روشی که در آن با جمع زدن همه اجزای سهم در روند تولید، عایدی همه بازیگران و فعالان اقتصادی داخلی یا ملی، "تولید کل" محاسبه شود، چه نام دارد؟  
 (د) اقتصاددانان چه روشی را جهت اجتناب از اشتباه در محاسبه تولید کل ارائه می‌کنند؟

۱ الف (۱۰۰۰ - ۸۰۰۰) ب (روش هزینه‌ای - روش تولید ج) روش درآمدی - روش هزینه‌ای د) دو روش را به کار می‌گیرند و میانگین آن‌ها را منظور می‌دارند.

۲ الف (۳۵۰۰ - ۶۵۰۰) ب (روش درآمدی - روش تولید ج) روش هزینه‌ای - روش درآمدی د) هر سه روش را به کار می‌گیرند و میانگین آن‌ها را منظور می‌دارند.

۳ الف (۱۰۰۰ - ۸۰۰۰) ب (روش درآمدی - روش هزینه‌ای ج) روش هزینه‌ای د) حداقل دو روش را به کار می‌گیرند و نتایج را باهم مقایسه می‌کنند.

۴ الف (۳۵۰۰ - ۶۵۰۰) ب (روش هزینه‌ای - روش درآمدی ج) روش درآمدی - روش هزینه‌ای د) هر سه روش مورد استفاده قرار می‌گیرد، هرکدام بیشتر بود آن منظور می‌شود.

کدام گزینه، بیانگر پاسخ درست و کامل سؤالات زیر است؟

- (الف) کدام دو بانک اگرچه جزء بانک‌های تخصصی محسوب می‌شوند، ولی بیشتر نقش بانک تجاری را ایفا می‌کنند؟  
 (ب) انسان محصول آمادۀ طبیعت را مستقیماً بدون هیچ‌گونه انجام کاری روی آن برداشت می‌کند، سه نمونه از آن کدام است؟ و نتیجه این اقدام و نام اصطلاح اسلامی آن کدام است؟  
 (ج) گاهی توسعه‌یافتگی معادل غربی‌شدن تلقی شده است، دلیل آن کدام است؟  
 (د) هرگاه اقتصاددانان برای به دست آوردن شکاف درآمدی، شکاف هزینه‌ای را محاسبه کنند، در این حالت:

۱) الف) مسکن و ملت ب) بهره‌برداری از معادن، زراعت، باغبانی - مالکیت عمومی - احیاء ج) در واقع الگوهای توسعه، باتوجه‌به زمان توسعه یافتن کشورهای غربی در عصر کنونی، کاملاً تغییر یافته و متفاوت شده است. د) درآمد خانوار، نماینده‌ای از هزینه آن است.

۲) الف) مسکن و کشاورزی ب) بهره‌برداری از علف و مراتع، چوب جنگل‌ها و معادن - مالکیت فردی - حیات ج) زیرا الگوهای توسعه به‌طور معمول به تفاوت‌های بومی و محلی کشورها و همچنین به تاریخ، فرهنگ، باورها و ارزش‌های آن‌ها توجه لازم ندارند. د) هزینه خانوار، نماینده‌ای از درآمد آن است.

۳) الف) ملی و توسعه صادرات ب) بهره‌برداری از ماهی دریاها، جنگل‌ها، کاشت گندم - مالکیت عمومی - حیات ج) چون این شاخص در زمان‌ها و مکان‌های متفاوت با الگوهای مختلفی باید مورد توجه اقتصاددانان قرار گیرد. د) شاخص دهک‌ها یکی از معیارهای تشخیص وضعیت "توزیع درآمد" تلقی می‌شود.

۴) الف) کشاورزی و صادرات ب) بهره‌برداری از چوب جنگل‌ها، معادن، پرورش ماهی، مالکیت فردی - احیاء ج) زیرا اقتصاددانان برای مقایسه بهتر کشورها و روند تغییرات آن‌ها علاوه بر شاخص‌های توسعه به شاخص‌های دیگر نیز توجه یافته‌اند. د) با محاسبه نسبت دهک دهم به دهک اول شاخصی مطمئن برای محاسبه به دست می‌آید.

جدول زیر مبین اطلاعات ارائه‌شده در یک جامعه مفروض است. باتوجه‌به مندرجات جدول:

- (الف) ارزش پولی مسکوکات موجود در دست مردم چقدر است؟  
 (ب) میزان حجم شبه‌پول این جامعه، کدام است؟  
 (ج) حجم کل پول یا کل نقدینگی این جامعه، کدام است؟

۱	ارزش پولی مجموع سپرده‌های دیداری و غیردیداری	۱۰۰۰ واحد
۲	ارزش پولی موجودی سپرده‌های مدت‌دار	۲۳۰ واحد
۳	ارزش پولی سپرده‌های دیداری	۱۸۰ واحد
۴	ارزش پولی مجموع اسکناس‌ها	۲۰۰۰ واحد
۵	ارزش پولی مجموع مسکوکات در دست مردم	$\frac{۲}{۵}$ موجودی اسکناس‌ها
۶	ارزش پولی حساب‌های قرض‌الحسنه	۱۲۸۰ واحد

(۲) الف) ۸۰۰ - ب) ۲۱۰۰ - ج) ۵۰۸۰

(۱) الف) ۸۰۰ - ب) ۲۰۱۰ - ج) ۵۸۰۰

(۴) الف) ۸۲۰ - ب) ۲۰۱۰ - ج) ۵۰۸۰

(۳) الف) ۸۲۰ - ب) ۲۰۱۰ - ج) ۵۸۰۰

جدول زیر، نمودار: "تقاضا، عرضه، قیمت" در یک جامعه بازاری فرضی است، به ترتیب کدام ردیف‌های جدول بیانگر: .....

الف) برابری میان "تقاضا و عرضه" است و نام اصطلاح اقتصادی آن کدام است؟

ب) کمبود عرضه است؟

ج) مازاد عرضه است؟

ردیف	قیمت را "به ریال"	مقدار تقاضا "به کیلو"	مقدار عرضه "به کیلو"
۱	۱۰۰	۱۲۰۰	۰
۲	۱۵۰	۱۰۰۰	۲۰۰
۳	۲۰۰	۸۰۰	۴۰۰
۴	۲۵۰	۶۰۰	۶۰۰
۵	۳۰۰	۴۰۰	۸۰۰
۶	۳۵۰	۲۰۰	۱۰۰۰
۷	۴۰۰	۰	۱۲۰۰

۱) الف) ردیف: ۴ - مقدار قیمت تعادلی (ب) ردیف: ۳ (ج) ردیف: ۵

۲) الف) ردیف: ۴ - مقدار تعادلی (ب) ردیف: ۵ (ج) ردیف: ۳

۳) الف) ردیف: ۷ - قیمت و مقدار تعادلی (ب) ردیف: ۵ (ج) ردیف: ۳

۴) الف) ردیف: ۷ - قیمت تعادلی (ب) ردیف: ۳ (ج) ردیف: ۵

پاسخ درست و کامل پرسش‌های زیر در کدام گزینه مطرح شده است؟

الف) به‌طورکلی سیاست‌های تثبیت اقتصادی به: .....

ب) دولت‌ها برای مدیریت کلان کشور: .....

ج) برای تداوم پیشرفت اقتصادی، علاوه بر ارتقای توان تولید، به عنوان عنصر اساسی پیشرفت، مقاومت‌سازی اقتصاد و آسیب‌پذیری آن از فشارها و تکان‌های مختلف الزامی است. اقتصاددانان با اصطلاحاتی نظیر: "....." مسئله مقاومت‌سازی اقتصاد را پیگیری و اجرا می‌کنند.

د) نفت خام "....." است و همان‌طور که فروش فرش و اثاث خانه برای خانوار "....." به شمار برود، صادرات و فروش نفت نیز "....." محسوب "....."

۱) الف) سیاست‌های انبساط پولی و سیاست‌های انقباض پولی طبقه‌بندی می‌شود. ب) علاوه بر سیاست‌های انبساط پولی از سیاست‌های انقباض مالی، نیز استفاده می‌کنند. ج) اقتصاد مقاومتی ضامن پیشرفت - درون‌زایی - برون‌گرایی و گسترش ارتباطات - اقتصاد دانش بنیان - اقتصاد مردمی د) ثروت عمومی - باید درآمد - درآمد - می‌شود.

۲) الف) سیاست‌های افزایش حجم پول در گردش و سیاست‌های کاهش حجم پول در گردش طبقه‌بندی می‌شود. ب) از سیاست‌های انبساط مالی برای تحریک تقاضای عمومی بهره می‌گیرند. ج) اقتصاد مردمی - اقتصاد مقاومتی ضامن پیشرفت - پایداری - مدیریت مصرف و بهره‌وری حداکثری - درون‌زایی د) یک کالای کانی و معدنی - باید درآمد - درآمد - می‌شود.

۳) الف) سیاست‌های انقباض مالی و سیاست‌های انبساط مالی تقسیم می‌شود. ب) سیاست‌های انقباض مالی را برای کاهش تقاضای کل اقتصاد در مواقع تورم به کار می‌گیرند. ج) استحکام اقتصادی - تاب‌آوری اقتصاد - توان تحریم‌شکنی - توزیع عادلانه ثروت و درآمد - اقتصاد دانش‌بنیان د) یک کالای کانی و معدنی - نباید درآمد - درآمد - نمی‌شود.

۴) الف) سیاست‌های پولی و سیاست‌های مالی تقسیم می‌شود. ب) علاوه بر سیاست‌های پولی از ابزارهای سیاست‌های مالی استفاده می‌کنند. ج) ثبات اقتصادی - استحکام اقتصادی - ضدشکنندگی - تاب‌آوری اقتصاد - پایداری د) ثروت عمومی - نباید درآمد - درآمد - نمی‌شود.

باتوجه به نمودار زیر در رابطه با قدرت خرید پول:

الف) نتیجه کاهش قدرت خرید پول، کدام است؟

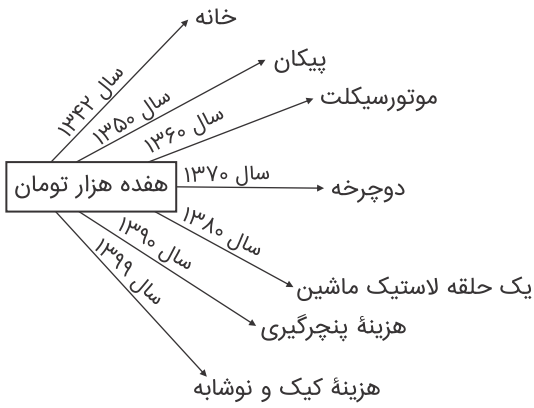
ب) پول در مقابل چه چیزی قدرت خرید خود را حفظ نکرده است؟

ج) یکی از دلایل مهم کاهش قدرت خرید پول جامعه، کدام است؟

د) رابطه پول با چه چیزی یک رابطه غیرمستقیم است؟

ه) چرا گفته می‌شود قدرت خرید پول دستخوش تغییر است؟

و) قدرت خرید پول جامعه وابسته به چیست؟



۱) الف) تورم - ب) سطح عمومی قیمت‌ها - ج) حجم زیاد پول نسبت به تولید جامعه - د) سطح عمومی قیمت‌ها - ه) چون یک واحد پول نتوانسته ارزش خود را در طول زمان حفظ کند. - و) سطح عمومی قیمت‌ها.

۲) تورم رکودی - ب) افزایش نقدینگی - ج) نابرابری عرضه و تقاضای کل جامعه - د) سطح عمومی قیمت‌ها - ه) چون ارزش پول متناسب با رونق و شکوفایی اقتصادی افزایش هماهنگ نداشته است. - و) سطح عمومی قیمت‌ها

۳) تورم رکودی - ب) سطح عمومی قیمت‌ها - ج) نابرابری عرضه و تقاضای کل جامعه - د) حجم پول در گردش - ه) چون یک واحد پول نتوانسته ارزش خود را در طول زمان حفظ کند. - و) قدرت موازنه پرداخت‌های خارجی آن است.

۴) تورم - ب) افزایش نقدینگی - ج) حجم زیاد پول نسبت به تولید جامعه - د) حجم پول در گردش - ه) چون ارزش پول متناسب با شکوفایی اقتصادی افزایش هماهنگ نداشته است. - و) قدرت موازنه پرداخت‌های خارجی آن است.



- الف) میزان مالیات سالانه تولیدکننده‌ای که در ماه ۱۵ میلیارد ریال درآمد دارد، کدام است؟  
 ب) میزان مانده‌خالص ماهیانه او چقدر است؟  
 ج) این محاسبه مربوط به کدامیک از انواع نرخ مالیاتی: ثابت، تصاعدی کلی، تصاعدی طبقه‌ای است؟  
 د) کدام مورد، در رابطه با ویژگی نوع نرخ مالیاتی مورد محاسبه نادرست است؟  
 قابل توجه: ارقام به میلیون و میلیارد ریال است.

A	درآمدهای تا: ۱۵۰ میلیون ریال	معاف از مالیات
B	درآمدهای تا: ۲۵۰ میلیون ریال	با نرخ: ۱۵٪ نسبت به مازاد: ۱۵۰ میلیون ریال
C	درآمدهای تا: ۳۵۰ میلیون ریال	با نرخ: ۲۰٪ نسبت به مازاد: ۲۵۰ میلیون ریال
D	درآمدهای تا: ۴۵۰ میلیون ریال	با نرخ: ۲۵٪ نسبت به مازاد: ۳۵۰ میلیون ریال
E	درآمدهای تا: ۹۰۰ میلیون ریال	با نرخ: ۳۵٪ نسبت به مازاد: ۴۵۰ میلیون ریال
F	درآمدهای بالاتر از: ۹۰۰ میلیون ریال	با نرخ: ۴۵٪ نسبت به مازاد: ۹۰۰ میلیون ریال

- ۱) الف) (۷۸,۷۵۰ ب) (۸,۴۳۷,۵۰۰ ج) ثابت د) این نوع نرخ مالیاتی در تعدیل درآمد و ثروت افراد جامعه مؤثر است.
- ۲) الف) (۸۷,۵۷۰ ب) (۷,۴۳۸,۵۰۰ ج) تصاعدی د) در این نظام مالیاتی نرخ مالیات با افزایش درآمد یا دارایی زیاد و به عکس با کاهش درآمد یا دارایی کم می‌شود.
- ۳) الف) (۷۸,۷۵۰ ب) (۸,۴۳۷,۵۰۰ ج) تصاعدی طبقه‌ای د) در این نوع مالیات، میزان مالیات پرداختی افراد، متناسب با تغییر در درآمد یا دارایی آن‌ها کم و زیاد می‌شود.
- ۴) الف) (۸۷,۵۷۰ ب) (۷,۴۳۸,۵۰۰ ج) تصاعدی کلی د) در این نوع مالیات، افراد با درآمدهای بیشتر با نرخ بیشتر و افراد با درآمدهای پایین‌تر با نرخ کمتری مالیات می‌پردازند.

جدول اطلاعاتی زیر مربوط به شاخص‌های اقتصادی و انسانی کشورها است. از کتاب درسی اقتباس شده است. گزینه کامل‌کننده اطلاعات، به ترتیب حروف، کدام است؟

ردیف	گروه کشورها	متوسط نرخ باسوادی بزرگسالان به درصد	متوسط نرخ مرگ و میر نوزادان در هر ۱۰۰۰ تولد	متوسط امید به زندگی در آغاز تولد به سال
الف	؟ کشور با توسعه انسانی ضعیف	۵۷,۱	؟	؟
ب	؟ کشور با توسعه انسانی زیاد	؟	۶	؟
ج	درآمد سرانه سالانه در "....." کشور در حال توسعه فقیر از "....." کمتر است در حالی که هیچ‌یک از "....." کشور توسعه یافته درآمد سرانه سالیانه‌شان کمتر از "....." نیست.			
د	در سال ۲۰۱۵ م. تولید ناخالص داخلی سرانه در کشور سوئیس: "....." و در سودان "....." بوده است.			

- ۱) الف (۴۹ - ۶۹,۲ - ۴۰,۵ - ب) ۴۳ - حدود ۸۰ - ۶۰,۵ (ج) ۵۰ - ۱۸۰۰ - ۲۰ کمتر از ۴۰,۰۰۰ دلار (د) ۶۰,۵۶۷ دلار - حدود ۳۳۲ دلار
- ۲) الف (۴۹ - ۸۹,۴ - ۶۰,۵ - ب) ۴۳ - نزدیک به ۱۰۰ - ۶۰,۵ (ج) ۲۰ - ۱۸۰۰ - ۵۰ کمتر از ۶۰,۰۰۰ دلار (د) ۸۰,۶۷۵ دلار - حدود ۳۳۲ دلار
- ۳) الف (۴۳ - ۶۹,۲ - ۴۰,۵ - ب) ۴۹ - حدود ۸۰ - ۸۰,۵ (ج) ۲۰ - ۱۶۰۰ - ۵۰ کمتر از ۶۰,۰۰۰ دلار (د) ۶۰,۵۶۷ دلار - حدود ۲۲۱ دلار
- ۴) الف (۴۳ - ۸۹,۴ - ۶۰,۵ - ب) ۴۹ - نزدیک به ۱۰۰ - ۸۰,۵ (ج) ۵۰ - ۱۶۰۰ - ۲۰ کمتر از ۴۰,۰۰۰ دلار (د) ۸۰,۶۷۵ دلار - حدود ۲۲۱ دلار



۱۲۱	<input type="checkbox"/>	<input type="checkbox"/>	<input type="checkbox"/>	<input checked="" type="checkbox"/>	۱۳۱	<input checked="" type="checkbox"/>	<input type="checkbox"/>	<input type="checkbox"/>	<input type="checkbox"/>
۱۲۲	<input checked="" type="checkbox"/>	<input type="checkbox"/>	<input type="checkbox"/>	<input type="checkbox"/>	۱۳۲	<input type="checkbox"/>	<input type="checkbox"/>	<input type="checkbox"/>	<input checked="" type="checkbox"/>
۱۲۳	<input type="checkbox"/>	<input type="checkbox"/>	<input checked="" type="checkbox"/>	<input type="checkbox"/>	۱۳۳	<input checked="" type="checkbox"/>	<input type="checkbox"/>	<input type="checkbox"/>	<input type="checkbox"/>
۱۲۴	<input type="checkbox"/>	<input checked="" type="checkbox"/>	<input type="checkbox"/>	<input type="checkbox"/>	۱۳۴	<input type="checkbox"/>	<input type="checkbox"/>	<input checked="" type="checkbox"/>	<input type="checkbox"/>
۱۲۵	<input type="checkbox"/>	<input checked="" type="checkbox"/>	<input type="checkbox"/>	<input type="checkbox"/>	۱۳۵	<input type="checkbox"/>	<input type="checkbox"/>	<input type="checkbox"/>	<input checked="" type="checkbox"/>
۱۲۶	<input type="checkbox"/>	<input type="checkbox"/>	<input type="checkbox"/>	<input checked="" type="checkbox"/>					
۱۲۷	<input checked="" type="checkbox"/>	<input type="checkbox"/>	<input type="checkbox"/>	<input type="checkbox"/>					
۱۲۸	<input type="checkbox"/>	<input type="checkbox"/>	<input checked="" type="checkbox"/>	<input type="checkbox"/>					
۱۲۹	<input type="checkbox"/>	<input checked="" type="checkbox"/>	<input type="checkbox"/>	<input type="checkbox"/>					
۱۳۰	<input type="checkbox"/>	<input checked="" type="checkbox"/>	<input type="checkbox"/>	<input type="checkbox"/>					