

فصل اول: فیزیک و اندازه‌گیری

فرمول‌ها ← چگالی

نمودارها ←

۱) کمیت‌های اصلی و یکاهای آنها

۲) برخی از یکاهای فرعی

۳) پیشوندهای یکاها

۴) حجم چند جسم با شکل هندسی مشخص

تصاویر و جداول ←

فیزیک و اندازه‌گیری

۱) کمیت نرده‌ای

۲) کمیت برداری

۳) تعاریف یکا

۴) سازگاری یکاها

۵) نماد علمی

۶) اندازه‌گیری و دقت وسیله‌های اندازه‌گیری

مفاهیم ←



فرمول‌ها

۱ سرعت متوسط و تندی متوسط

$$v_{av} = \frac{\Delta x}{\Delta t}$$

جابه‌جایی (m) ↑
 ↓ سرعت متوسط (m/s)
 ↓ زمان (s)

$$s_{av} = \frac{l}{t}$$

مسافت (m) →
 ↓ تندی متوسط (m/s)
 → زمان (s)

🔍 تحلیل: در سرعت متوسط، جابه‌جایی، یعنی فاصله مستقیم مبدأ تا مقصد مورد نظر است. ولی در تندی متوسط کل مسیر پیموده شده توسط متحرک در بازه زمانی مد نظر است.

🌟 تذکر: اگر متحرکی به نقطه شروع بازگردد، جابه‌جایی صفر و سرعت متوسط صفر دارد ولی تندی متوسط برای آن غیر صفر است.

۲ سرعت متوسط در مسیرهای چند مرحله‌ای

اگر جابه‌جایی و زمان هر مسیر را داشته باشیم:

$$\vec{v}_{av} = \frac{\Delta x_1 + \Delta x_2 + \dots}{\Delta t_1 + \Delta t_2 + \dots}$$

اگر جابه‌جایی را ندهند (Δx):

$$\vec{v}_{av} = \frac{v_1 t_1 + v_2 t_2 + \dots}{\Delta t_1 + \Delta t_2 + \dots}$$

اگر زمان را ندهند (Δt):

$$\vec{v}_{av} = \frac{\Delta x_1 + \Delta x_2 + \dots}{\frac{\Delta x_1}{v_1} + \frac{\Delta x_2}{v_2} + \dots}$$

🌟 تذکره ۱: اگر متحرکی بخشی از مسیر را بازگردد و خلاف محور x حرکت کند، x آن را منفی جایگذاری می‌کنیم.

🌟 تذکره ۲: در حرکت‌های چندمرحله‌ای یکنواخت بر روی مسیر مستقیم، تندی متوسط برابر است با:

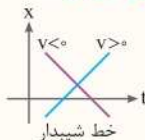
$$s_{av} = \frac{|\Delta x_1| + |\Delta x_2| + \dots}{\Delta t_1 + \Delta t_2 + \dots}$$

و همواره $s_{av} \geq v_{av}$ است.

www.gajmarket.com

۳ حرکت یکنواخت

سرعت (m/s) ↑
 $x = vt + x_0 \rightarrow$ مکان اولیه (m)
 ↓ ↓
 مکان (m) زمان (s)



تحلیل: نمودار مکان - زمان در هر لحظه موقعیت متحرک را نشان می‌دهد. اگر متحرک قبل از مبدأ حرکت کند $x_0 < 0$ ، بعد از مبدأ حرکت کند $x_0 > 0$ و اگر از مبدأ حرکت کند $x_0 = 0$ و شیب نمودار علامت سرعت را تعیین می‌کند.

کلیدواژه: حرکت با سرعت ثابت - حرکت یکنواخت - نمودار خطی

تبدیل واحد: واحد سرعت باید m/s باشد، در غیر این صورت داریم:

$$\text{km/h} \xleftarrow{\div 3.6} \text{m/s}$$

$$\text{cm/s} \xleftarrow{\times 10^{-2}} \text{m/s}$$

ذره‌بین: در نمودار مکان - زمان هر آنچه قبل از t وجود دارد، سرعت و هر آنچه بعد از t اضافه یا کم می‌شود، مکان اولیه است.

مثال:

$$\begin{matrix} v & x_0 \\ x = 4t & -12 \\ x = 2t & \text{صفر} \\ x = -3t & +9 \end{matrix}$$

۴ شتاب

تغییر سرعت (m/s) ↑
 $a = \frac{\Delta v}{\Delta t} = \frac{v_2 - v_1}{t_2 - t_1}$
 ↓ ↓
 شتاب (m/s²) زمان (s)



نکات: در حرکت با شتاب ثابت، این معادله به صورت یک عدد ثابت بدون درجه می باشد.

اگر در حرکتی بردارهای سرعت و شتاب با یکدیگر هم جهت باشند، تندی متحرک $(|v|)$ دائماً در حال افزایش بوده و حرکت متحرک تندشونده می باشد. $(a \cdot v > 0)$
در یک حرکت کندشونده بردارهای شتاب و سرعت در خلاف جهت یکدیگرند به طوری که $a \cdot v < 0$ می باشد.

در قله ها و دره ها در نمودار سرعت - زمان شتاب متحرک صفر است. اگر نمودار سرعت - زمان به محور t نزدیک شود، حرکت کندشونده و اگر از محور دور شود، حرکت تندشونده است.

سطح زیر نمودار شتاب - زمان تغییر سرعت را نشان می دهد:

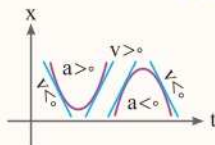
$$|S_1| - |S_2| = \Delta v$$

نکته کاربردی: اگر در نمودار شتاب - زمان محور عمودی را در جرم ضرب کنیم نمودار نیرو - زمان به دست می آید که در فصل بعد کاربرد دارد.

حرکت شتابدار

$$x = \frac{1}{2} at^2 + v_0 t + x_0$$

سرعت اولیه (m/s) شتاب (m/s²)
 مکان اولیه (m) زمان (s) مکان (m)



تحلیل: با استفاده از نمودار مکان - زمان حرکت شتابدار با شتاب ثابت، می توان موقعیت متحرک را شناسایی کرد. در حرکت از مبدأ $x_0 = 0$ ، جلوتر از مبدأ $x_0 > 0$ و عقب تر از مبدأ $x_0 < 0$ می باشد. تقعر نمودار، علامت شتاب و شیب نمودار، علامت سرعت را تعیین می کند.

کلید واژه: حرکت با شتاب ثابت - نمودار منحنی درجه ۲ - تغییر سرعت

مثال: در حرکت با شتاب ثابت هر آنچه قبل از t^2 قرار دارد، نصف شتاب و هر آنچه قبل از t قرار دارد، سرعت اولیه و هر آنچه در انتهای معادله اضافه یا کم می‌شود، مکان اولیه است.

$$x = \underbrace{\left(\frac{1}{2}\right)}_{\frac{1}{2}a} t^2 + \underbrace{4}_{v_0} t + \underbrace{(-4)}_{x_0} \qquad \frac{1}{2}a = \frac{1}{2} \Rightarrow a = 1 \text{ m/s}^2$$

$$x = \underbrace{(-4)}_{\frac{1}{2}a} t^2 + \underbrace{2}_{v_0} t + \underbrace{10}_{x_0} \qquad \frac{1}{2}a = -4 \Rightarrow a = -8 \text{ m/s}^2$$

نکات: اگر درجه معادله مکان - زمان، ۳ و بالاتر باشد حرکت شتابدار متغیر، اگر معادله درجه ۲ باشد، شتابدار ثابت و اگر درجه ۱ باشد، یکنواخت است و اگر معادله $x-t$ مثلثاتی باشد، نوع حرکت، نوسانی یا هماهنگ ساده است. (شتاب متغیر)

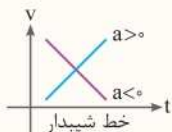
- ۱. ریشه‌های معادله $x-t$ لحظات عبور از مبدأ را نشان می‌دهد.
- ۲. اگر در معادله مکان - زمان، t را صفر جایگذاری کنیم، مکان اولیه متحرک (x_0) به دست می‌آید. با جایگذاری هر لحظه در معادله مکان - زمان موقعیت متحرک را در آن لحظه به دست می‌آوریم.
- ۳. اگر دو متحرک در نمودار مکان - زمان با هم برخورد کنند در آن لحظه موقعیت یکسان دارند $x_1 = x_2$.
- ۴. شیب نمودار بین دو نقطه، سرعت متوسط را نشان می‌دهد و اگر شیب در یک نقطه بر نمودار مماس شود، مفهوم تندی لحظه‌ای را می‌رساند.
- ۵. اگر نمودار مکان - زمان خط شیبدار باشد، حرکت یکنواخت و اگر منحنی باشد، حرکت شتابدار است.
- ۶. اگر نمودار مکان - زمان با محور t برخورد کند و از آن عبور کند، در آن لحظات، متحرک از مبدأ عبور کرده است.
- ۷. در قله‌ها و دره‌ها در نمودار مکان - زمان تندی صفر و متحرک توقف کرده است.



۶ معادله سرعت - زمان

$$v = a t + v_0$$

↑ ↑
 (m/s) سرعت (s) زمان
 ↑ ↓
 (m/s) شتاب تندى اولیه (m/s)



تحلیل: هر گاه در هر لحظه در حرکت شتابدار، سرعت متحرک را بخواهیم، از این رابطه استفاده می‌کنیم. از لحاظ نموداری، شیب نمودار، علامت سرعت را تعیین می‌کند و مساحت زیر نمودار، جابه‌جایی و مسافت متحرک را نشان می‌دهد.

تذکر: اگر متحرک متوقف شود $v = 0$ و در نتیجه، زمان توقف از $t = \left| \frac{v_0}{a} \right|$ به دست می‌آید.

کلید واژه: معادله سرعت - زمان - زمان توقف یا ترمز - نمودار $v - t$

زهره‌بین: در حرکت با شتاب ثابت هر آن‌چه قبل از t قرار دارد شتاب متحرک و هر آن‌چه در انتهای معادله اضافه یا کم می‌شود، سرعت اولیه است.

مثال:

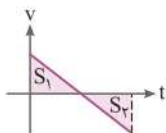
$$v = 4 t - 2$$

$$v = 2 t \quad \text{صفر}$$

$$v = -3 t + 4$$

a v_0

نکات:



جابه‌جایی $|S_1| - |S_2| = \Delta x$

مسافت $|S_1| + |-S_2| = L$

۲ اگر درجه معادله ۲ و بالاتر باشد حرکت شتابدار متغیر، اگر درجه معادله ۱ باشد حرکت شتابدار ثابت و اگر به صورت یک عدد ثابت باشد، حرکت یکنواخت است.

۳ اگر نمودار سرعت - زمان منحنی باشد، شتابدار متغیر، اگر خط شیبدار باشد شتابدار با شتاب ثابت و اگر خط صاف افقی باشد یکنواخت است.

۴ ریشه‌های معادله $v - t$ لحظات توقف و سرعت صفر را نشان می‌دهد. اگر قبل و بعد از این نقاط علامت سرعت تغییر کرده باشد علاوه بر توقف، تغییر جهت سرعت نیز خواهیم داشت.

۵ هر توفقی الزاماً تغییر جهت ندارد.

۶ اگر در معادله سرعت - زمان، t را صفر قرار دهیم سرعت اولیه متحرک محاسبه می‌شود.

۷ اگر دو متحرک در نمودار سرعت - زمان با هم برخورد کنند دارای سرعت برابر می‌باشند:

$$v_1 = v_2$$

۸ هرگاه دو متحرک از هم سبقت بگیرند:

$$\Delta x_1 = \Delta x_2$$

۹ هرگاه متحرکی متوقف شود:

$$v_2 = 0$$

۱۰ هرگاه متحرکی رها شود - از حال سکون حرکت کند - شروع به حرکت کند:

$$v_1 = 0$$

۱۱ هرگاه متحرک سرعت ثابت داشته باشد:

$$a = 0, v_1 = v_2$$

۱۲ شیب نمودار بین دو نقطه، شتاب متوسط را نشان می‌دهد و اگر شیب در یک نقطه بر نمودار مماس شود، مفهوم شتاب لحظه‌ای را می‌رساند.

۱۳ اگر متحرک از حال سکون حرکت کند یا از ارتفاعی رها شود، سرعت اولیه نداشته است.

۱۴ اگر نمودار سرعت - زمان با محور t برخورد کند، در آن لحظات سرعت صفر بوده و متحرک متوقف شده است.

نکته کاربردی: اگر در نمودار سرعت - زمان، محور سرعت را در جرم ضرب کنیم نمودار تکانه - زمان به دست می‌آید که در فصل بعد کاربرد دارد.



۷ سرعت متوسط حرکت شتابدار

سرعت در لحظه t_1 (m/s) سرعت در لحظه t_2 (m/s)

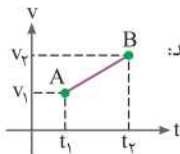
$$v_{avr} = \frac{v_1 + v_2}{2}$$

سرعت متوسط (m/s) زمان (s)

$$v_{avr} = \frac{1}{2} a t + v_0 \rightarrow \text{سرعت اولیه (m/s)}$$

شتاب (m/s²) سرعت متوسط (m/s)

تحلیل: هرگاه آهنگ تغییر سرعت در حرکت شتابدار منظم و خطی باشد سرعت متوسط، میانگین سرعت لحظات t_1 و t_2 می‌باشد و از رابطه اول استفاده می‌کنیم. و هرگاه در یک بازه زمانی، سرعت متوسط را بخواهیم، از رابطه دوم با استفاده از شتاب به سرعت متوسط می‌رسیم.



تذکر: \bar{v} در رابطه اول در لحظه $t = \frac{t_1 + t_2}{2}$ رخ می‌دهد:

سرعت در ثانیه‌های متوالی تشکیل یک تصاعد عددی با قدرنسبت a می‌دهد.

کلید واژه: تندی متوسط - میانگین تندی

۸ جابجایی ثانیه آم

سرعت اولیه (m/s) شتاب (m/s²)

$$\Delta x = \frac{1}{2} a (2t - 1) + v_0$$

جابجایی ثانیه آم t زمان (s)

تحلیل: فرق این معادله با معادله حرکت شتابدار در این است که جابجایی در بازه زمانی t آم یعنی t تا $t-1$ بررسی می‌شود و در معادله قبلی در یک لحظه خاص، مکان بررسی می‌شود. [۲-۳] ثانیه سوم مثال

📌 **کلید واژه:** ثانیه t ام

🌟 **تذکر:** در حرکت با شتاب ثابت، جابه‌جایی‌های مساوی و متوالی تشکیل تصاعد عددی با قدرنسبت at^2 را می‌دهند.

۹ **معادله مستقل از شتاب**

سرعت در لحظه t_1 (m/s) سرعت در لحظه t_2 (m/s)

$$\Delta x = \frac{v_1 + v_2}{2} \Delta t \rightarrow \text{زمان (s)}$$

↓
جابه‌جایی (m)

🌟 **تحلیل:** هنگامی که بخواهیم جابه‌جایی در حرکت شتابدار را بررسی کنیم ولی شتاب حرکت را نداشته باشیم، از رابطه فوق استفاده می‌کنیم.

- 📌 **کلید واژه:** حرکت شتابدار
- ✓ v
 - ✓ t
 - ✓ Δx
 - ✗ a

۱۰ **روابط سریع حرکت**

یک رابطه سریع برای جابه‌جایی برابر در شتاب ثابت:

$$\Delta x_1 = \Delta x_2 \Rightarrow \frac{t_2}{t_1} = \sqrt{\frac{a_1}{a_2}} \rightarrow \text{شتاب (m/s}^2\text{)}$$

↑ زمان (s) ↓ زمان (s)

یک رابطه سریع برای $\frac{x}{n}$ مسیر:

$$t' = \frac{t}{\sqrt{n}}$$

↑ زمان $\frac{x}{n}$ مسیر (s) ↓ زمان x (s)
کسری از مسیر



کلید واژه: مسائل مقایسه‌ای - $\frac{x}{n}$ مسیر

تحلیل: در جابه‌جایی برابر در حرکت شتابدار، زمان و جذر شتاب رابطه عکس دارند.

اگر متحرک در t ثانیه، x متر را طی کند، $\frac{x}{n}$ مسیر را در زمان t' طی می‌کند.

11 معادله مستقل از زمان

$$v^2 - v_0^2 = 2a \Delta x$$

جابه‌جایی (m) ↑ ↑
↓ ↓
 شتاب (m/s^2) ↓ ↓
 سرعت (m/s)

طول خط ترمز (مسافت توقف):

$$\Delta x = \left| \frac{v_0^2}{2a} \right|$$

سرعت اولیه (m/s) ↑
↓ ↓
 طول خط ترمز (m) ↓ ↓
 شتاب (m/s^2)

تحلیل: در این معادله بدون در نظر داشتن زمان می‌توانیم جابه‌جایی یا

سرعت را برای متحرک محاسبه کنیم.

- ✓ x
 - ✓ a
 - ✓ v
 - ✗ t
- کلید واژه:** حرکت شتابدار

تذکر: هنگامی که متحرک متوقف می‌شود $v = 0$ ؛ در نتیجه طول خط ترمز

از رابطه دوم به دست می‌آید.

آنچه در فصل دینامیک خواهیم دید: در روابط زمان توقف و طول خط ترمز در حرکت شتابدار اگر ضریب اصطکاک را داشته باشیم، شتاب از رابطه زیر نیز محاسبه می‌شود:

$$a = -\mu g \rightarrow (9.8 \text{ m/s}^2) \text{ شتاب گرانش}$$

↑ ضریب اصطکاک

↓ شتاب (m/s²)

۱۲ حرکت در راستای قائم

کافی است در تمامی فرمول‌های حرکت افقی به جای x ، y و به جای a شتاب گرانش (g) را قرار دهیم و هم‌چنین سرعت اولیه در این نوع حرکت را صفر فرض می‌کنیم و مبدأ مکان محل رها شدن گلوله می‌باشد.

سرعت متوسط: $v_{avr} = \frac{\Delta y}{\Delta t}$ معادله مستقل از زمان: $v^2 = -2g\Delta y$

معادله سرعت - زمان: $v = -gt$ $v_{avr} = -\frac{1}{2}gt$

معادله مکان - زمان: $y = -\frac{1}{2}gt^2 + y_0$

جابه‌جایی ثانیه t ام: $\Delta y = -\frac{1}{2}g(2t - 1)$
ثانیه t ام

$$\Delta y = \frac{v_1 + v_2}{2} \Delta t$$

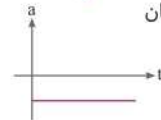
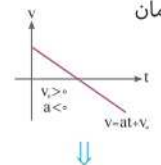
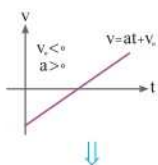
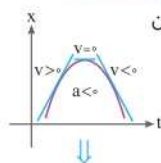
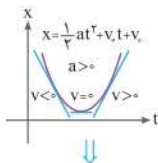
تحلیل: در تحلیل حرکت گلوله، محل رها شدن گلوله را به عنوان مبدأ فرض کرده و جهت مثبت را به سمت پایین در نظر می‌گیریم.



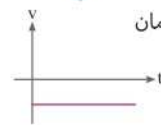
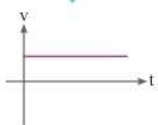
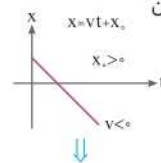
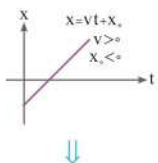
نمودارها

1 نمودارهای حرکت کلی

◆ نمودارهای حرکت شتابدار



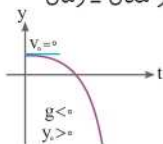
◆ نمودارهای حرکت یکنواخت



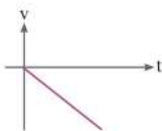
www.Gajmarket.com

◆ نمودارهای حرکت قائم

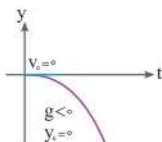
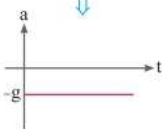
نمودار مکان - زمان



نمودار سرعت - زمان

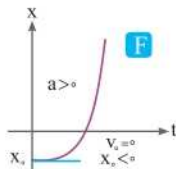
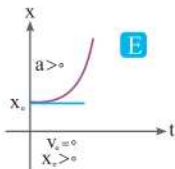
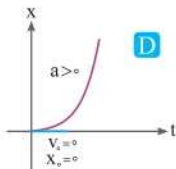
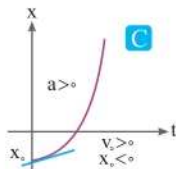
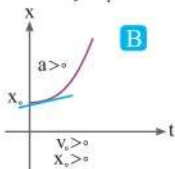
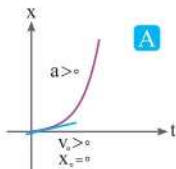


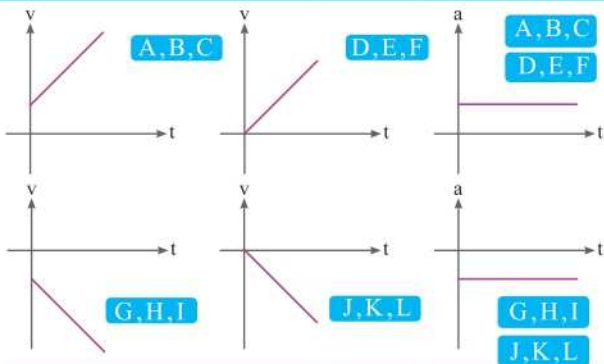
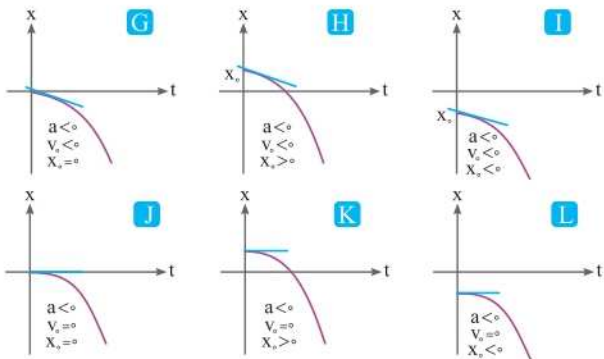
نمودار شتاب - زمان



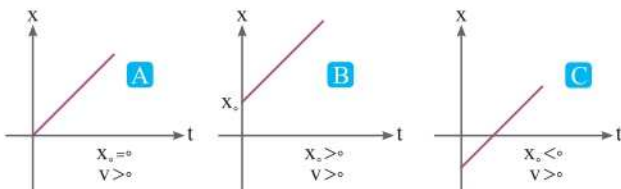
۲ نمودارها با جزئیات

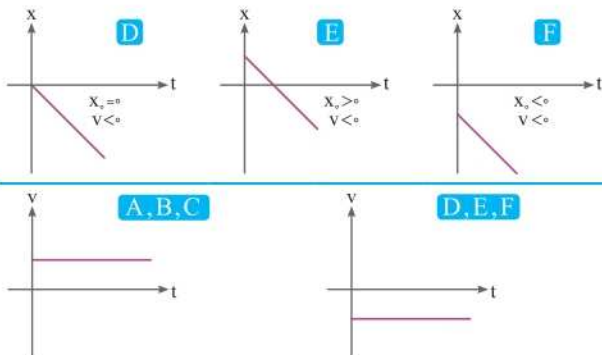
شتاب دارها





یکنواخت ($a = 0$)





جمع‌بندی معادله . نمودار

نوع حرکت	یکنواخت	شتابدار	شتابدار	شتابدار
نوع معادله	$x = vt + x_0$	$x = \frac{1}{2}at^2 + v_0t + x_0$	$v = at + v_0$	$a = \text{ثابت}$
درجه	۱	۲	۱	صفر
شیب	سرعت + سرعت -	سرعت + سرعت -	شتاب + شتاب -	-
مساحت	-	-	تغییر مکان یا مسافت	تغییر سرعت
تقعر	-	شتاب $a > 0$ شتاب $a < 0$	-	-

تندشونده: $a \cdot v > 0$

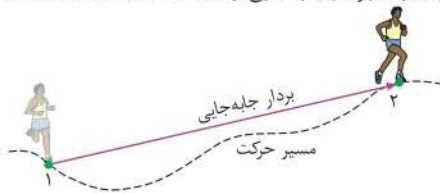
کندشونده: $a \cdot v < 0$



تصاویر و جداول

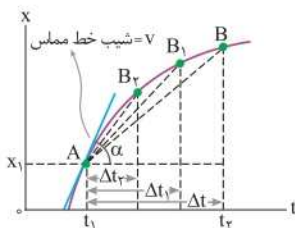
۱ تفاوت جابه‌جایی و مسافت

در این شکل تفاوت بردار جابه‌جایی و مسافت نشان داده شده است.



۲ نمایش تندی لحظه‌ای

عقربه تندی‌سنج، تندی لحظه‌ای خودرو را نمایش می‌دهد.



۳ مفهوم شیب در نمودار مکان - زمان

با کوچک شدن تدریجی Δt ، نقطه B به نقطه A نزدیک می‌شود. در این صورت خط واصل بین این دو نقطه، در حالتی که بازه زمانی Δt خیلی خیلی کوچک شود، به خط مماس بر منحنی در نقطه A میل می‌کند. به این ترتیب شیب این خط، برابر با سرعت متحرک در لحظه t_1 است.



۴ تصویر لحظه‌ای حرکت سقوط آزاد

تصویری از یک توپ در حال سقوط آزاد، که در بازه‌های زمانی مساوی و متوالی رسم شده است.



مفاهیم



- ۱- **جابه جایی (d):** بردار یا پاره خط جهت داری که مبدأ را به مقصد متصل می کند.
- ۲- **مسافت (l):** کل مسیر طی شده از مبدأ تا مقصد را مسافت می گویند.
- ۳- **تندی متوسط (s):** به مسافت طی شده در یک بازه زمانی مشخص، تندی متوسط می گویند.
- ۴- **سرعت متوسط (v_{av}):** به جابه جایی متحرک در یک بازه زمانی مشخص، سرعت متوسط می گویند.
- ۵- **بردار مکان:** برداری است که مبدأ محور مختصات را در هر لحظه به مکان متصل می کند.
- ۶- **نمودار مکان - زمان:** در هر لحظه مکان متحرک را توصیف می کند.
- ۷- **نمودار سرعت - زمان:** مقدار سرعت را در هر لحظه به ما نشان می دهد.
- ۸- **نمودار شتاب - زمان:** در حرکت شتابدار مقدار شتاب در هر بازه زمانی را نشان می دهد.
- ۹- **تندی لحظه ای:** تندی متحرک در هر لحظه از زمان را تندی لحظه ای می گویند.
- ۱۰- **سرعت لحظه ای:** در تندی لحظه ای اگر جهت حرکت نیز ذکر شود در واقع سرعت لحظه ای بیان شده است.
- ۱۱- **حرکت یکنواخت:** هرگاه تندی حرکت جسم ثابت باشد نوع حرکت، یکنواخت است.
- ۱۲- **حرکت شتابدار:** هرگاه سرعت متحرکی در بازه زمانی تغییر کند نوع حرکت شتابدار می باشد.
- ۱۳- **شتاب متوسط:** به تغییرات سرعت یک متحرک در بازه زمانی Δt شتاب متوسط می گویند.
- ۱۴- **شتاب لحظه ای:** هرگاه بازه زمانی تغییرات سرعت بسیار کوچک باشد، شتاب را شتاب لحظه ای می گویند.
- ۱۵- **حرکت تندشونده:** هرگاه قدرمطلق سرعت متحرکی رو به افزایش باشد، نوع حرکت تندشونده است.
- ۱۶- **حرکت کندشونده:** هرگاه قدرمطلق سرعت متحرکی رو به کاهش باشد، نوع حرکت کندشونده است.
- ۱۷- **حرکت سقوط آزاد:** حرکتی است عمودی که جسم بدون سرعت اولیه رها شده و به سمت پایین حرکت می کند.

← ضمیمه ۱: ایستگاه خلاصه فرمول‌ها →

فیزیک دهم فصل اول

۱- چگالی $\rho = \frac{m}{V}$

۲- چگالی مخلوط $\rho = \frac{m_1 + m_2 + \dots}{V_1 + V_2 + \dots}$

$\rho = \frac{\rho_1 V_1 + \rho_2 V_2 + \dots}{V_1 + V_2 + \dots}$ ، $\rho = \frac{m_1 + m_2 + \dots}{\frac{m_1}{\rho_1} + \frac{m_2}{\rho_2} + \dots}$

فیزیک دهم فصل دوم

۱- فشار ناشی از مایع $P = \rho gh$

۲- فشار کل $P = P_0 + \rho gh$

۳- نیروی وارد بر کف ظرف از طرف مایع $F = P \times A = \text{کف ظرف} \times A$

۴- نیروی شناوری $F_b = W - W'$ (W' : وزن جسم در آب)

۵- اصل برنولی $A_1 v_1 = A_2 v_2$

فیزیک دهم فصل سوم

۱- انرژی پتانسیل گرانشی $U = mgh$

۲- انرژی جنبشی $K = \frac{1}{2} mv^2$

۳- انرژی مکانیکی $E = U + K$

۴- پایستگی انرژی مکانیکی (مسیر بدون اصطکاک) $E_{\text{مبدأ}} = E_{\text{مقصد}}$

$K_1 + U_1 = K_2 + U_2$



۵- محاسبه انرژی تلف شده

مسیر دارای اصطکاک و اصطکاک به صورت عدد مطرح شود:

$$E_{\text{مقصد}} - E_{\text{مبدأ}} = W_f$$

$$(K_f + U_f) - (K_i + U_i) = W_f$$

مسیر دارای اصطکاک و اصطکاک به صورت درصد مطرح شود:

$$E_{\text{مقصد}} = E_{\text{مبدأ}} \times \%$$

$$W_F = Fd \cos \alpha$$

۶- کار نیروی محرک

$$W_f = -fd$$

۷- کار نیروی اصطکاک

$$W_{mg} = \begin{cases} -mgh & (\text{حرکت رو به بالا}) \\ +mgh & (\text{حرکت رو به پایین}) \end{cases}$$

۸- کار نیروی وزن

۹- کار نیروی فنر

$$W_e = -\Delta U_e \begin{cases} W_e < 0, \Delta U_e > 0 & (\text{دور شدن از مرکز تعادل}) \\ W_e > 0, \Delta U_e < 0 & (\text{حرکت به سمت مرکز تعادل}) \end{cases}$$

۱۰- قضیه کار و انرژی جنبشی

$$W_t = \Delta K = K_f - K_i$$

$$W_F + W_f + W_{mg} + W_e = \Delta K = \frac{1}{2} m [v_f^2 - v_i^2]$$

۱۱- توان

$$\bar{P} = \frac{W_t}{t} = \frac{W_F + W_f + W_{mg} + W_e}{t} = \frac{\Delta K}{t} = \frac{\frac{1}{2} m [v_f^2 - v_i^2]}{t}$$

$$\bar{P} = F \bar{v} \cos \alpha$$

۱۲- بازده

$$a) Ra = \left(\frac{E_{\text{مفید - خروجی}}}{E_{\text{مصرفی - کل - ورودی}}} \right) \times 100$$

$$b) Ra = \left(\frac{P_{\text{مفید - خروجی}}}{P_{\text{مصرفی - کل - ورودی}}} \right) \times 100$$

$$c) Ra = \left(\frac{W_{\text{مفید - خروجی}}}{W_{\text{مصرفی - کل - ورودی}}} \right) \times 100$$

فیزیک دهم فصل چهارم

- ۱- تبدیل دمای سلسیوس به کلونین $\theta + 273/15 = T$
- ۲- تبدیل دمای سلسیوس به فارنهایت $(\theta \times \frac{9}{5}) + 32 = F$
- ۳- تبدیل دمای فارنهایت به سلسیوس $(F - 32) \times \frac{5}{9} = \theta$
- ۴- مقایسه تغییرات سلسیوس و کلونین $\Delta\theta = \Delta T$
- ۵- محاسبه تغییرات فارنهایت و سلسیوس $\Delta\theta \times \frac{9}{5} = \Delta F, \Delta F \times \frac{5}{9} = \Delta\theta$
- ۶- محاسبه گرما با تغییرات دما $Q = mc\Delta T$
- ۷- گرمای ذوب و انجماد $Q = mL_F$
- ۸- گرمای تبخیر و میعان $Q = mL_V$
- ۹- محاسبه دمای تعادل $Q_1 + Q_2 + Q_3 + \dots = 0$
- $m_1c_1(\theta - \theta_1) + m_2c_2(\theta - \theta_2) + m_3c_3(\theta - \theta_3) \dots = 0$
- ۱۰- تغییر طول در انبساط طولی $\Delta L = L_1\alpha\Delta T$
- ۱۱- تغییر مساحت در انبساط سطحی $\Delta A = A_1\alpha\Delta T$
- ۱۲- تغییر حجم در انبساط حجمی $\Delta V = V_1\beta\Delta T$
- ۱۳- قانون عمومی گازها $PV = nRT$
- ۱۴- تعداد مول گاز کامل $n = \frac{m}{M}$
- ۱۵- قوانین گازها در حجم ثابت $\frac{P_1}{T_1} = \frac{P_2}{T_2}$
- ۱۶- قوانین گازها در فشار ثابت $\frac{V_1}{T_1} = \frac{V_2}{T_2}$
- ۱۷- قوانین گازها در دمای ثابت $P_1V_1 = P_2V_2$



فیزیک دهم فصل پنجم

$$W = -P\Delta V$$

۱- محاسبه کار

$$\Delta U = Q + W$$

۲- محاسبه انرژی درونی گاز

$$Q = -W, W = -Q$$

۳- گرما و کار در فرایند هم‌دما

$$W = \Delta(PV) = P_2 V_2 - P_1 V_1$$

۴- کار در فرایند بی‌درو

$$\eta = \left(\frac{|W|}{Q_H} \right) \times 100$$

۵- بازده ماشین گرمایی

$$P = \frac{|W|}{t}$$

۶- توان ماشین گرمایی

فیزیک یازدهم فصل اول

$$F_E = \frac{k|q_1||q_2|}{r^2}$$

۱- نیروی بین دو بار الکتریکی

$$E = \frac{F}{q}$$

۲- رابطه میدان الکتریکی و نیروی الکتریکی

$$E = \frac{k|q|}{r^2}$$

۳- میدان الکتریکی حاصل از بار نقطه‌ای

۴- محاسبه اختلاف پتانسیل با استفاده از انرژی پتانسیل

$$\Delta V = \frac{\Delta U}{q} \Rightarrow V_2 - V_1 = \frac{U_2 - U_1}{q}$$

۵- محاسبه اختلاف پتانسیل با استفاده از میدان الکتریکی

$$\Delta V = Ed \Rightarrow V_2 - V_1 = Ed$$

۶- محاسبه کار میدان الکتریکی و کمیت‌های وابسته به آن

$$W_E = F_E d \cos \theta \Rightarrow W_E = E |q| d \cos \theta$$

$$W_F = -W_E, \Delta U = -W_E, \Delta K = W_E$$

$$C = \kappa \epsilon_0 \frac{A}{d}$$

۷- ظرفیت خازن

$$q = CV$$

۸- بار خازن

$$U = \frac{1}{2} CV^2, U = \frac{1}{2} qV, U = \frac{1}{2} \frac{q^2}{C}$$

۹- انرژی خازن

$$\sigma = \frac{q}{A}$$

۱۰- چگالی بار سطحی

فیزیک یازدهم فصل دوم

$$I = \frac{\Delta q}{\Delta t}$$

۱- شدت جریان الکتریکی متوسط

$$q = \pm ne$$

۲- محاسبه بار الکتریکی بر اساس تعداد الکترون

$$R = \frac{V}{I}$$

۳- قانون اهم

$$R = \rho \frac{L}{A}$$

۴- مقاومت الکتریکی

$$R_T = R_1 (1 + \alpha \Delta T)$$

۵- رابطه مقاومت الکتریکی با دما

$$R = ab \times 10^{-n}$$

۶- محاسبه مقاومت رنگی

$$V = \varepsilon \pm Ir$$

۷- اختلاف پتانسیل باتری

$$R_T = R_1 + R_2 + \dots$$

۸- مقاومت معادل در اتصال سری

$$\frac{1}{R_T} = \frac{1}{R_1} + \frac{1}{R_2} + \dots$$

۹- مقاومت معادل در اتصال موازی

$$I = \frac{\sum \varepsilon}{\sum R + r}$$

۱۰- جریان در مدار تک حلقه

۱۱- توان و انرژی در مدار

$$P = RI^2, P = VI, P = \frac{V^2}{R}, U = P.t$$

۱۲- توان و انرژی در باتری

$$P = \varepsilon I - rI^2, P_{\text{ورودی باتری}} = \varepsilon I + rI^2, P_{\text{مصرفی}} = rI^2$$



فیزیک یازدهم فصل سوم

۱- نیروی حاصل از میدان مغناطیسی سیم راست حامل جریان

$$F_B = B I l \sin \theta$$

۲- نیروی حاصل از میدان مغناطیسی ذره باردار

$$F_B = B |q| v \sin \theta$$

۳- میدان مغناطیسی سیم‌پوله

$$B = \frac{k \mu_0 N I}{l}$$

۴- میدان مغناطیسی حلقه

$$B = \frac{\mu_0 N I}{2R}$$

فیزیک یازدهم فصل چهارم

۱- شار مغناطیسی

$$\Phi = AB \cos \theta$$

۲- نیروی محرکه القایی متوسط

$$\bar{\varepsilon} = -N \frac{\Delta \Phi}{\Delta t}$$

۳- جریان القایی متوسط

$$\bar{I} = \frac{\bar{\varepsilon}}{R}$$

۴- تغییرات شار مغناطیسی

$$\Delta \Phi = B \cos \theta \frac{\Delta A}{\Delta t}, \quad \Delta \Phi = A \cos \theta \frac{\Delta B}{\Delta t}, \quad \Delta \Phi = AB \frac{\Delta \cos \theta}{\Delta t}$$

۵- انرژی القاگر

$$U = \frac{1}{2} L I^2$$

۶- ضریب القاگر

$$L = \frac{k \mu_0 N^2 A}{l}$$

۷- شار جریان متناوب

$$\Phi = AB \cos\left(\frac{\gamma \pi}{T}\right)t$$

۸- نیروی محرکه القایی متناوب

$$\varepsilon = \varepsilon_{\max} \sin\left(\frac{\gamma \pi}{T}\right)t$$

۹- جریان القایی متناوب

$$I = I_{\max} \sin\left(\frac{\gamma \pi}{T}\right)t$$

۱۰- مبدل‌ها

$$\frac{N_2}{N_1} = \frac{V_2}{V_1}$$

فیزیک دوازدهم فصل اول

$$v_{av} = \frac{\Delta x}{\Delta t}$$

۱- سرعت متوسط

$$s_{av} = \frac{l}{t}$$

۲- تندی متوسط

$$\vec{v}_{av} = \frac{\Delta x_1 + \Delta x_2 + \dots}{\Delta t_1 + \Delta t_2 + \dots}$$

۳- سرعت متوسط در حرکت چندمرحله‌ای

$$\vec{v}_{av} = \frac{v_1 t_1 + v_2 t_2 + \dots}{\Delta t_1 + \Delta t_2 + \dots}$$

$$\vec{v}_{av} = \frac{\Delta x_1 + \Delta x_2 + \dots}{\frac{\Delta x_1}{v_1} + \frac{\Delta x_2}{v_2} + \dots}$$

$$x = vt + x_0$$

۴- معادله مکان - زمان حرکت یکنواخت

$$a = \frac{\Delta v}{\Delta t} = \frac{v_2 - v_1}{t_2 - t_1}$$

۵- شتاب متوسط

$$x = \frac{1}{2} at^2 + v_0 t + x_0$$

۶- معادله مکان - زمان حرکت شتابدار

$$v = at + v_0$$

۷- معادله سرعت - زمان در حرکت شتابدار

۸- سرعت متوسط در حرکت شتابدار

$$v_{av} = \frac{v_1 + v_2}{2}, \quad v_{av} = \frac{1}{2} at + v_0$$

$$\Delta x = \frac{1}{2} a (2t - 1) + v_0$$

۹- جابه‌جایی ثانیه‌ام

$$\Delta x = \frac{v_1 + v_2}{2} \Delta t$$

۱۰- معادله مستقل از شتاب

$$v^2 - v_0^2 = 2a \Delta x$$

۱۱- معادله مستقل از زمان

$$\Delta x = \left| \frac{v_0^2}{2a} \right|$$

۱۲- طول خط ترمز یا مسافت توقف

$$v^2 = -2g \Delta y$$

۱۳- معادله مستقل از زمان در سقوط آزاد



$$v_{av} = \frac{\Delta y}{\Delta t}$$

$$v = -gt$$

$$y = -\frac{1}{2}gt^2 + y_0$$

$$\Delta y = -\frac{1}{2}g(2t - 1)$$

$$\Delta y = \frac{v_1 + v_2}{2} \Delta t$$

۱۴- سرعت متوسط در سقوط آزاد

۱۵- معادله شتاب - زمان در سقوط آزاد

۱۶- معادله مکان - زمان در سقوط آزاد

۱۷- جابه‌جایی ثانیه‌ام در سقوط آزاد

۱۸- معادله مستقل از شتاب در سقوط آزاد

فیزیک دوازدهم فصل دوم

$$\Sigma F = ma$$

$$F_c = k \Delta x$$

$$N = mg \text{ (جسم ساکن روی سطح)}$$

$$N = mg \ominus F \sin \alpha$$

$$N = mg \oplus F \sin \alpha$$

$$N = F \text{ افقی (نگه‌داشتن جسم روی سطح دیوار)}$$

$$a) F < f_{s,max} \Rightarrow f_s = F$$

$$b) F > f_{s,max} \Rightarrow f = f_k, f_k = \mu_k \cdot N \quad (f_{s,max} = \mu_s \cdot N)$$

$$R = \sqrt{N^2 + f^2}$$

$$\tan \alpha = \frac{N}{f}$$

$$a) -f_D - mg = ma \text{ (حرکت رو به بالا)}$$

$$b) mg - f_D = ma \text{ (حرکت رو به پایین)}$$

۱- قانون دوم نیوتون

۲- نیروی کشسانی فنر

۳- محاسبه نیروی عمودی سطح در حالات مختلف

(اعمال نیروی مایل به یک جسم روی سطح)

۴- محاسبه نیروی اصطکاک در حالات مختلف

۵- نیروی سطح

۶- زاویه نیروی سطح با افق

۷- نیروی مقاومت هوا

۸- وزن ظاهری

a) $N - mg = ma$ (حرکت رو به بالا)

b) $N = mg$ (سرعت ثابت)

c) $mg - N = ma$ (حرکت رو به پایین)

۹- نیروی فنر در آسانسور

a) $F_e - mg = ma$ (حرکت رو به بالا)

b) $F_e = mg$ (سرعت ثابت)

c) $mg - F_e = ma$ (حرکت رو به پایین)

۱۰- نیروی گرانش

$$F = G \frac{m_1 m_2}{r^2}$$

۱۱- نیروی وزن

$$W = G \frac{M_e m}{R_e^2}$$

۱۲- شتاب گرانش

$$g = \frac{GM}{r^2}$$

۱۳- تکانه

$$\vec{p} = m\vec{v}$$

۱۴- نیروی متوسط

$$\vec{F} = \frac{\Delta p}{\Delta t} = \frac{m(v_2 - v_1)}{\Delta t}$$

۱۵- شتاب در حرکت دایره‌ای

$$a = \frac{v^2}{R}$$

۱۶- قانون دوم نیوتون در حرکت دایره‌ای

$$F_{\text{net}} = F_{\text{مخالف مرکز}} - F_{\text{جانب مرکز}} = ma$$

فیزیک دوازدهم فصل سوم

$$x = A \cos \omega t$$

۱- معادله مکان - زمان حرکت نوسانی

$$\omega = \frac{2\pi}{T}$$

۲- بسامد زاویه‌ای

$$f = \frac{1}{T}$$

۳- فرکانس (بسامد)



۴- مکان، سرعت، شتاب، نیرو، تکانه و انرژی جنبشی بیشینه

$$x_{\max} = A \quad , \quad v_{\max} = A\omega \quad , \quad a_{\max} = -A\omega^2$$

$$F_{\max} = -mA\omega^2 \quad , \quad p_{\max} = mA\omega \quad , \quad K_{\max} = \frac{1}{2}mA^2\omega^2$$

$$T = 2\pi\sqrt{\frac{L}{g}} \quad \text{۵- زمان تناوب آونگ}$$

$$n = \frac{t}{T} \quad \text{۶- تعداد نوسان در آونگ و فنر}$$

$$T = 2\pi\sqrt{\frac{m}{k}} \quad \text{۷- زمان تناوب فنر}$$

$$E = 2\pi^2 m f^2 A^2 \quad , \quad E = \frac{1}{2} mA^2 \omega^2 \quad \text{۸- انرژی مکانیکی در نوسانگر}$$

$$E = \frac{1}{2} k A^2 \quad \text{۹- انرژی مکانیکی در فنر}$$

$$\lambda = \frac{v}{f} \quad , \quad \lambda = vT \quad \text{۱۰- محاسبه طول موج با استفاده از فرکانس و دوره}$$

۱۱- تندی انتشار موج در طناب یا فنر

$$v = \sqrt{\frac{F.L}{m}} \quad , \quad v = \sqrt{\frac{F}{\rho A}} \quad , \quad v = \frac{2}{D} \sqrt{\frac{F}{\rho \pi}}$$

$$\lambda = \frac{c}{f} \quad , \quad \lambda = cT \quad \text{۱۲- طول موج الکترومغناطیسی}$$

$$I = \frac{E}{A.t} \quad , \quad I = \frac{\bar{P}}{A} \quad \text{۱۳- شدت صوت}$$

$$\beta = \log \frac{I}{I_0} \text{ (بل)} \quad , \quad \beta = 10 \log \frac{I}{I_0} \text{ (دسی بل)} \quad \text{۱۴- تراز شدت صوت}$$

$$\Delta\beta = \log \frac{I_2}{I_1} \text{ (بل)} \quad , \quad \Delta\beta = 10 \log \frac{I_2}{I_1} \text{ (دسی بل)} \quad \text{۱۵- تغییر تراز شدت صوت}$$

فیزیک دوازدهم فصل چهارم

- ۱- محاسبه سرعت نور در مواد مختلف
- $$v = \frac{c}{n}$$
- ۲- مقایسه سرعت، طول موج، ضریب شکست و زاویای تابش و شکست
- $$\frac{h_2}{h_1} = \frac{v_2}{v_1} = \frac{\lambda_2}{\lambda_1} = \frac{\sin r}{\sin i} = \frac{n_1}{n_2}$$
- ۳- اختلاف راه نوار روشن در آزمایش ینگ
- $$\Delta x = n\lambda$$
- ۴- اختلاف راه نوار تاریک در آزمایش ینگ
- $$\Delta x = (2n - 1)\frac{\lambda}{2}$$
- ۵- طول طناب در طناب دو انتها بسته
- $$L = n\frac{\lambda}{2}$$
- ۶- فرکانس طناب در طناب دو انتها بسته
- $$f_n = \frac{nv}{2L}$$

فیزیک دوازدهم فصل پنجم

- ۱- انرژی فوتون
- $$E = nhf, E = nh\frac{c}{\lambda}$$
- ۲- انرژی مدار n ام یا انرژی یونش
- $$E_n = \frac{-E_R}{n^2}$$
- ۳- شعاع مدار n ام
- $$r_n = a_0 n^2$$
- ۴- محاسبه انرژی مربوط به الکترون در مدار شماره n
- $$\frac{E_{n'}}{E_n} = \frac{r_n}{r_{n'}} = \left(\frac{n}{n'}\right)^2$$
- ۵- اختلاف انرژی تراز بالا و پایین
- $$E_U - E_L = \begin{cases} nhf \\ \frac{nhc}{\lambda} \end{cases}$$
- ۶- پدیده فوتوالکتریک و محاسبه فرکانس آستانه و طول موج آستانه
- a) $hf < W_0$
- b) $hf = W_0 \Rightarrow \begin{cases} f_0 = \frac{W_0}{h} \\ \lambda_0 = \frac{hc}{W_0} \end{cases}$
- c) $hf > W_0 \Rightarrow e$ کنده شده و با بیش‌ترین تندی حرکت می‌کند.



۷- بیشینه انرژی جنبشی الکترون‌ها در پدیده فوتوالکتریک

$$K_{\max} = hf - W_0$$

۸- طول موج اتم هیدروژن

$$\frac{1}{\lambda} = R_H \left(\frac{1}{n'^2} - \frac{1}{n^2} \right) \quad (n > n')$$

فیزیک دوازدهم فصل ششم

$$E = mc^2$$

۱- انرژی هسته‌ای

$$N = \frac{N_0}{2^{\left(\frac{t}{T}\right)}}$$

۲- تعداد اتم‌های فعال (باقی‌مانده)

$$\frac{t}{T} = n$$

۳- تعداد نیمه‌عمر

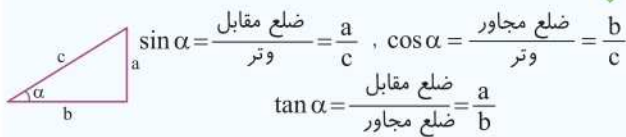
$$N' = N_0 - N$$

۴- تعداد اتم‌های واپاشیده



→ ضمیمه ۲ : ایستگاه فرمول های ریاضی ←

۱ روابط مثلثاتی



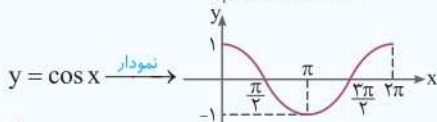
همواره داریم:

$$\begin{cases} \sin^2 \alpha + \cos^2 \alpha = 1 \\ a^2 + b^2 = c^2 \end{cases} \begin{cases} 3, 4 \rightarrow 5 \\ 6, 8 \rightarrow 10 \\ 5, 12 \rightarrow 13 \end{cases}$$

اعداد فیثاغوری

$\tan \theta$	$\cos \theta$	$\sin \theta$	θ
0	1	0	0°
∞	0	1	90°
0	-1	0	180°
∞	0	-1	270°
0	1	0	360°
1	$\frac{\sqrt{2}}{2}$	$\frac{\sqrt{2}}{2}$	45°
$\frac{\sqrt{3}}{3}$	$\frac{\sqrt{3}}{2}$	$\frac{1}{2}$	30°
$\sqrt{3}$	$\frac{1}{2}$	$\frac{\sqrt{3}}{2}$	60°
$\frac{3}{4}$	0.8	0.6	37°
$\frac{4}{3}$	0.6	0.8	53°

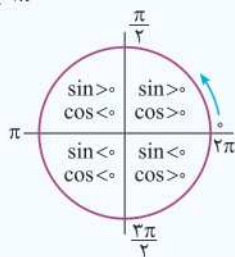
www.Gajmarket.com



$$\begin{cases} \cos 2k\pi = +1 \\ \text{مضارب زوج } \pi \\ \cos(2k-1)\pi = -1 \\ \text{مضارب فرد } \pi \end{cases}$$

$$\sin k\pi = 0$$

تمامی مضارب π



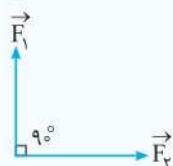
$$-1 \leq \sin x \leq 1, \quad -1 \leq \cos x \leq 1$$

قوانین بردارها

۲

بردار: \vec{F}

برایند بردارها: \vec{F}_T



اندازه بردار: $|\vec{F}| = F$

اندازه برایند: $|\vec{F}_T| = F_T$

$$\vec{F}_T = \vec{F}_1 + \vec{F}_2$$

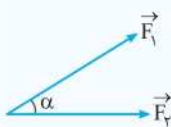
$$\vec{F}_T = \vec{F}_2 - \vec{F}_1$$

$$F_T = \sqrt{F_1^2 + F_2^2}$$

$$F_{\text{تفاضل}} = \sqrt{F_1^2 + F_2^2}$$

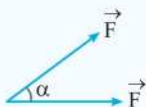
برایند و تفاضل

۱



$$F_T = \sqrt{F_1^2 + F_2^2 + 2F_1F_2 \cos \alpha}$$

$$F_{\text{تفاضل}} = \sqrt{F_1^2 + F_2^2 - 2F_1F_2 \cos \alpha}$$

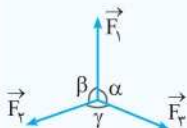


$$F_T = 2F \cos\left(\frac{\alpha}{2}\right)$$

$$F_{\text{تفاضل}} = 2F \sin\left(\frac{\alpha}{2}\right)$$

$$\underbrace{|\vec{F}_1 - \vec{F}_2|}_{\text{min}} \leq F_T \leq \underbrace{|\vec{F}_1 + \vec{F}_2|}_{\text{max}}$$

قانون سینوسها

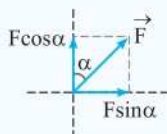
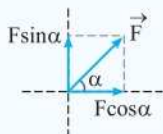


$$\frac{F_1}{\sin \gamma} = \frac{F_2}{\sin \alpha} = \frac{F_3}{\sin \beta}$$



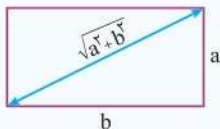
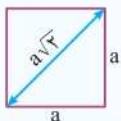
$$F_T = 0$$

تجزیه بردارها

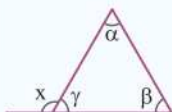


روابط هندسی ۳

محاسبه قطر ۱



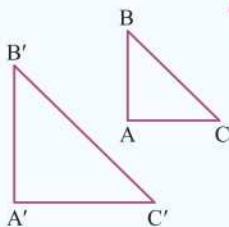
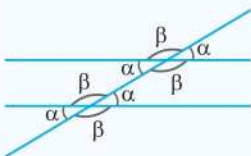
جمع زوایای مثلث ۲



$$\alpha + \beta + \gamma = 180^\circ$$

$$x = \alpha + \beta$$

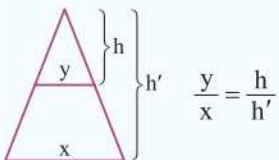
تشابه ۳



$$\frac{AB}{A'B'} = \frac{BC}{B'C'} = \frac{AC}{A'C'}$$

$$\frac{\text{مساحت مثلث } ABC}{\text{مساحت مثلث } A'B'C'} = \left(\frac{AB}{A'B'}\right)^2 = \left(\frac{BC}{B'C'}\right)^2 = \left(\frac{AC}{A'C'}\right)^2$$

رابطه تالس ۴




$$\frac{y}{x} = \frac{h}{h'}$$



مساحت



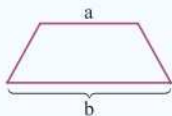
$$A = a^2$$



$$A = ab$$



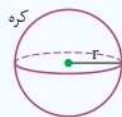
$$A = \frac{1}{2}bh$$



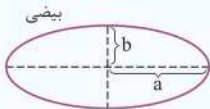
$$A = \frac{(a+b)h}{2}$$



$$A = \pi r^2$$

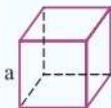


$$A_{\text{جانبی}} = 4\pi r^2$$



$$A = \pi ab$$

حجم



$$V = a^3$$



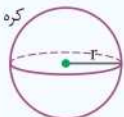
$$V = abc$$



$$V = \pi r^2 h$$



$$V = \frac{1}{3} \pi r^2 h$$



$$V = \frac{4}{3} \pi r^3$$

اتحادها

۴

$$(a - b)^2 = a^2 - 2ab + b^2$$

$$(a + b)^2 = a^2 + 2ab + b^2$$

$$(a - b)(a + b) = a^2 - b^2$$

معادله خطوط و ریشه‌های معادله

۵

$$y = ax + b \Rightarrow x = -\frac{b}{a} \quad \text{ریشه} \quad \text{درجه ۱}$$

x	$-\frac{b}{a}$	(تعیین علامت)
y	مخالف علامت a موافق علامت a	

درجه ۲

$$y = ax^2 + bx + c \quad : \quad \Delta = b^2 - 4ac \quad \left\{ \begin{array}{l} \Delta > 0 \text{ دو ریشه دارد.} \\ \Delta = 0 \text{ ریشه مضاعف دارد.} \\ \Delta < 0 \text{ ریشه ندارد.} \end{array} \right.$$

$$x_{1,2} = \frac{-b \pm \sqrt{\Delta}}{2a}$$

$$x_{\text{مضاعف}} = \frac{-b}{2a} \quad (\Delta = 0)$$

x	x_1	x_2	(تعیین علامت)
y	مخالف علامت a موافق علامت a	مخالف علامت a موافق علامت a	موافق علامت a

قوانین لگاریتم

۶

$$\log_b a = c \Rightarrow a = b^c$$

$$\log ab = \log a + \log b$$

$$\log a^m = m \log a$$

$$\log\left(\frac{a}{b}\right) = \log a - \log b$$

$$\log_a a = 1$$