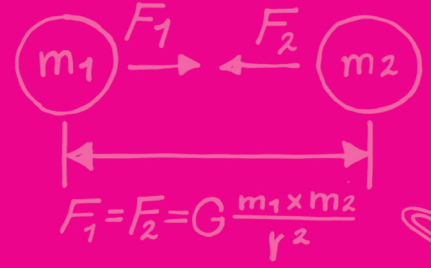





$$T = 2\pi\sqrt{\frac{m}{k}}$$



$$\vec{F} = m\vec{a}$$



$$E = hf$$



## جزوہ کلاس کنکور

# فیزک دوازدهم

تألیف: احمد مصلائی

$$B = 10 \log \frac{I}{I_0}$$



سرشناسه : مصلائی، احمد، ۱۳۵۴ -  
عنوان و نام پدیدآور : جزوه کلاس کنکور فیزیک دوازدهم / احمد مصلائی؛ ویراستار فنی مریم مجاور.  
مشخصات نشر : تهران: کتب آموزشی پیشرو، ۱۴۰۱.  
مشخصات ظاهری : ۲۱۸ص؛ ۲۲×۲۹ س.م.  
شابک : ۹۴۵۷۴-۹۶۲۲-۹۷۸-۱۶۰۰۰۰۰۰ ریال  
وضعیت فهرست نویسی : فیپای مختصر  
شماره کتابشناسی ملی : ۸۸۲۹۱۶۲  
اطلاعات رکورد کتابشناسی : فیپا



نام کتاب : جزوه کلاس کنکور فیزیک دوازدهم  
ناشر : کتب آموزشی پیشرو (کاپ)  
عنوان پروژه : جزوه کلاس کنکور  
تألیف : احمد مصلائی  
مدیر تألیف : احمد مصلائی  
ناظر فنی : سیما رائفی نیا  
صفحه بندی : نازنین احمدی شفق  
حروف چینی : جواد جعفریان  
ویراستار فنی : مریم مجاور  
ایده طرح جلد : احمد مصلائی  
تصویرسازی جلد : امیرحامد پاژتار  
طراحی جلد : گروه گرافیک کاپ  
لیتوگرافی و چاپ : گلپا گرافیک/ نگار نقش  
سال و نوبت چاپ : ۱۴۰۱ / اول  
شابک : ۹۴۵۷۴ - ۹۶۲۲ - ۹۷۸  
شمارگان : ۱۰۰۰ نسخه  
قیمت : ۱۶۰۰۰۰ تومان

مرکز فروش: میدان انقلاب- فیابان فخررازی- فیابان و میدان نظری غربی- پلاک ۸۳

تلفن: ۰۲۱-۶۶۴۹۳۴۹۰ / ۰۲۱-۶۶۹۶۱۰۷۹ / ۰۲۱-۶۶۹۶۴۷۳۳-۵ / صندوق پستی: ۱۱۳۹-۱۳۱۴۵

آدرس سایت زیرزره بین: [www.zirezarebinpub.ir](http://www.zirezarebinpub.ir)

سایت نشر کاپ: [www.cup-book.com](http://www.cup-book.com)

## ● یک روز از روزهای فروردین، پس از برگزاری اولین آزمون جامع آزمایشی سنجش!

[غیژژ... در کلاس باز میشه و من وارد کلاس می‌شم!]

[چیلیک: صدای بسته شدن در!]

[دبیر با چهره‌ای برافروخته]: بشینید! [دبیر بدون یک کلام حرف اضافه، میره روی صندلی مخصوص دبیرها(جا استادی!)]



[می‌شینه]

سوزیلا: آقا! خدا بد نده! چیه؟! چیزی شده؟! چرا ساکتید؟!



[دبیر: این سؤالیه که باید از خودتون پرسید! درصدهای قشنگتونو دیدید؟! این نتیجه ۹ ماه کلاس اومدنتونه؟!]



لابد می‌خواید با این درصدها دکتر هم بشین؟! تستاش سخت بود؟! کدوم یک از تستاش براتون تازگی داشت؟! سوزیلا! ۲۰

درصد؟! تو دیگه چرا؟!

[سوزیلا در حالی که پایین نگاه می‌کنه و بغض کرده]: نه آقا! تستاش ساده بود. این اولین آزمون جامعی بود که می‌دادیم.



توی مود بعضی بحث‌ها نبودیم!

ام کلثوم: آقا! من اومدم خونه بیشتر تست‌ها رو درست حل کردم! بیشتر وقتم رفت برای زدن تست‌های زمین‌شناسی!



فیزیک، زیست، ریاضی و شیمی رو وقت کم اوردم!

جنیفر: من قند خونم رفت پایین! فشارم رفت بالا! وسط جلسه حالم بد شد؛ اومدم بیرون!



سوزیلا: آقا! سر جلسه حس کردم همه چیز از یادم رفته. مشکلم اینه نتونستم توی این هفته درس رو جمع کنم فقط فیزیک





نبود بوخدا! همه درس‌ها رو گند زدیم!!


این اتفاق، تصویر آشنایی از اتفاقاتیه که پس از اولین آزمون جامع سنجش در کلاس‌ها می‌افته. باید کاری می‌کردم. نتیجه ۹ ماه برو بیا و کلاس و درس دادن و درس خوندن و سؤال پرسیدن و سؤال جواب دادن و صندلی بردن و صندلی آوردن داشت به فنا می‌رفت!! یک جزوه نوشتم و در اون همه مفاهیم کتاب رو به شکل خلاصه، با استفاده از کلیدواژه‌ها و فرمی متفاوت اوردم. دانش‌آموزان باید در این مدت، کل جزوه رو می‌خوندن و حدود ۳۰۰ تا تست منتخب حل می‌کردن. آزمون جامع بعدی ورق برگشت. نتایج بهتر از اون شد که انتظار داشتیم! فقط با یک تدبیر: نوشتن یک جزوه کوچک که باعث یادآوری همه مطالبی بشه که در طول سال گفته شده.

این کتاب، مدل کامل‌شده و مدرن‌تر همون جزوه است. فضای رسمی کتاب‌های بازار باعث می‌شه در بخش آموزش نتونن کارایی کلاس رو داشته باشن. کتاب رو طوری طراحی کردیم که این فاصله به حداقل برسه و دانش‌آموز با خوندن کتاب به همه فوت‌وفن‌های لازم برای جواب دادن به تست‌ها برسه.

## ● ساختار کتاب

**نگاهی به فصل:** هر فصل از کتاب، با بخشی به نام «نگاهی به فصل» شروع می‌شود. مفاهیم اساسی هر فصل را به‌طور خلاصه در این بخش آورده‌ایم. (باورتون می‌شه نوشتن هر کدوم از این خلاصه درس‌ها ۲ تا ۳ روز زمان برد؟! اولش می‌خواستیم اسم این بخش رو بذاریم «تقلب‌نامه»  که به خاطر عدم آشنایی بچه‌ها با واژه نامأنوس «تقلب» از این نام‌گذاری صرف نظر کردیم.  **واحد:** هر فصل به چند واحد تقسیم می‌شود. در هر واحد، یکی از مباحث کتاب درسی را به‌طور کامل بررسی کرده‌ایم. این بررسی به بیان مفاهیم یا نکات، حل مثال و تمرین محدود نمی‌شود! با استفاده از نمادهای زیر، به سبکی متفاوت در آموزش روی آورده‌ایم: شامل روش‌هایی است که مهارت دانش‌آموز را در حل تست‌ها افزایش می‌دهد.

### تکنیک


**تصویرسازی** در این قسمت، برای درک ساده‌تر بعضی مفاهیم، از تصویرسازی و شبیه‌سازی‌های دم‌دستی استفاده شده است. **کدینگ** امان از فراموشی  برای ماندگاری بیشتر بعضی مفاهیم و روابط فرّار، یک سری رمز ساخته‌ایم (ممکنه بعضی رمزها مصطلح باشه) و در قالب «کدینگ» آورده‌ایم.

### تصویرسازی

### کدینگ

**ویژه بچه‌های خفن** مخاطب ما در این کتاب، تمام دانش‌آموزان، با هر سطحی از درک فیزیک هستند. ممکن است در حل بعضی تست‌ها یک سری روش‌ها مطرح شود که مخاطب آن‌ها، دانش‌آموزانی هستند که به اندازه کافی اوضاعشان خوب است. این بخش داخل کادری طوسی‌رنگ آورده می‌شود و اگر زمان کافی برای مطالعه همه کتاب را ندارید یا هنوز به مفاهیم اصلی درس تسلط ندارید، از خواندن این بخش‌ها صرف نظر کنید.

### ویژه بچه‌های خفن

**میانبر** ما در یک تست، با چهار گزینه مواجهیم. این موضوع خیلی مهمه  بعضی موقع‌ها ممکنه بدون حل تشریحی تست و با توجه به گزینه‌ها یا استفاده از روش‌های فرعی به جواب صحیح تست برسیم. ما این کار را در «میان‌بر»‌هایمان انجام داده‌ایم! **سریع باش** تمام داوطلبان کنکور، سر جلسه آزمون با مشکلی به نام «کمبود وقت» برخورد می‌کنند، حتی شما دوست عزیز! باید به ترفندهای محاسباتی برای حل سریع‌تر بعضی تست‌ها مجهز شوید! در بخش «سریع باش» شما را با این ترفندها آشنا می‌کنیم.

### میانبر

### سریع باش

## ● تشکرنامه

در پایان لازم می‌دانم از همه عزیزانی که در تولید این کتاب نقش داشتند، تشکر کنم. از جمله «آقای سیداحمد موسوی (مدیر انتشارات)» که اولین کتابم را با اعتماد و همراهی ایشان تألیف کردم و از آن وقت تا الان ۲۲ سال است که تألیف را کنار نگذاشته‌ام! آقای «علیرضا حاتمی» در امور تولید، آقای جواد جعفریان» در تایپ، خانم «مریم مجاور» در ویراستاری فنی، خانم «نازنین زهرا آذریان» در ویراستاری علمی، آقای «محمد یوسفی» در گرافیک، خانم‌ها «زهرا عسگری» و «سحر زینال‌نژاد» بابت طراحی کارتونها و بالاخره خانم «سیما رائفی نیا» بابت پشتیبانی فنی و خانم «نازنین احمدی شفق» بابت صفحه‌آرایی هنرمندانه کتاب.

## ● تقدیم به

این کتاب از بابت زحمات‌های زیادی که برایش کشیده شده و خلاقیتی که در ساختار اون به کار رفته، خیلی خیلی برام ارزشمند. به دو نفر تقدیمش می‌کنم. اول «همسر» که زمانی را که باید کنار او می‌بودم به تألیف این کتاب پرداختم و دوم آقای «آراس میرشکاری» دوست خوش فکرم که ساختار کتاب «زیپ فیزیک»، را با هم‌فکری ایشان پایه‌ریزی کردیم و از تجربه مثبتی که در تألیف آن کتاب داشتیم، در این کتاب استفاده کردم.

 classkonkurnote

 @classkonkurnote



**فصل اول ..... حرکت بر خط راست**

- در یک نگاه ..... ۶  
 واحد ۱: مبانی حرکت شناسی ..... ۸  
 واحد ۲: حرکت با سرعت ثابت ..... ۳۶  
 واحد ۳: حرکت با شتاب ثابت ..... ۴۳

**فصل دوم ..... دینامیک**

- در یک نگاه ..... ۷۹  
 واحد ۱: قوانین سه گانه نیوتون ..... ۸۱  
 واحد ۲: معرفی برخی از نیروهای خاص ..... ۸۵  
 واحد ۳: تکانه و قانون دوم نیوتون ..... ۱۱۲

**فصل سوم ..... نوسان و امواج**


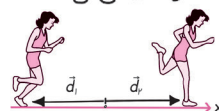
- در یک نگاه ..... ۱۱۶  
 واحد ۱: نوسان ..... ۱۱۸  
 واحد ۲: موج و انواع آن ..... ۱۴۱  
 واحد ۳: صوت ..... ۱۵۳  
 واحد ۴: بازتاب موج ..... ۱۶۳  
 واحد ۵: شکست موج ..... ۱۷۹

**فصل چهارم ..... آشنایی با فیزیک اتمی و هسته‌ای**

- در یک نگاه ..... ۱۹۳  
 واحد ۱: نظریه فوتون اینشتین ..... ۱۹۵  
 واحد ۲: طیف نور و مدل‌های اتمی ..... ۲۰۳  
 واحد ۳: فیزیک هسته‌ای ..... ۲۱۴  
 واحد ۴: پرتوزایی ..... ۲۱۷

مبانی حرکت شناسی

- مبدأ مکان = مبدأ مختصات = مبدأ مکانی با مختصات صفر ( $x=0$  روی محور  $x$ )
- مکان اولیه ( $x_0$ ): مکان متحرک در لحظه  $t=0$
- بردار مکان: برداری که مبدأ مختصات رو به مکان متحرک وصل می‌کند.
- بردار مکان وقتی تغییر جهت می‌ده که جسم از مبدأ عبور کند (علامت  $x$  عوض شده).
- جابه‌جایی ( $d$ ): برداری که مکان اولیه رو به مکان ثانویه وصل می‌کند.



در حرکت روی محور  $x$ :  $\vec{d} = (\Delta x) \hat{i}$

علامت  $\Delta x$  ← مثبت: جابه‌جایی در جهت محور  $x$   
 ← منفی: جابه‌جایی در خلاف جهت محور

- مسافت ( $s$ ): طول مسیری سده - کمیته نرده‌ای - همواره مثبت - وابسته به مسیر
- همیشه  $d \leq s$ . به سرنجی  $d = s$  که متحرک روی خط راست در یک جهت حرکت کند.

سرعت و تندی

1. سرعت متوسط:  $\vec{v}_{av} = \frac{\vec{d}}{\Delta t}$  برداری  
 و در حرکت روی محور  $x$ :  $v_{av} = \frac{\Delta x}{\Delta t}$   
 علامت  $v_{av} = \Delta x$  علامت  $\Delta x$

2. تندی متوسط:  $s_{av} = \frac{L}{\Delta t}$  همیشه نرده‌ای

$s_{av} \geq |\vec{v}_{av}|$   $L \geq d$

3. یکاهای سرعت و تندی:  $1 \text{ m/s} = 3.6 \text{ km/h}$

4. سرعت لحظه‌ای ( $\vec{v}$ ): سرعت در یک لحظه

5. تندی لحظه‌ای ( $s$ ): |سرعت لحظه‌ای|

علامت  $v$ : نشانه جهت حرکت

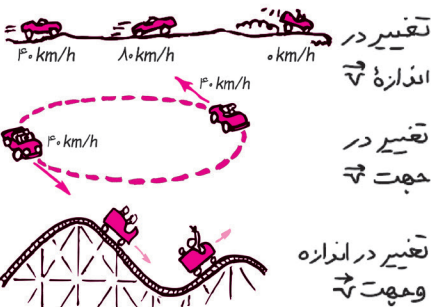
سرت تغییر جهت: تغییر علامت  $v$

شتاب

1. شتاب متوسط:  $\vec{a}_{av} = \frac{\Delta \vec{v}}{\Delta t}$  برداری

$\vec{a}_{av} = \frac{\Delta \vec{v}}{\Delta t}$  برداری  
 یکا:  $\text{m/s}^2$

2. عوامل شتاب‌زا:



تغییر در اندازه  $\vec{v}$

تغییر در جهت  $\vec{v}$

تغییر در اندازه و جهت  $\vec{v}$

حرکت با شتاب ثابت

- بردار شتاب ثابت: ثابت:  $\vec{a}$
- شتاب متوسط در قلم مدت = شتاب لحظه‌ای
- حرکت با شتاب ثابت  $a$  متر بر مجذور ثانیه یعنی سرعت در هر ثانیه  $a$  متر بر ثانیه تغییر می‌کند
- معادله سرعت - زمان:  $v = at + v_0$   
 $v$  تابع درجه اول  $t$  است.
- معادله مکان - زمان:  $x = \frac{1}{2}at^2 + v_0t + x_0$   
 $x$  تابع درجه دوم  $t$  است.

5. معادله مستقل از  $v$ :  $\Delta x = \frac{1}{2}at^2 + v_0t$

6. معادله مستقل از  $v$ :  $\Delta x = -\frac{1}{2}at^2 - v_0t$

7. معادله مستقل از  $a$ :  $\Delta x = (v_0 + \frac{v_1 + v_2}{2})t$

8. معادله مستقل از  $t$ :  $v^2 - v_0^2 = 2a\Delta x$

9. زمان ترمز:  $t_s = |\frac{v_0}{a}|$

10. مسافت ترمز:  $s_s = |\frac{v_0^2}{2a}|$

11. جابه‌جایی در ثانیه  $n$ :  $\Delta x_n = (n-0.5)a + v_0$

جابه‌جایی در ثانیه‌های متوالی یک دنباله حسابی

قدر نسبت  $a$  می‌سازد:  $\Delta x_{n+1} - \Delta x_n = a$

12. جابه‌جایی در ثانیه  $n$ :  $\Delta x_n = (n-0.5)at + v_0t$

جابه‌جایی در ثانیه‌های متوالی یک دنباله حسابی

قدر نسبت  $at^2$  می‌سازد:  $\frac{\Delta x_{t_2} - \Delta x_{t_1}}{n - m} = at^2$

13. سرعت متوسط:  $v_{av} = \frac{v_1 + v_2}{2}$

$v_{av} = \frac{1}{2}at + v_0$

سرعت متوسط در یک بازه زمانی = سرعت در لحظه وسط اون بازه

$v_{av} = v_{(t = \frac{t_1 + t_2}{2})}$

اگر متحرک در لحظه‌های  $t_1$  و  $t_2$  با سرعت‌های  $\vec{v}_1$  و  $\vec{v}_2$  از یک نقطه عبور کند:  $\vec{v}_2 = -\vec{v}_1$

متحرک در وسط لحظه‌های  $t_1$  و  $t_2$  تغییر جهت

هی‌ده:  $t_s = \frac{t_1 + t_2}{2}$

حرکت بر خط راست

در یک نگاه

انواع حرکت

- تندشونده:  $a > 0$  یا  $v$  از زیاد می‌شود.
- کندشونده:  $a < 0$  یا  $v$  کم می‌شود.
- یکنواخت:  $a = 0$  یا  $v$  ثابت.

حرکت با سرعت ثابت

- بردار سرعت ثابت:  $a = 0 \rightarrow v$  ثابت
- سرعت متوسط در تمام مدت = سرعت لحظه‌ای
- معادله حرکت:  $x = vt + x_0$   
 $x$  تابع درجه اول  $t$  است.
- معادله جابه‌جایی - زمان:  $\Delta x = v\Delta t$
- در حرکت‌های چند مرحله‌ای:

$v_{av} = \frac{\Delta x_{av}}{\Delta t_{av}} = \frac{\Delta x_1 + \Delta x_2 + \dots}{\Delta t_1 + \Delta t_2 + \dots}$

4. سرعت متحرک نسبت به متحرک 2:

$\vec{v}_{12} = \vec{v}_1 - \vec{v}_2$

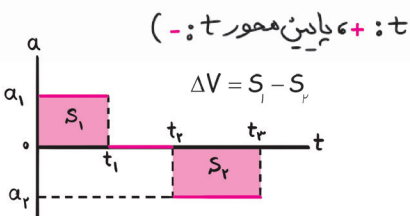
حرکت هم‌جهت:  $|v_{12}| = |v_1 - v_2|$

حرکت خلاف جهت:  $|v_{12}| = |v_1| + |v_2|$

**کمیت‌های قابل شناسایی از نمودار  $a-t$**

1 نیرو: هر اتفاقی برای حساب بیفته، برای نیرو هم منفته.

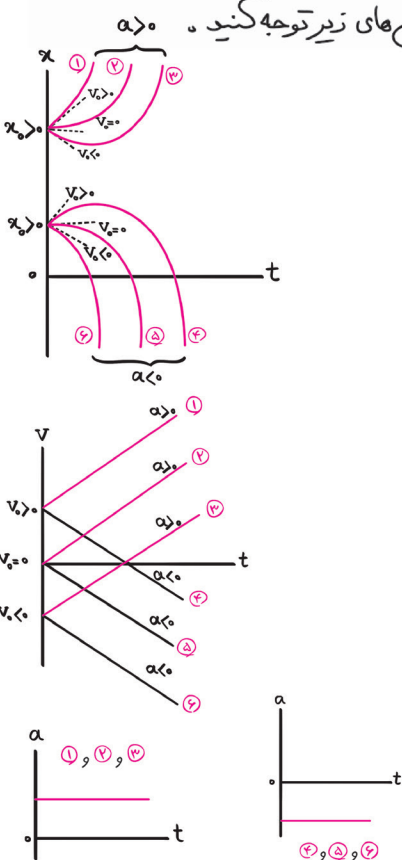
2 تغییر سرعت: مساحت بین نمودار و محور زمان با رعایت علامت (بالای محور  $t$ ، پایین محور  $t$ ).



3 نوع حرکت: به شرطی که سرعت در یک لحظه معلوم باشه، می‌تونیم سرعت در همه لحظه‌ها رو حساب و با توجه به نحوه تغییر  $v$ ، نوع حرکت متحرک رو تشخیص بدیم.

**رسم نمودارها از روی یکدیگر**

1 باید نحوه رسم نمودارهای  $v-t$ ،  $a-t$  و  $x-t$  را از روی هم، در حرکت با حساب ثابت، بلد باشید. به حالت‌های رسم شده در شکل‌های زیر توجه کنید.



**کمیت‌های قابل شناسایی از نمودار  $v-t$**

1 تنزی: قدر مطلق سرعت

2 جایگاه نمودار: بالای محور  $t$ :  $v > 0$   
روی محور  $t$ :  $v = 0$   
زیر محور  $t$ :  $v < 0$

3 به تعداد دفعاتی که نمودار از محور  $t$  عبور می‌کنه، متحرک تغییر جهت می‌ده.

4 تند: نزدیکی نمودار به محور  $t$   
نوع حرکت: کند: دوری نمودار از محور  $t$   
یکنواخت: نمودار موازی محور  $t$

5 حساب متوسط: شیب خط واصل به نقطه  
حساب لحظه‌ای: شیب خط مماس بر نقطه

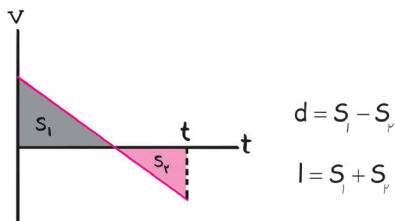
6 شکل نمودار: صعودی:  $a > 0$   
نزولی:  $a < 0$   
موازی محور  $t$ :  $a = 0$

7 به تعداد قله‌ها و دره‌ها حساب (و نیرو) صفر و علامت آن تغییر می‌کنه.

8 نوع حساب: خط مایل: حساب ثابت  
غیرخطی: حساب متغیر

9 جایجایی: جمع مساحت‌های بین نمودار و محور  $t$ ، با رعایت علامت (جایجایی‌های بالای محور  $t$ :  $+$ ، جایجایی‌های زیر محور  $t$ :  $-$ )

10 مسافت: جمع مساحت‌های بین نمودار و محور  $t$ ، بدون رعایت علامت



**کمیت‌های قابل شناسایی از نمودار  $x-t$**

1 مسیر حرکت: تصویر نمودار روی محور  $x$

2 جایگاه متحرک: بالای محور  $t$ :  $x > 0$   
روی محور  $t$ :  $x = 0$   
زیر محور  $t$ :  $x < 0$

3 به تعداد دفعاتی که نمودار از محور  $t$  عبور می‌کنه، بردار مکان تغییر جهت می‌ده.

4 نزدیک شوند به محور  $t$ :  $|x| ↓$   
فاصله از مبدأ: دور شوند از محور  $t$ :  $|x| ↑$   
موازی محور  $t$ : سکون

5 سرعت متوسط: شیب خط واصل به نقطه  
سرعت لحظه‌ای: شیب خط مماس بر نقطه

6 جهت حرکت: نزولی: خلاف جهت محور  $x$  ( $v < 0$ )  
افقی: سکون ( $v = 0$ )

7 به تعداد قله‌ها و دره‌ها، سرعت صفر و جهت حرکت تغییر می‌کنه.

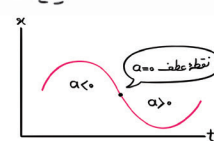
8 تند: بزرگی شیب (۱۷) افزایش  
نوع حرکت: کند: بزرگی شیب (۱۷) کاهش  
یکنواخت: بزرگی شیب ثابت

9 حرکت، بلافاصله قبل از قله‌ها/دره‌ها به نوع گذشته و بلافاصله بعد از آن‌ها تند شوند است.

10 نوع حساب: خط مایل: یکنواخت  
منحرف: سهمی: حساب متغیر

11 تغییر رو به بالا:  $a > 0$   
علامت حساب: تغییر رو به پایین:  $a < 0$   
بدون تغییر:  $a = 0$

12 به تعداد نقاط عطف علامت  $a$  تغییر می‌کنه.







واحد  
۱

مبانی حرکت‌شناسی




کاپ  
فصل اول

لیندر بروتا برود صحبت از دل  
ترسم هر سیم پیش نند بر مسافت!  
(سوری)

مکان - مسافت - جابه‌جایی

به برداری که مبدأ مکان را به مکان متحرک وصل می‌کند، «بردار مکان» می‌گوییم و آن را با  $\vec{d}$  یا  $x$  (در حرکت یک بعدی) نشان می‌دهیم.



**نکته** وقتی جسم در طرف مثبت محور  $x$  است ( $x > 0$ )، بردار مکان آن در جهت محور  $x$  و زمانی که جسم در سمت منفی محور  $x$  است ( $x < 0$ )، بردار مکان آن در خلاف جهت محور  $x$  است.

به برداری که مکان اولیه را به مکان ثانویه وصل می‌کند، «بردار جابه‌جایی» می‌گوییم و آن را با  $\vec{d}$  یا  $\Delta x$  (در حرکت یک بعدی) نشان می‌دهیم.



**نکته** علامت بردار مکان هیچ ربطی به علامت جابه‌جایی ندارد. ممکن است متحرک سمت راست مبدأ باشد ( $x > 0$ ) و به سمت چپ برود ( $\Delta x < 0$ )، یا سمت چپ مبدأ باشد ( $x < 0$ ) و به سمت راست برود ( $\Delta x > 0$ ).

به طول مسیر طی شده توسط متحرک «مسافت» می‌گوییم و آن را با  $l$  نشان می‌دهیم.

**نمونه** فرض کن شما رو اشتباهی به جای ماهواره امیر به شعاع ۱۰۰۰۰ کیلومتری از مرکز زمین پرتاب کردن! اگر شما به دور، دور زمین بچرخ و برگردی سر جای اولت، جابه‌جاییت می‌شه صفر ( $d = 0$ )، اما مسافتی به اندازه محیط دایره‌ای به شعاع ۱۰۰۰۰ km طی می‌کنی؛ یعنی:

$$l = 2\pi r = 2\pi \times 10^4 = 6.28 \times 10^4 \text{ km}$$

برول داریم چه برولی!! جدول تفاوت‌های جابه‌جایی و مسافت! وای! وای! وای!!! (بوا الکی!!)

مسافت (l)	جابه‌جایی ( $\vec{d}$ یا $\Delta x$ )
طول مسیر طی شده برده‌ای و همواره بزرگ‌تر از صفر است (اگر $l = 0$ باشد، جسم ساکن است). وابسته به مسیر حرکت است. امکان ندارد نزولی (کاهش) باشد.	فاصله مستقیم مبدأ تا مقصد بردار است و ممکن است مثبت یا منفی باشد. به مسیر متحرک وابسته نیست. اگر $\Delta x > 0$ باشد، متحرک در جهت محور $x$ و اگر $\Delta x < 0$ باشد، متحرک در خلاف جهت محور $x$ حرکت می‌کند.

۱ متحرک روی خط راست حرکت کند.

**نکته**  $l \geq d$ . فقط به شرطی  $l = d$  است که

۲ تغییر جهت ندهد.

۱ متحرک تغییر جهت نمی‌دهد: مسافت، برابر قدرمطلق جابه‌جایی است:  $l = |\Delta x|$

محاسبه مسافت در حرکت بر خط راست

محاسبه جابه‌جایی تا قبل از تغییر جهت ( $\Delta x_1$ )

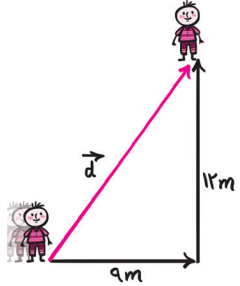
محاسبه جابه‌جایی بعد از تغییر جهت ( $\Delta x_2$ )

۲ متحرک تغییر جهت می‌دهد

بزرگی این دورا با هم جمع می‌کنیم:

$$l = |\Delta x_1| + |\Delta x_2|$$

**مثال** متحرکی ابتدا ۹m به سمت شرق و سپس ۱۲m به سمت شمال حرکت می‌کند. جابه‌جایی و مسافت طی شده توسط متحرک را حساب کنید.



**پاسخ:** شکل روبه‌رو نشون می‌ده متحرک چه‌طور حرکت کرده. برای محاسبه مسافت، هر چی طول می‌بینی با هم جمع کن:

$$l = 9 + 12 = 21 \text{ m}$$

برای محاسبه جابه‌جایی، چشمتو روی مسیر حرکت بند و فقط به اول و آخر مسیر نگاه کن! جابه‌جایی، برابر طول پاره‌خطیه که ابتدا و انتهای مسیر رو به هم وصل می‌کنه.

$$d = \sqrt{9^2 + 12^2} = \sqrt{(3 \times 3)^2 + (3 \times 4)^2} = \sqrt{3^2(3^2 + 4^2)} = 3\sqrt{25} = 3 \times 5 = 15 \text{ m}$$



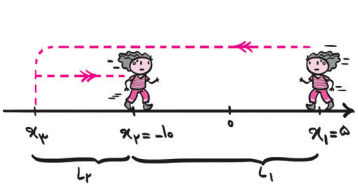


### سریع باش

اگر در یک مثلث قائم الزاویه یکی از ضلع‌های قائمه مضربی از عدد ۳ و اون یکی ضلع همون مضرب از عدد ۴ باشه، وتر همون مضرب از عدد ۵ می‌شه؛ پس اگه اسم مضربمون  $n$  باشه، با توجه به رابطه فیثاغورس:  
 $(3n)^2 + (4n)^2 = (5n)^2$   
 در مثال قبلی که  $n = 3$ ، یک ضلع  $3 \times 3$  و ضلع دیگه هم  $4 \times 3$  بود، وتر می‌شه  $5 \times 3$ . بعضی بچه‌ها به مثلی که ضلع‌هاش  $3n$ ،  $4n$  و  $5n$  باشه میگن مثلث طلایی! ما چند تا مثلث دیگه بهترن معرفی می‌کنیم!

مثلث طلایی	مثلث نقره‌ای!!	مثلث مسی!! (به چیزی هم باید بده ازش استفاده کنیم!)	شکل
۳-۴-۵	۵-۱۲-۱۳	$1 - \sqrt{3} - 2$	چند نمونه
۶-۸-۱۰	۱۰-۲۴-۲۶	$2 - 2\sqrt{3} - 4$	
۹-۱۲-۱۵	۱۵-۳۶-۳۹	$3 - 2\sqrt{3} - 6$	
۱۶-۲۰-۲۵	۲۰-۴۸-۵۲	$4 - 4\sqrt{3} - 8$	

**مثال** متحرکی در لحظه  $t_1$  از مکان  $x_1 = 5m$  در جهت منفی محور  $x$  ها شروع به حرکت می‌کند و در لحظه  $t_2$  در مکان  $x_2 = -10m$  متوقف می‌شود. اگر در بازه زمانی  $t_1$  تا  $t_2$  مسافت طی شده توسط متحرک،  $2/4$  برابر بزرگی جابه‌جایی آن باشد، حداکثر فاصله متحرک از نقطه شروع حرکت چند متر است؟ (جهت حرکت متحرک تنها یک بار تغییر کرده است.)



۱۸ (۴)      ۲۵/۵ (۳)      ۱۹ (۲)      ۲۰/۵ (۱)

با توجه به شکل روبه‌رو جابه‌جایی متحرک می‌شه:

$$\Delta x = x_2 - x_1 = -10 - 5 = -15m \Rightarrow |\Delta x| = 15m$$

متحرک؛ فاصله  $l_1$  رو دوبار طی می‌کنه. کل مسافت طی شده رو با  $l$  نشون می‌دیم:

$$l = 2/4 |\Delta x| = 2/4 \times 15 = 36m$$

$$l = l_1 + 2l_2 \Rightarrow 36 = 15 + 2l_2 \Rightarrow 2l_2 = 21 \Rightarrow l_2 = 10.5m$$

همون‌طور که شکل نشون می‌ده، وقتی متحرک به مکان  $x_2$  می‌رسه و تغییر جهت می‌ده، فاصله‌ش از مکان اولیه‌ش حداکثر می‌شه. در این موقعیت فاصله متحرک از مکان اولیه‌اش می‌شه:

$$|x_2| - x_1 = l_2 + l_1 = 10.5 + 15 = 25.5m$$

### زمان

در جدول زیر اصطلاحات زمانی را فهرست کرده‌ایم.

نمایش	تفسیر	اصطلاح	
	نقطه‌ای روی محور زمان	$t = n$	لحظه
	بازه زمانی بی‌نهایت کوچک در همسایگی $t = 1s$	نمونه: $t = 1s$	
	بازه زمانی $t = 0$ تا $t = n$ ؛ به عبارتی $[0, n]$	$n$ ثانیه اول حرکت	بازه زمانی
	از لحظه $t = 0$ تا $t = 4s$ ؛ به عبارتی $[0, 4s]$	نمونه: ۴ ثانیه اول حرکت	
	بازه زمانی $t = n-1$ تا $t = n$ ؛ به عبارتی $[n-1, n]$	ثانیه $n$ ام	
	از لحظه $t = 3s$ تا $t = 4s$ ؛ به عبارتی $[3s, 4s]$	نمونه: ثانیه چهارم	
	بازه زمانی $(n-1)t$ تا $nt$ ؛ به عبارتی $[(n-1)t, nt]$	$t$ ثانیه $n$ ام	
	از لحظه $t = (4-1) \times 2 = 6s$ تا $t = 4 \times 2 = 8s$ ؛ به عبارتی $[6s, 8s]$	نمونه: ۲ ثانیه چهارم	



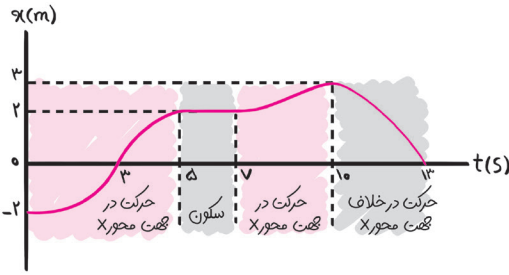


**سریع باش**


برای تشخیص ابتدا و انتهای یک بازه زمانی این طوری عمل کن:  
 ۲ ثانیه سوم: ۲ رو ضربدر ۳ کن؛ ۲ تا ازش کم کن:  
 ۲ ثانیه پنجم: ۳ رو ضربدر ۵ کن؛ ۲ تا ازش کم کن:  
 حالا تو بگو ۴ ثانیه ششم می شه از کی تا کی؟ باریکلا! از  $t_1 = 2 \text{ s}$  تا  $t_2 = 24 \text{ s}$ .

$t_2 = 2 \times 3 = 6 \text{ s} \Rightarrow t_1 = 6 - 2 = 4 \text{ s}$   
 $t_2 = 3 \times 5 = 15 \text{ s} \Rightarrow t_1 = 15 - 3 = 12 \text{ s}$

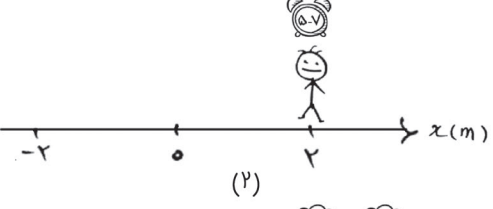
**نمودار مکان - زمان**



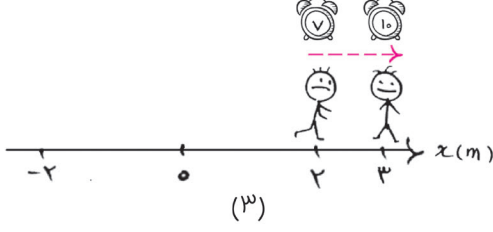
فرض کن نمودار مکان - زمان کریس به شکل مقابله. حرکت کریس رو می تونیم به چهار بازه زمانی تقسیم کنیم:  
 (۱)  $[0, 5 \text{ s}]$ : کریس از مکان  $x_0 = -2 \text{ m}$  شروع به حرکت در جهت محور  $x$  می کنه و پس از  $3 \text{ s}$  از مبدأ رد می شه ( $x_{t=3 \text{ s}} = 0$ ) و در لحظه  $t = 5 \text{ s}$  در مکان  $x = 2 \text{ m}$  قرار می گیره. (شکل ۱)



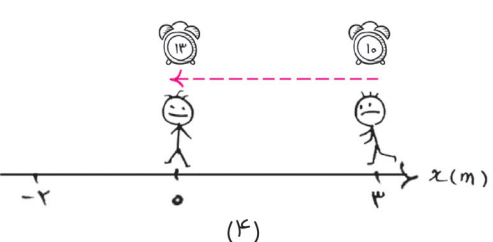
(۲)  $[5 \text{ s}, 7 \text{ s}]$ : کریس در این  $2 \text{ s}$  از مکان  $x = 2 \text{ m}$  جُم نمی خوره؛ یعنی در این  $2 \text{ s}$  ساکنه. (شکل ۲)



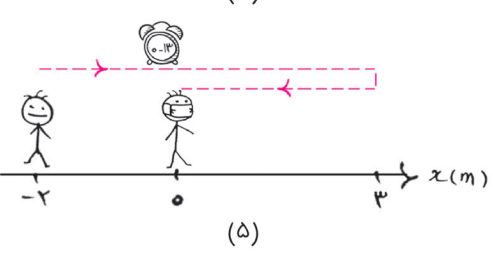
(۳)  $[7 \text{ s}, 10 \text{ s}]$ : کریس حرکتش در جهت محور  $x$  رو از سر می گیره (شکل ۳) و در لحظه  $t = 10 \text{ s}$  به بیشترین فاصله اش از مبدأ می رسه ( $x_{t=10 \text{ s}} = 3 \text{ m}$ ).



(۴)  $[10 \text{ s}, 13 \text{ s}]$ : لحظه  $t = 10 \text{ s}$  خیلی مهمه. کریس متوجه می شه ماسکشو جا گذاشته! چی کار می کنه؟ تصمیم می گیره از مسیر اومده، برگرده. او در لحظه  $t = 13 \text{ s}$  دوباره به مبدأ می رسه. (شکل ۴)



کریس چند بار در مبدأ قرار می گیره؟  
 ۲ بار و در لحظه های  $t = 3 \text{ s}$  و  $t = 13 \text{ s}$



کریس چند بار از مبدأ عبور می کنه؟  
 ۱ بار؛ فقط در لحظه  $t = 3 \text{ s}$ . شرط عبور از مبدأ اینه که نمودار مکان - زمان، محور زمان رو قطع کنه و سپس از روش رد شه. یعنی از  $x < 0$  وارد  $x > 0$  یا از  $x > 0$  وارد  $x < 0$  بشه. در لحظه  $t = 13 \text{ s}$  نمودار محور زمان رو قطع می کنه ولی از اون رد نمی شه. پس کریس در این لحظه از مبدأ مکان عبور نمی کنه.

کریس کلاً چند ثانیه در جهت محور  $x$  حرکت کرده؟  
 در بازه های  $[0, 5 \text{ s}]$  و  $[7 \text{ s}, 10 \text{ s}]$  که در مجموع می شه  $8 \text{ s}$ .

کریس چند ثانیه در طرف مثبت محور  $x$  بوده؟  
 نمودار از لحظه  $t = 3 \text{ s}$  تا لحظه  $t = 13 \text{ s}$  بالای محور زمانه؛ در این بازه زمانی  $x$  مثبت. پس کریس به مدت  $10 \text{ s}$  در مکان های مثبت بوده.

در چه لحظه ای بردار مکان کریس تغییر جهت داده؟  
 در لحظه  $t = 3 \text{ s}$  که نمودار از محور زمان عبور می کنه، علامت  $x$  و جهت بردار مکان عوض می شه.

در چه لحظه ای خود کریس تغییر جهت می ده؟  
 کریس تا قبل از لحظه  $t = 10 \text{ s}$  در جهت محور  $x$  و بعد از اون در خلاف جهت محور  $x$  حرکت می کنه. پس در لحظه  $t = 10 \text{ s}$  تغییر جهت می ده.

مسیر حرکت کریس چه شکلیه؟



این شکلیه:

یعنی **کرگدن بیشتر از تو می فهمه!!** کریس روی خط راست (محور X) حرکت می کنه و اصطلاحاً حرکتش یک بُعدیه. اون شکلی که تو نشون دادی، حرکت دو بُعدی (حرکت در صفحه) است.

مسیر حرکت رو ما در شکل ۵ رسم کردیم. این شکلی:

پس یادت باشه نمودار مکان - زمان با مسیر حرکت فرق می کنه. **مسیر حرکت یه چیزه، نمودار مکان - زمان یه چیز دیگه است!**

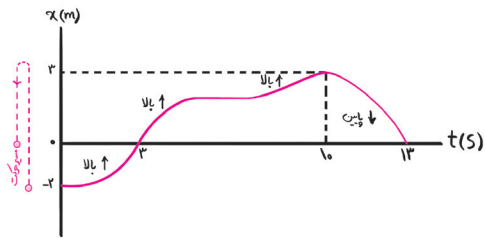
راه ساده تری برای رسم مسیر حرکت نیست؟

چرا!! کافیه تصویر نمودار مکان - زمان رو روی محور X رسم کنی. تا لحظه

$t = 10s$  نمودار بالا می ره. تو هم روی محور X بالا برو. از لحظه  $t = 10s$  به بعد نمودار پایین می یاد. تو هم روی محور X پایین بیا. اگه این کارو انجام بدی، شکل خط چین

ایجاد می شه که مسیر حرکت رو نشون می ده.

با یک جدول، همه نکات گفته شده را یک جا می آوریم.



توضیح

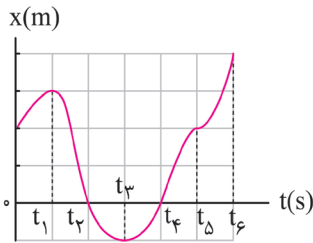
آنچه از نمودار مکان - زمان می فهمیم

نمودار را روی محور X تصویر می کنیم.	مسیر حرکت
۱- نمودار بالای محور t است: متحرک در مکان مثبت است ( $X > 0$ ). ۲- نمودار روی محور t است: متحرک در روی مبدأ مکان است ( $X = 0$ ). ۳- نمودار زیر محور t است: متحرک در مکان منفی است ( $X < 0$ ).	جایگاه متحرک
۱- نمودار صعودی است: متحرک در جهت محور حرکت می کند ( $\Delta X > 0$ ). ۲- نمودار افقی است: متحرک ساکن است ( $\Delta X = 0$ ). ۳- نمودار نزولی است: متحرک در خلاف جهت محور X حرکت می کند ( $\Delta X < 0$ ).	جهت حرکت
به تعداد دفعاتی که نمودار محور زمان را قطع می کند، متحرک از مبدأ مکان می گذرد.	تعداد دفعات عبور از مبدأ (تغییر جهت بردار مکان)
به تعداد قله ها و دره های روی نمودار، متحرک، تغییر جهت می دهد.	تعداد دفعات تغییر جهت
به تعداد دفعاتی که خط $X = a$ نمودار را قطع می کند، متحرک از مکان $X = a$ عبور می کند.	تعداد دفعات عبور از مکان $X = a$
۱- نمودار از محور زمان دور می شود: متحرک از مبدأ دور می شود. ( $ X  \uparrow$ ). ۲- فاصله نمودار از محور زمان ثابت است: جسم ساکن است (ثابت: $ X $ ). ۳- نمودار به محور زمان نزدیک می شود: متحرک به مبدأ نزدیک می شود ( $ X  \downarrow$ ).	فاصله از مبدأ
تفاضل مکان اولیه از مکان ثانویه ( $\Delta X = X_2 - X_1$ ).	جابه جایی
جابه جایی در جهت مثبت +  جابه جایی در جهت منفی	مسافت



فصل اول





**مثال** با توجه به نمودار مکان - زمان شکل روبه‌رو، به پرسش‌های زیر پاسخ دهید:

- (الف) متحرک چند بار از مبدأ مکان عبور می‌کند؟
- (ب) در کدام بازه‌های زمانی متحرک در حال دور شدن از مبدأ است؟
- (پ) در کدام بازه‌های زمانی متحرک در حال نزدیک شدن به مبدأ است؟
- (ت) جهت حرکت چند بار تغییر کرده است؟ در چه لحظه‌هایی؟
- (ث) جابه‌جایی کل در جهت محور  $x$  است یا خلاف آن؟

(پرسش ۳-۱ کتاب درسی)

**پاسخ:** الف) یعنی چند بار نمودار محور زمان رو قطع می‌کند: ۲ بار در لحظه‌های  $t_4$  و  $t_6$ .

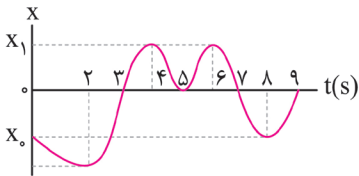
(ب) یعنی چه موقع‌هایی نمودار از محور زمان دور می‌شود: بازه‌های زمانی  $[0, t_1]$ ،  $[t_3, t_4]$  و  $[t_5, t_6]$ .

(پ) یعنی چه موقع‌هایی نمودار به محور زمان نزدیک می‌شود: بازه‌های زمانی  $[t_1, t_3]$  و  $[t_4, t_5]$ .

(ت) یعنی مجموع قله‌ها و دره‌ها چندتا است: ۲ تا و در لحظه‌های  $t_2$  و  $t_4$ .

(ث) جابه‌جایی کل می‌شود:  $\Delta x = x_{t_6} - x_0$ . چون  $x_{t_6} > x_0$  است،  $\Delta x > 0$  است. جابه‌جایی کل در جهت محور  $x$  است.

**مثال** شکل مقابل نمودار مکان - زمان متحرکی را در حرکت روی خط راست نشان می‌دهد. این متحرک ..... بار از مبدأ مکان عبور کرده و ..... بار از نقطه شروع حرکت عبور کرده و در ثانیه ..... در حال نزدیک شدن به مبدأ است. (آزمایش مدرسه برتر - ۹۸)

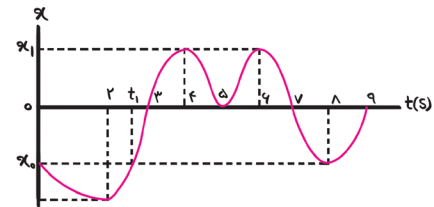


(۱) ۳ - ۲ - چهارم

(۲) ۲ - ۱ - چهارم

(۳) ۳ - ۲ - پنجم

(۴) ۲ - ۱ - پنجم



۱) ۳ - ۲ - چهارم نمودار دو بار و در لحظه‌های ۳S و ۷S از محور زمان رد می‌شود:

پس متحرک ۲ بار از مبدأ مکان عبور می‌کند. شکل‌های روبه‌رو نشون می‌دن

متحرک فقط یک بار و در لحظه  $t_4$  دوباره از مکان اولیه‌اش ( $x_0$ ) عبور می‌کند.

پس لحظه  $t = 8S$  چی؟

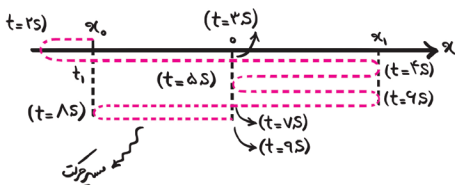
متحرک در این لحظه به مکان اولیه‌اش می‌رسد ولی همین لحظه تغییر جهت

می‌ده؛ پس متحرک در لحظه  $t = 8S$  در مکان اولیه‌اش قرار می‌گیرد ولی از این نقطه عبور نمی‌کند!

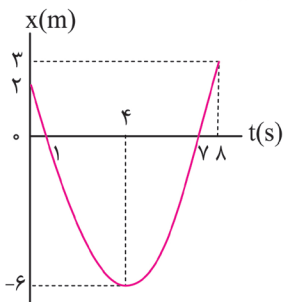
نمودار در ثانیه چهارم  $[3S, 4S]$  از محور زمان دور و در ثانیه پنجم  $[4S, 5S]$  به محور

زمان نزدیک می‌شود. پس متحرک در ثانیه چهارم از مبدأ دور و در ثانیه پنجم به مبدأ

نزدیک می‌شود.



**مثال** نمودار مکان - زمان متحرکی در حرکت بر محور  $x$  مطابق شکل مقابل است. در ۸ ثانیه اول حرکت .....



(الف) متحرک چند ثانیه در جهت محور مکان حرکت می‌کند؟

(ب) چند ثانیه بردار مکان در جهت محور  $x$  است؟

(پ) جهت بردار مکان متحرک در کدام لحظه تغییر می‌کند؟

(ت) جهت حرکت متحرک در چه لحظه‌ای تغییر می‌کند؟

**پاسخ:** الف) در بازه زمانی  $[4S, 8S]$  نمودار به شکل صعودیه و متحرک در جهت محور حرکت می‌کند.

این بازه زمانی ۴S طول می‌کشد:  $\Delta t = 8 - 4 = 4S$

(ب) در بازه‌های زمانی  $[0, 1S]$  و  $[7S, 8S]$  نمودار بالای محور زمانه. در این بازه‌های زمانی  $x > 0$  و بردار

مکان در جهت محور  $x$  است. مجموع این دو بازه زمانی ۲S طول می‌کشد:  $\Delta t = (1-0) + (8-7) = 2S$

(پ) نمودار در لحظه‌های ۱S و ۷S از محور زمان رد می‌شود. در این دو لحظه علامت بردار مکان و جهت بردار مکان تغییر می‌کند.

(ت) متحرک تا لحظه ۴S در خلاف جهت محور  $x$  و بعد از اون در جهت محور  $x$  حرکت می‌کند؛ یعنی متحرک در لحظه ۴S تغییر جهت می‌ده.





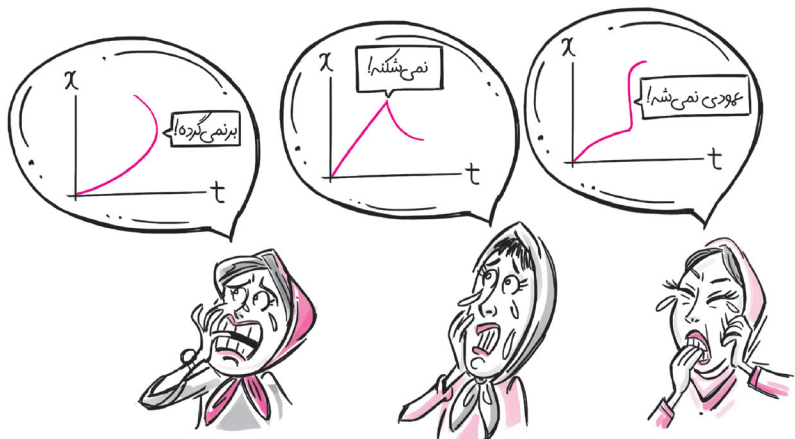
فصل اول

بر نمی‌گردد (چون زمان به عقب بر نمی‌گردد: time will not turn back!)

نمی‌شکند (چون نمی‌تونیم در یک لحظه دو تا سرعت داشته باشیم. بعداً می‌فهمی!)

عمود نمی‌شه (اگه بشه یعنی متحرک در یک لحظه در چند تا مکانه!)

نمودار مکان - زمان



**تمرین** کدام یک از نمودارهای زیر می‌تواند معرف نمودار مکان - زمان یک متحرک باشد که روی خط راست حرکت می‌کند؟  
 (آزمون مدارس برتر - ۹۸)

**مثال** چه تعداد از نمودارهای زیر می‌توانند بیانگر نمودار مسافت پیموده شده بر حسب زمان برای یک متحرک روی خط راست باشد؟

۱ (۳)      ۲ (۲)      ۳ (۳)      ۴ (۴)      ۵ (الف)      ۶ (ب)      ۷ (پ)      ۸ (ت)

فقط شکل الف می‌تونه درست باشه.

**مثال** نمودار مکان - زمان متحرکی مطابق شکل مقابل است. در بازه زمانی  $t = 0$  تا  $t = 6s$  مسافتی که متحرک طی کرده چند برابر اندازه (بزرگی) جابه‌جایی آن است؟

متحرک از مبدأ مکان ( $x_0 = 0$ ) به حرکت درآمده و در لحظه  $t = 6s$  در مکان  $x_{t=6s} = 10m$  قرار می‌گیرد. پس  $10m$  جابه‌جایی می‌شه:

$$\Delta x = x_{t=6s} - x_0 = 10 - 0 = 10m$$

با توجه به شکل بالا که مسیر حرکت متحرک رو نشون می‌ده، مسافت طی شده توسط متحرک برابر با:

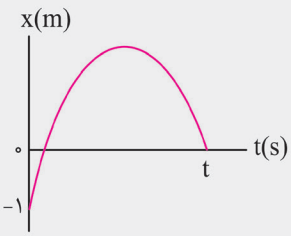
$$l = l_1 + l_2 + l_3 = 15 + (15 - 5) + (10 - 5) = 15 + 10 + 5 = 30m \Rightarrow \frac{l}{\Delta x} = \frac{30}{10} = 3$$



فصل اول

تمرین

مطابق شکل مقابل، نمودار مکان - زمان متحرکی که در امتداد محور X حرکت می‌کند، به صورت یک سهمی داده شده است. اگر مسافت پیموده شده توسط متحرک در t ثانیه اول، ۵ برابر اندازه جابه‌جایی‌اش در این مدت باشد، متحرک در چند متری مبدأ حرکتش، تغییر جهت می‌دهد؟

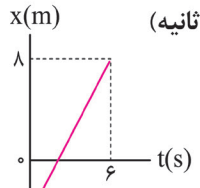


- ۱ (۱)
- ۲ (۲ ✓)
- ۳ (۳)
- ۴ (۴)

- ۱ استفاده از قضیه تالس
- ۲ نوشتن معادله خط
- ۳ استفاده از مفهوم شیب ثابت در خط راست

مثال

نمودار مکان - زمان ذره‌ای که روی خط راست حرکت می‌کند، مطابق شکل است. این ذره در چه لحظه‌ای (بر حسب ثانیه) از مبدأ مکان عبور می‌کند؟



- ۱ (۱)
- ۲ (۲)
- ۳ (۳)
- ۴ (۴)

راه حل اول (قضیه تالس): از تشابه مثلث‌های مشخص شده در شکل (۱)، نتیجه می‌گیریم:

نسبت ارتفاع‌ها = نسبت قاعده‌ها

$$\frac{6-t_1}{t_1} = \frac{8}{4} \Rightarrow \frac{6-t_1}{t_1} = 2 \Rightarrow 6-t_1 = 2t_1 \Rightarrow 3t_1 = 6 \Rightarrow t_1 = 2s$$

متحرک در لحظه  $t_1 = 2s$  از مبدأ عبور می‌کند.

راه حل دوم (نوشتن معادله خط): با توجه به شکل (۲)، شیب خط می‌شه:

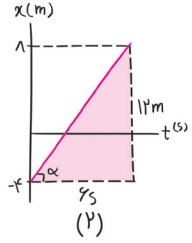
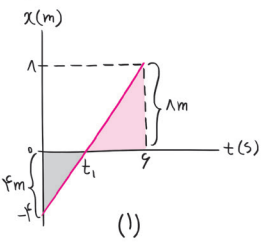
$$m = \tan \alpha = \frac{12m}{6s} = 2m/s$$

معادله خط رو می‌نویسیم:

$$x = mt + x_0 = 2t - 4$$

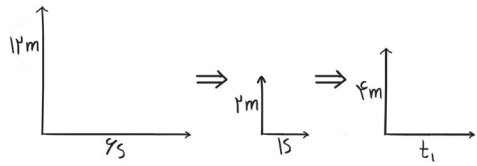
در لحظه عبور از مبدأ  $x = 0$  می‌شه:

$$2t - 4 = 0 \Rightarrow t = 2s$$



راه حل سوم (استفاده از مفهوم شیب): نمودار ۶s که جلو می‌ره، ۱۲m خیز برمی‌داره.

پس در هر ۱s، ۲m جابه‌جا می‌شه. متحرک پس از  $t_1$  ثانیه ۴m جابه‌جا می‌شه و از مبدأ مکان ( $x = 0$ ) عبور می‌کند. شکل مقابل همین حرف‌ها رو به شکل رمزی نشون می‌ده.



$\frac{\text{جابه‌جایی (m)}}{12}$	$\frac{\text{زمان (s)}}{6}$	$\Rightarrow t_1 \times 12 = 6 \times 4 \Rightarrow t_1 = 2s$
۴	۲	

## معادله مکان - زمان در حرکت روی محور X

معادله مکان - زمان (یا معادله حرکت) یک رابطه ریاضی است که مکان را به شکل تابعی از زمان بیان می کند.

$$x_0 = 2 \times 0 - 1 = -1 \text{ m}$$

رابطه  $x = 2t - 1$  معادله مکان - زمان متحرکی است که مکان اولیه آن  $-1 \text{ m}$  است:

$$x = 2t - 1 = 0 \Rightarrow 2t = 1 \Rightarrow t = 0.5 \text{ s}$$

و در لحظه  $t = 0.5 \text{ s}$  از مبدأ مکان عبور می کند:

رابطه  $x = \pm(t+1)^2$  نمی تونه معادله حرکت یک جسم باشه؛ چون تابع نیست. (به ازای یک  $t$  دو تا  $x$

به دست می یاد؛ جسم که نمی تونه در یک لحظه دو جا باشه!!)

همتا تا حالا فهمیدین بیرون های ما با بیرون های اونا فرق داره!! بیرون زیر رو ببین!

$$x = \pm(t+1)^2$$

$$|x| = t+1$$



اصطلاح	توضیح
مکان اولیه ( $x_0$ )	مکان جسم در مبدأ زمان ( $t = 0$ )
جابه جایی بین دو لحظه $t_1$ و $t_2$	تفاضل مکان متحرک در لحظه $t_2$ از مکان آن در لحظه $t_1$ ( $\Delta x = x_2 - x_1$ )
لحظه عبور متحرک از مبدأ مکان	لحظه ای که به ازای آن $x = 0$ می شود.
حرکت متحرک در جهت محور X	جابه جایی متحرک در هر بازه زمانی مثبت است.
حرکت متحرک در خلاف جهت محور X	جابه جایی متحرک در هر بازه زمانی منفی است.
متحرک تغییر جهت می دهد.	جهت جابه جایی تغییر می کند.
بردار مکان تغییر جهت می دهد.	متحرک از مبدأ مکان عبور می کند.
بیشترین فاصله متحرک از مبدأ	$ x_{\max} $
کمترین فاصله متحرک از مبدأ	$ x_{\min} $
دو متحرک از کنار یکدیگر عبور می کنند.	دو متحرک در یک مکان واقع می شوند ( $x_1 = x_2$ ).
فاصله دو متحرک از یکدیگر	بزرگی تفاضل مکان دو متحرک از هم ( $ x_2 - x_1 $ = فاصله)

فرض کنید معادله مکان - زمان متحرکی در SI به صورت  $x = t^2 - 2t - 3$  است.

مکان اولیه جسم چند متر است؟

کلاً در توابع درجه  $n$ ام ( $x = At^n + Bt^{n-1} + \dots + C$ ) عدد ثابت (C) معرف مقدار اولیه تابع است:

$$t = 0 \Rightarrow x_0 = 0^2 - 2 \times 0 - 3 = -3 \text{ m}$$

فاصله اولیه جسم از مبدأ مکان چند متر است؟

$$|x_0| = 3 \text{ m}$$

فاصله جسم از مبدأ یعنی  $|x|$ ؛ فاصله، منفی بشو نیست.

متحرک در چه لحظه (یا لحظه هایی) از مبدأ مکان عبور می کند؟

مبدأ مکان یعنی  $x = 0$ ؛ باید ببینیم در چه لحظه هایی  $x = 0$  می شود:

$$x = 0 \Rightarrow t^2 - 2t - 3 = 0 \Rightarrow (t-3)(t+1) = 0$$

$$t = 3 \text{ s} \quad t = -1 \text{ s}$$

بازمان های منفی کاری نداریم. در ضمن آگه از شما می پرسیدند، بردار مکان متحرک در چه لحظه ای تغییر جهت می ده، باید همین جواب رو انتخاب می کردید.

جابه جایی متحرک در ثانیه سوم چند متر است؟

ثانیه سوم از لحظه  $t_1 = 2 \text{ s}$  شروع و در لحظه  $t_2 = 3 \text{ s}$  تموم می شه. برای محاسبه جابه جایی در یک بازه زمانی باید مکان متحرک در انتهای

بازه رو از مکان اون در ابتدای بازه کم کنیم:

$$\begin{cases} t_1 = 2 \text{ s}: x_1 = 2^2 - 2 \times 2 - 3 = -3 \text{ m} \\ t_2 = 3 \text{ s}: x_2 = 3^2 - 2 \times 3 - 3 = 0 \end{cases} \Rightarrow \Delta x = x_2 - x_1 = 0 - (-3) = 3 \text{ m}$$