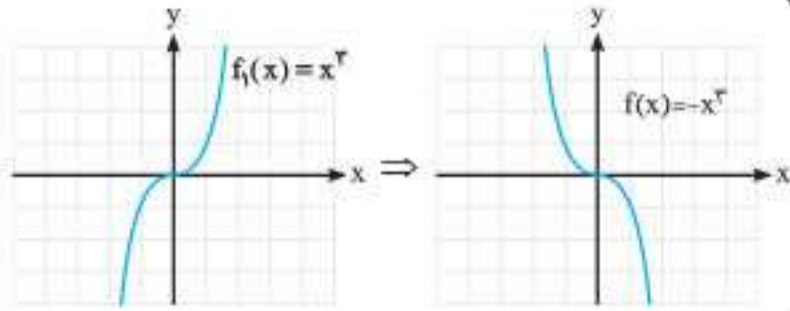
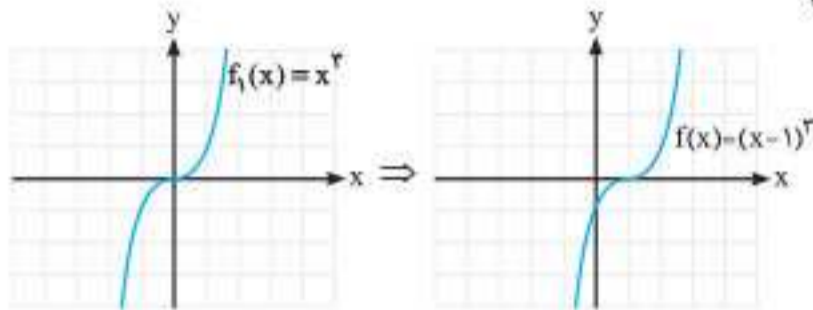


پایه

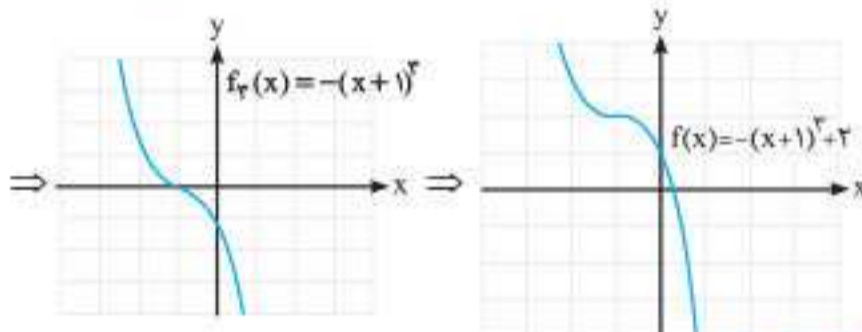
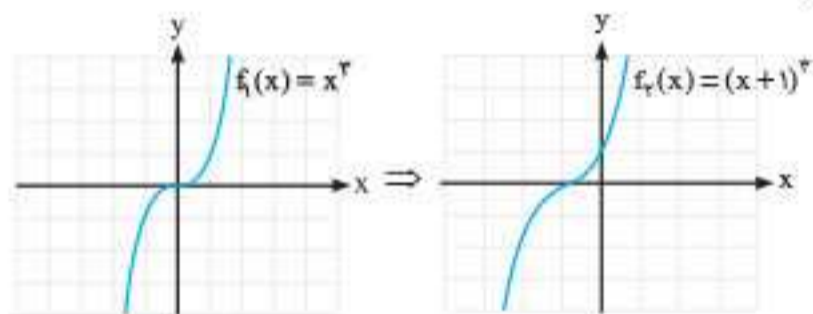
(الف)



(ب)



(پ)



مثال تعداد جواب‌های معادله $x|x| - x^r = 0$ را بیابید.

پایه قرار می‌دهیم $f(x) = x^r$ و $g(x) = x|x| = \begin{cases} x^r & ; x \geq 0 \\ -x^r & ; x < 0 \end{cases}$ بنابراین:

$$\begin{cases} x \geq 0 \Rightarrow x^r - x^r = 0 \Rightarrow x^r(1-x) = 0 \\ x < 0 \Rightarrow -x^r - x^r = 0 \Rightarrow x^r + x^r = 0 \Rightarrow x^r(1+x) = 0 \end{cases}$$

$$\Rightarrow \begin{cases} \xrightarrow{x \geq 0} \begin{cases} x=0 \\ x=1 \end{cases} \\ \xrightarrow{x < 0} \begin{cases} x=0 \text{ غ ق} \\ x=-1 \end{cases} \end{cases} \quad \cup \quad x = 0, \pm 1$$

نکته چندجمله‌ای‌های درجه سه که از معادله $f(x) = k(x-a)^r + b$ پیروی می‌کنند، دارای نمودارهای ذکر شده در بالا به صورت کلمه «لر» یا عکس کلمه «لر» هستند و داریم:

(الف) اگر $k > 0$ ، نمودار به صورت کلمه «لر» است.
 (ب) اگر $k < 0$ ، نمودار به صورت عکس کلمه «لر» است.
 (ج) نسبت به نقطه (a, b) متقارن است.

در حقیقت، محل تغییر قوس نمودار همان نقطه (a, b) است. (در فصل پنجم بیشتر توضیح خواهیم داد)

Two small graphs showing cubic curves. The left one has a local minimum at (a,b) and is labeled k > 0. The right one has a local maximum at (a,b) and is labeled k < 0.

دوس: تابع درجه سوم، تابع بکتوا، بخش پذیری و تقسیم

تابع چند جمله‌ای

هر تابع به شکل $f(x) = a_n x^n + a_{n-1} x^{n-1} + \dots + a_1 x + a_0$ را یک چندجمله‌ای از درجه n گوئیم، که در آن $a_n \neq 0$ است. $(a_i \in \mathbb{R} \ n \in \mathbb{N})$ برای نمونه، توابع زیر چندجمله‌ای هستند:

$$f(x) = \frac{1}{3}x^2 - \frac{5}{7}x, \quad g(x) = \sqrt{2}x^2 - \frac{1}{\sqrt{5}}x^2 - 1$$

اما توابع زیر چندجمله‌ای نیستند:

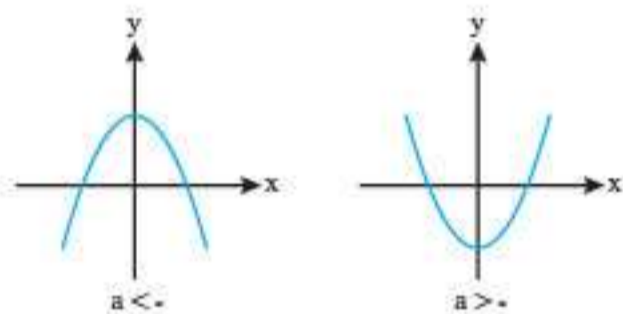
$$f(x) = \frac{1}{3}\sqrt{x} + x - 1, \quad g(x) = \frac{x^2 - 1}{x^2 + 7}$$

$$h(x) = x^{\frac{2}{3}} - \frac{1}{x}$$

نکته دامنه توابع چندجمله‌ای، اعداد حقیقی یعنی \mathbb{R} است.

در سال گذشته با تعدادی از توابع چندجمله‌ای آشنا شدید:

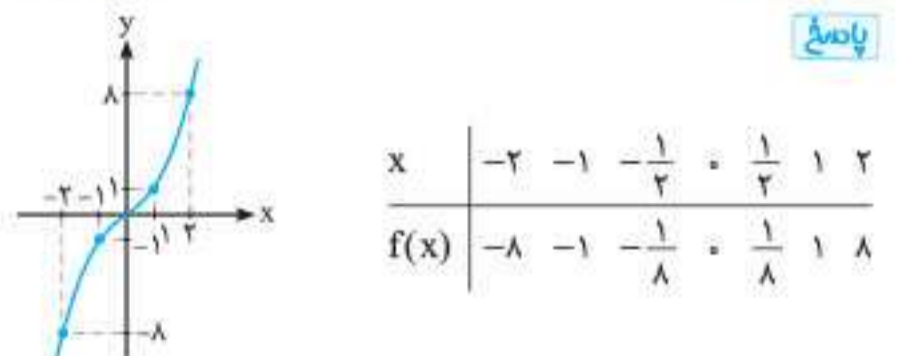
- 1) **تابع ثابت**، چندجمله‌ای از درجه صفر می‌باشد و دارای فرم کلی $f(x) = k \ (k \in \mathbb{R})$ است.
- 2) **تابع خطی**، چندجمله‌ای از درجه یک می‌باشد که دارای فرم کلی $f(x) = ax + b$ است.
- 3) **سه‌می**، چندجمله‌ای از درجه دو است که دارای فرم کلی $f(x) = ax^2 + bx + c$ می‌باشد. در صورت کلی نمودار آن به صورت‌های مقابل است:



4) **چندجمله‌ای درجه سه**، هر چندجمله‌ای به فرم $f(x) = ax^3 + bx^2 + cx + d$ را یک چندجمله‌ای درجه سه گویند.

نکته دامنه و برد یک چندجمله‌ای از درجه سه، همواره \mathbb{R} است.

مثال با استفاده از نقطه یابی، نمودار $f(x) = x^3$ را رسم کنید. (کتاب درسی)



مثال با استفاده از انتقال توابع، نمودار توابع زیر را رسم کنید.

(الف) $f(x) = -x^3$ (ب) $g(x) = (x-1)^3$ (پ) $h(x) = -(x+1)^3 + 2$

مثال محدود زیر را بیابید.

الف) $\lim_{x \rightarrow +\infty} 2x^5 - x^2 + x - 1$

ب) $\lim_{x \rightarrow +\infty} -x^2 - 2x^2 + 7x + 3$

ت) $\lim_{x \rightarrow -\infty} \frac{x^5 - x + 2}{-x^2 + x - 1}$

پ) $\lim_{x \rightarrow \pm\infty} \frac{2x^2 - x^2 + x - 4}{2x - 5x^2 - 1}$

ث) $\lim_{x \rightarrow \pm\infty} \frac{2x - x^2 + 1}{3 - x^5 + x}$

پاسخ

الف) $\lim_{x \rightarrow +\infty} (2x^5 - x^2 + x - 1) = \lim_{x \rightarrow +\infty} 2x^5 = +\infty$

ب) $\lim_{x \rightarrow +\infty} (-x^2 - 2x^2 + 7x + 3) = \lim_{x \rightarrow +\infty} -3x^2 = -\infty$

پ) $\lim_{x \rightarrow \pm\infty} \frac{2x^2 - x^2 + x - 4}{2x - 5x^2 - 1} = \frac{\lim_{x \rightarrow \pm\infty} (2x^2 - x^2 + x - 4)}{\lim_{x \rightarrow \pm\infty} (2x - 5x^2 - 1)}$
 $= \frac{\lim_{x \rightarrow \pm\infty} (-x^2)}{\lim_{x \rightarrow \pm\infty} (-5x^2)} = \frac{1}{5}$

ت) $\lim_{x \rightarrow -\infty} \frac{x^5 - x + 2}{-x^2 + x - 1} = \frac{\lim_{x \rightarrow -\infty} (x^5 - x + 2)}{\lim_{x \rightarrow -\infty} (-x^2 + x - 1)}$
 $= \frac{\lim_{x \rightarrow -\infty} (x^5)}{\lim_{x \rightarrow -\infty} (-x^2)} = \lim_{x \rightarrow -\infty} (-x^3) = +\infty$

ث) $\lim_{x \rightarrow \pm\infty} \frac{2x - x^2 + 1}{3 - x^5 + x} = \frac{\lim_{x \rightarrow \pm\infty} (2x - x^2 + 1)}{\lim_{x \rightarrow \pm\infty} (3 - x^5 + x)}$
 $= \frac{\lim_{x \rightarrow \pm\infty} (-x^2)}{\lim_{x \rightarrow \pm\infty} (-x^5)} = \lim_{x \rightarrow \pm\infty} \frac{1}{x^3} = 0$

نکته فرض کنید $f(x) = a_n x^n + a_{n-1} x^{n-1} + \dots + a_1 x + a_0$ یک چندجمله‌ای از درجه n

و $g(x) = b_m x^m + b_{m-1} x^{m-1} + \dots + b_1 x + b_0$ یک چندجمله‌ای از درجه m باشد. در این صورت:

$$\lim_{x \rightarrow \pm\infty} \frac{f(x)}{g(x)} = \begin{cases} \frac{a_n}{b_m} & ; n = m \\ \text{صفر} & ; m > n \\ \infty & ; m < n \end{cases}$$

در حقیقت نکته فوق به ما می‌گوید برای محاسبه حد توابع کسری در بی‌نهایت، اگر درجه صورت از مخرج بزرگ‌تر باشد، حاصل حد، بی‌نهایت و اگر درجه مخرج از صورت بزرگ‌تر باشد، حاصل حد، برابر صفر می‌باشد.

مثال اگر $\lim_{x \rightarrow +\infty} \frac{ax^f + 2x^2 + 1}{2x^b + x^2 + 1} = 1$ باشد، $a+b$ کدام است؟

پاسخ با توجه به نکته گفته شده حاصل این حد زمانی عددی غیرصفر می‌شود که درجه صورت و مخرج با هم برابر باشد. بنابراین باید $b = f$ باشد. لذا داریم:

$$\lim_{x \rightarrow +\infty} \frac{ax^f + 2x^2 + 1}{2x^f + x^2 + 1} = 1 \Rightarrow \lim_{x \rightarrow +\infty} \frac{ax^f}{2x^f} = 1 \Rightarrow \frac{a}{2} = 1 \Rightarrow a = 2$$

در نتیجه $a+b = 6$

تعریف فرض کنیم تابع f در بازه‌ای مثل $(a, +\infty)$ تعریف شده باشد. رابطه $\lim_{x \rightarrow +\infty} f(x) = -\infty$ به این معناست که مقادیر $f(x)$ را می‌توان از هر عدد

منفی دلخواهی کوچک‌تر کرد، مشروط بر آن که x به قدر کافی بزرگ اختیار شود.

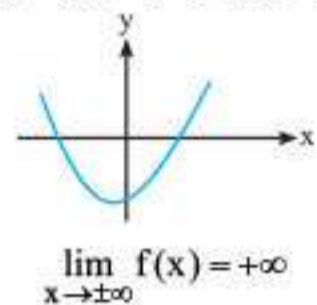
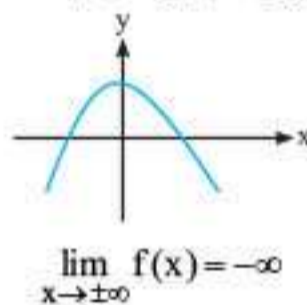
تعریف فرض کنیم تابع f در بازه‌ای مثل $(-\infty, b)$ تعریف شده باشد. رابطه $\lim_{x \rightarrow -\infty} f(x) = -\infty$ به این معناست که مقادیر $f(x)$ را می‌توان

از هر عدد منفی دلخواهی کوچک‌تر کرد، مشروط بر آن که x به قدر کافی کوچک و منفی اختیار شود.

تعریف فرض کنیم تابع f در بازه‌ای مثل $(-\infty, b)$ تعریف شده باشد. رابطه $\lim_{x \rightarrow -\infty} f(x) = +\infty$ به این معناست که مقادیر $f(x)$ را می‌توان

از هر عدد مثبت دلخواهی بزرگ‌تر کرد، مشروط بر آن که x به قدر کافی کوچک و منفی اختیار شود.

مثال‌های زیر در درک بهتر تعاریف فوق می‌تواند بسیار مفید باشد:



نکته همواره داریم:

• فرض کنیم n عددی طبیعی باشد. در این صورت:

الف) $\lim_{x \rightarrow +\infty} \frac{1}{x^n} = 0$

ب) $\lim_{x \rightarrow -\infty} \frac{1}{x^n} = 0$

• فرض کنیم $\lim_{x \rightarrow \pm\infty} f(x) = L$ و $\lim_{x \rightarrow \pm\infty} g(x) = m$. در این صورت:

الف) $\lim_{x \rightarrow \pm\infty} (f(x) \pm g(x)) = \lim_{x \rightarrow \pm\infty} f(x) \pm \lim_{x \rightarrow \pm\infty} g(x) = L \pm m$

ب) $\lim_{x \rightarrow \pm\infty} f(x) \cdot g(x) = \lim_{x \rightarrow \pm\infty} f(x) \times \lim_{x \rightarrow \pm\infty} g(x) = L \cdot m$

پ) $\lim_{x \rightarrow \pm\infty} \frac{f(x)}{g(x)} = \frac{\lim_{x \rightarrow \pm\infty} f(x)}{\lim_{x \rightarrow \pm\infty} g(x)} = \frac{L}{m} \quad (m \neq 0)$

• فرض کنیم n عددی طبیعی و a یک عدد حقیقی غیرصفر باشد. آن‌گاه:

الف) $\lim_{x \rightarrow +\infty} ax^n = \begin{cases} +\infty & (\text{مثبت } a) \\ -\infty & (\text{منفی } a) \end{cases}$

ب) $\lim_{x \rightarrow -\infty} ax^n = \begin{cases} +\infty & (\text{زوج } n \text{ و مثبت } a) \\ -\infty & (\text{زوج } n \text{ و منفی } a) \\ -\infty & (\text{فرد } n \text{ و مثبت } a) \\ +\infty & (\text{فرد } n \text{ و منفی } a) \end{cases}$

نکته فرض کنیم f یک تابع چندجمله‌ای از درجه n به صورت

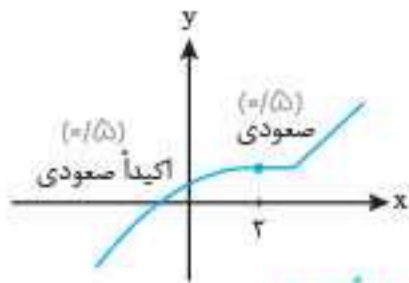
$$f(x) = ax^n + bx^{n-1} + \dots + k$$

باشد که در آن n عددی طبیعی و a یک عدد حقیقی غیرصفر است. در این صورت:

$$\lim_{x \rightarrow \pm\infty} (ax^n + bx^{n-1} + \dots + k) = \lim_{x \rightarrow \pm\infty} ax^n$$

ردیف	سوالات	نمره
فصل اول		
۱	درستی یا نادرستی عبارت زیر را مشخص کنید. اگر $k > 1$ باشد، نمودار تابع $y = kf(x)$ از انبساط عمودی نمودار $y = f(x)$ حاصل می‌شود. پرتکرار	-/۲۵
۲	جای خالی را کامل کنید. اگر $A(-2, 5)$ نقطه‌ای روی نمودار $y = f(x)$ باشد، آن‌گاه نقطه متناظر آن روی نمودار $y = f(x+2) - 3$ به صورت _____ است.	-/۱۵
۳	اگر دامنه و برد تابع $y = f(x)$ به ترتیب $(-2, 1)$ و $(-\infty, -1)$ باشد، دامنه و برد تابع $g(x) = f(-\frac{1}{4}x) - 3$ را به دست آورید. پرتکرار	۱/۱۵
۴	درستی یا نادرستی عبارت‌های زیر را مشخص کنید. الف) برای تابع $f(x) = -1$ درجه تعریف نمی‌شود. ب) عبارت $x^n + a^n$ بر $x - a$ بخش پذیر است. پرتکرار	-/۲۵ -/۲۵
۵	جای خالی را کامل کنید. تابع $f(x) = 2x - x^2$ روی بازه _____ اکیداً نزولی است.	-/۱۵
۶	تابع $f(x) = x^2 + 3x^2 + 3x$ را در نظر بگیرید. الف) نمودار تابع را رسم کنید. ب) این تابع در چه بازه‌ای صعودی و در چه بازه‌ای نزولی است؟	-/۲۵ ۱
۷	نمودار تابعی رسم کنید که در بازه $(-\infty, 2]$ اکیداً صعودی و در بازه $[2, +\infty)$ صعودی نباشد (اکیداً صعودی نباشد).	۱
۸	الف) چند جمله‌ای $x^n - 1$ را با عامل $(x - 1)$ تجزیه کنید. ب) مقادیر a و b را طوری به دست آورید که باقی‌مانده تقسیم عبارت $p(x) = x^3 - ax^2 + bx$ بر $(x + 2)$ و $(x - 1)$ به ترتیب ۴ و -۳ باشد. پرتکرار	-/۱۵ ۱
فصل دوم		
۹	درستی یا نادرستی عبارت زیر را مشخص کنید. تابع $y = \tan \theta$ در $(-\pi, \pi)$ صعودی است. پرتکرار	-/۲۵
۱۰	جای خالی را کامل کنید. الف) دامنه تابع $y = \tan \frac{x}{4}$ برابر _____ است. ب) ضابطه تابع کسینوسی که $\max = 4$ ، $T = 4\pi$ و $\min = -5$ برابر با _____ است.	-/۱۵ ۱
۱۱	الف) نمودار یک تابع رسم کنید که دوره تناوب آن برابر ۴ باشد. ب) در تابع $y = 3 - \frac{1}{4} \sin 3x$ ، دوره تناوب، بیشترین مقدار و کمترین مقدار را به دست آورید.	-/۲۵ ۱
۱۲	معادله‌های زیر را حل کنید و جواب عمومی آن‌ها را بنویسید. پرتکرار	
۱	الف) $2 \sin 3x - \sqrt{2} = 0$	
-/۲۵	ب) $2 \cos^2 x - 9 \cos x = 0$	
۱	ج) $\tan x + \tan 2x = 0$	

ردیف	سؤالات	نمره
۱	<p>جای خالی را با عدد یا عبارت مناسب پر کنید.</p> <p>الف) به تابعی که در یک بازه فقط صعودی یا نزولی باشد، می‌گوییم.</p> <p>ب) برد تابع تانژانت ($y = \tan x$) برابر _____ است.</p> <p>پ) باتوجه به شکل مقابل، حد تابع $f(x) = \frac{1}{ x }$ در نقطه $x = 0$ برابر است با _____.</p> <p>ت) اگر تابع f در $x = a$ مشتق‌پذیر باشد، آن‌گاه f در a _____ است.</p>	۱
۲	<p>درستی یا نادرستی عبارتهای زیر را تعیین کنید.</p> <p>الف) اگر تابع f در هر نقطه اکسترمم نسبی مشتق‌پذیر باشد، آن‌گاه مشتق تابع f در این نقاط صفر می‌شود.</p> <p>ب) تابع صعودی اکید، نقطه عطف ندارد.</p> <p>پ) اگر علامت f' بر بازه‌ای منفی باشد، آن‌گاه تابع f بر آن بازه اکیداً نزولی است.</p> <p>ت) در نقطه عطف، علامت $f''(x)$ تغییر می‌کند.</p>	۱
۳	<p>نمودار تابع $y = \cos(x - \frac{\pi}{4})$ را به کمک نمودار $y = \cos x$ در بازه $[0, 2\pi]$ رسم کنید.</p>	۰/۷۵
۴	<p>با رسم نمودار تابع $f(x) = \begin{cases} x^2 & x \geq 0 \\ -3x & -1 < x < 0 \end{cases}$، تعیین کنید تابع در چه بازه‌ای اکیداً صعودی و در چه بازه‌ای اکیداً نزولی است.</p>	۰/۷۵
۵	<p>باقی‌مانده تقسیم عبارت‌های $p(x) = x^2 + ax + 1$ و $q(x) = 2x^2 - x + 1$ بر $(x + 2)$ یکسان است. مقدار a را بیابید.</p>	۰/۷۵
۶	<p>ضابطه تابع مثلثاتی سینوس با دوره تناوب ۳ و مقادیر ماکزیمم ۵ و مینیمم ۳ را بنویسید.</p>	۰/۷۵
۷	<p>معادله مثلثاتی $2 \cos^2 x = \sin x - 1$ را حل کنید. پرتکرار</p>	۱
۸	<p>حدهای زیر را محاسبه کنید.</p> <p>الف) $\lim_{x \rightarrow 2^-} \frac{x+1}{ x-2 }$</p> <p>ب) $\lim_{x \rightarrow +\infty} \frac{3 + \frac{1}{x}}{\frac{4}{x} - 2}$</p>	۱
۹	<p>مجاتب‌های قائم و افقی نمودار تابع $f(x) = \frac{1-2x^2}{x^2-1}$ را در صورت وجود بیابید.</p>	۱/۲۵
۱۰	<p>معادله خط مماس بر منحنی تابع $f(x) = x^2 - 2x$ را در نقطه $A(1, f(1))$ به دست آورید.</p>	۱/۵
۱۱	<p>باتوجه به نمودار f به سؤالات زیر پاسخ دهید.</p> <p>الف) طول نقطه‌ای که مشتق در آن صفر است را بنویسید.</p> <p>ب) طول نقطه گوشه‌ای را بنویسید.</p> <p>پ) طول نقطه‌ای که در آن مقدار تابع و شیب خط، هر دو منفی است را بنویسید.</p>	۰/۷۵
۱۲	<p>جسمی را از سطح زمین به طور عمودی پرتاب می‌کنیم. جهت حرکت به طرف بالا را مثبت در نظر می‌گیریم. فرض کنید ارتفاع این جسم از سطح زمین در هر لحظه از معادله $h(t) = -5t^2 + 40t$ به دست می‌آید. مطلوب است:</p> <p>الف) سرعت متوسط در بازه $[1, 2]$</p> <p>ب) سرعت لحظه‌ای در زمان $t = 3$</p>	۱



(فصل ۱ / توابع یکتوا و اکیداً یکتوا)

$$(x^n - 1) = (x - 1)(x^{n-1} + x^{n-2} + \dots + x^2 + x + 1) \quad (\text{الف})$$

$$x + 2 = 0 \Rightarrow x = -2 \Rightarrow p(-2) = (-2)^r - a(-2)^r + b(-2) = 4 \quad (\text{ب})$$

$$\Rightarrow -9a - 2b = 27 + 4 = 31 \Rightarrow -9a - 2b = 31 \quad (\text{الف})$$

$$x - 1 = 0 \Rightarrow x = 1 \Rightarrow p(1) = 1^r - a(1)^r + b(1) = -2 \Rightarrow -a + b = -2 \quad (\text{الف})$$

$$\begin{cases} 9a + 2b = -21 \\ -a + b = -2 \end{cases} \Rightarrow \begin{cases} 9a + 2b = -21 \\ -9a + 9b = -18 \end{cases} \Rightarrow b = \frac{-67}{12} \quad (\text{الف})$$

$$-a + b = -a - \frac{67}{12} = -2$$

$$a = 2 - \frac{67}{12} = \frac{24 - 67}{12} = \frac{-43}{12} \quad (\text{الف})$$

(فصل ۱ / بخش پذیری و تقسیم)

درست (فصل ۲ / تابع تنازات) (الف) ۹

$$\frac{x}{\pi} \neq k\pi + \frac{\pi}{\pi} \Rightarrow x \neq 2k\pi + \pi, K \in \mathbb{Z}$$

(الف) ۱۰

$$D_y = \mathbb{R} - \{2k\pi + \pi | k \in \mathbb{Z}\}$$

(الف) ۱۰

(فصل ۲ / دامنه تابع تنازات)

$$T = \frac{2\pi}{|b|} = \frac{2\pi}{\frac{1}{\pi}} \Rightarrow |b| = \frac{1}{\pi} \Rightarrow b = \pm \frac{1}{\pi} \quad (\text{الف})$$

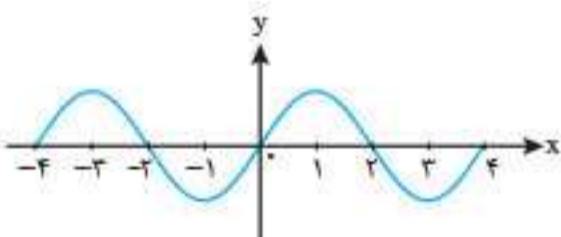
$$c = \frac{\max + \min}{2} = \frac{-5 + 4}{2} = \frac{-1}{2} \quad (\text{الف})$$

$$\begin{cases} \max = |a| + c = |a| + \left(\frac{-1}{2}\right) = 4 \Rightarrow |a| = \frac{9}{2} \\ \min = -|a| + c = -|a| + \left(\frac{-1}{2}\right) = -5 \end{cases} \Rightarrow |a| = \frac{9}{2} \quad (\text{الف})$$

$$\Rightarrow y = \frac{9}{2} \cos\left(\frac{1}{\pi}x\right) - \frac{1}{2} \quad (\text{الف})$$

(فصل ۲ / دوره تناوب)

(الف) ۱۱



$$T = \frac{2\pi}{|b|} = \frac{2\pi}{\frac{1}{\pi}} = 2\pi \quad (\text{الف})$$

$$\max = |a| + c = \left|\frac{9}{2}\right| - \frac{1}{2} = 4 \quad (\text{الف})$$

$$\min = -|a| + c = -\left|\frac{9}{2}\right| - \frac{1}{2} = -5 \quad (\text{الف})$$

(فصل ۲ / دوره تناوب)

امتحان ۲ - نوبت اول

درست (فصل ۱ / انبساط و انقباض عمودی) (الف) ۱

$$B(-4, 2) \quad (\text{الف})$$

$$y = f(x+2) - 2 \Rightarrow x+2 = -2 \Rightarrow x = -4 \quad (\text{الف})$$

$$\Rightarrow f(-4+2) - 2 = f(-2) - 2 = 5 - 2 = 3 \quad (\text{الف}) \Rightarrow A'(-4, 2)$$

(فصل ۱ / انتقال توابع)

$$-2 \leq -\frac{1}{\pi}x < 1 \Rightarrow -2 < x \leq 4 \Rightarrow D_g = (-2, 4]$$

(الف) ۲

$$f(x) < -1 \Rightarrow g(x) = f\left(-\frac{1}{\pi}x\right) - 2 < -1 - 2 = -3$$

(الف) ۲

$$\Rightarrow R_f = (-\infty, -3) \quad (\text{الف})$$

(فصل ۱ / تبدیل نمودار توابع)

۴ نادرست. درجه تابع ثابت برابر صفر است. (الف) ۴

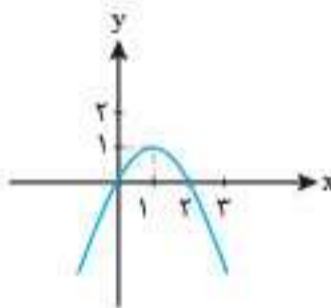
(ب) نادرست (الف) ۵

$$x - a = 0 \Rightarrow x = a \Rightarrow x^n + a^n = a^n + a^n \neq 0$$

(فصل ۱ / تقسیم و بخش پذیری)

(الف) ۵

$$f(x) = 2x - x^2 = -(x^2 - 2x) = -[(x-1)^2 - 1]$$



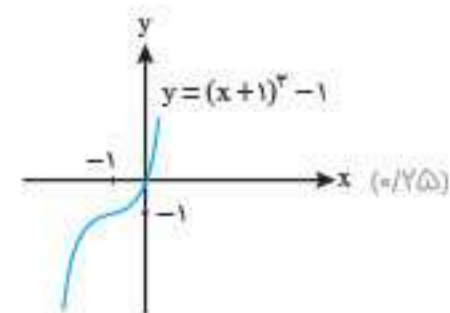
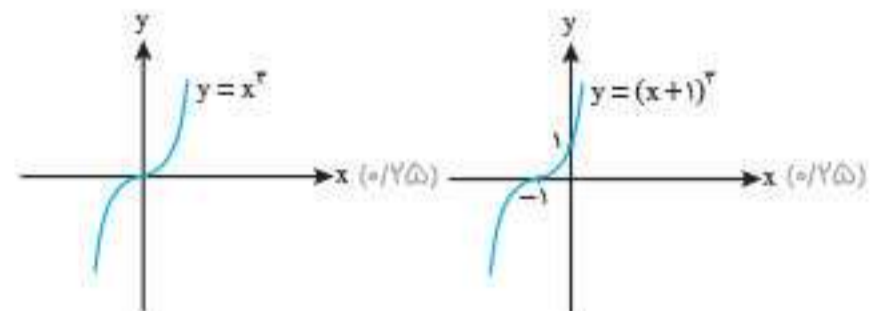
(فصل ۱ / توابع یکتوا و اکیداً یکتوا)

(الف) ۶

$$f(x) = x^2 + 2x^2 + 2x = x^2 + 2x^2 + 2x + 1 - 1$$

$$\Rightarrow (x+1)^2 - 1 \quad (\text{الف})$$

(فصل ۱ / تابع درجه ۳)



(ب) مطابق نمودار، تابع در \mathbb{R} صعودی است. (الف) ۷

(فصل ۱ / توابع یکتوا)

$$D_g = [-1, 2] \quad (0/25)$$

$$R_g = [-2, 4] \quad (0/25)$$

(فصل ۱ / انتقال توابع)

$$f(-1) = 0 \quad (0/25) \Rightarrow 1 - a - 2 = 0 \Rightarrow a = -2 \quad (0/25)$$

$$f(2) = 4 - 4 - 2 = -2 \quad (0/25)$$

(فصل ۱ / بخش پذیری و تقسیم)

$$x^6 - 1 = (x+1)(x^5 - x^4 + x^3 - x^2 + x - 1) \quad (0/5)$$

(فصل ۱ / تقسیم چند جمله ایها)

$$5 \text{ الف } 8 \text{ (فصل ۲ / دوره تناوب) } (0/25) \text{ ب } 3 \text{ (فصل ۳ / حد بین نهایی)}$$

$$A \text{ (پ) } (0/25) \text{ (فصل ۴ / شیب خط مماس) } (0/25) \text{ ت) بحرانی (فصل ۵ /}$$

تعریف نقطه بحرانی) (0/25)

$$2\cos^2 x - 1 + \cos x + 1 = 0 \quad (0/25)$$

$$\Rightarrow \cos x(2\cos x + 1) = 0 \quad (0/25)$$

$$\Rightarrow \begin{cases} \cos x = 0 \quad (0/25) \Rightarrow x = k\pi + \frac{\pi}{2} \quad (0/25) \\ \cos x = -\frac{1}{2} \quad (0/25) \Rightarrow x = 2k\pi \pm \frac{2\pi}{3} \quad (0/25) \end{cases}$$

(فصل ۲ / معادلات مثلثاتی)

$$\lim_{x \rightarrow -1} \frac{x^2 - 4x + 3}{x^2 - 2x - 3} = \infty \quad (0/25)$$

$$\lim_{x \rightarrow 2} \frac{x^2 - 4x + 3}{x^2 - 2x - 3} = \lim_{x \rightarrow 2} \frac{(x-2)(x-1)}{(x-2)(x+1)} = \frac{1}{2} \quad (0/25)$$

بنابراین خط $x = -1$ مجانب قائم منحنی f است (0/25) ولی $x = 2$

مجانب قائم منحنی تابع f نیست. (فصل ۳ / مجانب قائم و افقی)

$$y = -2 \quad (0/25) \text{ و } y = 1 \quad (0/25) \text{ (فصل ۳ / مجانب قائم و افقی)}$$

تابع f در $x = -1$ پیوسته است. (0/25)

$$f'_+(-1) = \lim_{x \rightarrow (-1)^+} \frac{|x^2 + x|}{x+1}$$

$$= \lim_{x \rightarrow (-1)^+} \frac{-x(x+1)}{x+1} = 1 \quad (0/25)$$

$$f'_-(-1) = \lim_{x \rightarrow (-1)^-} \frac{x(x+1)}{x+1} = -1 \quad (0/25)$$

مشتق‌های راست و چپ تابع هر دو متناهی ولی نابرابرند پس $x = -1$ نقطه گوشه‌ای تابع است. (فصل ۴ / مشتق چپ و راست - نقاط مشتق ناپذیر)

$$\lim_{x \rightarrow a} f(x) = f(a)$$

کافی است نشان دهیم:

$$\lim_{x \rightarrow a} (f(x) - f(a)) = \lim_{x \rightarrow a} (x-a) \left(\frac{f(x) - f(a)}{x-a} \right)$$

$$= \lim_{x \rightarrow a} (x-a) \times \lim_{x \rightarrow a} \left(\frac{f(x) - f(a)}{x-a} \right) = 0 \times f'(a) = 0 \quad (0/25)$$

$$\Rightarrow \lim_{x \rightarrow a} (f(x) - f(a)) = 0 \quad (0/25) \Rightarrow \lim_{x \rightarrow a} f(x) = f(a) \quad (0/25)$$

(فصل ۴ / مشتق پذیری و پیوستگی)

$$\text{الف) } \lim_{x \rightarrow \frac{\pi}{6}^+} \tan\left(x + \frac{\pi}{3}\right) = \tan\left(\frac{\pi}{2}\right)^+ = -\infty \quad (0/5)$$

$$\text{ب) } \lim_{x \rightarrow 1} \frac{2+x-1}{(x-1)^2} = \lim_{x \rightarrow 1} \frac{x+1}{(x-1)^2} = \frac{2}{0^+} = +\infty \quad (1)$$

$$\text{پ) } \lim_{x \rightarrow -\infty} \frac{(x^3 - 2x + 2x^2 - x^2) - 1 + x^2}{(x-1)^2} \quad (0/5)$$

$$= \lim_{x \rightarrow -\infty} \frac{2x^2}{(x-1)^2} = 2 \quad (0/5)$$

(فصل ۳ / حد بین نهایی و حد در بین نهایی)

$$|x| - 1 = 0 \Rightarrow x = \pm 1 \quad (0/25)$$

$$\lim_{x \rightarrow 1} f(x) = \lim_{x \rightarrow 1} \frac{2(x-1)}{x-1} = 2$$

(خط $x = 1$ مجانب قائم نیست.) (0/25)

$$\lim_{x \rightarrow -1} f(x) = \lim_{x \rightarrow -1} \frac{2(x-1)}{-x-1} = \infty$$

(خط $x = -1$ مجانب قائم است.) (0/25)

$$\lim_{x \rightarrow +\infty} f(x) = \lim_{x \rightarrow +\infty} \frac{2x-2}{x-1} = 2 \quad (0/25)$$

$$\lim_{x \rightarrow -\infty} f(x) = \lim_{x \rightarrow -\infty} \frac{2x-2}{-x-1} = -2 \quad (0/25)$$

(خطوط $y = 2$ و $y = -2$ مجانب‌های افقی تابع هستند.) (0/25)

(فصل ۳ / مجانب قائم و افقی)

۱۲ باید مخرج صفر شود و چون فقط یک مجانب داریم، پس مخرج یک ریشه دارد، یعنی Δ ی مخرج صفر است (مخرج ریشه مضاعف $x = 2$ دارد.) (0/5)

$$x^2 + ax + b = (x-2)^2 \quad (0/5)$$

$$\Rightarrow x^2 + ax + b = x^2 - 4x + 4 \quad (0/25)$$

$$\Rightarrow \begin{cases} a = -4 \quad (0/25) \\ b = 4 \quad (0/25) \end{cases}$$

(فصل ۳ / مجانب قائم)

۱۳ اگر $k = 5$ باشد، جواب حد برابر $\frac{1}{4}$ است. (0/25)

اگر $k > 5$ باشد، جواب حد $+\infty$ یا $-\infty$ می‌شود. (0/25)

اگر $k < 5$ باشد، جواب حد صفر خواهد بود. (0/25)

امتحان ۵ - خرداد ماه ۱۳۹۸ (نوبت دوم)

۱ الف) نادرست. زیرا اگر $k > 1$ باشد، نمودار $y = f(kx)$ از انقباض افقی

نمودار $y = f(x)$ در راستای محور x ها به دست می‌آید. (فصل ۱ / انقباض و

انبساط افقی) (0/25) ب) درست (فصل ۲ / تابع تنازلیت) (0/25) /

پ) درست (فصل ۳ / حد بین نهایی) (0/25) ت) نادرست. شیب خط مماس در

نقطه B مثبت و در نقطه A منفی است. (فصل ۴ / خط مماس بر منحنی) (0/25)

