

فهرست

تست	درس نامه		
۳۱	۸	درس ۱: گزاره	فصل اول آشنایی با مبانی ریاضیات و استدلال
۳۶	۱۶	درس ۲: جبر مجموعه‌ها	
۴۳		آزمون:	
۴۴		سری Z:	
۶۶	۴۶	درس ۱: مبانی احتمال (فضای نمونه‌ای و پیشامد)	فصل دوم احتمال
۶۷	۴۹	درس ۲: احتمال هم‌شانس	
۷۳	۵۳	درس ۳: قوانین احتمال	
۷۵	۵۵	درس ۴: احتمال غیرهم‌شانس	
۷۶	۵۷	درس ۵: احتمال شرطی	
۷۹	۶۰	درس ۶: قانون احتمال کل	
۸۲	۶۳	درس ۷: پیشامدهای مستقل	
۸۶		آزمون:	
۸۷		سری Z:	
۱۰۸	۸۹	درس ۱: مقدمه‌ای بر علم آمار (سال دهم)	فصل سوم آمار توصیفی
۱۰۸	۹۰	درس ۲: توصیف و نمایش داده‌ها	
۱۱۲	۹۴	درس ۳: معیارهای گرایش به مرکز	
۱۱۵	۱۰۱	درس ۴: شاخص‌های پراکندگی	
۱۱۹		آزمون:	
۱۲۰		سری Z:	
۱۲۹	۱۲۲	درس ۱: روش‌های نمونه‌گیری	فصل چهارم آمار استنباطی
۱۳۰	۱۲۴	درس ۲: برآورد	
۱۳۳		آزمون:	
۱۳۴		سری Z:	
۱۳۵			پاسخ‌نامه تشریحی
۱۹۹			پاسخ‌نامه کلیدی

درس دوم احتمال هم‌شانس



احتمال مقدماتی

در فضای نمونه‌ای هم‌شانس (همه اعضای S شانسی یکسان دارند)، احتمال (یعنی شانس) رخ دادن هر پیشامد، متناسب با تعداد اعضای آن است. یعنی هر چه پیشامد A ، تعداد عضو بیشتری داشته باشد، شانس بیشتری دارد، به بیان دقیق‌تر، احتمال پیشامد A از فضای نمونه‌ای S برابر است با:

$$P(A) = \frac{n(A)}{n(S)}$$

تذکره ۱: از این تعریف نتیجه می‌شود که: $0 < P(\text{پیشامدهای دیگر}) < 1$ $P(S) = 1$ $P(\emptyset) = 0$

مدل‌های مختلفی از سؤال در این قسمت هست: سکه، تاس، عددسازی، کلمه‌سازی، انتخاب، چیدن، ساختن مثلث، گروه‌ها، گوی‌ها و ... در هر کدام از این مدل‌ها، برای محاسبه احتمال، باید بلد باشیم که $n(A)$ و $n(S)$ را به سرعت به دست بیاوریم، تیپ‌های مختلف را با هم ببینیم:

۱. پرتاب تاس: در پرتاب تاس دیدیم که فضای نمونه‌ای به صورت $S = \{1, 2, 3, 4, 5, 6\}$ در نتیجه $n(S) = 6$ است، برای احتمال پیشامدی مانند A : «مضرب ۳ بیاید» تعداد اعضای A را به دست می‌آوریم: $A = \{3, 6\}$ پس $n(A) = 2$ و احتمال آن برابر است با: $P(A) = \frac{2}{6} = \frac{1}{3}$.

آزمون ۱: در پرتاب یک تاس، احتمال کدام پیشامد با بقیه فرق دارد؟

- (۱) مضرب ۳ یا زوج بیاید. (۲) فرد یا اول بیاید.
 (۳) نه مضرب ۴ باشد و نه اول. (۴) مضرب ۳ نیاید.

پاسخ ۱: در پرتاب یک تاس $S = \{1, 2, 3, 4, 5, 6\}$ فضای نمونه‌ای است؛ پس $n(S) = 6$.

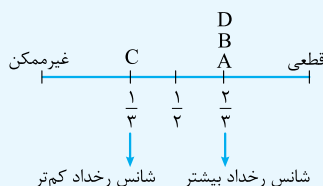
در (۱) می‌خواهیم مضرب ۳ یا زوج باشد. مضارب ۳ عبارت‌اند از ۳ و ۶ و اعداد زوج عبارت‌اند از ۲ و ۴ و ۶؛ پس اجتماع این‌ها می‌شود $A = \{2, 3, 4, 6\}$ که پیشامدی ۴ عضوی است و احتمالش می‌شود $P(A) = \frac{n(A)}{n(S)} = \frac{4}{6}$.

در (۲) احتمال فردها یا اول‌ها را داریم؛ یعنی پیشامد $B = \{1, 2, 3, 5\}$ که این هم ۴ عضوی است و احتمالش $P(B) = \frac{4}{6}$ خواهد بود. پس می‌گوییم A و B هم‌شانس هستند.

در (۳) مضرب ۴ نباشد و اول نباشد؛ یعنی ۴ و هم‌چنین ۲ و ۳ و ۵ را نمی‌خواهیم، پس پیشامد مورد نظر $C = \{1, 6\}$ است که احتمالش $P(C) = \frac{n(C)}{n(S)} = \frac{2}{6}$ می‌شود.

در (۴) باید مضرب ۳ نیاید؛ یعنی $D' = \{3, 6\}$ ؛ پس $D = \{1, 2, 4, 5\}$ که احتمال این هم $\frac{4}{6}$ خواهد شد؛ پس (۳) با بقیه متفاوت بود.

تذکره ۲: کتاب درسی در مقایسه احتمال پیشامدهای مختلف (این محور را هم کشیده است):



• دو تاس

• پرتاب دو تاس یکی از مهم‌ترین مسئله‌های فصل احتمال است. فضای

نمونه‌ای آن $6^2 = 36$ عضو دارد که در جدول روبه‌رو آن‌ها را می‌آوریم:

در پرتاب دو تاس ۳۶ حالت به وجود می‌آید که در ۶ حالت (روی قطر) اعداد دو تاس با هم برابرند، در ۱۵ خانه بالاتر از قطر، عدد تاس اول بیشتر است و در ۱۵ خانه پایین‌تر از قطر، عدد تاس دوم بیشتر است.

در هر خانه جدول، مجموع دو تاس را نوشته‌ایم؛ همان‌طور که می‌بینید مثلاً در ۳ تا خانه از ۳۶ خانه، مجموع برابر ۴ است، پس احتمال این که مجموع دو تاس برابر ۴ باشد برابر است با $\frac{3}{36}$.

تذکره

تاس اول	۱	۲	۳	۴	۵	۶
۱	۲	۳	۴	۵	۶	۷
۲	۳	۴	۵	۶	۷	۸
۳	۴	۵	۶	۷	۸	۹
۴	۵	۶	۷	۸	۹	۱۰
۵	۶	۷	۸	۹	۱۰	۱۱
۶	۷	۸	۹	۱۰	۱۱	۱۲

این یعنی تاس اول ۶ و تاس دوم ۲ است.

در این شش خانه روی قطر، دو تاس مساوی هم هستند.

در پرتاب دو تاس همیشه حالت (۱، ۵) با حالت (۵، ۱) فرق دارد و برای این که اشتباه نکنید همواره فرض کنید که دو تاس متمایز هستند. یعنی همیشه بگویید: تاس اول، تاس دوم و...

بعضی‌ها دوست دارند تعداد حالت‌های مجموع دو تاس را حفظ باشند، جدول زیر به ما کمک می‌کند که با یک الگوی خوب، حالت‌ها را حفظ کنیم:

		بیشترین احتمال										
جمع دو تاس	۲	۳	۴	۵	۶	۷	۸	۹	۱۰	۱۱	۱۲	
تعداد حالت‌ها	۱	۲	۳	۴	۵	۶	۵	۴	۳	۲	۱	

یک واحد یک واحد کم می‌شود ← یک واحد یک واحد زیاد می‌شود

مثلاً احتمال این که مجموع دو تاس ۱۱ باشد، برابر است با:

$$\frac{\text{تعداد حالت‌ها}}{36} = \frac{2}{36}$$

آزمون ۱ | در پرتاب دو تاس، احتمال این که «اختلاف تاس‌ها ۲ یا مجموع دو تاس کم‌تر از ۵ باشد» کدام است؟

- ۱) $\frac{1}{4}$ ۲) $\frac{1}{3}$ ۳) $\frac{1}{2}$ ۴) $\frac{7}{18}$

پاسخ ۲ | پیشامد مطلوب از اجتماع دو تا پیشامد ساخته شده:

جمع کم‌تر از ۵ باشد B و اختلاف تاس‌ها ۲ باشد A

جدول را ببینید:

A دارای ۸ عضو و B شامل ۶ عضو است و ۲ تا عضو هم که مشترک است، پس ۱۲ تا از ۳۶ تا خانه جدول، مطلوب

هستند، پس احتمال برابر است با: $\frac{12}{36} = \frac{1}{3}$.

	۱	۲	۳	۴	۵	۶
۱	B	B	AB			
۲	B	B		A		
۳	AB				A	
۴		A				A
۵			A			
۶				A		

۲. پرتاب سکه - جنسیت فرزندان یک خانواده • وقتی یک سکه را پرتاب می‌کنیم، احتمال «رو» برابر احتمال «پشت» و هر کدام برابر $\frac{1}{2}$

هستند، دقیقاً مثل این که وقتی بجهای به دنیا می‌آید، احتمال دختر (یا پسر) بودنش، $\frac{1}{2}$ است، پس آزمایش پرتاب سکه دقیقاً مثل جنسیت فرزندان یک

خانواده است. با یک نکته راحت می‌توانیم تمام تست‌های این قسمت را مثل آب خوردن حل کنیم:

نکته ۱ | در یک خانواده با n فرزند، احتمال این که خانواده k فرزند پسر (یا دختر) داشته باشد، برابر است با: $\frac{\binom{n}{k}}{2^n}$

۲ | در n بار پرتاب یک سکه (پرتاب n تا سکه)، احتمال این که k بار «رو» بیاید برابر است با: $\frac{\binom{n}{k}}{2^n}$

مثلاً اگر ۵ سکه را با هم پرتاب کنیم، احتمال این که ۳ تا سکه رو بیاید برابر است با: $\frac{\binom{5}{3}}{2^5} = \frac{10}{32}$

آزمون ۱ | در یک خانواده با ۶ فرزند، احتمال این که تعداد پسرها دو برابر تعداد دخترها باشد، کدام است؟

- ۱) $\frac{15}{64}$ ۲) $\frac{1}{2}$ ۳) $\frac{1}{4}$ ۴) $\left(\frac{15}{64}\right)^2$

پاسخ ۱ | باید تعداد پسرها ۴ تا و تعداد دخترها ۲ تا باشد! پس احتمال این را می‌خواهیم که ۴ تا پسر داشته باشیم:

$$P(4 \text{ تا پسر}) = P(2 \text{ تا دختر}) = \frac{\binom{6}{4}}{2^6} = \frac{15}{64}$$

پادآوری $\binom{6}{4} = \binom{6}{2} = \frac{6 \times 5}{2} = 15$

• **۳. کیسه و مهره‌های رنگی** • رسیدیم به معروف‌ترین و مهم‌ترین تست‌های احتمال! تست می‌گویید که یک کیسه داریم و درون آن n تا مهره سفید و m تا مهره سیاه وجود دارد، مثلاً ۳ تا مهره برمی‌داریم و چه قدر احتمال دارد که ۲ تا سفید باشد؟ در این تست‌ها فضای نمونه‌ای برابر است با: (تعداد انتخاب‌ها کل) و برای محاسبه تعداد اعضای پیشامد مطلوب، از بین رنگ‌ها انتخاب می‌کنیم. در مثالی که زدیم باید ۲ تا از سفیدها و یکی از سیاه‌ها

$$\frac{\binom{n}{2} \times \binom{m}{1}}{\binom{m+n}{3}}$$

را انتخاب کنیم:

تذکره دقت کنید که مجموع انتخاب‌ها در صورت و مجموع انتخاب‌ها در مخرج کسر باید برابر ۳ باشد.

تست ۱ در کیسه‌ای ۴ مهره سبز، ۳ مهره آبی و ۵ مهره قرمز داریم. اگر ۳ مهره با هم بیرون بیاوریم، شانس کدام اتفاق کم‌تر از بقیه است؟

- (۱) سه رنگ متفاوت خارج شود.
 (۲) مهره‌های خارج شده فقط از دو رنگ باشند.
 (۳) در بین مهره‌های خارج شده، فقط یک آبی باشد.
 (۴) در بین مهره‌ها، فقط دو قرمز باشد.

پاسخ ۱ $n(S)$ برای همه پیشامدها یکسان و برابر است با $220 = \frac{12 \times 11 \times 10}{3 \times 2 \times 1}$. پس برویم دنبال تعداد عضو پیشامدها:

در (۱) برای سه رنگ متفاوت داریم:

$$n(A) = \underbrace{\binom{3}{1}}_{\text{یک قرمز}} \times \underbrace{\binom{4}{1}}_{\text{یک سبز}} \times \underbrace{\binom{5}{1}}_{\text{یک آبی}} = 3 \times 4 \times 5 = 60$$

در (۲) برای این که مهره‌ها فقط از دو رنگ باشند، یعنی:

$$n(B) = \underbrace{\binom{3}{2}}_{\text{دو قرمز}} \times \underbrace{\binom{9}{1}}_{\text{یکی دیگر آبی}} + \underbrace{\binom{4}{2}}_{\text{دو سبز}} \times \underbrace{\binom{8}{1}}_{\text{یکی دیگر آبی}} + \underbrace{\binom{5}{2}}_{\text{دو آبی}} \times \underbrace{\binom{7}{1}}_{\text{یکی دیگر قرمز}} = 3 \times 9 + 6 \times 8 + 10 \times 7 = 27 + 48 + 70 = 145$$

در (۳) فقط یک آبی و بنابراین دوتا از بین سبز و قرمز می‌خواهیم:

$$n(C) = \underbrace{\binom{3}{1}}_{\text{یک آبی}} \times \underbrace{\binom{9}{2}}_{\text{دوتا دیگر سبز و قرمز}} = 3 \times 36 = 108$$

در (۴) دو قرمز و یکی دیگر می‌خواهیم:

$$n(D) = \underbrace{\binom{5}{2}}_{\text{دو قرمز}} \times \underbrace{\binom{7}{1}}_{\text{یکی دیگر آبی}} = 10$$

پس شانس (۱) از همه کم‌تر است؛ چون تعداد اعضای پیشامدش از همه کم‌تر است.

تذکره گاهی اوقات به جای الفاظ کیسه و مهره، تست می‌گویید: چند نوع جاندار یا دانش‌آموزان تجربی و ریاضی و ... ولی داستان همان داستان است!

تست ۲ از بین ۴ ببر و ۶ تا شیر و ۲ تا زرافه، ۲ تا را انتخاب می‌کنیم، با چه احتمالی حیوانات انتخاب شده از یک نوع نیستند؟

(۱) $\frac{2}{3}$ (۲) $\frac{1}{3}$ (۳) $\frac{1}{4}$ (۴) $\frac{3}{4}$

پاسخ ۲ تعداد اعضای نمونه‌ای برابر است با: $n(S) = \binom{12}{2} = \frac{12 \times 11}{2} = 66$ را با اصل جمع باید به دست بیاوریم:

$$n(A) = \underbrace{\binom{4}{1} \times \binom{6}{1}}_{4 \times 6} + \underbrace{\binom{4}{2} \times \binom{2}{1}}_{4 \times 2} + \underbrace{\binom{6}{2} \times \binom{2}{1}}_{6 \times 2} = 24 + 8 + 12 = 44$$

$$P(A) = \frac{44}{66} = \frac{2}{3}$$

پس احتمال برابر است با:

• **۴. کیسه و مهره‌های شماره‌دار** • در بعضی از تست‌ها مهره‌های درون کیسه، شماره‌دار هستند و باید تعدادی از آن مهره‌ها را خارج کنیم و

احتمال اتفاق خاص را بررسی کنیم، در این سؤال‌ها دقت کنید که

(۱) $n(S)$ باز هم برابر (تعداد انتخاب‌ها کل) است.

(۲) ترتیب شماره‌های خارج شده اهمیت ندارد یعنی در این مسائل برخلاف پرتاب دو تاس (۱,۲) و (۲,۱) با هم فرقی ندارند.

(۳) وقتی که شماره‌های ۱ تا n را در کیسه داریم و ۲ تا مهره خارج می‌کنیم، امکان ندارد که مثلاً ۲ و ۲ خارج شده باشند (پون به‌دونه «۲» داریم!)

تست ۳ از میان ۶ گوی با شماره‌های ۱ تا ۶، سه گوی با هم خارج می‌کنیم. با کدام احتمال مجموع شماره‌های خارج شده زوج است؟

(۱) $\frac{1}{3}$ (۲) $\frac{1}{2}$ (۳) $\frac{2}{5}$ (۴) $\frac{3}{5}$

پاسخ ۲: ابتدا $n(S)$ را به دست می‌آوریم: $n(S) = \binom{6}{3} = \frac{6 \times 5 \times 4}{1 \times 2 \times 3} = 20$

مجموع سه عدد وقتی زوج می‌شود که یا «هر سه عدد زوج باشند» و یا «دوتا از اعداد فرد و دیگری زوج باشد». پس:

اعداد ۱ تا ۳، ۶ تا عدد فرد داریم. ۳ تا عدد زوج داریم: {۶، ۴، ۲}

$$n(A) = \binom{3}{3} + \binom{3}{2} \times \binom{3}{1} = 1 + 3 \times 3 = 10$$

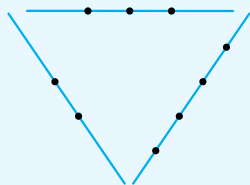
انتخاب انتخاب انتخاب
زوج ۲ تا فرد ۳ تا زوج

پس احتمال می‌شود: $\frac{10}{20} = \frac{1}{2}$

احتمال به کمک آنالیز ترکیبی • در خیلی از تست‌ها، برای محاسبه $n(S)$ و $n(A)$ برمی‌گردیم به فصل آنالیز ترکیبی و از مطالبی که آنجا

یاد گرفتیم، استفاده می‌کنیم، خوب! طبیعتاً تنوع این تست‌ها خیلی زیاد است! در جدول زیر نمونه‌های اصلی را مرور می‌کنیم:

P(A)	شمارش پیشامد A و رسیدن به n(A)	خواسته سؤال	n(S)	بیان آزمایش	مدل چیدمان
$\frac{18}{120} = \frac{3}{20}$	$\frac{1}{\uparrow} \quad \frac{3}{\uparrow}$ به جز علی و رضا فقط علی $n(A) = 3 \times 6 = 18$	علی نفر اول باشد و رضا آخر نباشد.	$5! = 120$	۵ نفر کنار هم در صف می‌ایستند.	مدل چیدمان
$\frac{24}{60} = \frac{2}{5}$	$\frac{2}{\downarrow} \times 4 \times 3 = 24$ ۲ یا ۱	کم‌تر از ۳۰۰ باشد.	$5 \times 4 \times 3 = 60$	با ارقام ۱، ۲، ۳، ۴ و ۵ عدد سه رقمی با ارقام متمایز می‌سازیم.	مدل عددسازی
$\frac{16}{120} = \frac{2}{15}$	$\frac{4}{\downarrow} \times \frac{2!}{\downarrow} \times \frac{2}{\downarrow} = 16$ صفت‌دوتایی بسته S و P حرف دیگر	در کلمه جدید، P و S کنار هم باشند.	$6 \times 5 \times 4 = 120$	با حروف کلمه SPACET کلمه‌های ۳ حرفی می‌سازیم.	مدل کلمه‌سازی



تست ۵: از نقاط شکل، ۳ تا را انتخاب می‌کنیم، با کدام احتمال مثلث با رئوس نقاط انتخابی وجود دارد؟

- (۱) $\frac{27}{28}$
(۲) $\frac{20}{21}$
(۳) $\frac{79}{84}$
(۴) $\frac{13}{14}$

پاسخ ۳: برای انتخاب ۳ تا از نقاط به تعداد $n(S) = \binom{9}{3} = \frac{9 \times 8 \times 7}{3 \times 2} = 84$ حالت داریم. برای ساخته شدن مثلث باید نقاط از یک خط نباشند. پس با

$$n(A) = n(S) - n(A') = \binom{9}{3} - \left(\binom{3}{3} + \binom{4}{3} + \binom{2}{3} \right) = 84 - (1 + 4 + 0) = 79$$

سه نقطه روی یک خط

دقت کردید؟ یا هر سه نقطه روی خط بالایی‌اند یا هر سه روی خط سمت راست یا هر سه روی خط سمت چپ (که امکان ندارد چون فقط دوتا نقطه روی این خط است). پس احتمال می‌شود: $P(A) = \frac{79}{84}$

تذکر ۱: جایگشت‌های خاص، یکی در میان‌ها، بسته‌بندی اشیاء و ... در تست‌های احتمال خیلی محبوب هستند.

تست ۵: ۷ کارت با شماره‌های ۱ تا ۷ را کنار هم می‌چینیم، چه قدر احتمال دارد که ارقام زوج و فرد یکی در میان قرار بگیرند؟

- (۱) $\frac{3}{70}$
(۲) $\frac{2}{35}$
(۳) $\frac{1}{70}$
(۴) $\frac{1}{35}$

پاسخ ۴: از چینش اعداد ۱ تا ۷ به تعداد $7!$ صف ایجاد می‌شود. پس $n(S) = 7!$

برای یکی در میان شدن باید فرم کلی این‌جوری باشد: فرد زوج فرد زوج فرد زوج فرد، پس حتماً صف با یک عدد فرد شروع شود! پس جایگاه اعداد فرد مشخص است و $4!$ جایگشت دارند و جایگاه اعداد زوج نیز مشخص است و $3!$ جایگشت دارند، پس: $n(A) = 3! \times 4!$ ، حالا احتمال را حساب می‌کنیم:

$$P(A) = \frac{3! \times 4!}{7!} = \frac{3!}{5 \times 6 \times 7} = \frac{1}{35}$$

حرف آخر • همیشه قرار نیست شمارش تعداد اعضای $n(A)$ با استفاده از اصل ضرب و جمع و ترکیب و این‌ها باشد. بعضی اوقات، به‌خصوص در مسائل عددها و برای بررسی بخش‌پذیری یا اول بودن، تنها راه، نوشتن اعضای S و پیدا کردن اعضای A است.



تست زیر را ببینید:

تست ۱ | با ارقام ۱، ۲، ۴ و ۵ عددی دورقمی می‌سازیم (تکرار ارقام مجاز است). با کدام احتمال اول است؟

$\frac{1}{4}$ (۴)

$\frac{1}{8}$ (۳)

$\frac{3}{16}$ (۲)

$\frac{1}{16}$ (۱)

پاسخ ۲ | اعداد دورقمی با این ارقام عبارت‌اند از:

• $n(S) = 4 \times 4 = 16$

• $S = \{11, 12, 14, 15, 21, 22, 24, 25, 41, 42, 44, 45, 51, 52, 54, 55\}$

که در بین آن‌ها فقط ۱۱ و ۴۱ اول‌اند. پس $n(A) = 2$ و احتمال می‌شود $\frac{2}{16}$ یا $\frac{1}{8}$.

درس دوم: احتمال هم‌شانس

پرتاب تاس

۲۵۶- تاسی را به هوا پرتاب می‌کنیم. احتمال آن که عدد زوج یا بزرگ‌تر از ۳ رخ دهد، کدام است؟

$\frac{1}{2}$ (۴)

$\frac{5}{6}$ (۳)

$\frac{2}{3}$ (۲)

$\frac{1}{3}$ (۱)

۲۵۷- دو تاس را با هم پرتاب می‌کنیم. با چه احتمالی حداقل یکی از اعداد رو شده مضرب ۳ نیست؟

$\frac{7}{18}$ (۴)

$\frac{5}{12}$ (۳)

$\frac{8}{9}$ (۲)

$\frac{4}{9}$ (۱)

۲۵۸- دو تاس را با هم پرتاب می‌کنیم. احتمال آن که مجموع ۵ بیاید، کدام است؟

$$\frac{1}{9} \quad (1) \quad \frac{1}{12} \quad (2) \quad \frac{1}{18} \quad (3) \quad \frac{1}{36} \quad (4)$$

۲۵۹- در پرتاب دو تاس، احتمال آن که مجموع اعداد دو تاس کم‌تر از ۷ باشد، کدام است؟

$$\frac{1}{3} \quad (1) \quad \frac{1}{2} \quad (2) \quad \frac{7}{12} \quad (3) \quad \frac{5}{12} \quad (4)$$

۲۶۰- احتمال این که در پرتاب دو تاس، اعداد روشده برابر بوده یا مجموع آن‌ها ۱۱ باشد، کدام است؟

$$\frac{3}{10} \quad (1) \quad \frac{2}{9} \quad (2) \quad \frac{4}{11} \quad (3) \quad \frac{5}{12} \quad (4)$$

۲۶۱- دو تاس را با هم می‌ریزیم. با کدام احتمال جمع دو عدد روشده، یک عدد اول است؟

$$\frac{5}{12} \quad (1) \quad \frac{4}{9} \quad (2) \quad \frac{5}{9} \quad (3) \quad \frac{7}{12} \quad (4)$$

۲۶۲- دو تاس همگن را پرتاب می‌کنیم. با کدام احتمال، حداقل یک عدد مضرب ۳ و مجموع دو عدد روشده برابر ۷ است؟

$$\frac{1}{18} \quad (1) \quad \frac{1}{9} \quad (2) \quad \frac{1}{6} \quad (3) \quad \frac{1}{3} \quad (4)$$

۲۶۳- در پرتاب ۲ تاس، احتمال آن که اختلاف اعداد ظاهر شده ۲ باشد، کدام است؟

$$\frac{2}{9} \quad (1) \quad \frac{1}{3} \quad (2) \quad \frac{5}{18} \quad (3) \quad \frac{3}{18} \quad (4)$$

۲۶۴- یک تاس را دو بار پرتاب می‌کنیم. احتمال آن که عدد پرتاب اول، زوج و کوچک‌تر از عدد پرتاب دوم باشد، کدام است؟

$$\frac{1}{4} \quad (1) \quad \frac{1}{6} \quad (2) \quad \frac{1}{9} \quad (3) \quad \frac{1}{12} \quad (4)$$

۲۶۵- شخص A یک تاس و شخص B دو تاس پرتاب می‌کنند. احتمال آن که مجموع دو تاسی که B پرتاب می‌کند برابر با تاس A باشد، کدام است؟

$$\frac{15}{216} \quad (1) \quad \frac{5}{216} \quad (2) \quad \frac{3}{216} \quad (3) \quad \frac{10}{216} \quad (4)$$

۲۶۶- ۱۱ تاس سالم را با هم پرتاب می‌کنیم. احتمال این که مجموع اعداد روشده زوج باشد، چه قدر است؟

$$\frac{1}{2} \quad (1) \quad \frac{6}{11} \quad (2) \quad \frac{7}{11} \quad (3) \quad \frac{8}{11} \quad (4)$$

۲۶۷- در پرتاب سه تاس، چه قدر احتمال دارد مجموع سه تاس برابر با ۱۷ باشد؟

$$\frac{1}{216} \quad (1) \quad \frac{1}{108} \quad (2) \quad \frac{1}{36} \quad (3) \quad \frac{1}{72} \quad (4)$$

۲۶۸- در پرتاب سه تاس، احتمال آن که مجموع سه تاس برابر با ۶ باشد، کدام است؟

$$\frac{1}{36} \quad (1) \quad \frac{5}{108} \quad (2) \quad \frac{1}{18} \quad (3) \quad \frac{1}{6} \quad (4)$$

۲۶۹- تاسی را سه بار پرتاب می‌کنیم، با کدام احتمال اعداد روشده متوالی‌اند؟

$$\frac{1}{36} \quad (1) \quad \frac{1}{18} \quad (2) \quad \frac{1}{12} \quad (3) \quad \frac{1}{9} \quad (4)$$

۲۷۰- در پرتاب ۳ تاس با هم چه قدر احتمال دارد جمع ارقام روشده ۱۵ باشد یا حداقل یک تاس فرد بیاید؟

$$\frac{187}{216} \quad (1) \quad \frac{3}{4} \quad (2) \quad \frac{5}{6} \quad (3) \quad \frac{7}{8} \quad (4)$$

۲۷۱- در پرتاب سه تاس، احتمال آن که فقط دو تاس از سه تاس مساوی باشند، چه قدر است؟

$$\frac{1}{6} \quad (1) \quad \frac{1}{12} \quad (2) \quad \frac{5}{9} \quad (3) \quad \frac{5}{12} \quad (4)$$

پرتاب سکه - جنسیت فرزندان یک خانواده

۲۷۲- در پرتاب ۶ سکه، چه قدر احتمال دارد ۴ تا رو بیاید؟

$$\frac{2}{3} \quad (1) \quad \frac{1}{64} \quad (2) \quad \frac{4}{64} \quad (3) \quad \frac{15}{64} \quad (4)$$

۲۷۳- در پرتاب ۵ سکه، چه قدر احتمال دارد ۲ رو یا ۴ رو بیاید؟

$$\frac{5}{32} \quad (1) \quad \frac{10}{32} \quad (2) \quad \frac{15}{32} \quad (3) \quad \frac{1}{32} \quad (4)$$

۲۷۴- در خانواده‌ای با ۴ فرزند، چه قدر احتمال دارد حداقل ۲ فرزند، پسر باشند؟

$$\frac{3}{4} \quad (1) \quad \frac{5}{8} \quad (2) \quad \frac{11}{16} \quad (3) \quad \frac{13}{16} \quad (4)$$

(سراسری ۹۳)

(سراسری ۱۴۰۱)

۲۷۵- شش پرسش دوگزینه‌ای را شانس می‌زنیم. اگر همه تست‌ها را زده باشیم، با کدام احتمال حداقل ۲ تا درست می‌زنیم؟

$$\frac{47}{64} \text{ (۱)} \quad \frac{57}{64} \text{ (۲)} \quad \frac{53}{64} \text{ (۳)} \quad \frac{59}{64} \text{ (۴)}$$

۲۷۶- تاس سالمی را ۱۰ بار پرتاب می‌کنیم، احتمال این که ۶ بار برآمد تاس، عددی بزرگ‌تر از ۳ باشد، کدام است؟

$$\frac{63}{256} \text{ (۱)} \quad \frac{75}{256} \text{ (۲)} \quad \frac{75}{512} \text{ (۳)} \quad \frac{105}{512} \text{ (۴)}$$

۲۷۷- سه وجه مکعبی سفید و سه وجه دیگر آن سیاه است. این مکعب را چهار بار پرتاب می‌کنیم، احتمال آن که دو بار سفید یا یک بار سیاه بیاید، کدام است؟

$$\frac{3}{8} \text{ (۱)} \quad \frac{1}{2} \text{ (۲)} \quad \frac{7}{16} \text{ (۳)} \quad \frac{5}{8} \text{ (۴)}$$

کیسه و مهره‌های رنگی

۲۷۸- در یک کیسه، ۵ مهره سفید و ۷ مهره سیاه موجود است. ۲ مهره از کیسه خارج می‌کنیم. احتمال این که دو مهره هم‌رنگ نباشند، کدام است؟

$$\frac{6}{11} \text{ (۱)} \quad \frac{19}{33} \text{ (۲)} \quad \frac{35}{66} \text{ (۳)} \quad \frac{37}{66} \text{ (۴)}$$

۲۷۹- ۵ مهره سفید و ۵ مهره سیاه را در ظرفی ریخته‌ایم. به تصادف دو مهره از ظرف خارج می‌کنیم. با کدام احتمال هر دو مهره هم‌رنگ‌اند؟ (خارج ۹۲)

$$\frac{2}{5} \text{ (۱)} \quad \frac{4}{9} \text{ (۲)} \quad \frac{5}{9} \text{ (۳)} \quad \frac{3}{5} \text{ (۴)}$$

۲۸۰- از جعبه‌ای که شامل ۵ مهره سفید و ۶ مهره سیاه است، دو مهره به تصادف خارج می‌کنیم. احتمال آن که حداقل یک مهره سفید انتخاب شود، کدام است؟

$$\frac{3}{11} \text{ (۱)} \quad \frac{8}{11} \text{ (۲)} \quad \frac{4}{11} \text{ (۳)} \quad \frac{7}{11} \text{ (۴)}$$

۲۸۱- جعبه‌ای شامل ۸ مهره سیاه و سفید است. دو مهره به تصادف از این جعبه خارج می‌کنیم. مهره‌های سفید چه تعداد باشد تا احتمال هم‌رنگ بودن مهره‌ها

مینیمم شود؟

$$4 \text{ (۱)} \quad 5 \text{ (۲)} \quad 1 \text{ (۳)} \quad 7 \text{ (۴)}$$

۲۸۲- در ظرفی ۴ مهره سفید، ۵ مهره سیاه و ۱ مهره سبز موجود است. در ظرف دیگر ۶ مهره سفید و ۲ مهره سبز قرار دارد. به تصادف از هر ظرف یک مهره

بیرون می‌آوریم. با کدام احتمال رنگ این دو مهره متفاوت است؟

$$\frac{19}{40} \text{ (۱)} \quad \frac{21}{40} \text{ (۲)} \quad \frac{23}{40} \text{ (۳)} \quad \frac{27}{40} \text{ (۴)}$$

۲۸۳- در کیسه‌ای ۴ مهره قرمز، ۵ مهره سفید و یک مهره سیاه داریم. چه تعداد مهره سفید به این کیسه اضافه کنیم تا احتمال خارج شدن مهره سفید از این

کیسه به $\frac{3}{4}$ برسد؟

$$2 \text{ (۱)} \quad 5 \text{ (۲)} \quad 8 \text{ (۳)} \quad 10 \text{ (۴)}$$

۲۸۴- در ظرفی ۵ مهره سفید و ۳ مهره سیاه، در ظرف دیگر ۴ مهره سفید و ۲ مهره سیاه موجود است. به تصادف از هر ظرف دو مهره بیرون می‌آوریم. با کدام

احتمال ۴ مهره خارج شده، هم‌رنگ هستند؟ (سراسری ۹۳)

$$\frac{1}{12} \text{ (۱)} \quad \frac{1}{15} \text{ (۲)} \quad \frac{1}{18} \text{ (۳)} \quad \frac{1}{24} \text{ (۴)}$$

۲۸۵- در ظرفی ۵ مهره سیاه، ۳ مهره قرمز و ۲ مهره سبز وجود دارد. ۳ مهره به ترتیب و با جای گذاری از ظرف خارج می‌کنیم. احتمال این که از سه رنگ مختلف

باشند، کدام است؟

$$\frac{1}{18} \text{ (۱)} \quad \frac{1}{20} \text{ (۲)} \quad \frac{1}{30} \text{ (۳)} \quad \frac{1}{24} \text{ (۴)}$$

۲۸۶- در جعبه‌ای ۶ مهره قرمز، ۴ مهره سیاه و ۳ مهره آبی وجود دارد. ۱۱ مهره به تصادف از جعبه خارج می‌کنیم. با چه احتمالی مهره‌های باقی‌مانده در ظرف

هر دو قرمز هستند؟

$$\frac{6}{13} \text{ (۱)} \quad \frac{1}{25} \text{ (۲)} \quad \frac{5}{13} \text{ (۳)} \quad \frac{5}{26} \text{ (۴)}$$

۲۸۷- در یک کلاس، ۲۰ دانش‌آموز در ۵ ردیف ۴ نفره نشسته‌اند. دو نفر از این دانش‌آموزان را به صورت تصادفی انتخاب می‌کنیم. احتمال این که این دو نفر از

یک ردیف باشند، کدام است؟

$$\frac{1}{4} \text{ (۱)} \quad \frac{3}{19} \text{ (۲)} \quad \frac{3}{20} \text{ (۳)} \quad \frac{3}{21} \text{ (۴)}$$

۲۸۸- از هر چهار گروه آزمایشی، به ترتیب ۳، ۲، ۱ و ۲ نفر داوطلب شرکت در آزمون هستند. اگر به تصادف ۴ نفر از بین آنان معرفی شوند، با کدام احتمال از

هر گروه ۱ نفر معرفی شده‌اند؟

$$\frac{1}{8} \text{ (۱)} \quad \frac{1}{7} \text{ (۲)} \quad \frac{3}{14} \text{ (۳)} \quad \frac{2}{21} \text{ (۴)}$$

۲۸۹- در آزمایشگاهی، ۷ موش نگهداری می‌شوند که بر روی ۳ موش، آزمون مهارت انجام شده است. اگر ۲ موش از بین آنان به طور تصادفی انتخاب شوند، با

کدام احتمال لااقل بر روی یکی از آن دو آزمون انجام شده است؟

$$\frac{10}{21} \text{ (۱)} \quad \frac{4}{7} \text{ (۲)} \quad \frac{5}{7} \text{ (۳)} \quad \frac{16}{21} \text{ (۴)}$$

۲۹۰- برای انجام مسابقه‌ای، ۴ نفر از گروه ریاضی و ۶ نفر از گروه تجربی داوطلب شده‌اند. اگر به طور تصادفی ۴ نفر از بین آنان انتخاب شوند، با کدام احتمال تعداد افراد انتخابی در این دو گروه، متفاوت است؟

$$\frac{5}{14} \quad (1) \quad \frac{3}{7} \quad (2) \quad \frac{4}{7} \quad (3) \quad \frac{5}{7} \quad (4)$$

کیسه و مهره‌های شمارهدار

۲۹۱- شش مهره با شماره‌های ۱، ۲، ۳، ۴، ۵ و ۶ در ظرفی قرار دارند. دو مهره را با هم بیرون می‌آوریم و بدون جای‌گذاری، دو مهره دیگر خارج می‌کنیم. با کدام احتمال مهره شماره ۳ خارج شده است؟

$$\frac{1}{3} \quad (1) \quad \frac{2}{5} \quad (2) \quad \frac{3}{5} \quad (3) \quad \frac{2}{3} \quad (4)$$

۲۹۲- در کیسه‌ای ۱۰ کارت وجود دارد که روی آن‌ها اعداد ۱ تا ۱۰ نوشته شده است. ۶ کارت با هم و به تصادف از این کیسه بیرون می‌کشیم. احتمال آن که اعداد ۶ و ۷ در بین شماره‌های این کارت‌ها باشند، چه قدر است؟

$$\frac{1}{3} \quad (1) \quad \frac{2}{7} \quad (2) \quad \frac{3}{5} \quad (3) \quad \frac{3}{7} \quad (4)$$

۲۹۳- در ظرفی شش مهره با شماره‌های ۱، ۲، ۳، ۴، ۵ و ۶ ریخته شده‌اند. دو مهره با هم بیرون می‌آوریم. با کدام احتمال شماره‌های این دو مهره اعداد متوالی‌اند؟

$$\frac{1}{3} \quad (1) \quad \frac{2}{5} \quad (2) \quad \frac{3}{5} \quad (3) \quad \frac{2}{3} \quad (4)$$

۲۹۴- جعبه‌ای محتوی ۱۰ مهره با شماره‌های ۱ تا ۱۰ می‌باشد. اگر ۳ مهره به تصادف از این جعبه انتخاب کنیم، احتمال این که شماره‌های این ۳ مهره پشت سر هم باشند، کدام است؟

$$\frac{1}{15} \quad (1) \quad \frac{1}{90} \quad (2) \quad \frac{1}{12} \quad (3) \quad \frac{1}{72} \quad (4)$$

۲۹۵- اعداد ۱، ۲، ۳، ۴، ۵، ۶ بر روی ۶ مهره یکسان نوشته شده‌اند. اگر دو مهره را با هم بیرون آوریم، با کدام احتمال مجموع اعداد این دو مهره مضرب ۳ می‌باشد؟

$$\frac{1}{4} \quad (1) \quad \frac{1}{3} \quad (2) \quad \frac{2}{5} \quad (3) \quad \frac{3}{5} \quad (4)$$

۲۹۶- اعداد ۱ تا ۶ را بر روی ۶ کارت یکسان نوشته‌اند. اگر به تصادف دو کارت از بین آن‌ها بیرون آوریم، با کدام احتمال جمع اعداد این دو کارت زوج است؟

$$\frac{1}{2} \quad (1) \quad \frac{4}{9} \quad (2) \quad \frac{2}{5} \quad (3) \quad \frac{5}{9} \quad (4)$$

۲۹۷- در ظرفی پنج مهره با شماره‌های ۱، ۲، ۳، ۴، ۵ و ۶ قرار دارند. دو مهره با هم بیرون می‌آوریم. با کدام احتمال مجموع شماره‌های این دو مهره عدد فرد است؟

$$\frac{1}{4} \quad (1) \quad \frac{1}{5} \quad (2) \quad \frac{1}{6} \quad (3) \quad \frac{1}{7} \quad (4)$$

۲۹۸- از میان ۷ گوی با شماره‌های ۱ تا ۷، سه گوی با هم خارج می‌کنیم. اگر A پیشامد زوج بودن مجموع شماره‌های انتخابی بوده و در پیشامد B بزرگ‌ترین عدد انتخابی ۵ باشد، احتمال کدام بیشتر است؟

$$A' \quad (1) \quad B' \quad (2) \quad A \quad (3) \quad B \quad (4)$$

۲۹۹- در کیسه‌ای ۵ مهره با شماره‌های ۱ تا ۵ وجود دارد. این مهره‌ها را به طور تصادفی، بی‌درپی و بدون جای‌گذاری خارج می‌کنیم. با کدام احتمال دو مهره با شماره فرد به صورت متوالی خارج نمی‌شوند؟

$$\frac{1}{11} \quad (1) \quad \frac{1}{15} \quad (2) \quad \frac{2}{25} \quad (3) \quad \frac{1}{2} \quad (4)$$

۳۰۰- با ارقام ۱، ۲، ۳، ۴، ۵ و ۶ به تصادف عددی شش‌رقمی و بدون تکرار ارقام می‌نویسیم. احتمال آن که هیچ دو رقم زوج و هیچ دو رقم فردی کنار یکدیگر قرار نگیرند، کدام است؟

$$\frac{1}{4} \quad (1) \quad \frac{1}{5} \quad (2) \quad \frac{1}{10} \quad (3) \quad \frac{1}{20} \quad (4)$$

۳۰۱- هر یک از اعداد ۱، ۲، ۳، ۴، ۵ و ۶، بر روی شش گوی یکسان نوشته شده است. به طور تصادف، متوالی هم یک گوی از جعبه خارج می‌کنیم. با کدام احتمال اعداد فرد یا زوج یک در میان خارج می‌شوند؟

(سراسری ۹۴)

$$\frac{1}{11} \quad (1) \quad \frac{1}{12} \quad (2) \quad \frac{1}{15} \quad (3) \quad \frac{1}{2} \quad (4)$$

۳۰۲- چهار مهره سفید با شماره‌های ۱ تا ۴ و هم‌چنین چهار مهره سیاه با شماره‌های ۱ تا ۴ را در ظرفی قرار می‌دهیم. به تصادف دو مهره از بین آن‌ها بیرون می‌آوریم. با چه احتمالی مجموع شماره‌های دو مهره ۴ می‌شود؟

$$\frac{3}{28} \quad (1) \quad \frac{5}{28} \quad (2) \quad \frac{3}{14} \quad (3) \quad \frac{5}{14} \quad (4)$$

۳۰۳- شش گوی آبی با شماره‌های ۱ تا ۶ و چهار گوی قرمز با شماره‌های ۱ تا ۴ داریم. دو گوی از بین آن‌ها بیرون می‌آوریم. با کدام احتمال مجموع شماره‌های این دو گوی ۸ است؟

$$\frac{1}{45} \quad (1) \quad \frac{1}{9} \quad (2) \quad \frac{1}{5} \quad (3) \quad \frac{1}{15} \quad (4)$$

۳۰۴- در کیسه‌ای پنج مهره آبی با شماره‌های ۱ تا ۵ و پنج مهره قرمز با شماره‌های ۱ تا ۵ ریخته شده است. اگر دو مهره به تصادف انتخاب کنیم، با چه احتمالی اعداد این دو مهره متوالی‌اند؟

$$\frac{16}{45} \text{ (۱)} \quad \frac{1}{45} \text{ (۲)} \quad \frac{1}{50} \text{ (۳)} \quad \frac{6}{50} \text{ (۴)}$$

احتمال به کمک آنالیز ترکیبی

۳۰۵- با کدام احتمال رقم طبیعی سمت راست پلاک اتومبیلی که از بزرگراه خارج می‌شود، از ۴ بیشتر نیست یا مضرب ۳ می‌باشد؟

$$\frac{4}{9} \text{ (۱)} \quad \frac{1}{2} \text{ (۲)} \quad \frac{2}{3} \text{ (۳)} \quad \frac{5}{9} \text{ (۴)}$$

۳۰۶- اگر با ارقام ۰، ۱، ۲، ۳، ۴، ۵، ۶، ۷، ۸، ۹ یک عدد چهاررقمی بسازیم، چه قدر احتمال دارد این عدد زوج باشد؟

$$\frac{1}{2} \text{ (۱)} \quad \frac{1}{4} \text{ (۲)} \quad \frac{3}{4} \text{ (۳)} \quad 1 \text{ (۴)}$$

۳۰۷- چهار رقم ۰، ۱، ۲، ۳ را به تصادف در کنار هم قرار می‌دهیم تا عددی چهاررقمی حاصل شود. با کدام احتمال، یک عدد چهاررقمی مضرب ۶ حاصل می‌شود؟

$$\frac{1}{3} \text{ (۱)} \quad \frac{5}{12} \text{ (۲)} \quad \frac{4}{9} \text{ (۳)} \quad \frac{5}{9} \text{ (۴)}$$

۳۰۸- یک عدد دورقمی به تصادف اختیار می‌کنیم. با کدام احتمال مضرب ۲ است، اما مضرب ۳ نیست؟

$$\frac{1}{6} \text{ (۱)} \quad \frac{1}{3} \text{ (۲)} \quad \frac{1}{2} \text{ (۳)} \quad \frac{2}{3} \text{ (۴)}$$

۳۰۹- با ارقام ۰، ۱، ۲، ۳، ۴، ۵، ۶، ۷، ۸، ۹ یک عدد سه‌رقمی نوشته‌ایم. احتمال این‌که عدد بزرگ‌تر یا مساوی ۳۰۰ و زوج باشد، چه قدر است؟

$$\frac{3}{10} \text{ (۱)} \quad \frac{1}{2} \text{ (۲)} \quad \frac{8}{25} \text{ (۳)} \quad \frac{56}{180} \text{ (۴)}$$

۳۱۰- از بین اعداد سه‌رقمی، یک عدد به دلخواه انتخاب می‌کنیم. احتمال این‌که این عدد دارای رقم تکراری باشد، کدام است؟

$$\frac{0}{24} \text{ (۱)} \quad \frac{0}{28} \text{ (۲)} \quad \frac{0}{32} \text{ (۳)} \quad \frac{0}{36} \text{ (۴)}$$

۳۱۱- با ارقام ۰، ۱، ۲، ۳، ۴، ۵، ۶، ۷، ۸، ۹ یک عدد پنج‌رقمی بدون تکرار ارقام می‌نویسیم. به کدام احتمال دو رقم زوج، کنار هم نمی‌باشند؟

$$\frac{1}{10} \text{ (۱)} \quad \frac{1}{5} \text{ (۲)} \quad \frac{3}{5} \text{ (۳)} \quad \frac{2}{5} \text{ (۴)}$$

۳۱۲- اگر یک عدد سه‌رقمی با کنار هم قرار گرفتن ارقام متمایز ۰، ۱، ۲، ۳، ۴، ۵ و ۶ وجود آید، احتمال این‌که این عدد زوج باشد، کدام است؟

$$\frac{3}{8} \text{ (۱)} \quad \frac{1}{2} \text{ (۲)} \quad \frac{3}{5} \text{ (۳)} \quad \frac{5}{8} \text{ (۴)}$$

۳۱۳- با ارقام ۱، ۲، ۳، ۴، ۵، ۶ سه‌رقمی می‌سازیم. کدام اتفاق محتمل‌تر است؟ (یعنی شانس بیشتری دارد.)

(۱) عدد سه‌رقمی زوج باشد. (۲) عدد سه‌رقمی شامل ۳ باشد.

(۳) ترتیب ارقامش یکان < صدگان < دهگان باشد. (۴) رقم تکراری داشته باشد.

۳۱۴- دو عدد به تصادف و با جای‌گذاری از بین اعداد ۰، ۱، ۲، ۳، ۴، ۵، ۶، ۷، ۸، ۹ انتخاب می‌کنیم. احتمال آن‌که هر دو عدد فرد و جمعشان ۸ باشد، کدام است؟

$$\frac{1}{36} \text{ (۱)} \quad \frac{1}{30} \text{ (۲)} \quad \frac{1}{18} \text{ (۳)} \quad \frac{1}{15} \text{ (۴)}$$

۳۱۵- سه عدد متمایز از مجموعه $\{1, 2, 3, \dots, 9\}$ به طور تصادفی انتخاب می‌کنیم. احتمال این‌که حاصل ضرب این سه عدد برابر با ۱۸ شود، کدام است؟

$$\frac{1}{42} \text{ (۱)} \quad \frac{1}{252} \text{ (۲)} \quad \frac{1}{21} \text{ (۳)} \quad \frac{1}{126} \text{ (۴)}$$

۳۱۶- احتمال این‌که روز تولد سه نفر در روزهای مختلف هفته باشد، کدام است؟

$$\frac{24}{35} \text{ (۱)} \quad \frac{23}{35} \text{ (۲)} \quad \frac{30}{49} \text{ (۳)} \quad \frac{21}{49} \text{ (۴)}$$

۳۱۷- از بین اعداد طبیعی سه‌رقمی، به تصادف یک عدد برداشته‌ایم. با کدام احتمال، لااقل یک بار رقم ۲ در این عدد ظاهر شده است؟

$$\frac{0}{24} \text{ (۱)} \quad \frac{0}{25} \text{ (۲)} \quad \frac{0}{26} \text{ (۳)} \quad \frac{0}{28} \text{ (۴)}$$

۳۱۸- افراد a, b, c, d, e و f می‌خواهند دور یک میز بایستند. با چه احتمالی بین a و b دقیقاً یک نفر وجود دارد؟

$$\frac{1}{5} \text{ (۱)} \quad \frac{2}{5} \text{ (۲)} \quad \frac{1}{10} \text{ (۳)} \quad \frac{1}{6} \text{ (۴)}$$

۳۱۹- ۶ مهندس و ۳ دکتر در یک سمینار سخنرانی می‌کنند. احتمال این‌که دکترها یکی در میان سخنرانی کنند، کدام است؟

$$\frac{5}{84} \text{ (۱)} \quad \frac{7}{84} \text{ (۲)} \quad \frac{15}{84} \text{ (۳)} \quad \frac{11}{84} \text{ (۴)}$$

۳۲۰- از بین جایگشت‌های سه حرفی کلمه Sabz یکی را انتخاب می‌کنیم. احتمال این‌که در کلمه منتخب، عبارت ab وجود داشته باشد، کدام است؟

$$\frac{1}{6} \text{ (۱)} \quad \frac{1}{3} \text{ (۲)} \quad \frac{1}{2} \text{ (۳)} \quad \frac{1}{8} \text{ (۴)}$$

۳۲۱- ۴ معلم و ۶ دانش آموز در یک صف به طور تصادفی می ایستند. احتمال این که هیچ دو معلمی در کنار یکدیگر نباشند، کدام است؟

(۱) $\frac{1}{6}$ (۲) $\frac{5}{21}$ (۳) $\frac{4}{21}$ (۴) $\frac{1}{12}$

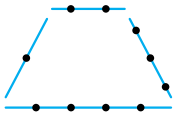
۳۲۲- حروف کلمه **Bagheri** را به تصادف مرتب کرده ایم. احتمال این که حروف صدادار در مکان های زوج قرار بگیرند، چه قدر است؟

(۱) $\frac{1}{20}$ (۲) $\frac{1}{35}$ (۳) $\frac{2}{35}$ (۴) $\frac{1}{36}$

۳۲۳- هفت نفر که **a**، **b** و **c** عضو آن ها هستند، می خواهند سوار هواپیما شوند. احتمال آن که **a** قبل از **b** و **b** نیز قبل از **c** وارد هواپیما شوند، کدام است؟

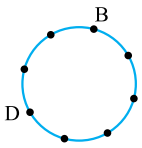
(۱) $\frac{1}{7}$ (۲) $\frac{2}{7}$ (۳) $\frac{1}{3}$ (۴) $\frac{1}{6}$

۳۲۴- از میان ۱۰ نقطه مقابل، ۴ نقطه به تصادف انتخاب می کنیم. احتمال این که با ۴ نقطه انتخاب شده بتوان یک چهارضلعی ساخت که روی هر خط فقط یک رأس چهارضلعی قرار داشته باشد، کدام است؟



(۱) $\frac{1}{35}$ (۲) $\frac{2}{35}$ (۳) $\frac{3}{35}$ (۴) $\frac{4}{35}$

۳۲۵- از میان ۸ نقطه شکل مقابل، ۴ نقطه انتخاب می کنیم. با چه احتمالی قطر این چهارضلعی خواهد بود؟



(۱) $\frac{8}{15}$ (۲) $\frac{2}{35}$

(۳) $\frac{4}{35}$

۳۲۶- روی یک در، دو قفل مختلف وجود دارد و کلیدهای دو قفل در بین ۶ کلیدی است که در حال حاضر یکی از آن ها را گم کرده ایم. احتمال آن که هنوز هم بتوانید در را باز کنید، چه قدر است؟

(۱) $\frac{2}{5}$ (۲) $\frac{1}{3}$ (۳) $\frac{2}{3}$ (۴) $\frac{5}{6}$

۳۲۷- از بین ۵ جفت کفش، ۲ لنگه به تصادف انتخاب می کنیم. احتمال این که دو لنگه جفت هم باشند، کدام است؟

(۱) $\frac{1}{9}$ (۲) $\frac{1}{10}$ (۳) $\frac{1}{11}$ (۴) $\frac{1}{20}$

۳۲۸- از بین ۵ جفت کفش، ۴ لنگه به تصادف انتخاب می کنیم. احتمال این که هیچ جفت کفشی انتخاب نشده باشد، کدام است؟

(۱) $\frac{1}{2}$ (۲) $\frac{8}{21}$ (۳) $\frac{9}{21}$ (۴) $\frac{10}{21}$

۳۲۹- از مجموعه $A = \{1, 2, 3, \dots, 9\}$ یک زیرمجموعه به تصادف انتخاب می کنیم. با چه احتمالی این زیرمجموعه ۵ عضوی و شامل عدد ۳ است؟

(۱) $\frac{35}{256}$ (۲) $\frac{25}{512}$ (۳) $\frac{63}{256}$ (۴) $\frac{63}{512}$

۳۳۰- حروف کلمه **ATAXIA** را بریده و به طور تصادفی کنار هم قرار می دهیم. با کدام احتمال هر سه حرف **A** کنار هم قرار می گیرند؟

(۱) $\frac{1}{6}$ (۲) $\frac{1}{5}$ (۳) $\frac{1}{4}$ (۴) $\frac{1}{3}$

۳۳۱- در بین تمام کلمات ۸ حرفی با حروف کلمه **football** با چه احتمالی حروف مشابه مجاور هستند؟

(۱) $\frac{1}{10}$ (۲) $\frac{1}{14}$ (۳) $\frac{1}{8}$ (۴) $\frac{1}{12}$

۳۳۲- ۴ مهره سبز و ۲ مهره زرد را به تصادف کنار هم قرار می دهیم. احتمال آن که مهره اول و آخر زرد باشند، کدام است؟

(۱) $\frac{1}{5}$ (۲) $\frac{1}{10}$ (۳) $\frac{1}{15}$ (۴) $\frac{1}{20}$

۳۳۳- فرض کنید یک حرف از کلمه **RESERVE** و یک حرف از کلمه **VERTICAL** را به تصادف انتخاب کنیم. احتمال این که حرف انتخاب شده از دو کلمه یکسان باشند، چه قدر است؟

(۱) $\frac{6}{56}$ (۲) $\frac{7}{56}$ (۳) $\frac{1}{56}$ (۴) $\frac{5}{56}$

۳۳۴- هر کدام از ارقام عدد ۱۱۱۳۴ را روی یک کارت نوشته و ۵ کارت حاصل را درون کیسه ای می اندازیم. از این کیسه سه کارت به تصادف خارج می کنیم و در یک ردیف کنار هم می چینیم. احتمال این که عدد حاصل فقط دو رقم تکراری داشته باشد، کدام است؟

(۱) $\frac{3}{10}$ (۲) $\frac{1}{4}$ (۳) $\frac{6}{13}$ (۴) $\frac{3}{5}$

۳۳۵- هر یک از اعداد ۱ تا ۲۱ را روی یک کارت می نویسیم و در یک کیسه قرار می دهیم. سپس دو کارت به تصادف و به ترتیب از کیسه خارج کرده و کنار یکدیگر قرار می دهیم تا عدد جدیدی حاصل شود. اعداد تشکیل شده از همه حالت های ممکن را در مجموعه **A** قرار می دهیم. یک عدد از مجموعه **A** انتخاب می کنیم. احتمال این که عدد انتخابی بر ۶ بخش پذیر باشد، کدام است؟

(سراسری ۱۴۰۰)

(۱) $\frac{13}{84}$ (۲) $\frac{65}{417}$ (۳) $\frac{11}{70}$ (۴) $\frac{67}{417}$

۳۳۶- روی هر کارت یکی از اعداد ۱ تا ۱۲ را نوشته و سپس در یک کیسه قرار می‌دهیم. سپس به دلخواه یک کارت از کیسه بیرون می‌آوریم. اگر عدد زوج باشد، یک عدد دیگر از کیسه بیرون می‌آوریم و در سمت راست عدد اول قرار می‌دهیم. اگر عدد فرد باشد یک تاس پرتاب کرده و عدد روشده را در سمت راست عدد اول قرار می‌دهیم، سپس از اعداد ساخته‌شده، در همهٔ حالت‌های ممکن، مجموعهٔ A را تشکیل می‌دهیم. یک عدد از مجموعهٔ A انتخاب می‌کنیم. با کدام احتمال، عدد انتخابی بر ۴ بخش‌پذیر است؟

(خارج ۱۴۰۰)

$$\frac{2}{9} \text{ (۴)} \quad \frac{9}{40} \text{ (۳)} \quad \frac{1}{4} \text{ (۲)} \quad \frac{9}{34} \text{ (۱)}$$

۳۳۷- اگر ۳ آمریکایی، ۴ ایتالیایی و ۳ مکزیکی دور میز گردی به تصادف بنشینند، احتمال این که افراد هم‌وطن پهلوی هم قرار گیرند، کدام است؟

$$\frac{1}{300} \text{ (۴)} \quad \frac{1}{420} \text{ (۳)} \quad \frac{1}{210} \text{ (۲)} \quad \frac{1}{105} \text{ (۱)}$$

۳۳۸- رئیس، منشی و چهار کارمند دور میز گرد می‌نشینند. با کدام احتمال منشی مقابل رئیس قرار می‌گیرد؟

$$\frac{1}{6} \text{ (۴)} \quad \frac{1}{5} \text{ (۳)} \quad \frac{1}{4} \text{ (۲)} \quad \frac{1}{3} \text{ (۱)}$$

۳۳۹- یک رئیس، یک معاون و ۶ کارمند می‌خواهند دور یک میز بنشینند. احتمال این که بین رئیس و معاون دقیقاً یک صندلی فاصله باشد، کدام است؟

$$\frac{3}{8} \text{ (۴)} \quad \frac{1}{2} \text{ (۳)} \quad \frac{3}{7} \text{ (۲)} \quad \frac{2}{7} \text{ (۱)}$$

۲۵۶. گزینه ۲ | $n(S) = 6$ است و عدد زوج یا بزرگتر از ۳ می‌خواهیم:

$$A = \{\underbrace{2, 4, 6}_{\text{زوج}}, \underbrace{4, 5, 6}_{\text{بزرگتر از ۳}}\} = \{2, 4, 5, 6\} \Rightarrow n(A) = 4$$

$$P(A) = \frac{n(A)}{n(S)} = \frac{4}{6} = \frac{2}{3} \quad \text{بنابراین:}$$

۲۵۷. گزینه ۲ | تعداد کل حالات $6 \times 6 = 36$ است. برای این که

«حداقل یکی از اعداد روشده مضرب ۳ نباشد» از شمارش مکمل می‌رویم:

$$n(A) = \text{تعداد کل} - \left(\begin{array}{l} \text{هر دو تاس ۳ یا ۶} \\ \text{(هر تاس ۲ حالت)} \end{array} \right) = 36 - \left(\begin{array}{l} \text{هر دو عدد} \\ \text{(مضرب ۳ باشند)} \end{array} \right)$$

$$= 36 - 2 \times 2 = 36 - 4 = 32$$

$$P(A) = \frac{n(A)}{n(S)} = \frac{32}{36} = \frac{8}{9} \quad \text{پس داریم:}$$

۲۵۸. گزینه ۱ | دو تاس با هم $6 \times 6 = 36$ حالت دارند. در ۴ حالت

$$A = \{(1, 4), (4, 1), (2, 3), (3, 2)\} \quad \text{مجموع ارقام ۵ است:}$$

$$P(A) = \frac{4}{36} = \frac{1}{9} \quad \text{پس داریم:}$$

تذکر | باز هم تکرار می‌کنیم که تاس‌ها همیشه متمایزند و

(۱, ۴) با (۴, ۱) فرق دارد و باید هر دو را بنویسید.

۲۵۹. گزینه ۴ | دو تاس کلاً ۳۶ حالت دارند:

مجموع‌های کم‌تر از ۷ عبارت‌اند از: ۲, ۳, ۴, ۵, ۶

مجموع ۲، یک حالت دارد: (۱, ۱)

مجموع ۳، دو حالت دارد: (۱, ۲), (۲, ۱)

مجموع ۴، سه حالت دارد: (۱, ۳), (۲, ۲), (۳, ۱)

پس پرتاب یازدهم به هر ترتیب ۳ حالت مختلف دارد و پرتاب‌های اول تا دهم هر کدام ۶ حالت دارند، لذا داریم:

$$P(A) = \frac{n(A)}{n(S)} = \frac{3 \times 6^{10}}{6^{11}} = \frac{1}{2}$$

۲۶۷. گزینه ۴ اگر هر سه تاس ۶ بیایند مجموع می‌شود ۱۸، برای مجموع ۱۷ باید یکی از تاس‌ها ۵ شود یعنی ۵، ۶، ۶ یا ۶، ۵، ۶ یا ۶، ۶، ۵، پس

$P(A) = \frac{3}{216} = \frac{1}{72}$ و $n(S) = 216$ و $n(A) = 3$ بنابراین: سه تاس کلاً $6^3 = 216$ حالت دارند. یک بار حالت‌های مجموع ۳ تاس را ببینید:

مجموع	۳	۴	۵	۶	۷	۸	۹	۱۰
یا	یا	یا	یا	یا	یا	یا	یا	یا
احتمال	$\frac{1}{216}$	$\frac{3}{216}$	$\frac{6}{216}$	$\frac{10}{216}$	$\frac{15}{216}$	$\frac{21}{216}$	$\frac{25}{216}$	$\frac{27}{216}$

پس احتمال مجموع ۱۰ یا ۱۱ از همه بیشتر است. و احتمال این‌که مجموع X باشد با احتمال مجموع X-۲۱ برابر است.

۲۶۸. گزینه ۲ حالت‌های مجموع ۶ عبارتند از:

۴، ۱، ۱ یا ۳، ۲، ۱ یا ۲، ۲، ۲

البته هر کدام از این‌ها جابه‌جایی هم دارند. برای ۴، ۱، ۱ سه حالت و برای ۳، ۲، ۱ شش حالت داریم. ۲، ۲، ۲ هم جابه‌جایی ندارد و فقط یک حالت است. پس روی هم $10 = 1 + 3 + 6$ حالت وجود دارد. کل حالت‌ها هم $6^3 = 216$ بود. بنابراین:

$$P(A) = \frac{n(A)}{n(S)} = \frac{10}{216} = \frac{5}{108}$$

تذکر ۳۱ جایگشت با تکرار که یادتان هست:

$$3, 2, 1 \Rightarrow 3! = 6 \quad 4, 1, 1 \Rightarrow \frac{3!}{2!} = 3$$

$$2, 2, 2 \Rightarrow \frac{3!}{3!} = 1$$

۲۶۹. گزینه ۴ کلاً $6 \times 6 \times 6$ حالت داریم. حالت‌های اعداد متوالی عبارتند از ۳۴۵، ۴۵۶، ۲۳۴ و ۱۲۳ که هر کدام $3! = 6$ حالت دارند. پس

$$P(A) = \frac{4 \times 6}{6 \times 6 \times 6} = \frac{1}{9} \quad n(A) = 4 \times 6 = 24 \quad \text{و داریم:}$$

۲۷۰. گزینه ۴ مجموع‌های ۱۵ در حالت‌های (۵، ۵، ۵)، (۶، ۶، ۳)، (۶، ۵، ۴) تولید می‌شوند. اولی $\frac{3!}{3!}$ ، دومی $3!$ و سومی $\frac{3!}{2!}$ حالت دارند. پس روی هم

$n(A) = 1 + 6 + 3 = 10$ است برای حداقل یک تاس فرد هم کل حالت‌های سه تاس را منهای حالت‌های «هر سه زوج» کنیم:

$$n(B) = (6 \times 6 \times 6) - (3 \times 3 \times 3) = 216 - 27 = 189$$

هر سه زوج

به اشتراک این‌ها هم نیاز داریم. دقت کنید که تمام حالت‌های مجموع ۱۵، حداقل یک رقم فرد دارند؛ پس $A \subseteq B$ است و قسمت مشترک می‌شود خود A. پس احتمال اجتماع A و B یعنی احتمال B که برابر است با:

$$P(A \cup B) = P(B) = \frac{189}{216} = \frac{21}{24} = \frac{7}{8}$$

۲۷۱. گزینه ۴ سه تاس کلاً 6^3 حالت دارند. فقط ۲ تاس از ۳ تاس مساوی باشند، یعنی به شکل XXY باشد. XX شش حالت دارد؛ Y پنج حالت دارد و کنار هم قرارگرفتن آن‌ها $\frac{3!}{2!}$ حالت دارد، پس $n(A) = 6 \times 5 \times 3$ و داریم:

$$P(A) = \frac{6 \times 5 \times 3}{6 \times 6 \times 6} = \frac{5}{12}$$

مجموع ۵، چهار حالت دارد: $(1, 4), (4, 1), (2, 3), (3, 2)$
مجموع ۶ نیز ۵ حالت دارد: $(1, 5), (5, 1), (3, 3), (2, 4), (4, 2)$
پس روی هم $5 + 2 + 3 + 4 + 5 = 15$ حالت داریم؛ بنابراین:

$$P(A) = \frac{15}{36} = \frac{5}{12}$$

این را هم ببینید:

	۱	۲	۳	۴	۵	۶
تاس اول	✓	✓	✓	✓	✓	✓
مجموع ۲	✓	✓				
مجموع ۳	✓	✓	✓			
مجموع ۴	✓	✓	✓	✓		
مجموع ۵	✓	✓	✓	✓	✓	
مجموع ۶	✓	✓	✓	✓	✓	✓

۲۶۰. گزینه ۲ دو تاس کلاً $6^2 = 36$ حالت داشت. مجموع ۱۱ دو حالت (۶، ۵) و (۵، ۶) دارد. اعداد برابر هم ۶ حالت، (۱، ۱)، (۲، ۲)، ...، (۶، ۶) دارد؛

$$P(A) = \frac{8}{36} = \frac{2}{9}$$

پس روی هم $n(A) = 8$ و داریم:

۲۶۱. گزینه ۱ با توجه به شکل روبه‌رو داریم:

	۱	۲	۳	۴	۵	۶
تاس دوم	۷	۸	۹	۱۰	۱۱	۱۲
۶	۶	۷	۸	۹	۱۰	۱۱
۵	۵	۶	۷	۸	۹	۱۰
۴	۴	۵	۶	۷	۸	۹
۳	۳	۴	۵	۶	۷	۸
۲	۲	۳	۴	۵	۶	۷
۱	۱	۲	۳	۴	۵	۶

$$P(A) = \frac{n(A)}{n(S)} = \frac{15}{36} = \frac{5}{12}$$

۲۶۲. گزینه ۲ مجموع ۷ در حالت‌های ۱، ۶، ۴، ۳، ۵، ۲ رخ می‌دهد $5, 2 \quad 4, 3 \quad 6, 1$

که حالت‌های (۲، ۵) و (۵، ۲) را نمی‌خواهیم. پس تا ۴ از ۳۶ حالت مورد نظر

$$P(A) = \frac{4}{36} = \frac{1}{9}$$

است:

۲۶۳. گزینه ۱ اختلاف ۲ در حالت‌های زیر رخ می‌دهد:

$(3, 1), (4, 2), (5, 3), (6, 4), (1, 3), (2, 4), (3, 5), (4, 6)$

$$P(A) = \frac{8}{36} = \frac{2}{9}$$

پس ۸ حالت از ۳۶ حالت مورد نظر است:

۲۶۴. گزینه ۲ باید تاس اول ۴ یا ۶ یا ۲ و تاس دوم، از آن بیشتر باشد

(بیشتر از ۶ که نداریم)، حالت‌های ممکن عبارتند از:

$(2, 3) \quad (4, 5)$

$$P(A) = \frac{6}{36} = \frac{1}{6}$$

پس $n(A) = 6$ و بنابراین:

۲۶۵. گزینه ۱ تاس A را اول و تاس‌های B را دوم می‌نویسیم. کلاً ۳ تاس

داریم؛ پس $n(S) = 6^3 = 216$. حالت‌های مورد قبول عبارتند از:

$(3, 12), (3, 21)$

$(4, 13), (4, 22), (4, 31)$

$(5, 14), (5, 23), (5, 32), (5, 41)$

$(6, 15), (6, 24), (6, 33), (6, 42), (6, 51)$

$$P(A) = \frac{15}{216}$$

پس روی هم $15 = 1 + 2 + 3 + 4 + 5$ حالت داریم:

۲۶۶. گزینه ۱ راه I به طور کلی همیشه در پرتاب n تاس، احتمال

این‌که مجموع ارقام روشده زوج باشد برابر $\frac{1}{2}$ و احتمال این‌که مجموع ارقام روشده فرد باشد نیز $\frac{1}{2}$ است.

راه II در 10^0 پرتاب اول نتایج هر چه باشند دو حالت کلی وجود دارد:

(۱) مجموع 10^0 پرتاب عدد زوج باشد، در این صورت پرتاب یازدهم باید یکی از اعداد ۲، ۴ و ۶ شود.

(۲) مجموع 10^0 پرتاب عدد فرد باشد، در این صورت پرتاب یازدهم باید یکی از اعداد ۱، ۳ و ۵ شود.

تعداد کل حالت‌ها هم $n(S) = \binom{11}{2} = ۵۵$ است و داریم:

$$P(A) = \frac{n(A)}{n(S)} = \frac{۴۰}{۵۵} = \frac{۸}{۱۱}$$

راه II برای شمردن حالت‌های حداقل یک مهره سفید، تعداد کل حالت‌ها را منهای تعداد حالات هیچ سفید می‌کنیم:

$$n(A) = \text{کل} - (\text{هر دو سیاه}) = \binom{11}{2} - \binom{6}{2} = ۵۵ - ۱۵ = ۴۰$$

$$P(A) = \frac{n(A)}{n(S)} = \frac{۴۰}{۵۵} = \frac{۸}{۱۱}$$

پس داریم:

تعداد کل حالت‌های انتخاب دو تا از ۸ مهره **گزینه ۱** | ۲۸۱

$$n(S) = \binom{۸}{۲} = ۲۸$$

از بین این مهره‌ها n تا سفید و $۸-n$ تا سیاه هستند. پس تعداد حالاتی که دو مهره هم‌رنگ هستند، برابر است با:

$$n(A) = \binom{n}{۲} + \binom{۸-n}{۲} = \frac{n(n-1)}{۲} + \frac{(۸-n)(۷-n)}{۲}$$

$$= \frac{n^2 - n + n^2 - ۱۵n + ۵۶}{۲} = \frac{۲n^2 - ۱۶n + ۵۶}{۲} = n^2 - ۸n + ۲۸$$

حالا واضح است که به ازای $n = ۴$ ، $n(A)$ حداقل می‌شود.

نکته حداقل مقدار تابع $y = ax^2 + bx + c$ به ازای $x = \frac{-b}{2a}$ دست می‌آید.

گزینه ۴ | ۲۸۲
مهره طرف دوم را در نظر بگیرد:
مهره طرف اول سفید نباشد \rightarrow ۱ سفید \rightarrow ۵ سیاه
مهره طرف اول سبز نباشد \rightarrow ۱ سبز \rightarrow ۴ سیاه

$$\frac{۶}{۸} \times \frac{۶}{۱۰} + \frac{۲}{۸} \times \frac{۹}{۱۰} = \frac{۵۴}{۸۰} = \frac{۲۷}{۴۰}$$

پس جواب می‌شود:

گزینه ۴ | ۲۸۳
کیسه به این شکل است:
احتمال خارج شدن مهره سفید برابر است با:

$$P(\text{سفید}) = \frac{n+۵}{n+۵+۵}$$

پس داریم $\frac{n+۵}{n+۱۰} = \frac{۳}{۴}$ که نتیجه می‌شود $n = ۱۰$.

گزینه ۲ | ۲۸۴
یا هر دو باید سفید باشند یا هر دو سیاه:

$$\frac{\binom{۵}{۲}}{\binom{۸}{۲}} \times \frac{\binom{۴}{۲}}{\binom{۶}{۲}} + \frac{\binom{۳}{۲}}{\binom{۸}{۲}} \times \frac{\binom{۲}{۲}}{\binom{۶}{۲}} = \frac{۶۰+۳}{۲۸ \times ۱۵} = \frac{۶۳}{۲۸ \times ۱۵} = \frac{۳}{۲۰} = ۰/۱۵$$

هر دو سفید هر دو سیاه

گزینه ۱ | ۲۸۵
در این ظرف کلاً ۱۰ مهره داریم. پس برای خارج کردن ۳ مهره با جای‌گذاری به تعداد $۱۰ \times ۱۰ \times ۱۰$ حالت داریم. حالا می‌خواهیم از ۳ رنگ مختلف باشند. تعداد حالت‌ها برابر است با: $n(A) = ۵ \times ۳ \times ۲ \times ۱ = ۱۸۰$

ترتیب

$$P(A) = \frac{n(A)}{n(S)} = \frac{۱۸۰}{۱۰ \times ۱۰ \times ۱۰} = ۰/۱۸$$

پس احتمال برابر است با:

گزینه ۴ | ۲۸۶
چون از مهره‌های خارج‌شده حرفی نزنه انگار مهره‌ای خارج نشده، پس سراغ همان دو مهره می‌رویم:

$$n(S) = \binom{۶+۴+۳}{۲} = \binom{۱۳}{۲} = \frac{۱۳(۱۲)}{۲} = ۷۸$$

$$n(A) = \binom{۶}{۲} = \frac{۶(۵)}{۲} = ۱۵$$

دو تا از قرمزها

$$P(A) = \frac{۱۵}{۷۸} = \frac{۵}{۲۶}$$

بنابراین:

گزینه ۴ | ۲۷۲
از رابطه $\frac{\binom{n}{k}}{۲^n}$ استفاده می‌کنیم: $\frac{\binom{۶}{۴}}{۲^۶} = \frac{۱۵}{۶۴}$

گزینه ۳ | ۲۷۳
«یا» یعنی اجتماع، پس باید احتمال ۲ و ۴ رو را حساب کرده و جمع کنیم:

$$\left. \begin{aligned} \frac{n=۵}{k=۲} \rightarrow \frac{\binom{۵}{۲}}{۲^۵} &= \frac{۱۰}{۳۲} \\ \frac{n=۵}{k=۴} \rightarrow \frac{\binom{۵}{۴}}{۲^۵} &= \frac{۵}{۳۲} \end{aligned} \right\} \Rightarrow P(۲ \text{ یا } ۴) = \frac{۱۵}{۳۲}$$

گزینه ۳ | ۲۷۴
حداقل ۲ پسر، یعنی ۲ یا ۳ یا ۴ پسر؛ پس داریم:

$$\frac{\binom{۴}{۲}}{\binom{۴}{۲}} + \frac{\binom{۴}{۳}}{\binom{۴}{۳}} + \frac{\binom{۴}{۴}}{\binom{۴}{۴}} = \frac{۶+۴+۱}{۱۶} = \frac{۱۱}{۱۶}$$

چهار پسر سه پسر دو پسر

گزینه ۲ | ۲۷۵
حداقل ۲ درست، یعنی ۲ یا ۳ یا ۴ یا ۵ یا ۶ درست بزنیم، بهتر است از روش مکمل استفاده کنیم؛ یعنی احتمال صفر درست یا ۱ درست را پیدا کنیم:

$$P(\text{صفر یا ۱ درست}) = \frac{\binom{۶}{۰} + \binom{۶}{۱}}{۲^۶} = \frac{۷}{۶۴}$$

پس احتمال مورد نظر $۱ - \frac{۷}{۶۴}$ ، یعنی $\frac{۵۷}{۶۴}$ است.

گزینه ۴ | ۲۷۶
مهم‌ترین نکته این تست فهمیدن این موضوع است که احتمال

آمدن عدد بزرگ‌تر از ۳ یعنی $\{۴, ۵, ۶\}$ برابر $\frac{۱}{۲}$ است، پس از رابطه $\frac{\binom{n}{k}}{۲^n}$ می‌توانیم استفاده کنیم و داریم:

$$\frac{k=۶}{n=۱۰} \rightarrow P = \frac{\binom{۱۰}{۶}}{۲^{۱۰}} = \frac{۲۱۰}{۱۰۲۴} = \frac{۱۰۵}{۵۱۲}$$

گزینه ۴ | ۲۷۷
باز هم در این تست، مهم این است که احتمال سفید یا

سیاه آمدن، $\frac{۱}{۲}$ است؛ پس باز هم باید از رابطه $\frac{\binom{n}{k}}{۲^n}$ استفاده کنیم:

$$P(\text{۲ بار سفید}) + P(\text{یک بار سیاه یا دو بار سفید})$$

$$= \frac{\binom{۴}{۲}}{۲^۴} + \frac{\binom{۴}{۱}}{۲^۴} = \frac{۶}{۱۶} + \frac{۴}{۱۶} = \frac{۱۰}{۱۶} = \frac{۵}{۸}$$

گزینه ۳ | ۲۷۸
دوتا از ۱۲ مهره برمی‌داریم، پس $n(S) = \binom{۱۲}{۲} = ۶۶$ می‌خواهیم دو مهره هم‌رنگ نباشند پس یکی سفید و یکی سیاه است:

$$n(A) = \binom{۵}{۱} \binom{۷}{۱} = ۵ \times ۷ = ۳۵$$

$$P(A) = \frac{n(A)}{n(S)} = \frac{۳۵}{۶۶}$$

بنابراین:

گزینه ۲ | ۲۷۹
دوتا از ۱۰ مهره برمی‌داریم، پس $n(S) = \binom{۱۰}{۲} = ۴۵$

$$\binom{۵}{۲} + \binom{۵}{۲} = ۲۰$$

تعداد حالت‌هایی که هم‌رنگ باشند، برابر است با:

$$P(A) = \frac{n(A)}{n(S)} = \frac{۲۰}{۴۵} = \frac{۴}{۹}$$

بنابراین:

گزینه ۲ | ۲۸۰
حداقل یک مهره سفید یعنی ۱ یا ۲ تا مهره سفید برداریم:

$$n(A) = \binom{۵}{۱} \binom{۶}{۱} + \binom{۵}{۲} = ۵ \times ۶ + ۱۰ = ۴۰$$

پس $n(A) = 5$ و داریم: $P(A) = \frac{n(A)}{n(S)} = \frac{5}{15} = \frac{1}{3}$

۲۹۴ | گزینه ۱ | $n(S) = \binom{10}{3} = 120$ انتخاب‌های ۳ تا از ۱۰ مهره

$n(A) = 8$ (تعداد حالت‌هایی که سه شماره پشت سر هم هستند)
 $A = \{123, 234, 345, 456, 567, 678, 789, 8910\}$ ببینید:

پس: $P(A) = \frac{8}{120} = \frac{1}{15}$

۲۹۵ | گزینه ۲ | دوتا از ۶ مهره برمی‌داریم؛ پس $n(S) = \binom{6}{2} = 15$

حالت‌هایی که مجموع مضرب ۳ باشد، یعنی حالاتی که مجموع ۶ یا ۹ یا ۳ باشد عبارت‌اند از: $\{1, 2\}, \{1, 5\}, \{2, 4\}, \{3, 6\}, \{4, 5\}$

پس $n(A) = 5$ و داریم: $P(A) = \frac{n(A)}{n(S)} = \frac{5}{15} = \frac{1}{3}$

۲۹۶ | گزینه ۳ | مجموع دو کارت زمانی زوج است که هر دو زوج یا هر دو فرد باشند:

$n(A) = \binom{3}{2} + \binom{3}{2} = 6$
 دوتا از ۱، ۳ و ۵ یا دوتا از ۲، ۴ و ۶

پس داریم: $P(A) = \frac{6}{15} = \frac{2}{5}$

۲۹۷ | گزینه ۳ | باید یک زوج و یک فرد انتخاب شود:

$n(A) = \binom{3}{1} \times \binom{2}{1} = 3 \times 2 = 6$
 یکی از زوج‌ها و یکی از فردها

کل حالت‌ها هم انتخاب ۲ تا از ۵ مهره است: $n(S) = \binom{5}{2} = 10$

پس: $P(A) = \frac{6}{10} = \frac{3}{5}$

۲۹۸ | گزینه ۱ | چون با مکمل‌ها سروکار داریم، تعداد اعضای S را هم می‌نویسیم:

$n(S) = \binom{7}{3} = \frac{7 \times 6 \times 5}{3 \times 2 \times 1} = 35$ تعداد انتخاب‌های ۳ گوی از ۷ گوی

برای پیشامد A می‌گوییم مجموع سه عدد وقتی زوج است که هر سه زوج یا دو فرد و یک زوج انتخاب شوند. پس: تعداد انتخاب‌های ۳ گوی با مجموع زوج:

$n(A) = \binom{3}{3} + \binom{4}{2} \times \binom{3}{1} = 1 + 6 \times 3 = 19$

بنابراین: $n(A') = n(S) - n(A) \Rightarrow n(A') = 35 - 19 = 16$
 در مورد پیشامد B ، وقتی بزرگ‌ترین عدد انتخابی ۵ است، حتماً گوی شماره ۵ را انتخاب کرده‌ایم و دوتا از بین ۱، ۲، ۳، ۴ نیز برداشته‌ایم. پس:

$n(B) = \binom{4}{2} = 6$

و در نتیجه: $n(B') = 35 - 6 = 29$

خب تعداد اعضای B' از همه بیشتر است؛ پس احتمال این پیشامد بزرگ‌تر از بقیه است.

۲۹۹ | گزینه ۱ | ۵ مهره بی‌درپی! ۵ حالت دارند: $n(S) = 5! = 120$

حالا ما می‌خواهیم دو مهره فرد متوالی نباشند، پس زوج‌ها در بین آن‌ها قرار می‌گیرند:

یعنی زوج‌ها و فردها یک در میان هستند: $n(A) = 3! \cdot 2! = 12$

بنابراین: $P(A) = \frac{n(A)}{n(S)} = \frac{12}{120} = \frac{1}{10}$

نکته اگر n شیء و $(n-1)$ شیء را یک در میان بچینیم تعداد حالت‌ها $n!(n-1)!$ است.

۲۸۷ | گزینه ۲ | راه I | تعداد کل حالات $\binom{20}{2} = 190$ است.

حالت‌های مورد نظر انتخاب از یک ردیف است:

$n(A) = \binom{5}{1} \times \binom{4}{2} = 5 \times 6 = 30$
 کدام افراد کدام ردیف

پس داریم: $P(A) = \frac{30}{190} = \frac{3}{19}$

راه II | به نفر اول انتخابی کاری نداریم، اما نفر دوم باید هم‌ردیف او باشد. به جز خودش ۳ تا هم‌ردیف دارد و ۱۹ نفر دیگر در کلاس‌اند. پس احتمال

هم‌ردیف‌بودن دو نفر $\frac{3}{19}$ است.

۲۸۸ | گزینه ۲ | تعداد کل حالت‌ها انتخاب ۴ تا از ۹ نفر $3 + 3 + 2 + 1 = 9$

است: $n(S) = \binom{9}{4} = \frac{9 \times 8 \times 7 \times 6}{4 \times 3 \times 2} = 126$

حالت‌های مورد نظر، انتخاب یکی از هر گروه است:

$n(A) = \binom{3}{1} \binom{3}{1} \binom{2}{1} \binom{1}{1} = 3 \times 3 \times 2 \times 1 = 18$

پس: $P(A) = \frac{18}{126} = \frac{1}{7}$

۲۸۹ | گزینه ۳ |

$n(S) = \binom{3}{1} \binom{4}{1} + \binom{3}{2} = 12 + 3 = 15$
 حداقل یکی از بین ۳ تا دو تا ماهر یکی ماهر آزمایش شده باشد

$n(S) = \binom{7}{2} = 21$ (تعداد انتخاب‌های دوتا از ۷ موش)

پس: $P(A) = \frac{15}{21} = \frac{5}{7}$

۲۹۰ | گزینه ۳ |

$n(S) = \binom{10}{4} = \frac{10 \times 9 \times 8 \times 7}{4 \times 3 \times 2} = 210$ تعداد کل انتخاب‌های ۴ تا از ۱۰ نفر

$n(A) = \binom{2}{2} + \binom{2}{1} \binom{2}{1} = 1 + 2 \times 2 = 5$ (تعداد حالت‌های ۲ ریاضی و ۲ تجربی متفاوت)

$n(A) = \binom{10}{4} - \binom{6}{2} \binom{4}{2} = 210 - 15 \times 6 = 120$

پس داریم: $P(A) = \frac{120}{210} = \frac{4}{7}$

۲۹۱ | گزینه ۴ | ۴ مهره از ظرف بیرون آورده‌ایم. پس: $n(S) = \binom{6}{4} = 15$

می‌خواهیم یکی از این ۴ مهره، شماره ۳ باشد. پس ۳ تا از دیگر از بین ۱، ۲، ۴، ۵ و ۶ هستند.

$n(A) = \binom{5}{3} = 10$

و داریم: $P(A) = \frac{10}{15} = \frac{2}{3}$

۲۹۲ | گزینه ۱ | کلاً $\binom{10}{6} = 210$ حالت داریم. اگر ۶ و ۷ انتخاب شده باشند،

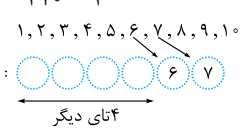
۴ تا کارت دیگر هم از بین سایر کارت‌ها لازم است. پس: $n(A) = \binom{8}{4} = 70$

بنابراین: $P(A) = \frac{70}{210} = \frac{1}{3}$

این را هم ببینید:

۲۹۳ | گزینه ۱ | تعداد کل حالت‌ها $n(S) = \binom{6}{2} = 15$ است. حالت‌هایی

که دو شماره متوالی باشند $\{1, 2\}, \{2, 3\}, \{3, 4\}, \{4, 5\}, \{5, 6\}$ است.



$$\left\{ \begin{array}{l} \frac{2}{3} \times \frac{1}{2} \times \frac{1}{3} = \frac{1}{6} \\ \frac{1}{3} \times \frac{1}{2} \times \frac{2}{3} = \frac{1}{6} \\ \frac{2}{3} \times \frac{2}{3} \times \frac{1}{3} = \frac{4}{27} \\ \frac{1}{3} \times \frac{2}{3} \times \frac{2}{3} = \frac{4}{27} \end{array} \right. \rightarrow n(A) = 4 + 6 = 10$$

پس داریم:

$$P(A) = \frac{n(A)}{n(S)} = \frac{10}{18} = \frac{5}{9}$$

۳۰۸. گزینه ۲ تعداد کل اعداد دورقمی ۹۰ تا است. تعداد آن‌هایی که مضرب ۲ هستند و مضرب ۳ نیستند، برابر است با:

$$|A - B| = |A| - |A \cap B| = \left[\frac{90}{2} \right] - \left[\frac{90}{6} \right] = 45 - 15 = 30$$

پس احتمال برابر است با:

$$P(A) = \frac{30}{90} = \frac{1}{3}$$

۳۰۹. گزینه ۱ تعداد کل این اعداد سه‌رقمی برابر $5 \times 6 \times 6 = 180$ است. می‌خواهیم رقم صدگان ۳ یا ۴ یا ۵ یا ۶ یا ۷ باشد.

پس داریم:

$$n(A) = \frac{3}{5} \times \frac{6}{6} \times \frac{6}{6} = 54$$

و احتمال برابر است با:

$$P(A) = \frac{54}{180} = \frac{3}{10}$$

۳۱۰. گزینه ۲ تعداد کل اعداد سه‌رقمی $999 - 99 = 900$ تا است. تعداد اعداد سه‌رقمی که هیچ رقم تکراری ندارند، برابر است با:

$$\frac{9}{9} \times \frac{8}{9} \times \frac{7}{9} = 648$$

پس $900 - 648 = 252$ عدد سه‌رقمی حتماً رقم تکراری دارند.

بنابراین:

$$P(A) = \frac{252}{900} = \frac{7}{25}$$

۳۱۱. گزینه ۳ | راه ۱ کل حالت‌ها! ۵! است. تعداد حالت‌هایی که دو رقم زوج کنار هم باشند را هم می‌شماریم:

پس حالت‌های مورد نظر $4! \times 2! - 4! = 24 - 24 = 0$ تا هستند و داریم:

$$P(A) = \frac{5! - 4! \times 2!}{5!} = \frac{120 - 48}{120} = \frac{72}{120} = \frac{3}{5}$$

راه ۲ رقم ۴ را جدا می‌کنیم و بقیه ارقام را می‌نویسیم:

حالا برای رقم ۴، پنج‌تا جایگاه داریم که دو طرف ۲ قابل قبول نیست. پس ۳ تا از جایگاه‌ها مناسب‌اند؛ بنابراین:

$$P(A) = \frac{3}{5}$$

۳۱۲. گزینه ۴ تعداد کل اعداد سه‌رقمی با این ارقام برابر است با:

$$n(S) = \frac{4}{4} \times \frac{4}{4} \times \frac{3}{4} = 48$$

تذکره ۱ حواستان به کلمه «متمايز» در صورت سؤال هست!

حالا تعداد اعداد زوج را می‌خواهیم. چون صفر داریم و حوصله جداکردن آن را نداریم از مکمل می‌رویم:

$$n(A) = \text{تعداد فردها} - \text{تعداد کل} = 48 - 18 = 30$$

$$P(A) = \frac{30}{48} = \frac{5}{8}$$

۳۱۳. گزینه ۴ اول $n(S)$ را حساب کنیم:

۱ برای عدد سه‌رقمی زوج رقم یکان باید ۲ یا ۴ باشد:

$$n(A) = 5 \times 5 \times \frac{2}{4} = 50$$

۲ برای عدد شامل ۳ از متمم می‌رویم. $n(S)$ را منهای تعداد اعداد سه‌رقمی فاقد رقم ۳ می‌کنیم:

$$n(B) = n(S) - n(B') = (5 \times 5 \times 5) - (4 \times 4 \times 4) = 125 - 64 = 61$$

رقم ۳ نباشد

۳۰۰. گزینه ۳ کل حالت‌ها $n(S) = 6! = 720$ است. حالت مورد نظر این است که ارقام زوج و فرد یک در میان قرار گیرند. پس داریم:

$$n(A) = 3! \times 3! \times 2 = 72$$

$$P(A) = \frac{n(A)}{n(S)} = \frac{72}{720} = \frac{1}{10}$$

بنابراین:

نکته اگر بخواهیم n تا از یک نوع و n تا از نوع دیگر را یک در میان بچینیم تعداد حالت‌ها برابر است با:

۳۰۱. گزینه ۱ کلاً برای خروج ۶ گوی (به ترتیب) ۶! حالت داریم، پس:

$$n(S) = 6!$$

حالا برای یک در میان بودن زوج‌ها (یا فردها) باید اعداد با یکی از الگوهای «زفzfzfz» یا «فzfzfz» شکل بگیرند که $2 \times 3! \times 3! = 72$ یعنی $n(A) = 72$

حالت داریم، پس:

$$P(A) = \frac{n(A)}{n(S)} = \frac{72}{720} = 0.1$$

۳۰۲. گزینه ۲ مهره از بین ۸ مهره خارج می‌کنیم؛ پس:

$$n(S) = \binom{8}{2} = 28$$

مجموع ۴ در حالت‌های $\{3, 1\}$ و $\{2, 2\}$ ایجاد می‌شود. حالت ۱ و ۳ با چهار نوع رنگ امکان دارد:

اما حالت ۲، فقط یک نوع انتخاب رنگ دارد: $B_1 B_2$ ؛ پس $n(A) = 5$ و

داریم:

$$P(A) = \frac{5}{28}$$

۳۰۳. گزینه ۲ دو تا از $10 = 4 + 6$ گوی برمی‌داریم؛ پس $n(S) = \binom{10}{2} = 45$ برای مجموع ۸ باید ترکیب‌های $2+6$ ، $3+5$ یا $4+4$ را بسازیم. در مورد $4+4$ فقط یک انتخاب داریم: ۴ قرمز و ۴ آبی خارج شوند. برای $2+6$ ، می‌توانیم $2B_1 B_6$ یا $2^R 6^B$ را برداریم. پس ۲ حالت دارد. برای $3+5$ هم حتماً ۵ آبی است و ۳ می‌تواند قرمز یا آبی باشد. پس ۲ حالت دارد. روی هم $n(A) = 1 + 2 + 2 = 5$

و احتمال می‌شود:

$$P(A) = \frac{5}{45} = \frac{1}{9}$$

۳۰۴. گزینه ۱ کلاً دو تا از ده مهره برمی‌داریم:

$$n(S) = \binom{10}{2} = \frac{10 \times 9}{2} = 45$$

شماره‌های متوالی عبارت‌اند از: ۱۲، ۲۳، ۳۴ و ۴۵ که هر کدام ۴ حالت برای رنگ دارند، مثلاً ۱۲ می‌تواند به صورت‌های مقابل خارج شود:

$$P = \frac{16}{45}$$

پس $4 \times 4 = 16$ حالت از ۴۵ مورد نظر است و داریم:

۳۰۵. گزینه ۳ رقم سمت راست پلاک اتومبیل ۱ یا ۲ یا ۳ یا ۴ یا ۵ یا ۶ یا ۷ یا ۸ یا ۹ است؛ پس:

$$n(S) = 9$$

$$A = \{1, 2, 3, 4, 3, 6, 9\}$$

بنابراین $n(A) = 6$ و داریم:

$$P(A) = \frac{n(A)}{n(S)} = \frac{6}{9} = \frac{2}{3}$$

۳۰۶. گزینه ۳ فقط به رقم یکان نگاه کنیم ... یکان می‌تواند ۱ یا ۲ یا ۴ یا ۶ باشد

(۴ حالت) و ما می‌خواهیم ۲ یا ۴ یا ۶ باشد (۳ حالت)، پس داریم:

۳۰۷. گزینه ۴ با کنار هم قراردادن این اعداد، کلاً $3 \times 3 \times 2 \times 1 = 18$ تا عدد چهاررقمی داریم.

جمع ارقام این عددها همیشه $6 = 0 + 1 + 2 + 3$ است، پس حتماً مضرب ۳ هستند و برای این که مضرب ۶ بشوند کافی است زوج باشند. از بحث آنالیز یادتان هست که رقم صفر را جدا می‌کردیم:

۳۲۱. گزینه ۱ کل حالت‌ها، قرارگرفتن ۱۰ نفر در کنار هم یعنی ۱۰! است. برای این که معلم‌ها کنار هم نباشند آن‌ها را در فضاهای اطراف و بین دانش‌آموزان قرار می‌دهیم:

۶! حالت برای دانش‌آموزان، ۴! برای معلم‌ها و $\binom{7}{4}$ جای معلم‌ها در این ۷ ناحیه داریم؛ پس:

$$\Rightarrow P(A) = \frac{n(A)}{n(S)} = \frac{6!4! \binom{7}{4}}{10!} = \frac{4 \times 3 \times 2 \times 1 \times 3 \times 2 \times 1}{10 \times 9 \times 8 \times 7} = \frac{4 \times 3}{9 \times 8} = \frac{1}{6}$$

۳۲۲. گزینه ۲ این کلمه ۷ حرف دارد که ۳ تا ۱، ۲، ۳، ۴، ۵، ۶، ۷ آن‌ها صدادار هستند و باید در محل‌های دوم، چهارم و ششم قرار گیرند:

پس ۳! حالت برای صدادارها و ۴! حالت برای ۴ حرف دیگر داریم. بنابراین:

$$n(A) = 4!3! \quad n(S) = 7! \text{ هم } 7! \text{ است. پس احتمال برابر است با:}$$

$$P(A) = \frac{4!3!}{7!} = \frac{1}{35}$$

۳۲۳. گزینه ۴ کلاً ۷! حالت داریم. در بین a, b و c ترتیب خاصی را می‌خواهیم؛ پس:

$$n(A) = \frac{7!}{3!} \quad P(A) = \frac{7!}{3!7!} = \frac{1}{6}$$

و بنابراین:

تذکر ۳ اگر در قرارگرفتن n شیء متمایز کنار هم، بین k تا از آن‌ها ترتیب مشخصی بخواهیم، تعداد حالت‌ها $\frac{n!}{k!}$ است.

۳۲۴. گزینه ۴ $n(S) = \binom{10}{4}$ = تعداد انتخاب‌های ۴ تا از ۱۰ نقطه

$$n(A) = \binom{1}{1} \binom{2}{1} \binom{3}{1} \binom{4}{1} = 24 \quad \text{پس داریم:}$$

$$P(A) = \frac{n(A)}{n(S)} = \frac{24}{\binom{10}{4}} = \frac{4}{35}$$

۳۲۵. گزینه ۳ تعداد کل حالت‌ها انتخاب ۴ تا از هشت نقطه است:

$$n(S) = \binom{8}{4} = 70$$

برای این که BD قطر چهارضلعی بشود باید یک رأس از سمت چپ و دیگری از سمت راست BD باشد، پس:

$$n(A) = \binom{2}{1} \times \binom{4}{1} = 8$$

$$P(A) = \frac{n(A)}{n(S)} = \frac{8}{70} = \frac{4}{35} \quad \text{بنابراین:}$$

۳۲۶. گزینه ۳ کافی است کلید گم‌شده از آن دو کلید نباشد؛ یعنی یکی از ۴ کلید دیگر را برای گم کردن انتخاب کنیم:

$$P(A) = \frac{\binom{4}{1}}{\binom{5}{1}} = \frac{4}{5} = \frac{2}{3}$$

۳۲۷. گزینه ۱ کل حالات انتخاب دوتا از ۱۰ لنگه است:

$$n(S) = \binom{10}{2} = 45$$

ما می‌خواهیم یک جفت برداریم:

$$n(A) = \binom{5}{1} = 5 \quad \text{پس:}$$

راه II لنگه اول را برمی‌داریم. حالا ۹ تا لنگه مانده که یکی از آن‌ها را می‌خواهیم. احتمال می‌شود $\frac{1}{9}$.

در **۳** برای ترتیب صعودی باید دقت کرد. اولاً باید رقم‌ها متفاوت باشند و ثانیاً تعداد جایگشت‌ها را بر ۳! تقسیم می‌کنیم؛ یعنی:

$$n(C) = 5 \times 4 \times 3 \times \frac{1}{3!} = 10$$

در واقع $n(C)$ برابر تعداد انتخاب‌های ۳ تا از این ۵ رقم است (چون ترتیب آن‌ها معلوم شده):

$$n(C) = \binom{5}{3} = 10$$

در مورد **۴** هم از متمم کمک می‌گیریم:

$$n(D) = n(S) - n(D') = 5 \times 5 \times 5 - \frac{5 \times 4 \times 3}{2} = 125 - 60 = 65$$

فاقد تکراری

پس شانس این آخری از همه بیشتر است؛ چون پیشامد D دارای تعداد عضو بیشتری است.

۳۱۴. گزینه ۳ هر عدد ۶ حالت دارد. پس $n(S) = 6 \times 6 = 36$ حالت‌هایی که هر دو فرد و جمعشان ۸ شود ۳، ۵ و ۳، ۵ هستند. پس

$$P(A) = \frac{n(A)}{n(S)} = \frac{2}{36} = \frac{1}{18} \quad n(A) = 2 \text{ و داریم:}$$

۳۱۵. گزینه ۱ تعداد کل حالات $\binom{9}{3} = 84$ است. حالت‌هایی که ضرب ۱۸ می‌شود، عبارت‌اند از: ۱، ۹، ۲، ۱

تذکر ۱ دقت می‌کنید که ارقام متمایزند و ۳، ۲ و ۳ نمی‌تواند باشد.

$$P(A) = \frac{2}{84} = \frac{1}{42} \quad \text{پس } n(A) = 2 \text{ و داریم:}$$

۳۱۶. گزینه ۳ روز تولد هر نفر ۷ حالت دارد. پس برای سه نفر $7 \times 7 \times 7$ حالت داریم. تعداد حالاتی که روزهای تولد متفاوت باشند هم $7 \times 6 \times 5$ است.

$$P(A) = \frac{7 \times 6 \times 5}{7 \times 7 \times 7} = \frac{30}{49} \quad \text{پس داریم:}$$

۳۱۷. گزینه ۴ تعداد کل اعداد سه‌رقمی ۹۰۰ تا ۹۰۰ است. تعداد اعداد سه‌رقمی فاقد ۲ هم برابر است با:

$$\frac{8}{9} \times \frac{9}{9} \times \frac{9}{9} = 648$$

$$P(A) = \frac{900 - 648}{900} = \frac{252}{900} = \frac{7}{250}$$

پس داریم:

۳۱۸. گزینه ۲ ۶ نفر دور میز کلاً $5! = 120$ حالت دارند. برای این که بین a و b دقیقاً یک نفر باشند، داریم:

نفر بین a و b، ۴ حالت دارد؛ جای خود a و b هم ۲! حالت دارد؛ این دسته در کنار سه نفر دیگر، دور میز $(4-1)!$ حالت دارد. پس:

$$n(A) = 4 \times 2! \times 3! = 48 \quad \text{بنابراین:}$$

$$P(A) = \frac{48}{120} = \frac{2}{5}$$

۳۱۹. گزینه ۱ باید دو نفر مهندس بین دکترها قرار دهیم:

ترتیب دکترها ۳!، دو مهندس بین آن‌ها 6×5 حالت و این دسته در کنار چهار مهندس دیگر، ۵! حالت دارند؛ پس:

$$n(A) = 6 \times 5 \times 3! \times 5! \quad \text{کل حالت‌ها هم ترتیب ۹ نفر کنار هم است:}$$

$$n(S) = 9!$$

$$\Rightarrow P(A) = \frac{30 \times 3! \times 5!}{9!} = \frac{30 \times 6 \times 120}{362880} = \frac{5}{84}$$

۳۲۰. گزینه ۱ تعداد کل جایگشت‌های سه‌حرفی sabz برابر است با:

$$n(S) = 4 \times 3 \times 2 = 24$$

تعداد کلمات دارای ab هم برابر است با:

$$n(A) = \binom{2}{1} \times 2! = 4$$

فرارگیری ab طرف و یک حرف دیگر ab بهجز

$$P(A) = \frac{4}{24} = \frac{1}{6} \quad \text{پس}$$

اما دقت کنید که در حالت‌های زیر عددها تکراری می‌شوند.

(الف) ترکیب دو دسته کارت $(\boxed{21}, \boxed{X})$ و $(\boxed{2}, \boxed{1X})$ هر دو عدد $21X$ را تولید می‌کند. (به ازای $X = 1, 2, \dots, 9$ یعنی ۹ حالت.)

(ت) ترکیب دو دسته کارت $(\boxed{1}, \boxed{1X})$ و $(\boxed{11}, \boxed{X})$ هر دو عدد $11X$ را تولید می‌کند. (به ازای $X = 1, 2, \dots, 9$ یعنی ۹ حالت.)

(پ) ترکیب دو دسته کارت $(\boxed{12}, \boxed{1})$ و $(\boxed{11}, \boxed{21})$ عدد 121 را تولید می‌کند؛ بنابراین در ۱۹ حالت عددهای تکراری داریم، در نتیجه تعداد کل اعضای مجموعه A برابر است با: $420 - 19 = 401$

حالا اگر بخواهیم عدد مضرب ۶ باشد، باید یکان آن زوج و مجموع ارقام آن مضرب ۳ باشد. در عددهایی که یکان‌ها زوج‌اند اما مضرب ۳ نیستند، (یعنی حالت‌های $2, 4, 8, 10, 14, 16, 20$) برای هر کدام ۷ حالت قابل قبول وجود دارد. برای درک بهتر همه حالت‌هایی که یکان عدد ۲ است و حالت‌های مطلوب را ببینید:

۱۲۷	۳۲	۴۲۷	۵۲	۶۲	۷۲۷	۸۲
۹۲	۱۰۲۷	۱۱۲	۱۲۲	۱۳۲۷	۱۴۲	۱۵۲
۱۶۲۷	۱۷۲	۱۸۲	۱۹۲۷	۲۰۲	۲۱۲	-

اما در مورد عددهایی که یکان آن‌ها مضرب ۶ است؛ یعنی ۶، ۱۲، ۱۸ شش حالت مطلوب وجود دارد. برای درک بهتر همه حالت‌های یکان ۶ و حالت‌های مطلوب را ببینید:

۱۶	۲۶	۳۶۷	۴۶	۵۶	۷۶	۸۶
۹۶۷	۱۰۶	۱۱۶	۱۲۶۷	۱۳۶	۱۴۶	۱۵۶۷
۱۶۶	۱۷۶	۱۸۶۷	۱۹۶	۲۰۶	۲۱۶۷	-

بنابراین تعداد کل حالت‌های مطلوب برابر است با: $7 \times 7 + 3 \times 6 = 67$
ولی این هنوز همه ماجرا نیست. صورت نیز حالت‌های تکراری دارد. دو عدد 114 و 216 هر کدام به دو صورت قابل نوشتن و تکراری‌اند.

$$\left\{ \begin{matrix} \boxed{2}, \boxed{16} \\ \boxed{21}, \boxed{6} \end{matrix} \right\} \Rightarrow 216 \quad \left\{ \begin{matrix} \boxed{11}, \boxed{4} \\ \boxed{1}, \boxed{14} \end{matrix} \right\} \Rightarrow 114$$

بنابراین تعداد حالت‌های مطلوب برابر است با: $67 - 2 = 65$
و در نتیجه احتمال پیشامد مورد نظر برابر است با: $\frac{65}{401}$
همان‌طور که می‌بینید پاسخ درست در گزینه‌ها نیست و البته این سؤال هم بیشتر سؤال المپیاد ریاضی است تا کنکور!

۳۳۶ | گزینه ۱ برای انتخاب کارت اول ۱۲ انتخاب داریم. در حالت‌هایی که عدد زوج باشد (یعنی ۶ حالت $2, 4, 6, 8, 10, 12$) یک کارت دیگر انتخاب می‌کنیم که به ۱۱ روش می‌توان این کار را انجام داد. اما اگر عدد فرد باشد، یک تاس پرتاب می‌کنیم که ۶ حالت دارد.

بنابراین تعداد حالت‌ها یا عددهای به وجود آمده به صورت زیر است:

۱۱	۲۱	۳۱	۴۱	...	۱۱۱	۱۲۱
۱۲	۲۳	۳۲	۴۲		۱۱۲	۱۲۲
⋮	⋮	⋮	۴۳		۱۱۳	⋮
⋮	⋮	⋮	⋮		⋮	⋮
۱۶	۲۱۰	۳۶	۴۵		۱۲۱۱	
حالت ۶	حالت ۲۱۱	⋮	⋮		حالت ۱۱۶	
	۲۱۲	۴۱۲			حالت ۶	
	حالت ۱۱	حالت ۱۱				

$$\Rightarrow n(S) = 6 \times 6 + 6 \times 11 = 102$$

حالا بررسی می‌کنیم چندتا از این عددها مضرب ۴ است. می‌دانیم اگر عددی بخواد مضرب ۴ باشد، باید دو رقم سمت راست آن مضرب ۴ باشد. در حالت‌هایی که عدد اول فرد آمده و تاس انداخته‌ایم، عددهای دوم و آخر مضرب ۴ هستند (یعنی $12, 16, 20, 24, 28, 32, 36, 40, 44, 48, 52, 56, 60, 64, 68, 72, 76, 80, 84, 88, 92, 96$) که تعداد آن‌ها برابر است با: $6 \times 2 = 12$

۳۲۸ | گزینه ۲ ۵ جفت کفش یعنی ۱۰ لنگه و ما ۴ تا را انتخاب می‌کنیم:

$$n(S) = \binom{10}{4} = 210$$

۴ تا از ۵ جفت برمی‌داریم: $n(A) = \binom{5}{4} \binom{2}{1} \binom{2}{1} \binom{2}{1} \binom{2}{1} = 5 \times 16 = 80$

$$P(A) = \frac{n(A)}{n(S)} = \frac{80}{210} = \frac{8}{21}$$

بنابراین:

۳۲۹ | گزینه ۱

تعداد کل زیرمجموعه‌های این مجموعه $n(S) = 2^9 = 512$ است. حالا ما زیرمجموعه ۵ عضوی شامل ۳ می‌خواهیم:

$$\{ \circ \circ \circ \circ \circ \}$$

پس باید ۴ عضو دیگر از بین ۱، ۲، ۳، ۴، ۵، ۶، ۷، ۸ و ۹ برداریم:

$$n(A) = \binom{9}{4} = 70$$

$$P(A) = \frac{70}{512} = \frac{35}{256}$$

پس داریم:

۳۳۰ | گزینه ۲ شش حرف داریم که سه‌تای آن‌ها A است. پس $120 = \frac{6!}{3!}$

حالت داریم. برای این که ۳ حرف A کنار هم بمانند آن‌ها را یکی می‌گیریم؛ پس

با $TXIAAA$ ، ۴! حالت داریم. بنابراین احتمال می‌شود: $\frac{4!}{6!} = \frac{24}{720} = \frac{1}{30}$

۳۳۱ | گزینه ۲ کلاً $\frac{8!}{2!2!}$ حالت داریم. اگر حروف مشابه کنار هم باشند.

با **football** فقط ۶ حالت داریم، پس احتمال برابر است با:

$$\frac{6!}{8!} = \frac{6!2!2!}{8!} = \frac{1}{14}$$

۳۳۲ | گزینه ۳ ۴ مهره سبز و ۲ مهره زرد کلاً $15 = \frac{6!}{4!2!}$ حالت برای

قرارگرفتن دارند. اگر اولی و آخری زرد باشند، ۴ مهره سبز دیگر فقط ۱ حالت دارند، چون هم‌رنگ‌اند. پس:

۳۳۳ | گزینه ۱ تعداد کل حالت‌ها برابر است با: (RESERVE

هفت حرفی و VERTICAL هشت حرفی است.) $n(S) = 8 \times 7 = 56$

می‌خواهیم حروف انتخابی، (V, V) یا (R, R) یا (E, E) باشند. اما دقت کنید در RESERVE سه‌تا حرف E و دو تا حرف R هست. پس در واقع ۶ حالت داریم: $(E, E_1), (E, E_2), (E, E_3), (R, R_1), (R, R_2), (V, V)$

$$P(A) = \frac{6}{56}$$

پس $n(A) = 6$ و در نتیجه:

۳۳۴ | گزینه ۴ کل حالت‌ها انتخاب ۳ تا از ۵ کارت برابر است با:

$$n(S) = \binom{5}{3} = 10$$

حالا باید عددی به شکل ۱۱۳ یا ۱۱۴ ساخته شود. پس باید حتماً ۲ تا از یک‌ها

و یک رقم دیگر از بین ۳ و ۴ بیرون بیاید: $n(A) = \binom{3}{2} \times \binom{2}{1} = 6$

یکی از بین ۳ و ۴ و ۲ تا از یک‌ها

$$P(A) = \frac{6}{10}$$

بنابراین:

۳۳۵ | گزینه ۵ دو کارت از ۲۱ کارت را به تصادف خارج می‌کنیم، دو کارت

را به دو حالت می‌توانیم کنار هم قرار دهیم. (برای مثال اگر شماره‌های کارت‌ها ۵ و ۱۲ باشند، دو عدد ۵۱۲ و ۱۲۵ به دست می‌آید.) بنابراین تعداد کل حالت‌ها

$$\binom{21}{2} \times 2! = 420$$

برابر است با:

بقیه حالت‌های مطلوب را بنویسیم کارمان راحت‌تر است:

۲۴	۴۸	۶۴	۸۴	۱۰۴	۱۲۴
۲۸	۴۱۲	۶۸	-	۱۰۸	۱۲۸
۲۱۲	-	۶۱۲	۸۱۲	۱۰۱۲	-

۱۵ عدد هم این‌جا داریم، بنابراین تعداد کل حالت‌های مطلوب برابر است با:

$$n(S) = 12 + 15 = 27 \Rightarrow P(A) = \frac{27}{102} = \frac{9}{34}$$



۳۳۷. گزینه ۲ | تعداد کل حالت‌ها، نشستن ۹ نفر

$$n(S) = (n-1)! = 9!$$

دور میز است:

برای این‌که هم‌وطن‌ها پهلوهای هم باشند آن‌ها را یکی می‌گیریم:

پس ۳ جسم داریم که دور میز ۲ = (۳-۱)! حالت ایجاد می‌کنند و درون آن‌ها

$$n(A) = 2 \times 3! \times 4! \times 3! \quad \text{هم ۳!۴!۳! حالت داریم؛ بنابراین:}$$

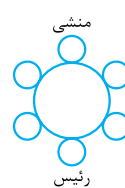
$$P(A) = \frac{2 \times 3! \times 4! \times 3!}{9!} = \frac{2 \times 6 \times 6}{9 \times 8 \times 7 \times 6 \times 5} = \frac{1}{210}$$

و در نتیجه:

۳۳۸. گزینه ۳ | راه I | بالأخره یک نفر باید روبه‌روی رئیس باشد؛ یا

منشی یا یکی از آن چهار کارمند، پس ۵ حالت دارد. ما می‌خواهیم منشی باشد

$$P(A) = \frac{1}{5} \quad \text{(۱ حالت)، بنابراین:}$$



راه II | این شش نفر دور میز کلاً ۵! = (۶-۱)! حالت

دارند.

اگر منشی و رئیس روبه‌روی هم ثابت باشند ۴ کارمند دیگر

$$4! \text{ حالت دارند. پس: } P(A) = \frac{4!}{5!} = \frac{1}{5}$$

۳۳۹. گزینه ۱ | اول رئیس بنشینند:

حالا معاون ۷ تا صندلی برای نشستن دارد و باید در محل‌های ✓

قرار گیرد که با رئیس دقیقاً یک صندلی فاصله دارد، پس:

$$P = \frac{2}{7}$$

