

مقدمه ناشر

بچه‌تر که بودم، فکر می‌کردم هر چه قدر یک کتاب سخت‌تر و پیچیده‌تر نوشته شده باشد، حتماً حرف خاص‌تری دارد که ما نمی‌فهمیم! یعنی یک نگاه کلیشه‌ای وجود داشت که اگر کتابی را درست و حسابی نفهمیدی، حتماً خیلی هوشمندانه و سطح بالا نوشته شده است! اما هر چه قدر بزرگ‌تر شدم، فهمیدم که اتفاقاً این جور کتاب‌ها، چندان هم هوشمندانه نیستند، چون اصلاً اگر هوشمندانه نوشته می‌شدند، آن قدر سخت نمی‌شدند! برای همین وقتی هم‌سن شما بودم، دنبال کتاب‌های ساده می‌رفتم و از سادگی‌اش لذت می‌بردم. مثلاً همین بیت از آقای سعدی را ببینید، در عین حال که ساده است، کلی معنا دارد:

هر که عیب دگران پیش تو آورد و شمرد بی‌گمان عیب تو پیش دگران خواهد برد!



آن روزها گذشت و گذشت تا این که یک روز، خودم شدم مسئول تولید یک سری کتاب به اسم آموزش شگفت‌انگیز! کتاب‌هایی که در عین ساده و جذاب بودن، باید همه چیز را کامل آموزش می‌دادند. خوب برای تولید این کتاب‌ها، نیاز به آدم‌هایی داشتم که فقط ساده و جذاب بنویسند، همین! اما مشکل دقیقاً همین‌جا بود که ساده‌نوشتن، کار ساده‌ای نبود اصلاً! از طرفی فیزیک هم از آن درس‌هایی بود که به خودی خود، مفاهیمش سخت و دشوار است. برای همین، پیدا کردن کسی که بتواند این مفاهیم سخت را ساده بنویسد، کار ساده‌ای نبود. زمان دبیرستان ما، یکی از اون کتاب‌هایی که بیان ساده و در عین حال جذابی داشت و من همیشه از خواندنش لذت می‌بردم، کتاب‌های فیزیک فرید شهریاری بود. برای همین یک روز با ایشان تماس گرفتم، ولی متأسفانه جواب ندادند. البته این را می‌دانستم که قبل‌ترها از طرف انتشارات صحبت‌هایی با آقای شهریاری شده بود و نشده بود که بشود! باز با این حال چند روز بعد، با کورسوی امید دوباره پیام روبه‌رو را فرستادم:

... و این چت‌ها و مکالمات ادامه پیدا کرد تا این که آقای شهریاری آمدند خیلی سبز! 😊 خوب تا قبل از این تماس، آقای شهریاری را فقط در حد نوشته‌هایشان در کتاب می‌شناختم و به خاطر همین، خیلی دوستش داشتم. اما وقتی آقای شهریاری را از نزدیک دیدم، فهمیدم که جذاب بودن کتاب‌هایشان، بی‌دلیل نیست و خودشان هم دوست‌داشتنی هستند. الان از چاپ این کتاب خیلی خوشحالم و واقعاً در پوست خودم نمی‌گنجم. کاش دوباره من هم هم‌سن شما می‌شدم و این کتاب را درست و حسابی می‌خواندم! سپاس فراوان از آقای شهریاری عزیز؛ اول به خاطر ادب و تواضعشون و بعد برای نوشتن این کتاب! یک تشکر ویژه از بچه‌های واحد تولید و گرافیک که عاشقانه کار کردند تا این کتاب خوشگل الان دست شما باشد. خانم سخاوت‌زاده، دست شما هم درد نکند به خاطر همه کارهای خوبتان!

مقدمه مؤلف

فیزیک و فرهنگ!

می‌گویند روزی یک نویسنده جوان و جویای نام، از «برنارد شو» (نویسنده ایرلندی) پرسید: «استاد؛ شما برای چه می‌نویسید؟!» برنارد شو نگاهی به او کرد و بی‌معطلی پاسخ داد: «برای پول!» جوان، شگفت‌زده شد و سری به نشانه تأسفک تکان داد. برنارد شو از او پرسید: «مگر شما برای چه می‌نویسید؟!» و جوان گفت: «معلوم است! برای فرهنگ!» برنارد شو این بار هم بی‌معطلی به او گفت: «عیبی ندارد پسر! هر کدام از ما برای چیزی می‌نویسیم که نداریم!» مقدمه خود را با این طنز کوتاه آغاز کردم که همین اول، اعتراف کنم که من برای هر دو می‌نویسم! اما واقعاً یک کتاب کمک آموزشی، آن هم با موضوع فیزیک دهم چه ربطی به فرهنگ می‌تواند داشته باشد؟! من شخصاً بر این باورم که گسترش آموزش درست و مفهومی علوم، به ویژه فیزیک، می‌تواند سهم مهمی در ارتقای فرهنگ مردم جامعه داشته باشد. اصلاً چارچوب فکری‌ای که فیزیک به بچه‌ها می‌آموزد، طرز برخورد آن‌ها با موضوعات اجتماعی را هم دگرگون می‌کند. در نخستین فصل فیزیک دهم می‌خوانیم که «تغییر پذیری، یک نقطه قوت دانش فیزیک است» (و البته من وقتی دیدم کتاب درسی چنین چیزی را مطرح کرده، خیلی شگفت‌زده شدم). این موضوع را مقایسه کنید با ضرب‌المثل معروف ما ایرانی‌ها که می‌گوید: «حرف مرد، یکی است!»؛ یعنی «تغییر نکردن» در فرهنگ عامه، یک ارزش فرهنگی تلقی می‌شود. به نظر من، همین یک نمونه، برای درک ارزش فرهنگی فیزیک کافی است.

آموزش از سطح صفر!

در بیش از سه دهه‌ای که به آموزش فیزیک مشغول هستم، این را از بسیاری از دانش‌آموزان شنیده‌ام که: «آقا! ما فیزیک را فهمیده‌ایم، اما نمی‌دانیم چرا نمی‌توانیم مسئله‌ها و تست‌ها را حل کنیم!» همیشه وقتی با این مشکل مواجه می‌شوم، سعی می‌کنم ابتدا از صحت بخش اول آن، یعنی این که «ما فیزیک را فهمیده‌ایم»، اطمینان حاصل کنم! در بسیاری از موارد هم متوجه شده‌ام که دانش‌آموز فقط تصور می‌کرده که فیزیک را فهمیده؛ اما واقعاً چنین نبوده است! هدف من از نگارش درس‌نامه در کتاب‌های شگفت‌انگیز، همین است: اطمینان از درک مفهومی و اصولی فیزیک. به همین دلیل، درس‌نامه‌ها را همواره با این فرض نوشته‌ام که خواننده کتاب از آن مبحث هیچ نمی‌داند و قرار است به کمک این درس‌نامه‌ها، او را از سطح صفر، به عالی‌ترین سطحی که برای امتحانات مدرسه و کنکور نیاز دارد، برسانیم. متن درس‌نامه‌ها را طوری نوشته‌ام که دانش‌آموز ضمن خواندن آن، خود را در فضای یک کلاس درسی متفاوت با کلاس‌های رایج در مدرسه‌ها، احساس کند و پرسش‌های به‌موقع دانش‌آموزان خیالی این کلاس، حس حضور در چنین کلاسی را برای خواننده کتاب پرنگ‌تر می‌کند. مثال‌های متعددی که در این درس‌نامه‌ها پیش‌بینی شده، مکملی برای یادگیری مفاهیم و آموزش‌دهنده روش برخورد با مسئله‌های هر فصل هستند.

سه در یک!

هنگام تعیین قالب کلی کتاب‌های شگفت‌انگیز، به این فکر شده بود که چگونه می‌توان با یک کتاب، همه نیازهای حال و آینده یک دانش‌آموز در هر درس را تأمین کرد. یک دانش‌آموز اگر سال دهم باشد، پس از آموزش مفهومی فیزیک با درس‌نامه‌های این کتاب، باید مطمئن شود با بالاترین نمره ممکن از عهده امتحانات تشریحی مدرسه برمی‌آید. به همین دلیل، درست پس از درس‌نامه‌ها، به تمرین‌های تشریحی و نمونه سؤالات امتحانی می‌رسیم. این را هم می‌دانیم که مخاطبین این کتاب، فقط بچه‌های دهمی نیستند و داوطلبان کنکور هم از همین کتاب استفاده می‌کنند. از آنجایی که بسیاری از داوطلبان کنکور از نداشتن سرعت عمل در حل تست‌ها گله دارند، حل تمرین‌های تشریحی، پیش از رفتن به سراغ تست‌ها، می‌تواند برای این دسته از مخاطبین کتاب هم در حکم یک دست‌گرمی خوب باشد!

پس از تمرین‌های تشریحی، نوبت به بانک تست می‌رسد. سعی کرده‌ایم در ویرایش جدید کتاب، هم تعداد تست‌ها را افزایش دهیم و هم غلظت تست‌های چالشی‌تر را در آن بیشتر کنیم. به باور من، چه از نظر تعداد و چه از نظر سهم تست‌های چالشی، بانک تست این کتاب می‌تواند دانش‌آموز و داوطلب کنکور را به کسب درصدی عالی در کنکور برساند؛ فقط این را هم بگویم که به نظر من، حل تست‌ها فقط برای یک بار، اصلاً کافی نیست و باید آن‌قدر حل آن‌ها را تکرار کنید تا به نهایت تسلط و سرعت عمل برسید.

می‌دانم که بی‌صبرانه در انتظار شروع مطالعه این کتاب هستید و بیشتر از این منتظران نمی‌گذارم. فقط در پایان، از تک‌تک عزیزانی که زحمت تولید این کتاب را در انتشارات خیلی سبز کشیدند، تشکر می‌کنم و از سرکار خانم زهره آقامحمدی و خانم دکتر بهناز اکبرنواز که زحمت ویرایش کتاب را متقبل شدند، سپاس‌گزاری ویژه می‌کنم.

موفق و شاد باشید

فرید شهریاری

فهرست

فصل ۱: فیزیک و اندازه‌گیری

- ۱۸۵ تمرین‌های تشریحی
- ۱۸۸ بانک تست درس اول
- ۱۹۶ بانک تست درس دوم
- ۲۰۴ بانک تست درس سوم
- ۲۱۵ پاسخ‌نامه تمرین‌های تشریحی
- ۲۱۸ پاسخ‌نامه ابر تشریحی
- فصل ۴: دما و گرما
- ۲۵۸ درس اول: دما و دماسنجی
- ۲۷۰ درس دوم: گرما
- ۲۷۵ درس سوم: گذار فاز
- ۲۸۵ درس چهارم: گازهای آرمانی
- ۲۹۳ تمرین‌های تشریحی
- ۳۰۰ بانک تست درس اول
- ۳۰۷ بانک تست درس دوم
- ۳۱۱ بانک تست درس سوم
- ۳۱۸ بانک تست درس چهارم
- ۳۲۳ پاسخ‌نامه تمرین‌های تشریحی
- ۳۲۸ پاسخ‌نامه ابر تشریحی

فصل ۴: دما و گرما

- ۲۵۸ درس اول: دما و دماسنجی
- ۲۷۰ درس دوم: گرما
- ۲۷۵ درس سوم: گذار فاز
- ۲۸۵ درس چهارم: گازهای آرمانی
- ۲۹۳ تمرین‌های تشریحی
- ۳۰۰ بانک تست درس اول
- ۳۰۷ بانک تست درس دوم
- ۳۱۱ بانک تست درس سوم
- ۳۱۸ بانک تست درس چهارم
- ۳۲۳ پاسخ‌نامه تمرین‌های تشریحی
- ۳۲۸ پاسخ‌نامه ابر تشریحی

فصل ۵: ترمودینامیک

- ۳۵۵ درس اول: مفهوم‌های مقدماتی ترمودینامیک
- ۳۵۷ درس دوم: فرایندهای ترمودینامیکی خاص
- ۳۶۲ درس سوم: ماشین‌های گرمایی و یخچال‌ها
- ۳۶۶ تمرین‌های تشریحی
- ۳۶۸ بانک تست
- ۳۷۸ پاسخ‌نامه تمرین‌های تشریحی
- ۳۷۹ پاسخ‌نامه ابر تشریحی
- ۳۸۹ پاسخ‌نامه کلیدی

فصل ۲: ویژگی‌های فیزیکی مواد

- ۸ درس اول: این است «فیزیک»!
- ۱۸ درس دوم: چگالی
- ۲۳ تمرین‌های تشریحی
- ۲۹ بانک تست درس اول
- ۳۵ بانک تست درس دوم
- ۴۴ پاسخ‌نامه تمرین‌های تشریحی
- ۴۹ پاسخ‌نامه ابر تشریحی

- ۶۸ درس صفرم: نیروها و قانون‌های نیوتون
- ۶۹ درس اول: فازهای مواد و نیروهای بین مولکول‌ها
- ۷۳ درس دوم: فشار
- ۸۱ درس سوم: لوله‌های لاشکل
- ۸۵ درس چهارم: نیروی مایع بر یک سطح افقی و انواع فشارسنج‌ها
- ۹۱ درس پنجم: شاره در حرکت
- ۹۵ تمرین‌های تشریحی
- ۱۰۱ بانک تست درس اول
- ۱۰۴ بانک تست درس دوم
- ۱۱۳ بانک تست درس سوم
- ۱۱۸ بانک تست درس چهارم
- ۱۲۶ بانک تست درس پنجم
- ۱۳۲ پاسخ‌نامه تمرین‌های تشریحی
- ۱۳۶ پاسخ‌نامه ابر تشریحی

فصل ۳: کار، انرژی و توان

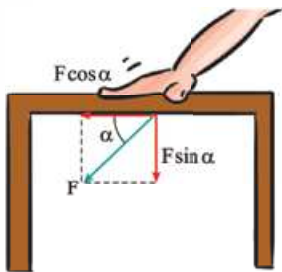
- ۱۶۷ درس صفرم: ریاضیات، زبان فیزیک
- ۱۶۹ درس اول: کار و توان
- ۱۷۵ درس دوم: انرژی جنبشی
- ۱۷۷ درس سوم: انرژی پتانسیل و مکانیکی


درس دوم: فشار

اگر نیروی F در راستای عمود بر سطح، به سطحی به مساحت A وارد شود، فشار وارد بر این سطح، از رابطهٔ روبه‌رو به دست می‌آید:


$$P = \frac{F}{A}$$


یکای فشار، «نیوتون بر متر مربع» (N/m^2) بود که به آن «پاسکال» (Pa) می‌گفتیم. یادتان باشد که چون برای محاسبهٔ فشار، بزرگی نیرو را بر مساحت تقسیم می‌کنیم، کمیت حاصل، یعنی فشار، کمیتی «زنده‌ای» است؛ هم‌چنین، به دلیل مثبت‌بودن بزرگی نیرو و مساحت، فشار، همیشه مثبت است.



بیشتر! آله به وقت مثله شکل روبه‌رو، به صورت کج به سطح نیرو وارد کنیم، فشار چه پوری حساب می‌شه؟! 

البته بعید است با چنین چیزی برخورد کنید؛ اما بد نیست بدانید که در چنین مواردی، همان‌گونه که در شکل روبه‌رو نشان داده‌ام، باید نیرو را به دو مؤلفه، یکی موازی سطح و دیگری عمود بر سطح، تجزیه کرد. مؤلفهٔ موازی سطح (یعنی $F \cos \alpha$ در شکل)، فشاری به سطح وارد نمی‌کند و برای محاسبهٔ فشار، باید مؤلفهٔ عمود بر سطح (یعنی $F \sin \alpha$) را بر مساحت تقسیم کرد.

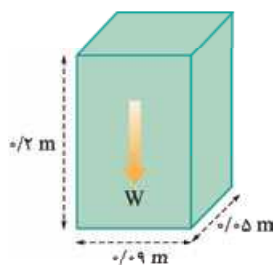
پراگفتین «بعید است» با چنین چیزی برخورد کنیم؟! 

به خاطر این‌که در ادامهٔ این فصل، قصد داریم بر روی شاره‌ها (مایع‌ها و گازها)، تمرکز کنیم و آزمایش نشان می‌دهد که شاره‌ها، با هر سطحی در تماس باشد، همیشه آن را در راستای عمود بر سطح، هل می‌دهند. در شکل روبه‌رو، می‌بینید که وقتی در آب شنا می‌کنید، آب به نقاط مختلف بدن شما، چگونه نیروهایی عمود بر سطح وارد می‌کند. 

مس وزن یک آجر ۱۸ N و ابعاد آن، $0.2\text{ m} \times 0.09\text{ m} \times 0.05\text{ m}$ است. حداقل چندتا از این آجرها را باید روی هم بگذاریم تا فشار حاصل از وزن آن‌ها با فشار جو (10^5 Pa) برابر شود؟ ($g = 10\text{ N/kg}$)

۵۰ (۱) ۴۵ (۲) ۱۲ (۳) ۲۵ (۴)

پاسخ معمولاً در مسئله‌هایی که ما با آن‌ها سروکار داریم، به جای این‌که کسی با دست، سطحی را بفشارد، یک جسم را روی سطح می‌گذارند تا توسط وزن خود (یعنی همون W یا mg) سطح را به پایین بفشارد. در این صورت، می‌توان رابطه $P = \frac{F}{A}$ را به صورت $P = \frac{W}{A}$ نوشت. نکته مهمی که در این تست، باید مورد توجه قرار گیرد، این است که چون **حداقل** (یعنی کم‌ترین) تعداد آجر را می‌خواهیم، باید آجرها را طوری بگذاریم که بیشترین فشار را به سطح وارد کنند. رابطه $P = \frac{F}{A} = \frac{W}{A}$ نشان می‌دهد که برای داشتن بیشترین فشار، باید آجر را از روی



کوچک‌ترین سطحش (یعنی $0.09\text{ m} \times 0.05\text{ m}$) بر سطح قرار دهیم؛ یعنی:

$$P_{\text{max}} = \frac{W}{A_{\text{min}}}$$

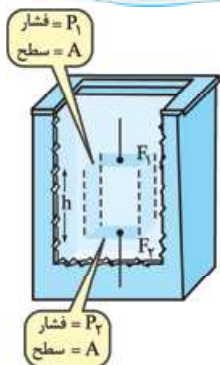
شکل روبه‌رو، نشان می‌دهد که هر آجر را باید چگونه قرار دهیم، تا بیشترین فشار را به سطح وارد کند. بیا باید تعداد آجرهای مورد نیاز را با n نشان دهیم؛ در این صورت، اگر وزن یک آجر برابر W باشد، بدیهی است که وزن n آجر، برابر $n \times W$ است و می‌توان نوشت:

$$P = \frac{F}{A} = \frac{n \times W}{A} \Rightarrow \frac{n \times 18}{0.09 \times 0.05} = 10^5 \Rightarrow n = \frac{0.09 \times 0.05 \times 10^5}{18} = 25$$

گزینه ۴

تو یک مکعب مستطیل به ابعاد ۳، ۴ و ۵ سانتی‌متر و چگالی 7800 kg/m^3 را روی یک میز افقی طوری قرار می‌دهیم که بیشترین فشار را وارد کند. این فشار چند پاسکال است؟

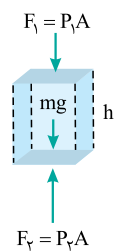
۳۹۰۰ (۱) ۳۹۰ (۲) ۳۹۰۰۰ (۳) ۳۹ (۴)



اکنون می‌خواهیم به محاسبه فشار در مایعاتی بپردازیم که در حال تعادل‌اند و حرکت نمی‌کنند. همان‌گونه که در شکل روبه‌رو می‌بینید، یک مکعب مستطیل از مایع را به دلخواه، انتخاب می‌کنیم و به بررسی نیروهایی می‌پردازیم که در راستای قائم، به آن وارد می‌شود. توجه کنید که این مکعب مستطیل، یک جسم فرورفته در مایع نیست؛ بلکه بخشی از خود مایع است که می‌خواهیم آن را مورد مطالعه قرار دهیم. سطح قاعده بالایی و پایینی این مکعب مستطیل را A و ارتفاع آن را h می‌نامیم. مایعی که بالای این مکعب مستطیل است، آن را در راستای قائم، با نیروی F_1 به پایین هل می‌دهد؛ هم‌چنین، مایع زیر این مکعب مستطیل، سطح زیرین آن را با نیروی F_2 ، به بالا هل می‌دهد.

مگه تلفتین این مکعب مستطیل، به بخشی از خود مایع است؟! ... مگه مایع به خودش هم نیرو وارد می‌کنه!؟

البته که وارد می‌کند! همان‌طور که مایع، به جسم شناور در خود نیرو وارد می‌کند، هر بخشی از یک مایع، به بخش دیگر مایع هم نیرو وارد می‌کند.



با «طرفین - وسطین» کردن رابطه فشار (یعنی $P = \frac{F}{A}$)، می‌توان نیروهای F_1 و F_2 را به صورت $F_1 = P_1 A$ و $F_2 = P_2 A$ نوشت. به‌جز این دو نیرو، وزن مایع (یعنی mg) نیز در راستای قائم و به طرف پایین، به مایع وارد می‌شود. چون این مکعب مستطیل مایع، در راستای قائم، بالا یا پایین نمی‌رود، باید مجموع دو نیروی رو به پایین F_1 و mg هم‌اندازه با نیروی رو به بالای F_2 باشد: $F_1 + mg = F_2 \Rightarrow P_1 A + mg = P_2 A$. اگر چگالی مایع را ρ بنامیم و به جای جرم مکعب مستطیل، $m = \rho V$ و به جای V هم Ah را بگذاریم، خواهیم داشت:

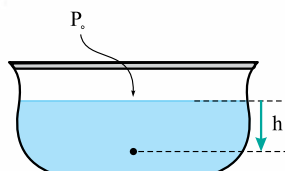
$$P_1 A + \rho A h g = P_2 A \Rightarrow P_2 = P_1 + \rho g h$$

رابطه رنگی بالا، نشان می‌دهد که:

وقتی در یک مایع، به اندازه h در راستای قائم پایین می‌رویم، فشار مایع به اندازه $\rho g h$ افزایش می‌یابد.

معمولاً فشار در هر نقطه داخل مایع را با فشار در سطح آزاد آن مقایسه می‌کنند. فشار در سطح آزاد یک مایع، برابر فشار جو (یعنی P_0) است؛ بنابراین، فشار در عمق h زیر سطح آزاد مایع (شکل روبه‌رو)، برابر می‌شود با:

$$P = P_0 + \rho gh$$



فشار هوا (P_0)، تقریباً برابر 10^5 Pa است. این فشار را ۱ اتمسفر (1 atm) هم می‌نامند. در این جا باید توجه شما را به چند نکته بسیار مهم جلب کنم:

۱ در رابطه $P = P_0 + \rho gh$ ، برای عبارت ρgh و P ، نام‌های خاصی به کار برده می‌شود که باید آن‌ها را به خاطر بسپارید:

به P ، «فشار مطلق»، «فشار کل» و یا به اختصار «فشار» می‌گوییم.

به عبارت ρgh ، «فشار مایع» یا «فشار پیمانه‌ای» گفته می‌شود.

بفشین! «پیمانه‌ای» یعنی پی؟



اگر رابطه $P = P_0 + \rho gh$ را به صورت $P - P_0 = \rho gh$ بنویسیم، می‌بینیم که ρgh ، برابر است با اختلاف فشار یک نقطه با فشار هوای محیط.

باید بدانید که:

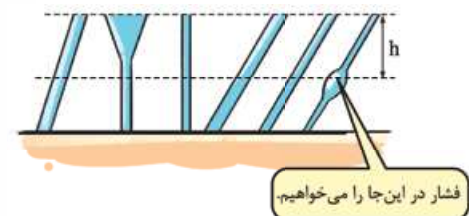


وسیله‌های اندازه‌گیری فشار (فشارسنج‌ها)، اختلاف فشار یک نقطه با فشار هوای محیط را نشان می‌دهند و به همین دلیل، به اختلاف فشار یک نقطه با فشار هوای محیط (یعنی $P - P_0$)، «فشار پیمانه‌ای» گفته می‌شود و آن را با نماد P_g نشان می‌دهند. وقتی فشار در یک نقطه، بیشتر از فشار هوای محیط باشد ($P > P_0$)، فشار پیمانه‌ای، مثبت و اگر فشار در یک نقطه، کم‌تر از فشار هوای محیط باشد ($P < P_0$)، فشار پیمانه‌ای، منفی است.

۲ یادتان بماند که برای محاسبه فشار در یک نقطه داخل مایع، شکل ظرف بی‌اهمیت

است و منظور از ارتفاع h ، همیشه «ارتفاع قائم» است.

(منظورم اینه که آگه طرف کج و کوله هم باشه، باز م «ارتفاع»، یه خط قائم و صافه!) شکل روبه‌رو، این موضوع را به خوبی نشان می‌دهد.



فشار در این جا را می‌خواهیم.

۳ به نقطه‌هایی از مایع که روی یک خط افقی واقع باشند، (مثل نقطه‌های a ، b ، c و d در شکل روبه‌رو)، اصطلاحاً «هم‌تراز» می‌گویند. وقتی مایعی بی‌حرکت است، فشار در

نقطه‌های هم‌تراز آن، مساوی است. برای توجیه این برابری فشار، گفته می‌شود که اگر

فشار در نقطه‌های هم‌تراز، برابر نبود، مایع باید از نقطه‌ای که فشار بیشتری داشت، به طرف نقطه‌ای با فشار کم‌تر، جریان می‌یافت. از آن جایی که مایع ساکن است و جریانی در آن وجود ندارد، نقطه‌های هم‌تراز آن، باید هم‌فشار باشند.

ولی آگه از فرمولی که گفتین استفاده کنیم؛ فشار تو این نقطه‌ها مساوی نمی‌شه که!

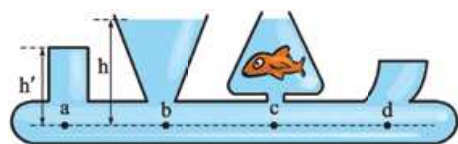


چرا؟!



مثلاً آگه ارتفاع مایعی که بالای نقطه b قرار داره رو با h و ارتفاع مایعی رو که بالای نقطه a

قرار داره رو با h' نشون بدیم، واضحه که ρgh از $\rho gh'$ بیشتره!



چرا فقط به جمله ρgh نگاه می‌کنید؟! ... واقعیت این است که فشار در نقطه b برابر با مجموع فشار هوای بالای سطح آزاد مایع (یعنی P_0) با

فشار ناشی از مایع (یعنی ρgh) است؛ در حالی که فشار در نقطه a ، برابر مجموع فشار ناشی از انتهای بسته بالایی با $\rho gh'$ است. نکته جالب،



این است که فشاری که توسط انتهای بسته بالایی بر سطح بالایی مایع وارد می‌شود، از فشار هوای محیط بیشتر است.

از کجا معلوم؟!!



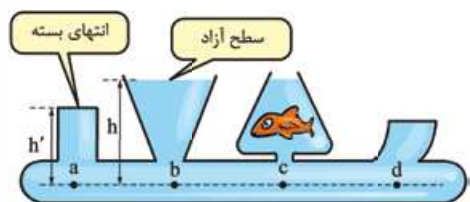
کافی است تصور کنید که این دهانه بسته را باز کنیم! در این صورت، خواهید

دید که مایع از دهانه باز شده، بیرون می‌پاشد. توجه دارید که پس از باز کردن

دهانه لوله، فقط هوای محیط است که بر سطح آب فشار می‌آورد و بیرون زدن آب از این

دهانه، نشان می‌دهد که فشار هوا، قادر نیست مایع را در ارتفاع h' نگه دارد و لابد، دهانه

بسته، فشاری بیشتر از فشار هوا وارد می‌کرده است.





خلاصه این که، فشار در نقطه b برابر $P_b = P_0 + \rho gh$ و فشار در نقطه a برابر $P_a = P_0 + \rho gh'$ است. حتماً وقتی که h' کم تر از h است، انتهای بسته P_0 به اندازه‌ای از P_0 بیشتر است، که فشار در دو نقطه a و b ، برابر می‌گردد.
 (گفته بودم که آگه فشار توو دو نقطه هم‌تراز برابر نشه، مایع باید از هایی که فشار بیشتری، به حرکت در بیاد و بره به هایی که فشار کم تره. چون چنین اتفاقی نمیفته و مایع ساکنه، مطمئنم که فشار توو این نقاط برابره!)

بگذارید قبل از این که به حل چند مثال بپردازیم، این نکته آخر را یک بار خلاصه کنیم! یادتان بماند که:

فشار در دو نقطه هم‌تراز مساوی است؛ به شرطی که: دو نقطه در یک مایع قرار داشته باشند و مایع ساکن باشد و البته، شکل ظرف یا وجود یک جسم خارجی در مایع (مثله اون ماهی توو شکلاتی بالا!)، هیچ تأثیری در برابری فشار در نقاط هم‌تراز ندارد.

منو ۲

س عمیق ترین قسمت خلیج فارس، عمقی در حدود ۹۰ متر دارد و فشار پیمانه‌ای در این عمق، $9/27 \times 10^5 \text{ Pa}$ است. چگالی آب خلیج فارس در SI کدام است؟ ($g = 10 \text{ N/kg}$)

- (۱) ۱۰۰۰ (۲) ۱۰۳۰ (۳) ۹۰۰ (۴) ۱۵۰۰

ب پاسخ با استفاده از رابطه $P = P_0 + \rho gh$ ، می‌توان نوشت:

$$\underbrace{P - P_0}_{\text{فشار پیمانه‌ای}} = \rho gh \Rightarrow 9/27 \times 10^5 = \rho \times 10 \times 90 \Rightarrow \rho = \frac{9/27 \times 10^5}{10 \times 90} = 1030 \text{ kg/m}^3$$

گزینه ۲

ت شناگری در عمق ۵ متری از سطح آب دریاچه‌ای شنا می‌کند. فشار ناشی از آب در این عمق، چند پاسکال است؟ (چگالی آب را 1000 kg/m^3 و شتاب گرانش زمین را 10 N/kg در نظر بگیرید.)

- (۱) ۵۰۰۰ (۲) ۵۰۰۰۰ (۳) ۱۵۰۰۰۰ (۴) ۱۰۵۰۰۰۰

منو ۳

س در لوله‌ای قائم به ارتفاع ۱ متر، مقداری جیوه (با چگالی 13500 kg/m^3) و روی آن، آن قدر آب ریخته‌ایم تا لوله لبریز شود. اگر انتهای بالایی لوله باز باشد، ارتفاع جیوه باید چند سانتی‌متر باشد تا فشار کل در انتهای پایینی لوله ۲ برابر فشار هوای محیط گردد؟ (فشار هوای محیط 10^5 پاسکال است.)

- (۱) ۷۲ (۲) ۲۸ (۳) ۵۰ (۴) ۷/۲

ب پاسخ وقتی در ظرفی دو مایع بر روی هم می‌ریزیم، برای محاسبه فشار کل در کف ظرف، باید فشار ناشی از دو مایع (یعنی ρgh ها) را با فشار هوا جمع کرد:

$$P = P_0 + \underbrace{\rho_1 gh_1}_{\text{جیوه}} + \underbrace{\rho_2 gh_2}_{\text{آب}}$$

بنا بر گفته سؤال، این فشار باید ۲ برابر فشار هوای محیط باشد:

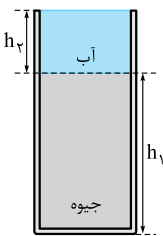
$$P = P_0 + \rho_1 gh_1 + \rho_2 gh_2 = 2P_0 \Rightarrow \rho_1 gh_1 + \rho_2 gh_2 = P_0$$

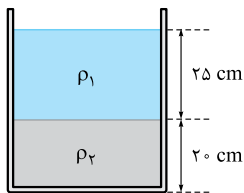
$$\Rightarrow 13500 \times 10 \times h_1 + 1000 \times 10 \times h_2 = 10^5 \Rightarrow 135 h_1 + 10 h_2 = 100$$

چون ارتفاع لوله کلاً برابر ۱ متر است، اگر ارتفاع جیوه را h_1 بنامیم، ارتفاع آب برابر $(1 - h_1)$ متر خواهد بود و معادله رنگی بالا به صورت زیر درمی‌آید:

$$135 h_1 + 10(1 - h_1) = 100 \Rightarrow 125 h_1 = 90 \Rightarrow h_1 = \frac{90}{125} \text{ m} = \frac{90}{125} \times 100 \text{ cm} = 72 \text{ cm}$$

گزینه ۱





تو در شکل مقابل، اگر فشار هوا 10^5 Pa و چگالی دو مایع $\rho_1 = 2000 \text{ kg/m}^3$ و ρ_2 و فشار کل در کف ظرف 10^5 Pa باشد، ρ_2 چند کیلوگرم بر متر مکعب است؟

- (۱) 1500
 (۲) 3500
 (۳) 2500
 (۴) 4000

آماره این به فرده مثلامونو سفت تر کنیم؟! ... به نفس عمیق بکشین و برین سراغ زوج بعدی «منوتو»!

منوتو ۴



من در شکل مقابل، فشار در سطح مایع، برابر P_1 و فشار کل در کف ظرف برابر P_2 است. با پایین آوردن پیستون، فشار در سطح مایع را ۲ برابر می‌کنیم. فشار کل در کف ظرف در این حالت، P'_2 می‌شود. کدام گزینه زیر درست است؟

(سراسری تهرانی ۸۰)

- (۱) $P'_2 = 2P_2$
 (۲) $P'_2 = P_2$
 (۳) $2P_2 < P'_2 < 3P_2$
 (۴) $P_2 < P'_2 < 2P_2$

پاسخ پیش از پایین بردن پیستون، می‌توان نوشت:

$$P_2 = P_1 + \rho gh$$

$$P'_2 = 2P_1 + \rho gh$$

و پس از پایین بردن پیستون، داریم:

$$\frac{P'_2}{P_2} = \frac{2P_1 + \rho gh}{P_1 + \rho gh}$$

برای آن که بفهمیم P'_2 چند برابر P_2 است، بهتر است دو عبارت بالا را بر هم تقسیم کنیم:

واضح است که کسر رنگی از ۱ بزرگ‌تر است (چون صورتش از مخرج بیشتر است)، بنابراین $\frac{P'_2}{P_2}$ باید بزرگ‌تر از ۱ باشد: $P'_2 > P_2$

برای ادامه کار، به یک ابتکار ریاضی نیاز داریم! صورت کسر رنگی را به صورت $2(P_1 + \rho gh) - \rho gh$ می‌نویسیم (در حقیقت به صورت کسر، یک جمله ρgh را اضافه و کم می‌کنیم و بین دو جمله، از ۲ فاکتور می‌گیریم) و بالأخره، نوبت به تفکیک کسر می‌رسد:

$$\frac{P'_2}{P_2} = \frac{2P_1 + \rho gh}{P_1 + \rho gh} = \frac{2(P_1 + \rho gh) - \rho gh}{P_1 + \rho gh} = 2 - \frac{\rho gh}{P_1 + \rho gh}$$

می‌بینید که در عبارت نهایی بالا، عبارت $\frac{\rho gh}{P_1 + \rho gh}$ از ۲ کاسته می‌شود؛ یعنی حاصل عبارت، حتماً از ۲ کم‌تر است: $\frac{P'_2}{P_2} < 2 \Rightarrow P'_2 < 2P_2$

گزینه ۴

ما که رفتیم تو شوک! ... از کجا باید به فکرمون می‌رسید که از این کارا بکنیم!؟



حق با شما است! ... این تست به ابتکاری نیاز داشت که اگر دانش‌آموزی مشابه آن را ندیده بود، بعید بود به فکر انجامش می‌افتاد! ... البته این راه، تنها راه‌حل ممکن نیست و ممکن است شما با استدلال دیگری، به همین نتیجه برسید. (البته استدلال‌های دیگر هم ساده‌تر از چیزی که گفتم نیستند!!) ... عیبی ندارد! حالا که شما هم این استدلال را دیدید، باید بتوانید تست بعدی را خودتان حل کنید!



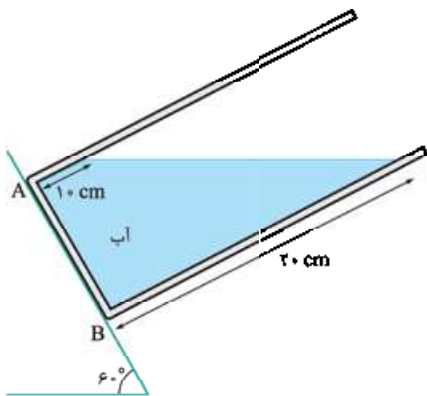
تو اگر فشار کل در عمق h از سطح دریا، برابر P_1 و در عمق $2h$ برابر P_2 باشد، کدام گزینه درست است؟

(سراسری ریاضی ۷۷)

- (۱) $P_2 = P_1$
 (۲) $2P_1 > P_2 > P_1$
 (۳) $P_2 = 2P_1$
 (۴) $2P_1 \geq P_2 > P_1$

من در شکل مقابل، اختلاف فشار آب بین نقاط A و B چند پاسکال است؟

$$(\rho_{\text{آب}} = 1 \text{ g/cm}^3, g = 10 \text{ N/kg})$$

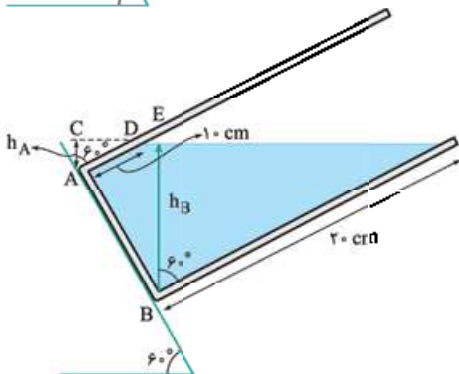


$$500 \quad (1)$$


$$500\sqrt{3} \quad (2)$$

$$250 \quad (3)$$

$$250\sqrt{3} \quad (4)$$



پاسخ: یادتان باشد که وقتی می‌خواهید فشار در یک نقطه را از رابطه $P = P_0 + \rho gh$ به دست آورید، منظور از h ، طول خطی است که از آن نقطه، بر سطح آزاد مایع عمود می‌شود. به این ترتیب، چنان‌که در شکل روبه‌رو می‌بینید، برای نقطه A، باید طول خط AC و برای نقطه B، باید طول خط BE را به دست آورد.

اون دوتا زاویه 60 درجه بالایی رو از کجا فهمیدین 60 درجه ان؟! 

سؤال خوبی پرسیدی! در شکل روبه‌رو، می‌بینید که دو ضلع AC و AD بر دو ضلع سطح شیب‌دار عمودند و در هندسه ثابت می‌شود که وقتی دو ضلع دو زاویه، همانند این شکل، بر هم عمودند، این دو زاویه برابرند. (این قضیه رو فقط کتین و هر وقت موصله داشتین، سعی کنین به عنوان یه قضیه هندسه، اثباتش کنین! ... با تشکر فراوان! ...) با این استدلال، می‌توان فهمید که هر دو زاویه بالایی در شکل قبل، 60 درجه‌اند.

حالا به مثلث ACD در شکل زیر نگاه کنید! وتر این مثلث 10 cm است و ضلع مجاور به زاویه 60 درجه را می‌خواهیم. مطمئنم با دیدن «ضلع مجاور» و «وتر»، همگی به یاد «کسینوس» افتاده‌اید! می‌توان نوشت:

$$\cos 60^\circ = \frac{AC}{AD} \Rightarrow \frac{1}{2} = \frac{h_A}{10} \Rightarrow h_A = 5 \text{ cm} = 0.05 \text{ m}$$

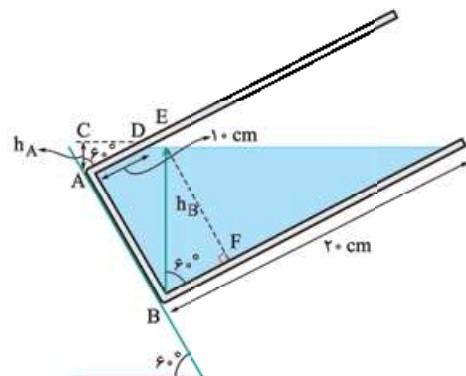
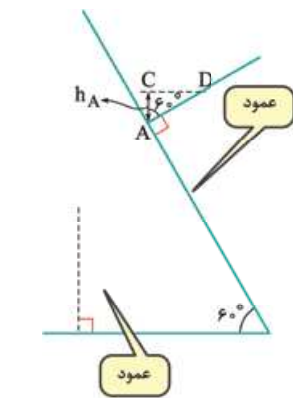
به همین روش، می‌توان ارتفاع h_B را هم حساب کرد! به مثلث BEF نگاه کنید:

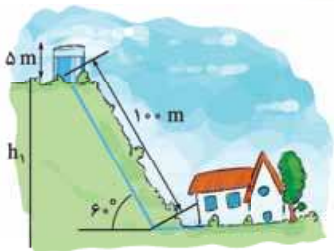
$$\cos 60^\circ = \frac{BE}{BF} \Rightarrow \frac{1}{2} = \frac{h_B}{20} \Rightarrow h_B = 10 \text{ cm} = 0.1 \text{ m}$$

بعد از این کارهای هندسی، باید به سراغ رابطه‌های فیزیک برویم! فشار در نقطه A، برابر $P_A = P_0 + \rho gh_A$ و در نقطه B، برابر $P_B = P_0 + \rho gh_B$ است؛ بنابراین اختلاف فشار در این دو نقطه، برابر می‌شود با:

$$P_B - P_A = (P_0 + \rho gh_B) - (P_0 + \rho gh_A) = \rho g(h_B - h_A) = 1000 \times 10 \times (0.1 - 0.05) = 500 \text{ Pa}$$

گزینه ۱





تو آب مصرفی یک خانه، مطابق شکل از مخزنی در بالای یک بلندی، تأمین می‌شود. وقتی مخزن پر از آب است، فشار پیمانه‌ای آب در کف این خانه چند کیلوپاسکال است؟ (چگالی آب را 1000 kg/m^3 ، شتاب گرانش را 10 N/kg و $\sqrt{3}$ را برابر $1/7$ بگیرد.)

(۱) ۳۰۰

(۲) ۸۵۰

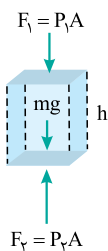
(۳) ۹۰۰

(۴) ۷۵۰

مؤلفه

من اختلاف فشار بین دو نقطه از مایعی در حال سکون، ΔP است. اگر ظرف محتوی این مایع با شتاب رو به پایین $\frac{g}{3}$ در راستای قائم، به حرکت درآید، اختلاف فشار بین این دو نقطه، کدام خواهد شد؟ (سراسری ریاضی ۸۴)

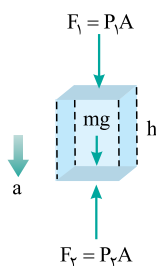
(۱) ΔP (۲) $\frac{1}{3} \Delta P$ (۳) $\frac{2}{3} \Delta P$ (۴) $\frac{4}{3} \Delta P$



پاسخ بایباید یک بار دیگر، کاری را که در ابتدای این درس، برای مقایسه فشار در دو نقطه از یک مایع انجام دادیم، تکرار کنیم. مکعب‌مستطیلی از مایع را مطابق شکل در نظر می‌گیریم و نیروهای وارد بر آن را در راستای قائم نمایش می‌دهیم. وقتی ظرف ساکن است، نیروی خالص وارد بر این مکعب‌مستطیل باید برابر صفر باشد؛ یعنی جمع دو نیروی رو به پایین mg و F_1 باید با نیروی رو به بالای F_2 برابر باشد:

$$F_1 + mg = F_2 \Rightarrow P_1 A + mg = P_2 A \Rightarrow A(P_2 - P_1) = mg \Rightarrow \Delta P = \frac{mg}{A}$$

وقتی ظرف با شتاب $\frac{g}{3}$ رو به پایین به حرکت درمی‌آید، باید نیروی خالص وارد بر مکعب‌مستطیل نشان داده‌شده را طبق قانون دوم نیوتون، برابر ma قرار داد. برای تعیین نیروی خالص، با توجه به **رو به پایین بودن شتاب**، باید دو نیروی رو به پایین را با هم جمع کرده و آن را منهای نیروی رو به بالا کرد:



$$F_1 + mg - F_2 = ma \Rightarrow P_1' A - P_2' A = mg - m \frac{g}{3} \Rightarrow A(P_2' - P_1') = \frac{2}{3} mg \Rightarrow \Delta P' = \frac{2}{3} \times \frac{mg}{A}$$

می‌بینید که در این حالت، اختلاف فشار $\frac{2}{3}$ حالت قبل است.

گزینه ۳

تو اختلاف فشار بین دو نقطه درون سطل پر از آبی، در حال سکون برابر ΔP می‌باشد. اگر سطل آب با شتاب گرانش (g) سقوط کند، اختلاف فشار بین این دو نقطه، (سراسری ریاضی ۱۳۴۹)

(۱) برابر صفر می‌شود.

(۲) بزرگ‌تر از صفر و کوچک‌تر از ΔP می‌شود.

(۳) برابر ΔP می‌ماند.

(سال ۱۳۴۹، سه تا ویژگی خاص داره! اولیش، فرود فضاییهای آمریکایی بر سطح کره ماهه. دومیش، تاریخ قدیمی‌ترین تستای کتلور سراسری ایرانیه که به دست بشر امروزی رسیده و بالآخره، سومیش، سال تولد فودمه!)

(ناگفته نماند که کتاب درسی شما، فشار مایع‌ها را فقط در حالتی بررسی کرده که ظرف حاوی مایع، ساکن باشد و ما فقط با بیان این دو تست، خواستیم کمی افق دید شما را گسترده‌تر کنیم و در بانک تست، اصلاً چنین نمونه‌هایی را برایتان نیاورده‌ایم!)

پیش از به پایان رساندن این درس‌نامه، باید کمی هم در مورد فشار در گازها صحبت کنیم! دیدیم که اگر درون یک مایع، فشار در یک نقطه، برابر P_1 و در نقطه‌ای که به اندازه h پایین‌تر است، برابر P_2 باشد، داریم:

$$P_2 = P_1 + \rho gh$$

این رابطه، در مورد گازها نیز قابل استفاده است؛ اما نکته قابل توجه، این است که چگالی گازها بسیار کوچک است و اگر ارتفاع هم زیاد نباشد، می‌توان گفت که عبارت ρgh قابل چشم‌پوشی و $P_2 = P_1$ است؛ یعنی:

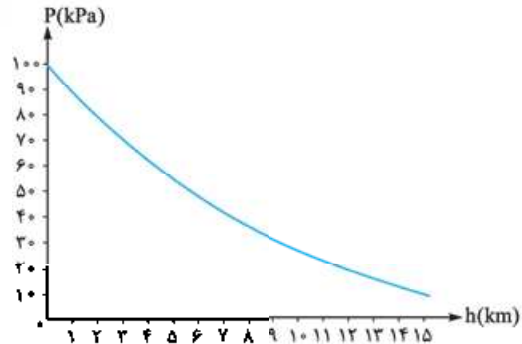
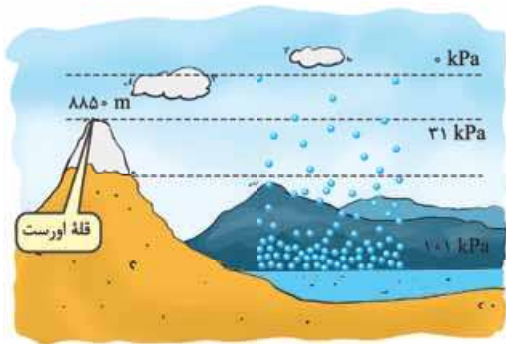
در یک مخزن گاز که ارتفاع خیلی زیادی نداشته باشد، فشار گاز در تمام نقاط، مساوی است.

به این ترتیب، در بیشتر مواردی که با یک گاز سروکار داریم، فشار در تمام نقاط را برابر می‌گیریم؛ اما در صورتی که ارتفاع گاز، خیلی زیاد باشد (که بسیار به ندرت با آن سروکار داریم)، دیگر نمی‌توان فشار در همه نقاط را برابر گرفت. به عنوان یک نمونه واقعی از چنین حالتی، می‌توان به جو زمین اشاره کرد. اگر ارتفاع، چندان زیاد نباشد (مثلاً ارتفاع یک اتاق معمولی)، می‌توان فشار جو را ثابت در نظر گرفت؛ اما در صورتی که مثلاً بخواهیم فشار در قلّه اورست را بدانیم، دیگر نمی‌توان این فشار را با فشار در سطح دریا، برابر گرفت.

اون وقت باید از رابطه $P_2 = P_1 + \rho gh$ استفاده کنیم!؟



متأسفانه خیر! این رابطه هم قابل استفاده نیست! واقعیت این است که به دلیل جاذبه زمین، همان‌گونه که شکل زیر (سمت چپ) نشان می‌دهد، مولکول‌های هوا در ارتفاعات پایین، متراکم‌ترند و به همین دلیل، چگالی هوا در ارتفاع‌های مختلف، یکسان نیست. بیان یک رابطه ریاضی برای چنین حالتی، از محدوده دبیرستان خارج است و در کتاب‌های دانشگاهی به آن پرداخته می‌شود. در شکل سمت راست، نموداری رسم شده که محور قائم آن، فشار هوا و محور افقی‌اش، ارتفاع از سطح زمین را نشان می‌دهد. بد نیست شکل این نمودار در ذهن‌تان بماند!




موضوع بالاب زیر و پفونین و هر وقت فستگی تون در رفت، تمرین‌های تشریحی و تست‌های مربوط به درس دوم را حل کنید.




به این می‌گن «شهردار»!

جلوی اسم اندک افرادی، می‌توان این واژه‌ها را دید:

دانشمند، مخترع و سیاستمدار!



(به فصوص این آفریه، با دوتای اولی، یه فرده ناهماهنگ به نظر میاد!) شخص مورد نظر ما، اتو فن گریکه، یک آلمانی در قرن هفدهم میلادی است. او در سال ۱۶۵۴ میلادی، یک پمپ خلأ ابداع کرد که وقتی به یک محفظه وصل می‌شد، می‌توانست هوای داخل آن را تخلیه کند. او سپس برای آن‌که نشان دهد، هوا به اجسام فشار می‌آورد، آزمایش جالبی در شهر «ماگدبورگ»، در شمال شرقی آلمان، ترتیب داد. او، خود، شهردار این شهر نیز بود! آزمایش جالبی که او برای نمایش فشار هوا به مردم شهرش انجام داد به این صورت بود:



دو نیم کرهٔ توخالی مسی، به قطر تقریبی 5° سانتی متر را در کنار هم قرار داد تا یک کره پدید آید. سپس، توسط پمپ خلأ خود، هوای درون این کره را خارج کرد. با این کار، نیرویی که هوای خارج، بر دو نیم کره وارد می کرد، سبب به هم چسبیدن آن ها می شد. او هشت اسب را توسط زنجیرهایی به یک طرف و هشت اسب دیگر را به طرف دیگر کره وصل کرد و همهٔ تماشاگران دیدند که با وجود کشش اسبها از دو طرف، نیم کرهها از هم جدا نمی شوند! نیم کرههایی که او در این آزمایش به کار برد، هم اکنون در موزهٔ علم و فناوری مونیخ، نگهداری می شوند.





درس دوم

۸- درستی یا نادرستی هر یک از عبارات‌های زیر را مشخص کنید. (جلوی هر کدام، بنویسید «درست» یا «نادرست».)

۸-۱) یک نیروی معین، هر چه به سطح کوچک‌تری در راستای عمود بر سطح وارد شود، فشار وارد بر سطح بیشتر است.

۸-۲) هر چه در یک مایع ساکن پایین‌تر برویم، فشار مایع کاهش می‌یابد.

۸-۳) فشار پیمانه‌ای هرگز منفی نمی‌شود.

۸-۴) در یک مخزن گاز که ارتفاع خیلی زیادی نداشته باشد، فشار گاز در تمام نقاط یکسان است.

۸-۵) چگالی و فشار هوا در نزدیکی سطح زمین، بیشترین مقدار را دارد.

۹- در هر یک از موارد زیر، عبارت درست را از داخل پرانتز انتخاب کنید و آن را در انتهای هر مورد بنویسید.

۹-۱) فشار یک کمیت (نرده‌ای - برداری) است.

۹-۲) با افزایش ارتفاع از سطح زمین، چگالی هوا (کاهش - افزایش) می‌یابد.

۹-۳) در شاره‌ای که فشار آن کم‌تر از فشار جو است، فشار پیمانه‌ای (منفی - مثبت) است.

۹-۴) یک شاره ساکن به هر سطحی که با آن در تماس باشد، نیرویی (موازی آن سطح - عمود بر آن سطح) وارد می‌کند.

۱۰-۱) در هر یک از موارد زیر، جاهای خالی را با عبارات‌های مناسب پر کنید:

۱۰-۱) یکای فشار در SI، پاسکال نام دارد که برحسب یکاهای اصلی به صورت نوشته می‌شود.

۱۰-۲) نمودار فشار هوا برحسب ارتفاع از سطح زمین، خطی نیست و دلیل آن، یکسان نبودن در ارتفاعات مختلف است.

۱۰-۳) در نقاطی از یک مایع که روی قرار داشته باشند، فشار یکسان است.

۱۰-۱) به هر یک از پرسش‌های زیر پاسخ دهید:

۱۰-۱) یکای فشار برحسب یکاهای اصلی SI به چه صورت نوشته می‌شود؟

۱۰-۲) چرا نمودار فشار هوا برحسب ارتفاع از سطح زمین، یک نمودار خطی نیست؟

۱۰-۳) در چه نقاطی از یک مایع، فشار یکسان است؟

۱۱- یک ستون از هوا به سطح مقطع 1 m^2 را در نظر می‌گیریم که از سطح دریای آزاد تا بالاترین بخش جو زمین ادامه می‌یابد. اگر فشار هوا در سطح دریا،

1 bar باشد، چند کیلوگرم هوا در این ستون وجود دارد؟ ($1 \text{ bar} = 10^5 \text{ Pa}$, $g = 10 \text{ N/kg}$)



۱۲- مکعبی شیشه‌ای به ضلع $a = 5 \text{ cm}$ ، دارای جرم $m = 0.225 \text{ kg}$ می‌باشد. چگالی شیشه را برحسب g/cm^3 به دست آورده و حساب کنید فشاری که مکعب به سطح افقی وارد می‌کند، چند پاسکال است؟ ($g = 10 \text{ N/kg}$)

۱۳- نشان دهید در شاره‌ای به چگالی ρ که در حال تعادل است، اگر فشار در یک نقطه، برابر P_1 و در نقطه دیگری که به اندازه h در راستای قائم، پایین‌تر از آن است، برابر P_2 باشد، داریم: $P_2 = P_1 + \rho gh$

۱۴- فشار کل در چه عمقی از یک دریاچه، ۵ برابر فشار هوا است؟ (فشار هوا 10^5 Pa ، چگالی آب 1 g/cm^3 و $g = 10 \text{ N/kg}$ است.)



۱۵- بیستونی به وزن 100 N و سطح مقطع 100 cm^2 ، بر روی مایعی مطابق شکل روبه‌رو قرار دارد. فشار کل را در عمق ۳ متری زیر بیستون، به دست آورید. (فشار هوا را 10^5 Pa و چگالی مایع را، 2000 kg/m^3 بگیرید؛ هم‌چنین $g = 10 \text{ N/kg}$ است.)

بانک تست درس دوم

از این جا به بعد، بانک تست به روال معمول برمی‌گردد! تست‌های هر بخش با «دست‌گرمی» آغاز می‌شود و پس از آن، «تمرین» در انتظار شما است. این دو بخش باید بدون زمان گرفتن حل شوند و در آخر، یک آزمون داریم که برای آن، باید زمان خود را محدود کنید.




۱۷۷- فشار و نیرو، چه نوع کمیت‌هایی هستند؟ (به ترتیب از راست به چپ)

- (۱) نرده‌ای، نرده‌ای
(۲) نرده‌ای، برداری
(۳) برداری، نرده‌ای
(۴) برداری، برداری

۱۷۸- یک زیردریایی تفریحی، همانند شکل روبه‌رو، در اعماق اقیانوسی به آرامی حرکت می‌کند. این زیردریایی، پنجره‌های کوچک دایره‌ای، به شعاع 0.4 m دارد. اگر فشار آب در محل هر یک از پنجره‌ها، $9 \times 10^5 \text{ Pa}$ باشد، بزرگی نیروی عمودی‌ای که آب بر سطح خارجی یکی از این پنجره‌ها وارد می‌کند، چند نیوتون است؟ ($\pi = 3$)

اشتی با کتاب‌دوستی

- (۱) $4/32 \times 10^4$
(۲) $4/32 \times 10^5$
(۳) $3/6 \times 10^5$
(۴) $3/6 \times 10^4$



۱۷۹- شکل روبه‌رو، غواصی را نشان می‌دهد که با قراردادن یک سر شلنگی در دهان خود، در حالی که سر دیگر آن از آب بیرون است، تا عمق ۶ متر در آب فرو رفته است. فشار پیمان‌های وارد بر قفسه سینه او از طرف آب، چند اتمسفر است؟ (چگالی آب 1000 kg/m^3 ، فشار هوای محیط $1 \text{ atm} = 10^5 \text{ Pa}$ و $g = 10 \text{ m/s}^2$ است.)

اشتی با کتاب‌دوستی

- (۱) ۱
(۲) ۶
(۳) $0/6$
(۴) $0/3$

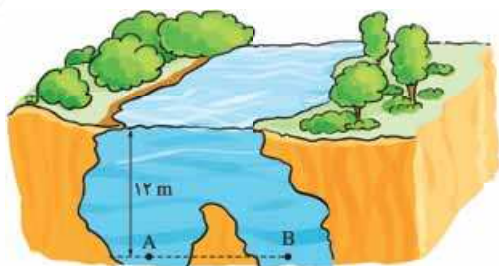


۱۸۰- در شکل روبه‌رو، محلولی به چگالی 1040 kg/m^3 در کیسه پلاستیکی وجود دارد. سوزن سرنگی در قسمت خالی از مایع بالای این کیسه وارد شده و فشار هوای این قسمت، با فشار هوای محیط مساوی است. اگر فشار پیمان‌های در سیاهرگ، 1300 Pa باشد، کمینه ارتفاع h چند سانتی‌متر باشد تا محلول، در سیاهرگ نفوذ کند؟ ($g = 10 \text{ N/kg}$)

اشتی با کتاب‌دوستی

- (۱) ۲۵
(۲) $12/5$
(۳) ۷۵
(۴) $1/25$





۱۸۱- در شکل روبه‌رو، چگالی آب برابر 10^3 kg/m^3 و فشار هوا در سطح دریاچه، 10^5 Pa است. فشار در نقطه A برابر پاسکال و در نقطه B، فشار در نقطه A است. $(g = 10 \text{ N/kg})$

اشتی با کتاب‌دبوسی

- (۱) $2/2 \times 10^5$ ، کم‌تر از
 (۲) $2/2 \times 10^5$ ، برابر
 (۳) $1/2 \times 10^5$ ، برابر
 (۴) $1/2 \times 10^5$ ، کم‌تر از

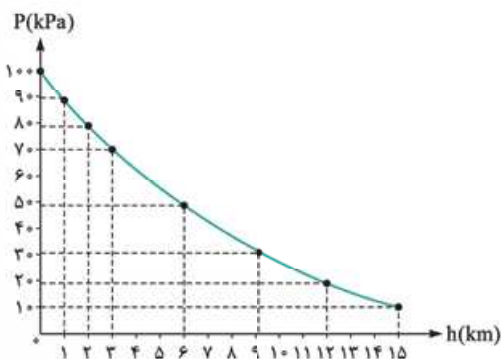
اشتی با کتاب‌دبوسی

۱۸۲- با افزایش ارتفاع از سطح زمین، چگالی هوا، و فشار هوا می‌یابد. (به ترتیب از راست به چپ)

- (۱) کاهش، افزایش
 (۲) افزایش، کاهش
 (۳) کاهش، نیز کاهش
 (۴) افزایش، نیز افزایش

۱۸۳- نمودار روبه‌رو، ارتباط فشار هوا را با ارتفاع از سطح زمین نشان می‌دهد. با استفاده از این نمودار، می‌توان نتیجه گرفت که به ازای هر ۱ کیلومتر که از سطح زمین دور می‌شویم، فشار هوا چند کیلوپاسکال کاهش می‌یابد؟

- (۱) ۱
 (۲) ۱۰
 (۳) ۵
 (۴) بستگی به ارتفاع اولیه دارد.



۱۸۴- اگر ارتفاع برج آزادی، ۴۵ m باشد و چگالی هوا را ثابت و برابر 1 kg/m^3 بگیریم، اختلاف فشار هوا در بالا و پایین این برج، چند اتمسفر است؟ $(g = 10 \text{ N/kg}$ و $1 \text{ atm} = 10^5 \text{ Pa}$) است.

اشتی با کتاب‌دبوسی

- (۱) $4/5 \times 10^{-3}$
 (۲) $4/5 \times 10^2$
 (۳) $4/5 \times 10^{-1}$
 (۴) $4/5$



تسریین

۱۸۵- دو استوانه هم‌جنس و توپر از طرف قاعده، روی یک سطح افقی قرار دارند. اگر سطح قاعده و ارتفاع یکی از آن‌ها به ترتیب ۲ برابر سطح قاعده و ارتفاع دیگری باشد، فشار وارد از استوانه بزرگ‌تر بر سطح افقی، چند برابر فشار وارد از استوانه کوچک‌تر بر سطح افقی است؟

- (۱) $\frac{1}{2}$
 (۲) ۱
 (۳) ۲
 (۴) ۴

۱۸۶- دو استوانه توپر و هم‌وزن A و B به طور قائم روی یک سطح افقی قرار دارند. اگر مساحت قاعده A، ۴ برابر مساحت قاعده B باشد، فشار A بر سطح چند برابر فشار B خواهد بود؟

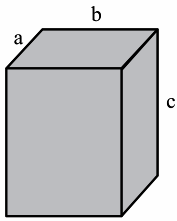
- (۱) $\frac{1}{4}$
 (۲) ۲
 (۳) $\frac{1}{4}$
 (۴) ۴

۱۸۷- ابعاد ظرف استوانه‌ای B، دو برابر ابعاد ظرف استوانه‌ای A است. ظرف A را پر از آب می‌کنیم و هم‌جرم با آب، در استوانه B، جیوه می‌ریزیم. فشاری که آب بر کف ظرف A وارد می‌کند، چند برابر فشاری است که جیوه بر کف ظرف B وارد می‌کند؟ $(\rho_{\text{آب}} = 13/6 \rho_{\text{جیوه}})$

- (۱) $\frac{1}{13/6}$
 (۲) $\frac{1}{6}$
 (۳) $13/6$
 (۴) ۴ (سراسری قارچ از کشور تبری ۹۶)

۱۸۸- وزن آجری 10 N و ابعاد آن $10 \text{ cm} \times 20 \text{ cm} \times 5 \text{ cm}$ است. حداقل چند عدد از همین آجر را باید روی هم بگذاریم تا فشاری برابر با فشار هوا (یعنی 10^5 Pa) به سطح وارد کنند؟

- (۱) ۵۰
 (۲) ۱۰۰
 (۳) ۲۵
 (۴) ۴۰



۱۸۹- در مکعب‌مستطیل شکل روبه‌رو، اگر ابعاد a ، b و c به نسبت ۱، ۲ و ۳ باشد و مکعب را روی وجوه مختلف روی سطح افقی قرار دهیم، بیشترین فشاری که به سطح وارد می‌کند، چند برابر کم‌ترین فشار است؟
(فارج از کشور ریاضی ۹۷)

- ۱/ ۵ (۱)
۲ (۲)
۳ (۳)
۶ (۴)

توجه! توبه! دو تست بعدی، تست‌هایی ترکیبی هستند و بپه‌های دهمی و یازدهمی نمی‌تونن پوش پاسخ بدن و باید اون‌ها رو علامت بزنین و هیشو بزارن برای یکی دو سال بعد! واقعیت اینه که بعضی وقت‌ها توو کنکور تست‌ها رو با استفاده از ترکیب مطالبی که توو سال‌های مختلف می‌فونین، طرح می‌کنن. ما پنین تست‌هایی رو هم توو این کتاب آوردیم که از هر نظر به کامل بودن کتاب‌های شگفت‌انگیز فیزیک ایمان بیارید! تست بعدی، با ترکیب مطالب فصل دوم فیزیک دوازدهم و این فصل از فیزیک دهم سافته شده؛ البته این تست، به تست تألیفیه و مربوط به کنکورهای سراسری گذشته نیست. بپه‌های دوازدهم و داوطلبای کنکور امسال، آگه فصل دوم فیزیک دوازدهم رو فوندن، می‌تونن روی این تست کار کنن؛ در غیر این صورت اون رو علامت بزنین و یادتون باشه بعداً که این فصل از دوازدهم رو فوندین، پوش برگردین!



۱۹۰- مکعب‌مستطیل توپری به چگالی 9000 kg/m^3 و ابعاد $5 \text{ cm} \times 10 \text{ cm} \times 20 \text{ cm}$ در کف آسانسوری که با شتابی ثابت به اندازه 2 m/s^2 بالا می‌رود، قرار دارد. بیشترین فشاری که این مکعب‌مستطیل ممکن است بر کف آسانسور وارد کند، چند کیلوپاسکال با کم‌ترین فشاری که ممکن است وارد کند، اختلاف دارد؟ ($g = 10 \text{ m/s}^2$)

- ۱۳/۵ (۱) ۱۵ (۲) ۱۰/۵ (۳) ۱۸ (۴)

۱۹۱- آجری به جرم $1/5 \text{ kg}$ و ابعاد $5 \text{ cm} \times 10 \text{ cm} \times 20 \text{ cm}$ بر کف آسانسوری قرار گرفته است. آسانسور از حال سکون با شتاب ثابتی به اندازه 1 m/s^2 به طرف پایین به حرکت درمی‌آید. بیشترین فشاری که این آجر می‌تواند بر کف آسانسور وارد کند، چند پاسکال است؟ ($g = 10 \text{ m/s}^2$)

- ۳۲۰۰ (۱) ۲۷۰۰ (۲) ۴۵۰۰ (۳) ۱۲۰۰ (۴)

۱۹۲- اگر در عمق ۵ سانتی‌متری مایعی فشار 100 کیلوپاسکال و در عمق ۲۰ سانتی‌متری آن فشار 106 کیلوپاسکال باشد، فشار هوا در محیط چند کیلوپاسکال است؟ ($g = 10 \text{ m/s}^2$)

- ۹۶ (۱) ۹۷ (۲) ۹۸ (۳) ۹۹ (۴)

۱۹۳- در مکانی که فشار هوا $1.026 \times 10^5 \text{ Pa}$ است، اگر از عمق ۱۰ سانتی‌متری مایعی، به عمق ۵۳ سانتی‌متری برویم، فشار $1/5$ برابر می‌شود. چگالی مایع چند گرم بر سانتی‌متر مکعب است؟ ($g = 10 \text{ m/s}^2$)

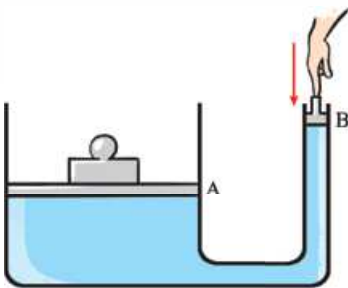
(تهری ۱۳۰۰)

- ۲/۵ (۱) ۲/۶ (۲) ۱۳/۵ (۳) ۱۳/۸ (۴)

۱۹۴- مکعبی به ضلع 60 cm ، پر از آب است. اگر همه آب این مکعب را درون استوانه‌ای که مساحت قاعده آن $36/0$ متر مربع است، بریزیم، فشاری که این آب در کف استوانه ایجاد می‌کند، چند برابر فشاری است که در کف مکعب ایجاد می‌کند؟

(سراسری تهری ۹۶)

- ۱ (۱) π (۲) $\sqrt{2}$ (۳) ۱ (۴)



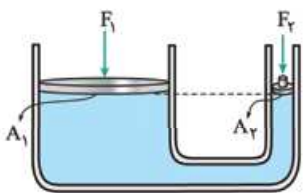
۱۹۵- در شکل روبه‌رو، جرم پیستون B ناچیز است و از همه اصطکاک‌ها چشم‌پوشی می‌شود. اگر این پیستون را بسیار آرام پایین ببریم، فشار مایع در نقطه‌ای درست زیر این پیستون،

- ۱) پیوسته کاهش می‌یابد.
۲) پیوسته افزایش می‌یابد.
۳) ثابت می‌ماند.

۴) تا هم‌تراز شدن دو پیستون، افزایش و پس از آن کاهش می‌یابد.

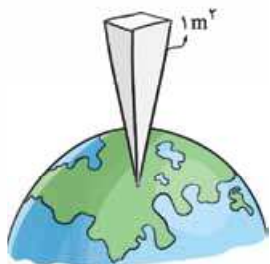
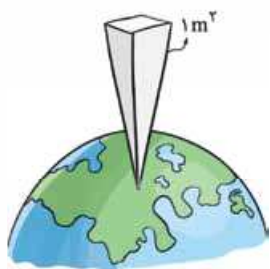
۱۹۶- در شکل روبه‌رو، به دو پیستون که روی یک مایع قرار دارند، نیروهای F_1 و F_2 وارد می‌شود و فشار P_1 و P_2 را روی دو سطح هم‌تراز A_1 و A_2 ایجاد می‌کنند. اگر پیستون‌ها تحت تأثیر این نیروها حرکت نکنند (در تعادل باشند)، نتیجه می‌گیریم که

(سراسری فارج از کشور ریاضی ۸۷)



$$F_1 = \left(\frac{A_1}{A_2}\right)F_2 \quad (۲) \quad F_1 = F_2 \quad (۱)$$

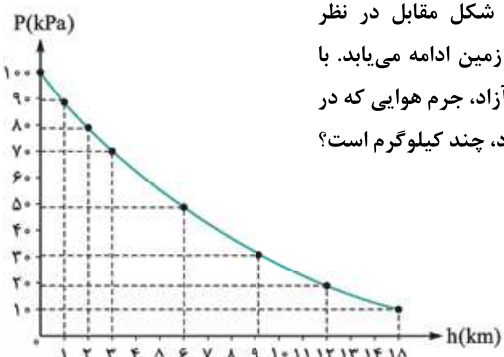
$$F_1 = \left(\frac{A_2}{A_1}\right)F_2 \quad (۴) \quad P_1 = \left(\frac{A_1}{A_2}\right)P_2 \quad (۳)$$



۱۹۷- یک ستون از هوا به سطح مقطع 1 m^2 را همانند شکل مقابل در نظر می‌گیریم که از سطح دریای آزاد تا بالاترین بخش جو زمین ادامه می‌یابد. با توجه به نمودار فشار هوا برحسب ارتفاع از سطح دریای آزاد، چند درصد از جرم هوای موجود در این ستون، تا ارتفاع ۹ کیلومتری آن قرار دارد؟ ($g = 10 \text{ N/kg}$)

اشتی، یا کتاب دومی

- ۳۰ (۱)
- ۷۰ (۲)
- ۴۰ (۳)
- ۶۰ (۴)



۱۹۸- ستونی از هوا به سطح مقطع 1 m^2 را همانند شکل مقابل در نظر می‌گیریم که از سطح دریای آزاد تا بالاترین بخش جو زمین ادامه می‌یابد. با توجه به نمودار فشار هوا برحسب ارتفاع از سطح دریای آزاد، جرم هوایی که در این ستون از سطح دریای آزاد تا ارتفاع ۳ km وجود دارد، چند کیلوگرم است؟

- ۳۰۰۰ (۱)
- ۲۰۰۰ (۲)
- ۱۰۰۰ (۳)
- ۷۰۰۰ (۴)

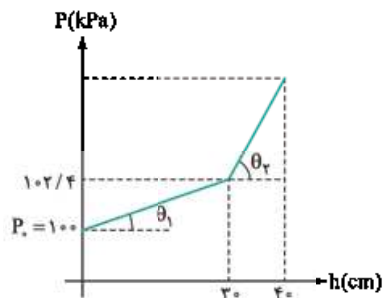
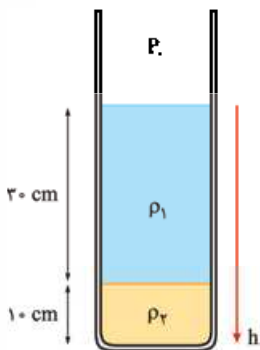
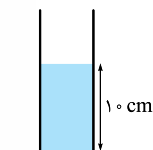
۱۹۹- سطح مقطع یک ظرف استوانه‌ای 20 cm^2 است و در آن تا ارتفاع ۱۰ سانتی‌متر آب ریخته شده است. روی آب چند گرم روغن با چگالی 0.6 g/cm^3 بریزیم تا فشار حاصل از این دو مایع در کف استوانه برابر ۲۰۰۰ پاسکال شود؟ ($g = 10 \text{ m/s}^2$ و $1 \text{ g/cm}^3 =$ چگالی آب) (سراسری قارچ از کشور ریاضی ۹۵)

- ۲۴۰ (۴)
- ۲۰۰ (۳)
- ۱۲۰ (۲)
- ۱۰۰ (۱)

۲۰۰- مطابق شکل روبه‌رو، در یک استوانه بلند به سطح مقطع 20 cm^2 تا ارتفاع ۱۰ cm از یک مایع به چگالی 1250 g/cm^3 گرم بر لیتر قرار دارد و فشار در ته لوله P_1 است. چند سانتی‌متر مکعب از مایع دیگری به چگالی 800 g/cm^3 گرم بر لیتر به مایع داخل لوله اضافه کنیم، تا فشار در ته لوله به $1/2 P_1$ برسد؟ (سراسری تهرانی ۹۹)

($g = 10 \text{ N/kg}$ و $\rho_{\text{جیوه}} = 13/5 \text{ g/cm}^3$ و $P_0 = 75 \text{ cm Hg}$)

- ۵۱/۲۵ (۱)
- ۲۵۶/۲۵ (۲)
- ۵۱۲/۵ (۳)
- ۲۵۶۲/۵ (۴)



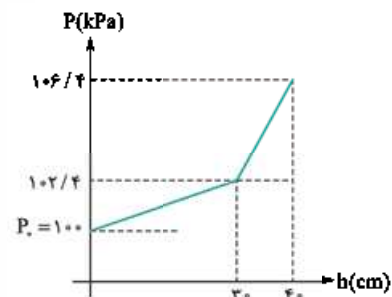
۲۰۱- در ظرفی مطابق شکل مقابل، دو مایع مخلوط‌نشده وجود دارد. اگر نمودار تغییرات فشار برحسب عمق دو مایع، مطابق شکل روبه‌رو باشد و $\tan \theta_2 = 17 \tan \theta_1$ باشد، ρ_2 و ρ_1 در SI کدام‌اند؟ (سراسری قارچ از کشور ریاضی ۹۶)

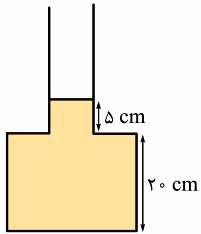
- ۱۰۲۰۰ و ۶۰۰ (۱)
- ۱۲۷۵۰ و ۷۵۰ (۲)
- ۱۳۵۰۰ و ۸۰۰ (۳)
- ۱۳۶۰۰ و ۸۰۰ (۴)

۲۰۲- دو مایع مخلوط‌نشده را در ظرفی ریخته‌ایم و نمودار فشار برحسب عمق به شکل روبه‌رو است.

اختلاف چگالی دو مایع چند کیلوگرم بر متر مکعب است؟ ($g = 10 \text{ N/kg}$)

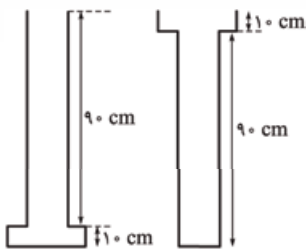
- ۴۰۰۰ (۱)
- ۳۲۰۰ (۲)
- ۸۰۰ (۳)
- ۱۲۰۰ (۴)





۲۰۳- در ظرفی مطابق شکل، روغنی به چگالی 0.8 g/cm^3 ریخته شده است. 100 g آب به چگالی 1 g/cm^3 را در همین ظرف می‌ریزیم و دو مایع را که مخلوط نمی‌شوند، به هم می‌زنیم و صبر می‌کنیم تا مایع‌ها از هم جدا شوند و در حال تعادل قرار گیرند. افزایش فشار در کف ظرف چند پاسکال می‌شود؟ (مساحت کف ظرف 10 cm^2 و مساحت دهانه آن 2 cm^2 و $g = 10 \text{ N/kg}$ است و مایعی از ظرف بیرون نمی‌ریزد.)

- (۱) 7200 (۲) 3600 (۳) 4200 (۴) 6400



۲۰۴- دو ظرف به شکل‌های روبه‌رو در اختیار داریم که سطح مقطع قسمت باریک هر کدام 5 cm^2 و سطح مقطع قسمت پهن‌تر، 10 cm^2 است. در هر دو ظرف 450 g گلیسیرین به چگالی 0.9 g/cm^3 می‌ریزیم. اختلاف فشار در کف دو ظرف چند پاسکال می‌شود؟ ($g = 10 \text{ N/kg}$)

- (۱) 450 (۲) 650 (۳) 840 (۴) 440

۲۰۵- نصف حجم استوانه‌ای از یک مایع با چگالی ρ_1 پر شده و نیمه بالایی آن از مایعی با چگالی ρ_2 پر شده است و فشار حاصل از دو مایع در کف استوانه برابر P_1 است. اگر این دو مایع را به هم بزنیم و مخلوط کنیم، فشار حاصل از مخلوط در کف استوانه برابر P_2 می‌شود. کدام رابطه درست است؟ (حجم هر یک از مایع‌ها پس از مخلوط شدن تغییری نمی‌کند.)

(فارج از کشور تهری ۹۷)

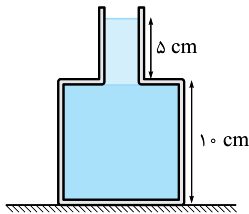
$$P_2 = P_1 \quad (1) \quad P_2 > P_1 \quad (2) \quad P_2 < P_1 \quad (3) \quad P_2 = \frac{\rho_1 + \rho_2}{2(\rho_1 - \rho_2)} P_1 \quad (4)$$

۲۰۶- دو مایع A و B را که چگالی آن‌ها $\rho_A = 1/2 \text{ g/cm}^3$ و $\rho_B = 0.6 \text{ g/cm}^3$ است را با یکدیگر مخلوط کرده و در یک ظرف استوانه‌ای می‌ریزیم. اگر $1/3$ حجم مخلوط از مایع A و بقیه آن، از مایع B و ارتفاع مخلوط در ظرف 75 سانتی‌متر باشد، فشار وارد از طرف مخلوط بر کف چند پاسکال است؟ ($g = 10 \text{ m/s}^2$)

(سراسری ریاضی ۹۵)

- (۱) 6000 (۲) 6750 (۳) 9000 (۴) 9750

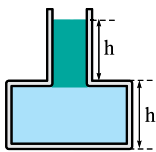
۲۰۷- در ظرفی مطابق شکل مقابل، دو مایع ریخته‌ایم. چگالی مایع پایینی برابر ρ_1 و چگالی مایع بالایی برابر $\rho_2 = 1/3 \rho_1$ است و فشار ناشی از دو مایع در کف ظرف را P_1 می‌نامیم. اگر دو مایع را با هم مخلوط کنیم و تغییر حجمی برای هر کدام رخ ندهد، فشار ناشی از



مخلوط دو مایع در کف ظرف برابر P_2 می‌شود. نسبت $\frac{P_2}{P_1}$ کدام است؟ (مساحت مقطع کف ظرف، ۲ برابر مساحت مقطع دهانه آن است.)

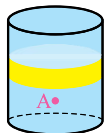
- (۱) 1 (۲) $\frac{27}{25}$ (۳) $\frac{21}{19}$ (۴) $\frac{18}{11}$

۲۰۸- دو مایع مطابق شکل در یک ظرف قرار دارند. چگالی مایع بالایی برابر ρ و چگالی مایع پایینی برابر 2ρ است. اگر دو مایع را با هم مخلوط کنیم و تغییر حجمی برای مایع‌ها رخ ندهد، فشار مایع در کف ظرف چه تغییری می‌کند؟ (مساحت مقطع کف ظرف، ۲ برابر مساحت مقطع دهانه آن است.)



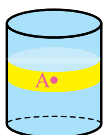
- (۱) ثابت می‌ماند. (۲) افزایش می‌یابد. (۳) کاهش می‌یابد. (۴) هر یک از سه گزینه قبل امکان‌پذیر است.

۲۰۹- دو مایع مطابق شکل روبه‌رو، در ظرفی به شکل استوانه ریخته شده‌اند و چگالی مایع پایینی بیشتر است. اگر دو مایع را با هم مخلوط کنیم و بر اثر مخلوط شدن، تغییر حجمی برای هر مایع رخ ندهد، فشار در نقطه A چه تغییری می‌کند؟



- (۱) ثابت می‌ماند. (۲) افزایش می‌یابد. (۳) کاهش می‌یابد. (۴) هر یک از سه گزینه قبل امکان‌پذیر است.

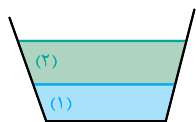
۲۱۰- دو مایع مطابق شکل روبه‌رو، در ظرفی به شکل استوانه ریخته شده‌اند و چگالی مایع پایینی بیشتر است. اگر دو مایع را با هم مخلوط کنیم و بر اثر مخلوط شدن، تغییر حجمی برای هر مایع رخ ندهد، فشار در نقطه A چه تغییری می‌کند؟



- (۱) ثابت می‌ماند. (۲) افزایش می‌یابد. (۳) کاهش می‌یابد. (۴) هر یک از سه گزینه قبل امکان‌پذیر است.



۲۱۱- جرم یکسانی از دو مایع (۱) و (۲) مطابق شکل زیر، در ظرفی ریخته شده است. اگر دو مایع را با هم مخلوط کنیم و بر اثر مخلوط کردن، تغییر حجمی برای هر مایع رخ ندهد، فشار مایع در کف ظرف چه تغییری می‌کند؟ (ارتفاع نشان داده شده در شکل برای دو مایع لزوماً منطبق بر داده‌های سؤال نیست.)



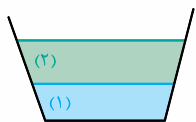
(۱) ثابت می‌ماند.

(۲) کاهش می‌یابد.

(۳) افزایش می‌یابد.

(۴) هر یک از سه گزینه قبل می‌تواند رخ دهد.

۲۱۲- حجم یکسانی از دو مایع (۱) و (۲) مطابق شکل زیر، در ظرفی ریخته شده است. اگر دو مایع را با هم مخلوط کنیم و بر اثر مخلوط کردن، تغییر حجمی برای هر مایع رخ ندهد، فشار مایع در کف ظرف چه تغییری می‌کند؟ (ارتفاع نشان داده شده در شکل برای دو مایع لزوماً منطبق بر داده‌های سؤال نیست.)

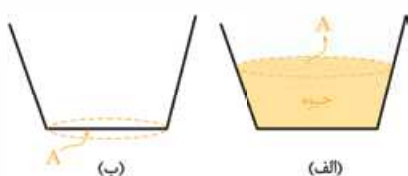


(۱) ثابت می‌ماند.

(۲) کاهش می‌یابد.

(۳) افزایش می‌یابد.

(۴) هر یک از سه گزینه قبل می‌تواند رخ دهد.



۲۱۳- در شکل روبه‌رو، در ظرف (الف) ۱ kg جیوه ریخته‌ایم. مساحت سطح آزاد جیوه این ظرف، با مساحت کف ظرف (ب) مساوی است. اگر در ظرف (ب)، ۱ kg آب که چگالی‌اش کم‌تر از جیوه است، بریزیم و آبی از ظرف بیرون نریزد، فشار آب در کف ظرف (ب) نسبت به فشار جیوه در کف ظرف (الف)

(۱) بیشتر است.

(۲) کم‌تر است.

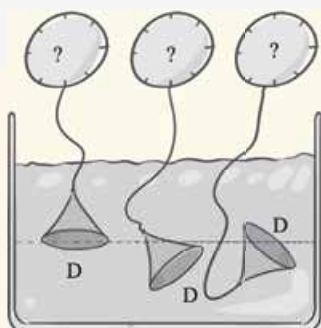
(۳) یکسان است.

(۴) قابل مقایسه نیست.



آزمون

برای آزمون آماده‌اید یا نه؟! بد نیست پیش از این که این آزمون را از خودتان بگیرید، یک بار دیگر به حل تست‌های مهم در بخش «تمرین» نگاهی بیندازید. این را هم فراموش نکنید که در بخش «آزمون»، تست‌ها از ساده به سخت چیده نشده‌اند و شما باید یاد بگیرید که یک شکارچی تست باشید! تست‌هایی را که فکر می‌کنید زمان بیشتری لازم دارند، ابتدا کنار بگذارید و اگر وقت اضافه داشتید، به آن‌ها برگردید. برای ۲۰ تست این آزمون، باید ۳۰ دقیقه به خودتان زمان بدهید. هر وقت آماده بودید، شروع کنید؛ موفق باشید!



۲۱۴- در شکل روبه‌رو، سه فشارسنج، فشاری را اندازه می‌گیرند که بر غشای کوچک D در عمق معینی از یک دریاچه وارد می‌شود. کدام رابطه بین فشارهای اندازه‌گیری شده، درست است؟

(۱) $P_A = P_B = P_C$

(۲) $P_A = P_B > P_C$

(۳) $P_A < P_B < P_C$

(۴) $P_A = P_C < P_B$

۲۱۵- یک استوانه توپر به ارتفاع ۴۰ سانتی‌متر از قاعده‌اش روی یک سطح افقی ساکن است. اگر چگالی استوانه ۸۰۰ کیلوگرم بر متر مکعب باشد، فشاری که به سطح افقی وارد می‌کند، چند پاسکال است؟ ($g = 10 \text{ N / kg}$)

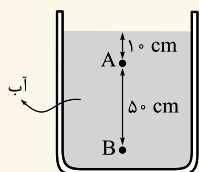
(۴) بستگی به مساحت قاعده استوانه دارد.

(۲) ۱۶۰۰

(۲) ۲۴۰۰

(۱) ۳۲۰۰

۲۱۶- در شکل مقابل، فشار در نقطه B چند برابر فشار در نقطه A است؟ ($P_0 = 9/9 \times 10^4 \text{ Pa}$ و چگالی آب ۱ گرم بر سانتی‌متر مکعب است.)



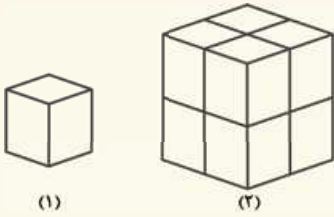
(۲) $\frac{6}{5}$

(۱) $\frac{5}{4}$

(۴) $\frac{21}{30}$

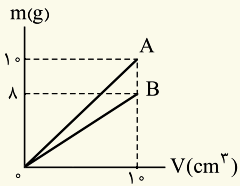
(۳) $\frac{20}{19}$

۲۱۷- در شکل روبه‌رو، مکعب شکل (۱) مشابه هر یک از مکعب‌های شکل (۲) است. فشاری که مکعب‌های شکل (۲) بر سطح افقی وارد می‌کنند، چند برابر فشار حاصل از مکعب شکل (۱) است؟



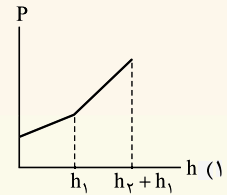
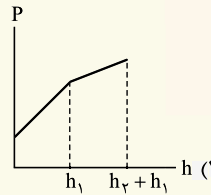
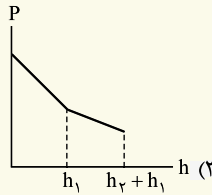
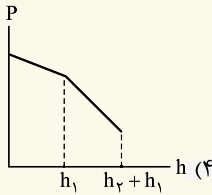
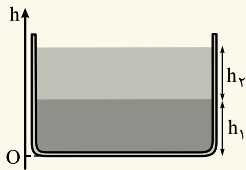
- (۱) ۴
(۲) ۸
(۳) ۲
(۴) ۱

۲۱۸- نمودار جرم برحسب حجم برای دو مایع A و B به شکل روبه‌رو است. اگر ۲۵۰ g از مایع A و ۲۰۰ g از مایع B را با هم مخلوط کنیم و مخلوط را در ظرفی بریزیم تا ارتفاع آن ۲۵ cm شود، فشار مخلوط دو مایع در کف ظرف چند پاسکال می‌شود؟ ($g = 10 \text{ N/kg}$ و هر یک از مایع‌ها بر اثر مخلوط شدن تغییر حجم نمی‌دهند).

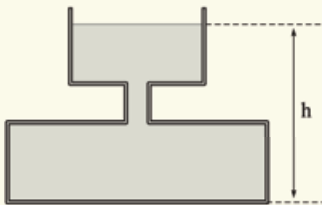


- (۱) ۱۲۵۰
(۲) ۲۵۰۰
(۳) ۲۲۵۰
(۴) ۴۵۰۰

۲۱۹- دو مایع مخلوط‌نشده‌ی مطابق شکل، در ظرفی ریخته شده‌اند و چگالی مایع پایینی بیشتر از مایع بالایی است. کدام گزینه نمودار فشار کل برحسب ارتفاع از کف ظرف را درست نشان می‌دهد؟

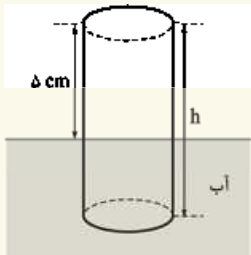


۲۲۰- در شکل روبه‌رو، طرف تا ارتفاع h از آب پر شده و سطح مقطع قسمت‌های مختلف استوانه‌ای شکل آن برحسب متر مربع، از بالا به پایین، به ترتیب ۰/۰۴، ۰/۰۱، ۰/۰۸ است. اگر ۲ لیتر آب بر آب ظرف اضافه کنیم و آبی از ظرف بیرون نریزد، فشار در کف ظرف چند پاسکال افزایش می‌یابد؟ (چگالی آب را ۱۰۰۰ کیلوگرم بر متر مکعب فرض کنید).



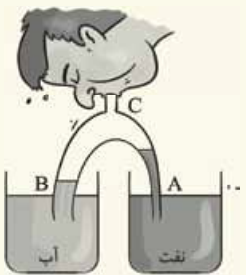
- (۱) ۲۰۰
(۲) ۳۰۰
(۳) ۴۰۰
(۴) ۵۰۰

۲۲۱- لوله‌ای با دو انتهای باز مطابق شکل، به طور قائم در آب استخری شناور و ارتفاع ۵ سانتی‌متر از آن خارج آب است. از بالا، به آرامی داخل لوله روغن می‌ریزیم؛ در نتیجه سطح آب در لوله، به آرامی پایین می‌رود. ریختن روغن در لوله را آن‌قدر ادامه می‌دهیم تا کل لوله با روغن پر شود. ارتفاع لوله (h) چند سانتی‌متر بوده است؟ (چگالی روغن و آب، به ترتیب ۰/۹ و ۱ گرم بر سانتی‌متر مکعب است و از تغییر ارتفاع آب استخر چشم‌پوشی می‌شود).



- (۱) ۱۰۰
(۲) ۲۵
(۳) ۵۰
(۴) ۶۰

۲۲۲- در شکل روبه‌رو، قطر مقطع لوله در قسمت A نصف قسمت B است. اگر مقداری از هوای لوله‌ها از قسمت C مکیده شده و سپس از این قسمت، لوله را مسدود کنیم، نسبت ارتفاع آب در لوله B به ارتفاع نفت در لوله A چه قدر می‌شود؟ (چگالی نفت ۰/۸ گرم بر سانتی‌متر مکعب است و دو مایع بر اثر مکیدن هوا، به دهانه C نمی‌رسند).



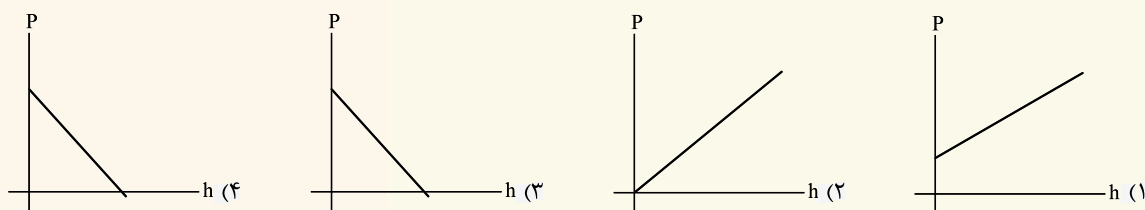
- (۱) $\frac{10}{8}$
(۲) $\frac{8}{10}$
(۳) $\frac{5}{8}$
(۴) $\frac{8}{4}$

۲۲۳- در دو ظرف استوانه‌ای شکل که سطح قاعده اولی A و سطح قاعده دومی $\frac{3}{4}A$ می‌باشد، به مقدار مساوی آب می‌ریزیم. اگر فشار کلی که از طرف هوا و آب به کف ظرف اول وارد می‌شود، P_1 و برای ظرف دوم P_2 باشد، کدام گزینه درست است؟

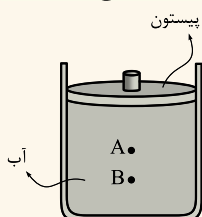
- (۱) $\frac{3}{4}P_1 > P_2 > P_1$
(۲) $P_1 = \frac{3}{4}P_2$
(۳) $\frac{3}{4}P_2 > P_1 > P_2$
(۴) $P_2 = \frac{3}{4}P_1$



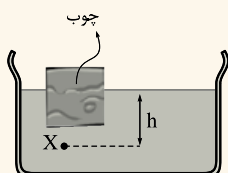
۲۲۴- داخل ظرفی مقداری مایع ریخته‌ایم و از سوراخ ریزی که در کف ظرف وجود دارد، مایع به تدریج از ظرف خارج می‌شود. کدام گزینه، نمودار فشار کل در کف ظرف را بر حسب ارتفاع مایع، درست نشان می‌دهد؟



۲۲۵- در شکل زیر، دو نقطه A و B به فاصله معینی از هم درون آب قرار دارند. اگر وزنه‌ای روی پیستون قرار دهیم و از تغییر چگالی آب صرف نظر کنیم،
 (۱) افزایش فشار در نقطه A بیشتر از نقطه B است و اختلاف فشار دو نقطه کم می‌شود.
 (۲) فشار در A و B به یک اندازه زیاد می‌شود و اختلاف آن‌ها ثابت می‌ماند.
 (۳) اختلاف فشار بین دو نقطه A و B زیاد می‌شود.
 (۴) اختلاف فشار بین دو نقطه A و B کم می‌شود.



۲۲۶- مطابق شکل زیر، یک مکعب چوبی به وزن W و سطح قاعده A، در مایعی به چگالی ρ شناور است. اگر فشار هوا را P₀ بنامیم، فشار کل در نقطه X در عمق h از سطح آزاد مایع، کدام است؟



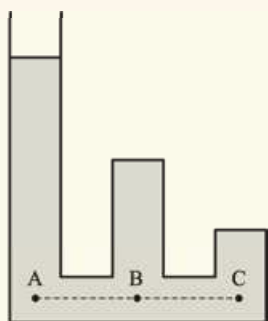
$$P_0 + \rho gh + \frac{W}{A} \quad (1)$$

$$P_0 + \rho gh \quad (2)$$

$$P_0 + \frac{W}{A} \quad (3)$$

$$\rho gh + \frac{W}{A} \quad (4)$$

۲۲۷- در ظرفی مطابق شکل، آب ریخته شده است. فشار در نقاط A، B و C را به ترتیب با P_A، P_B و P_C نشان می‌دهیم. کدام گزینه صحیح است؟



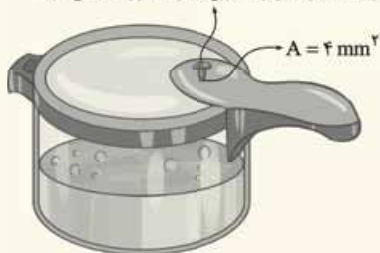
$$P_A = P_B = P_C \quad (1)$$

$$P_A > P_B > P_C \quad (2)$$

$$P_A < P_B < P_C \quad (3)$$

$$P_A > P_B = P_C \quad (4)$$

وزنه‌ای که روی روزنه خروج بخار آب قرار داده می‌شود.



۲۲۸- در شکل روبه‌رو، مساحت روزنه خروج بخار آب، روی در زودپزی ۴ mm^۲ است. وزنه‌ای روی این روزنه می‌گذاریم تا فشار داخل آن در ۲ atm نگه داشته شود. اگر فشار هوای بیرون دیگ ۱ atm باشد، جرم وزنه چند گرم بوده است؟ (۱ atm = ۱۰^۵ Pa و ۱۰ m/s^۲ = g است.)

- ۴۰ (۱)
- ۰/۴ (۲)
- ۰/۰۴ (۳)
- ۴۰۰ (۴)

۲۲۹- شخصی به جرم ۷۵ kg، همانند شکل روبه‌رو، روی یک توپ بزرگ نشسته است. اگر وزن توپ ناچیز و فشار پیمانه‌ای داخل توپ، Pa ۰/۲۵ × ۱۰^۵ باشد، شعاع دایره تماس توپ با سطح افقی زمین، چند متر است؟ (g = ۱۰ N/kg و π = ۳)

- ۰/۰۳ (۱)
- ۰/۳ (۲)
- ۰/۱ (۳)
- ۰/۵ (۴)





۲۳۰- فشار ۱۰ نیوتون بر سانتی متر مربع، معادل چند کیلو پاسکال است؟

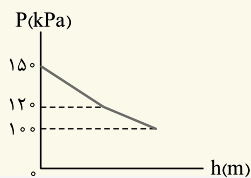
- ۱) ۰/۰۰۱ (۱) ۲) ۰/۰۱ (۲) ۳) ۱۰۰ (۳) ۴) ۱۰۰۰ (۴)

۲۳۱- مخروط ناقصی مطابق شکل، روی سطح افقی قرار دارد و شعاع قاعده بزرگ آن ۲ برابر شعاع قاعده کوچک است. اگر آن را روی قاعده بزرگ بگذاریم و بخواهیم فشار وارد بر سطح افقی تغییر نکند، وزنه‌ای چند برابر وزن مخروط باید روی آن قرار دهیم؟



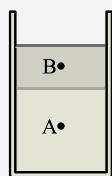
- ۱) ۴ (۱) ۲) ۳ (۲) ۳) ۲ (۳) ۴) ۱ (۴)

۲۳۲- در ظرفی به شکل استوانه، حجم مساوی از دو مایع مخلوط‌نشده ریخته‌ایم و نمودار فشار کل بر حسب ارتفاع از کف ظرف به شکل روبه‌رو است. اگر مایع بالاتر، آب به چگالی 1000 kg/m^3 باشد، چگالی مایع دیگر چند کیلوگرم بر متر مکعب است؟



- ۱) ۱۸۰۰ (۱) ۲) ۳۲۰۰ (۲) ۳) ۲۲۰۰ (۳) ۴) ۱۵۰۰ (۴)

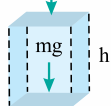
۲۳۳- در ظرف استوانه‌ای شکلی دو مایع مخلوط‌نشده به شکل روبه‌رو ریخته شده است و چگالی مایع پایینی بیشتر از مایع دیگر است. دو نقطه A و B را در ارتفاع معینی از کف ظرف در نظر می‌گیریم. اگر دو مایع را مخلوط کنیم و تغییر حجمی رخ ندهد، فشار در نقطه A، و در نقطه B، می‌یابد. (به ترتیب از راست به چپ)



- ۱) افزایش، افزایش ۲) افزایش، کاهش
۳) کاهش، کاهش ۴) کاهش، افزایش



$$F_1 = P_1 A$$



$$F_2 = P_2 A$$

۱۳- در شکل روبه‌رو، بخشی از شاره را می‌بینید که بین دو سطح فرضی به مساحت A قرار دارند. نیروهایی که در راستای قائم به این بخش از شاره وارد می‌شوند، رسم شده‌اند. چون شاره در حال تعادل است، باید جمع دو نیرویی که به طرف پایین‌اند (یعنی F_1 و mg) با نیروی رو به بالای F_2 برابر شود:

$$\underbrace{F_2}_{P_2 A} = \underbrace{F_1}_{P_1 A} + mg$$

با استفاده از رابطه چگالی (یعنی $\rho = \frac{m}{V}$) و رابطه حجم ($V = Ah$)، می‌توان

$$P_2 A = P_1 A + \rho Ahg \Rightarrow P_2 = P_1 + \rho gh$$

نوشت:

۱۴- کافی است محاسباتی به صورت زیر انجام دهیم:

$$\rho = 1 \frac{\text{g}}{\text{cm}^3} \times \frac{1 \text{ cm}^3}{10^{-6} \text{ m}^3} \times \frac{1 \text{ kg}}{10^3 \text{ g}} = 1000 \text{ kg/m}^3$$

$$P = P_0 + \rho gh = \Delta P_0 \Rightarrow \Delta P_0 = \rho gh \Rightarrow 4 \times 10^5 = 1000 \times 10 \times h$$

$$\Rightarrow h = 40 \text{ m}$$

۱۵- فشار ناشی از وزن پیستون، به صورت زیر محاسبه می‌شود:

$$P = \frac{F}{A} = \frac{mg}{A} = \frac{100 \text{ N}}{100 \times 10^{-4} \text{ m}^2} = 10^4 \text{ Pa}$$

حالا می‌توان فشار کل در عمق ۳ متری را به راحتی محاسبه کرد:

$$P = (P_0 + P_{\text{پیستون}}) + \rho gh = 10^5 + 10^4 + 2000 \times 10 \times 3$$

$$= 10 \times 10^4 + 10^4 + 6 \times 10^4 = 17 \times 10^4 \text{ Pa}$$

۸-۲) نادرست

۸-۱) درست

۸-۴) درست

۸-۳) نادرست

۸-۵) درست

۹-۲) کاهش

۹-۱) نرده‌ای

۹-۴) عمود بر آن سطح

۹-۳) منفی

۱۰-۱) یکای فشار در SI، پاسکال نام دارد که برحسب یکاهای اصلی به

صورت $\frac{\text{kg}}{\text{ms}^2}$ نوشته می‌شود.

۱۰-۲) نمودار فشار هوا برحسب ارتفاع از سطح زمین، خطی نیست و دلیل

آن، یکسان نبودن چگالی هوا در ارتفاعات مختلف است.

۱۰-۳) در نقاطی از یک مایع که روی یک سطح افقی قرار داشته باشند،

فشار یکسان است.

۱۱- اگر جرم هوای موجود در این ستون را m بنامیم، با استفاده از تعریف

فشار، خواهیم داشت:

$$P = \frac{F}{A} = \frac{mg}{A} \Rightarrow 10^5 = \frac{m \times 10}{1} \Rightarrow m = 10^4 \text{ kg}$$

۱۲- وقتی چنین مسئله‌ای را در آزمون‌های مدرسه دیدید، حتماً باید یگاها

و تبدیل‌های آن‌ها را نیز، در برگه خود بنویسید و از هرگونه فعالیت «ذهنی»،

جداً خودداری کنید! چون چگالی را برحسب g/cm^3 از ما خواسته است،

ابتدا جرم را برحسب گرم به دست می‌آوریم و حجم جسم را هم برحسب

سانتی‌متر مکعب، محاسبه می‌کنیم:

$$m = 0.325 \text{ kg} = 0.325 \text{ kg} \times \frac{10^3 \text{ g}}{1 \text{ kg}} = 325 \text{ g}$$

$$V = a^3 = (5 \text{ cm})^3 = 125 \text{ cm}^3$$

$$\rho = \frac{m}{V} = \frac{325 \text{ g}}{125 \text{ cm}^3} = 2.6 \text{ g/cm}^3$$

برای محاسبه فشاری که مکعب به سطح افقی وارد می‌کند، توجه کنید که

سطح قاعده مکعب، برابر a^2 است:

$$P = \frac{F}{A} = \frac{mg}{a^2} = \frac{0.325 \text{ kg} \times 10 \text{ N/kg}}{(5 \text{ cm} \times \frac{10^{-2} \text{ m}}{1 \text{ cm}})^2} = 1300 \frac{\text{N/m}^2}{\text{Pa}}$$

بفشار! ما فشار و از رابطه $P = \rho gh$ حساب کردیم و همین جواب

به دست اومد!

اشکالی نداره! گفته بودم برای شکل‌هایی که سطح قاعده‌شان از پایین

تا بالا، یکسان است، دو رابطه $P = \rho gh$ و $P = \frac{mg}{A}$ ، معادل‌اند.



۱۷۷- گفته بودیم که نیرو یک کمیت برداری است اما برای تعیین فشار، بزرگی (اندازه) آن را در رابطه $P = \frac{F}{A}$ می‌گذاریم و به همین دلیل، فشار، کمیتی نردهای است.

۱۷۸- کافی است رابطه $P = \frac{F}{A}$ را طرفین - وسطین کنیم:

$$F = PA = P(\pi r^2) = (9 \times 10^5 \frac{N}{m^2}) \times 3 \times (0.4 \text{ m})^2 = 432000 \frac{N}{m^2} \times m^2 = 4/32 \times 10^5 \text{ N}$$

همان‌طور که در فصل‌های گذشته هم گفتیم، برای سادگی در محاسبه‌ها، معمولاً موقعی که همه یکاها در SI هستند، آن‌ها را نمی‌نویسیم. (فقط همین‌ی به بار نوشتیم، که دوباره یادتون بیاد که یکاها هم مثله عدد ضرب و تقسیم می‌شن!)

۱۷۹- کافی است داده‌های تست را در رابطه فشار پیمانهای بگذاریم: $P_g = \rho gh = 1000 \times 10 \times 6 = 6 \times 10^4 \text{ Pa} \times \frac{1 \text{ atm}}{10^5 \text{ Pa}} = 0.6 \text{ atm}$

همین اختلاف فشار، سبب می‌شود که غواص نتواند به هر اندازه دلخواه در آب فرو رود، در حقیقت، فشاری که از طرف آب بر قفسه سینه‌اش وارد می‌شود، نفس کشیدن را برای او سخت می‌کند.

۱۸۰- برای این‌که محلول در سیاهرگ نفوذ کند، باید فشار پیمانهای آن، حداقل برابر با فشار پیمانهای در سیاهرگ باشد:

$$P_g = \rho gh = P_{\text{سیاهرگ}} \Rightarrow 1040 \times 10 \times h = 1300 \Rightarrow h = \frac{1300}{10400} = 0.125 \text{ m} \times \frac{100 \text{ cm}}{1 \text{ m}} = 12.5 \text{ cm}$$

ما نمی‌دونستیم سرنگو توی سیاهرگ تزریق می‌کنن! ... پرا تو سرفرگ نمی‌زنن!؟

سؤال خوبی است! خونی که در سیاهرگ جریان دارد، در حال بازگشت از بافت‌های بدن است و به همین دلیل، فشار آن بسیار کم‌تر از فشار خون داخل سرخرگ است و تزریق یک مایع به داخل آن، به فشار کم‌تری نیاز دارد.

۱۸۱- ابتدا، فشار در نقطه A را به دست می‌آوریم:

$$P = P_0 + \rho gh = 10^5 + 10^3 \times 10 \times 12 = 10^5 + 1/2 \times 10^5 = 10^5 \times (1 + 1/2) = 3/2 \times 10^5 \text{ Pa}$$

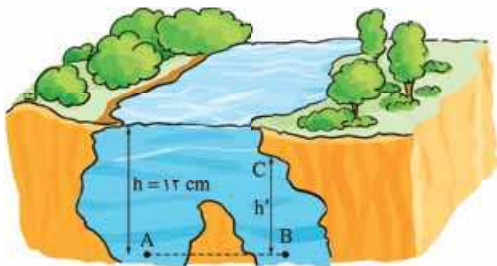
چون نقطه B با نقطه A «هم‌تراز» است، باید فشار در نقطه B نیز برابر با فشار در نقطه A باشد.

اما ارتفاع آبی که بالای نقطه B وجود داره، کم‌تر از ارتفاع آب بالای نقطه A است!

بله! ... در این مورد، در درس‌نامه (۵)، مفصلاً صحبت کردیم! در این‌جا فقط برای بار آخر، یک توضیح کوتاه می‌دهم. گفتیم که اگر بخواهید فشار در نقطه B را با توجه به ارتفاع مایع بالای آن (یعنی h') بنویسید، رابطه‌ای به صورت زیر خواهید داشت:

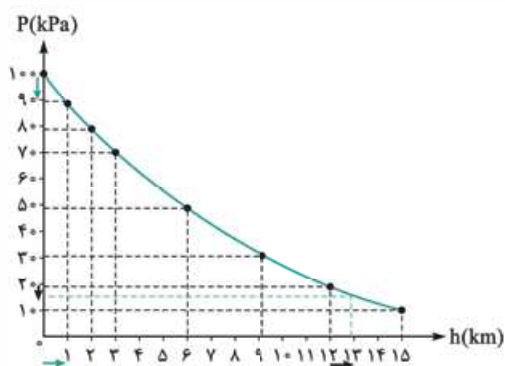
$$P = P_C + \rho gh'$$

اگر این رابطه را با رابطه $P = P_0 + \rho gh$ مقایسه کنید، می‌بینید که h' کم‌تر از h است؛ اما لا بد، P_C به حدی از P_0 بیشتر است که فشار در دو نقطه A و B برابر به دست می‌آید.





۱۸۲- گزینه ۳ هر چه از زمین دور می‌شویم، هوا رقیق‌تر می‌شود و چگالی و فشارش، هر دو کاهش می‌یابند.



۱۸۳- گزینه ۴ با کمی دقت به نمودار داده‌شده، درستی گزینه (۴) آشکار است!

به عنوان نمونه، ببینید که وقتی از ارتفاع صفر به ارتفاع ۱ km می‌رویم، فشار هوا از ۱۰۰ kPa به ۹۰ kPa می‌رسد؛ یعنی ۱۰ kPa کاهش می‌یابد. (به دو پیکان رنگی روی شکل دقت کنید.) این در حالی است که، اگر از ارتفاع ۱۲ km به ارتفاع ۱۳ km برویم، فشار هوا، کم‌تر از حالت قبل تغییر می‌کند. (دو پیکان سیاه را ببینید.)

۱۸۴- گزینه ۱ اگر فشار در بالای برج را P_1 و در پایین آن را P_2 بنامیم، با توجه به این که در صورت تست، چگالی هوا را ثابت فرض کرده است، اجازه داریم از رابطه مقابل استفاده کنیم:

$$P_2 = P_1 + \rho gh \Rightarrow \underbrace{P_2 - P_1}_{\text{اختلاف فشار}} = \rho gh = 1 \times 10^3 \times 45 = 450 \text{ Pa}$$

باید پاسکال را به اتمسفر تبدیل کنیم:

$$450 \text{ Pa} = 450 \text{ Pa} \times \frac{1 \text{ atm}}{10^5 \text{ Pa}} = 4/5 \times 10^{-3} \text{ atm}$$

۱۸۵- گزینه ۲ وقتی می‌گویید دو استوانه هم‌جنس‌اند، می‌توان فهمید که چگالی دو استوانه برابر بوده است. (لطفاً به دو واژه رنگی در عبارتی که خواندید توجه ویژه‌ای داشته باشید!) در پاسخ تست قبل، نشان دادیم که فشاری که یک استوانه ساکن به یک سطح افقی وارد می‌کند، از رابطه $P = \rho gh$ به دست می‌آید. توجه کنید که ρg برای دو استوانه مساوی است و از این رابطه می‌توان نتیجه گرفت که فشار در این تست، «فقط» با ارتفاع استوانه‌ها متناسب است و سطح قاعده آن‌ها بی‌اهمیت است. استوانه بزرگ‌تر که ارتفاعش ۲ برابر دیگری است، فشاری ۲ برابر دیگری به سطح وارد می‌کند.

$$P = \underbrace{\rho g}_{\text{یکسان}} \cdot \underbrace{h}_{\text{برابر ۲}}$$

پس می‌شه گفت که فشار هیچ وقت به مساحت قاعده بستگی نداره!؟



لطفاً نتیجه‌ای را که از یکی دو تست می‌گیرید، «تعمیم» ندهید! در تست بعدی به این موضوع پی خواهید برد!



۱۸۶- گزینه ۳

۱۸۷- گزینه ۴ چون جرم آب و جیوه برابر است، بهتر است برای مقایسه فشار این دو، از رابطه $P = \frac{mg}{A}$ استفاده کنیم. درست مثل تست قبل، با توجه به

یکسان بودن mg برای دو مایع، می‌توان نتیجه گرفت که فشار آن‌ها با مساحت کف طرف‌ها، نسبت عکس دارد.

در صورت تست گفته شده که «ابعاد» ظرف استوانه‌ای B ، دو برابر ابعاد ظرف استوانه‌ای A است. منظور از «ابعاد»، معمولاً «ابعاد طولی» است که در مورد استوانه، شعاع قاعده و ارتفاع آن است: (البته در این تست، از ارتفاع طرف‌ها، استفاده‌ای نمی‌کنیم.)

$$\frac{P_A}{P_B} = \frac{A_B}{A_A} = \frac{\pi R_B^2}{\pi R_A^2} = \frac{(2R_A)^2}{R_A^2} = 4$$

همان‌طور که می‌بینید، از ارتباط چگالی جیوه و آب، استفاده‌ای نشد!

۱۸۸- گزینه ۱ اگر تعداد آجرهایی را که باید روی هم قرار گیرند، n بنامیم، وزن کل آجرها n برابر وزن یک آجر می‌شود و

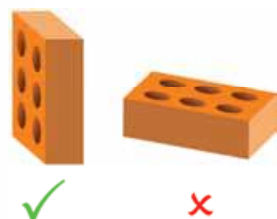
می‌توان نوشت:

$$P = \frac{nmg}{A} = P_0 \Rightarrow n = \frac{P_0 A}{mg}$$

در رابطه‌ای که به دست آوردیم، P_0 و mg ثابت‌اند و می‌توان نتیجه گرفت که تعداد آجرها (n) با مساحت تماس (A) متناسب است؛ بنابراین برای این که تعداد آجرها حداقل شود، باید پایین‌ترین آجر را از روی کوچک‌ترین سطحش روی سطح

قرار داد:

$$n_{\min} = \frac{P_0 A_{\min}}{mg} = \frac{10^5 \times 0.05 \times 0.1}{10} = 50$$



۱۸۹- گزینه ۳



۱۹۰- گزینه ۴

$$m = \rho V = 9000 \times 0.02 \times 0.01 \times 0.05 = 9 \text{ kg}$$

ابتدا جرم مکعب مستطیل را محاسبه می‌کنیم:

بچه‌هایی که فصل دوم از فیزیک دوازدهم را خوانده‌اند (به ویژه اگر آن را هم از روی کتاب شگفت‌انگیز خوانده باشند!) به خوبی می‌دانند که وقتی جسمی روی یک سطح قرار دارد، نیرویی که از طرف جسم به سطح وارد می‌شود، واکنش نیروی عمودی سطحی است که سطح به آن وارد می‌کند. اگر جسم و سطح ساکن باشند، (چنان که در اغلب مسئله‌های فیزیک دهم می‌بینید) اندازه نیروی عمودی سطح (F_N) با اندازه وزن جسم (mg) مساوی است؛ اما در صورتی که جسم و سطح در راستای قائم شتابی داشته باشند، دیگر چنین نیست و می‌توان اندازه نیروی عمودی سطح را از رابطه $F_N = m(g+a)$ به دست آورد. نکته مهمی که در این تست باید مورد توجه قرار گیرد، این است که جهت شتاب آسانسور معلوم نیست و صرفاً گفته شده که آسانسور بالا می‌رود (یعنی جهت حرکت آن داده شده است). که کاربردی در حل این تست ندارد. با این توضیحات، شتاب آسانسور می‌تواند رو به بالا (یعنی مثبت) و یا رو به پایین (یعنی منفی) باشد و می‌توان بیشترین و کمترین اندازه نیروی عمودی سطح را به صورت زیر محاسبه کرد:

$$F_N = m(g+a) \Rightarrow \begin{cases} F_{N_{\max}} = 9(10+2) = 108 \text{ N} \\ F_{N_{\min}} = 9(10-2) = 72 \text{ N} \end{cases}$$

بیشترین فشار مربوط به زمانی است که اندازه نیروی عمودی سطح بیشترین مقدار و سطح تماس آجر با کف آسانسور، کمترین مقدار ممکن باشد؛ هم‌چنین، کمترین فشار را در حالتی داریم که اندازه نیروی عمودی سطح کمترین مقدار و سطح تماس، بیشترین مقدار ممکن باشد:

$$P_{\max} = \frac{F_{N_{\max}}}{A_{\min}} = \frac{108}{0.05 \times 0.01} = 21600 \text{ Pa}$$

$$P_{\min} = \frac{F_{N_{\min}}}{A_{\max}} = \frac{72}{0.2 \times 0.01} = 3600 \text{ Pa}$$

$$P_{\max} - P_{\min} = 21600 - 3600 = 18000 \text{ Pa} = 18 \text{ kPa}$$

۱۹۱- گزینه ۲

۱۹۲- گزینه ۲ کافی است داده‌ها را دو بار در رابطه فشار بگذاریم و دستگاه دو معادله - دو مجهول حاصل را حل کنیم:

$$P = P_0 + \rho gh \Rightarrow \begin{cases} 100 \times 10^3 = P_0 + \rho \times 10 \times 0.05 \\ 106 \times 10^3 = P_0 + \rho \times 10 \times 0.2 \end{cases}$$

$$-4 \times \begin{cases} 100 \times 10^3 = P_0 + 0.5\rho \\ 106 \times 10^3 = P_0 + 2\rho \end{cases} \xrightarrow{\text{جمع}} -294 \times 10^3 = -3P_0 \Rightarrow P_0 = 98 \times 10^3 \text{ Pa} = 98 \text{ kPa}$$

۱۹۳- گزینه ۳

۱۹۴- گزینه ۴ حجم آب داخل مکعب، 0.6^3 متر مکعب است. وقتی آب داخل استوانه می‌ریزیم، حجمش همین مقدار است و اگر این حجم را بر مساحت قاعده استوانه تقسیم کنیم، ارتفاع آب به دست می‌آید:

$$h_{\text{استوانه}} = \frac{0.6^3}{0.36} = 0.6 \text{ m}$$

می‌بینید که ارتفاع آب داخل استوانه، درست برابر ارتفاع آب داخل مکعب شد؛ یعنی فشار آب در کف هر دو ظرف نیز یکسان است.

۱۹۵- گزینه ۲

با توجه به شکل، زمانی که پیستون B بالاتر از پیستون A است، می‌توان نوشت:

$$P_a = P_{a'} = P_b + \rho gh \Rightarrow P_b = P_a - \rho gh$$

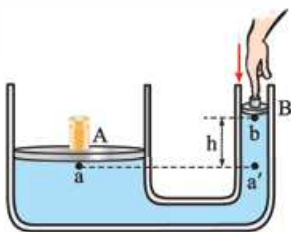
می‌بینید که به دلیل وجود جمله $-\rho gh$ ، فشار در نقطه b کم‌تر از فشار در نقطه a است. اکنون توجه کنید که فشار در زیر پیستون A ثابت (و برابر $P_a = P_0 + \frac{mg}{A}$) است؛ در نتیجه با پایین رفتن پیستون B (و در نتیجه بالا رفتن پیستون A)،

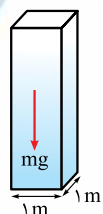
اختلاف ارتفاع دو پیستون (یعنی h) کاهش می‌یابد و باید فشار در زیر پیستون B افزایش یابد: $P_b = P_a - \rho gh$

فشار در زیر پیستون B مدام افزایش می‌یابد تا آن که در لحظه هم‌تراز شدن دو پیستون، با فشار در زیر پیستون دیگر برابر می‌گردد. از آن پس، با پایین‌تر رفتن پیستون B فشار در زیر آن باز هم بیشتر و بیشتر می‌گردد. (آگه قبول ندارین، فودتون به شکل براش بکشین و به رابطه براش بنویسین!)

حواست‌باشه! امیدوارم از گزینه ۴ (زهر نفورده باشین!) توجه کنید که اگر از شما می‌خواست فشار در زیر پیستون B را با فشار در زیر پیستون A مقایسه کنید، آن وقت با توجه به توضیحاتی که دادم، می‌توانستید نتیجه بگیرید که فشار در زیر پیستون B، ابتدا کم‌تر از فشار در زیر پیستون A است و پس از هم‌تراز شدن دو پیستون، از فشار در زیر پیستون A بیشتر می‌گردد.

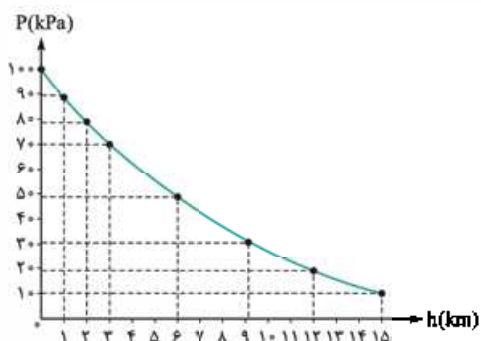
۱۹۶- گزینه ۲





۱۹۷- گزینه ۲ ابتدا به این نکته توجه کنید که نمودار فشار هوا بر حسب ارتفاع، نشان می‌دهد که فشار هوا در سطح دریا برابر 100 kPa است و اگر جرم کل هوای داخل ستون را m بنامیم، خواهیم داشت:

$$P = \frac{F}{A} = \frac{mg}{A} \Rightarrow 100 \times 10^3 \text{ کیلو} = \frac{m \times 10}{1} \Rightarrow m = 10^4 \text{ kg}$$

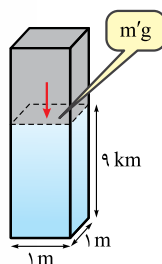


نمودار فشار هوا بر حسب ارتفاع، هم‌چنین نشان می‌دهد که فشار هوا در ارتفاع ۹ کیلومتری از سطح دریا، برابر 30 kPa است. این فشار، ناشی از وزن ستون هوایی است که بالای این ارتفاع وجود دارد. اگر جرم هوای بالای این ارتفاع را m' بنامیم، خواهیم داشت:

$$P' = \frac{F'}{A} = \frac{m'g}{A} \Rightarrow 30 \times 10^3 \text{ کیلو} = \frac{m' \times 10}{1} \Rightarrow m' = 3 \times 10^3 \text{ kg}$$

به این ترتیب، جرم هوای موجود در ارتفاع 9 km از این ستون هوا برابر $m - m'$ است:

$$m - m' = 10^4 - 3 \times 10^3 = 10 \times 10^3 - 3 \times 10^3 = 7 \times 10^3 \text{ kg}$$



برای تعیین درصد جرم هوای موجود در این 9 km ، کافی است جرم هوای موجود در این ارتفاع را بر جرم کل هوای داخل ستون تقسیم کنیم

$$\frac{7 \times 10^3 \text{ kg}}{10 \times 10^3 \text{ kg}} \times 100 = 70\%$$

و حاصل را در عدد ۱۰۰ ضرب کنیم:

۱۹۸- گزینه ۱

۱۹۹- گزینه ۲ مجموع فشار دو مایع را برابر با 2000 پاسکال قرار می‌دهیم و چون جرم روغن را می‌خواهیم، برای تعیین فشار آن، به جای استفاده از رابطه ρgh از رابطه $\frac{mg}{A}$ استفاده می‌کنیم:

$$P = \rho_1 gh_1 + \frac{m_2 g}{A} \Rightarrow 2000 = 1000 \times 10 \times 0.1 + \frac{m_2 \times 10}{20 \times 10^{-4}} \Rightarrow m_2 = 0.2 \text{ kg} = 200 \text{ g}$$

بیشترین اپرا برای مناسبه فشار در کف ظرف، فشار هوا رو در نظر نگر فتمیم؟

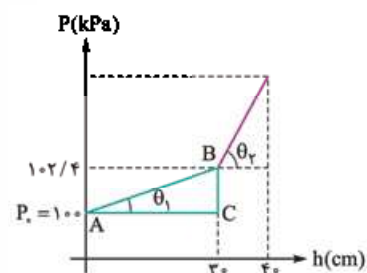


توجه کنید که وقتی می‌گویید: فشار حاصل از این «دو مایع»، نباید فشار هوا را در نظر گرفت. همان‌گونه که در درس‌نامه هم اشاره کردیم، اگر صرفاً بگویید «فشار»، یا از عبارتهایی مثل «فشار کل» یا «فشار مطلق» استفاده کند، فشار هوا را هم در نظر می‌گیریم و با فشار مایع جمع می‌کنیم.



۲۰۰- گزینه ۳

۲۰۱- گزینه ۲ وقتی از سطح آزاد مایعی که چگالی‌اش ρ_1 است، به اندازه h در همین مایع، پایین برویم، فشار، برابر $P = P_0 + \rho_1 gh$ می‌شود. اگر این رابطه را با معادله کلی یک خط راست (یعنی $y = ax + b$) مقایسه کنیم، همان y همان P و همان x است. متوجه می‌شویم که شیب نمودار، برابر $\rho_1 g$ است. با توجه به شکل روبه‌رو، می‌توان نوشت:



$$\tan \theta_1 = \frac{BC}{AC} = \frac{(102/4 - 100) \times 10^3}{20/3} = 8000 = \rho_1 g \Rightarrow \rho_1 = 800 \text{ kg/m}^3$$

برای قسمت دوم نمودار هم، می‌توان شیب را برابر $\rho_2 g$ قرار داد:

$$\tan \theta_2 = 17 \tan \theta_1 \Rightarrow \rho_2 g = 17 \times 8000 = 13600 \text{ kg/m}^3$$

۲۰۲- گزینه ۲

۲۰۳- گزینه ۳ پیش از اضافه کردن آب در ظرف، فشار روغن در کف ظرف را محاسبه می‌کنیم: (فراموش نکنید که برای به دست آوردن فشار بر حسب پاسکال، باید چگالی بر حسب کیلوگرم بر متر مکعب و ارتفاع بر حسب متر باشد!)

$$P_1 = \rho_1 gh_1 = 800 \times 10 \times 0.25 = 2000 \text{ Pa}$$

$$V_{\text{روغن}} = A_{\text{کف}} h_1 + A_{\text{دهانه}} h_2 = 10 \times 20 + 2 \times 5 = 210 \text{ cm}^3$$

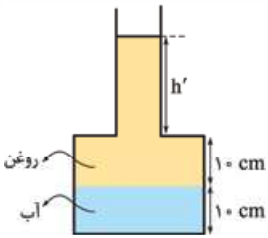
در همین حالت، حجم کل روغن موجود در ظرف را هم به دست می‌آوریم:



وقتی آب در ظرف می‌ریزیم و مایع‌ها را به هم می‌زنیم، چون آب چگالی بیشتری دارد، پس از برقراری تعادل، زیر روغن قرار می‌گیرد. اکنون باید حجم آب و ارتفاع آن را پیدا کنیم:

$$V_{\text{آب}} = \frac{m_{\text{آب}}}{\rho_{\text{آب}}} = \frac{100}{1} = 100 \text{ cm}^3$$

$$V_{\text{آب}} = A_{\text{کف}} h_{\text{آب}} \Rightarrow 100 = 10 \cdot h_{\text{آب}} \Rightarrow h_{\text{آب}} = 10 \text{ cm}$$



به این ترتیب، وضعیت دو مایع به شکل روبه‌رو خواهد بود. برای تعیین ارتفاع h' در این شکل، کافی است حجم روغنی را که در

قسمت باریک ظرف است، پیدا کنیم و از رابطه حجم استوانه کمک بگیریم: $V_{\text{روغن پایین}} = A_{\text{کف}} h = 10 \times 10 = 100 \text{ cm}^3$

$$V_{\text{روغن بالا}} = 210 - 100 = 110 \text{ cm}^3$$

$$V_{\text{روغن بالا}} = A_{\text{دهانه}} h' \Rightarrow 110 = 2h' \Rightarrow h' = 55 \text{ cm}$$

و در آخر، فشار دو مایع در کف ظرف را محاسبه کرده و با داشتن فشار در حالت اول، افزایش فشار را محاسبه می‌کنیم:

$$P' = \rho_{\text{آب}} g h_{\text{آب}} + \rho_{\text{روغن}} g h_{\text{روغن}} = 1000 \times 10 \times 0.1 + 800 \times 10 \times 0.65 \Rightarrow P' = 6200 \text{ Pa}$$

$$\text{افزایش فشار} = 6200 - 2000 = 4200 \text{ Pa}$$

۲۰۴ - گزینه ۱

$$P_1 = \rho_1 g \frac{h}{\gamma} + \rho_2 g \frac{h}{\gamma} = \frac{1}{\gamma} g h (\rho_1 + \rho_2)$$

پیش از آن که دو مایع با هم مخلوط شوند، فشار حاصل از دو مایع در کف ظرف برابر است با:

پس از آن که دو مایع با هم مخلوط شوند، دیگر دو مایع نداریم؛ بلکه یک مایع با چگالی مخلوط ρ داریم:

$$P_2 = \rho_{\text{مخلوط}} g h \Rightarrow P_2 = \left(\frac{m_1 + m_2}{V_1 + V_2} \right) g h \Rightarrow P_2 = \left(\frac{\rho_1 V_1 + \rho_2 V_2}{V_1 + V_2} \right) g h \Rightarrow P_2 = \frac{\rho_1 \frac{h}{\gamma} + \rho_2 \frac{h}{\gamma}}{\frac{h}{\gamma}} g h \Rightarrow P_2 = (\rho_1 + \rho_2) \frac{1}{\gamma} g h$$

می‌بینید که فشار مایع در دو حالت یکسان شد.

په چالاب! پس می‌تونیم نتیجه بگیریم که وقتی دو مایع داریم، فشار اون‌ها ربطی به این نداره که دو مایع مخلوط باشن یا نه! درست؟!



لطفاً مواظب باشید! هرگز نتیجه‌ای را که از حل یک مسئله به دست می‌آید، تعمیم (عمومیت) ندهید! به زودی خواهید دید که این موضوع همیشه درست

نیست و نباید به عنوان یک نکته آن را به خاطر بسپارید.



۲۰۶ - گزینه ۱

$$P_1 = \rho_1 g h_1 + \rho_2 g h_2 = \rho_1 g \times 0.1 + \frac{1}{\gamma} \rho_1 g \times 0.05 = \frac{1}{8} \rho_1 g$$

پیش از آن که دو مایع مخلوط شوند، می‌توان نوشت:

پس از مخلوط کردن دو مایع، باید ابتدا چگالی مخلوط و سپس فشار مایع در کف ظرف را به دست آوریم: (مساحت مقطع قسمت باریک‌تر را A نامیده‌ایم.)

$$\rho_{\text{مخلوط}} = \frac{P_1 V_1 + P_2 V_2}{V_1 + V_2} = \frac{\rho_1 \times 2A \times 0.1 + \frac{1}{\gamma} \rho_1 \times A \times 0.05}{2A \times 0.1 + A \times 0.05} = \frac{22/5}{25} \rho_1$$

$$P_2 = \rho_{\text{مخلوط}} g h = \frac{22/5}{25} \rho_1 g \times 0.15 = \frac{27}{200} \rho_1 g$$

$$\frac{P_2}{P_1} = \frac{\frac{27}{200} \rho_1 g}{\frac{1}{8} \rho_1 g} = \frac{27}{25}$$

همان‌گونه که می‌بینید که برخلاف آن‌چه شما از حل تست مهم قبلی نتیجه گرفتید، این بار فشار پس از مخلوط کردن دو مایع، تغییر کرد!

فُت پس هالا می‌تونیم بگیم هر وقت ظرفمون استوانه بود، فشار بر اثر مخلوط کردن تغییری نمی‌کنه!



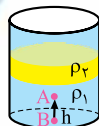
این کار خوبی نیست! توجه کنید که این موضوع را شما وقتی به نکته خود اضافه کردید که با تستی مثل این مواجه شدید! از آن جایی که متغیرهای یک

مسئله فیزیک بسیار متنوع‌اند، ممکن است نتوان انواع حالت‌هایی را که ممکن است برای یک مسئله بدهند، از پیش تشخیص داد. به همین دلیل بهتر

است از حل تمرین‌ها، نکته در نیاورید و هر مسئله‌ای را با توجه به شرایطی که در آن مسئله داده شده است، حل کنید.



۲۰۸ - گزینه ۲



۲۰۹- **گزینه ۲** برای حل این تست به یک ابتکار عمل نیاز داریم! بهتر است از نقطه B در کف ظرف کمک بگیریم. (دلایش رو تا بند دقیقه درگه می فهمین.) همان گونه که در شکل روبه رو می بینید، نقطه A در ارتفاع h بالاتر از کف ظرف قرار دارد و فشار در این نقطه باید به اندازه $\rho_1 gh$ کم تر از فشار در نقطه B باشد:

$$P_A = P_B - \rho_1 gh$$

یادتان باشد که اصولاً وقتی دو مایع را با هم مخلوط می کنیم، مایعی حاصل می شود که چگالی اش مقداری بین چگالی دو مایع (در این جا کم تر از ρ_1 و بیشتر از ρ_2) است. نکته مهم این است که اگر رابطه فشار مایع را به صورت $\frac{mg}{A}$ بنویسیم، چون وزن کل دو مایع قبل و بعد از مخلوط شدن یکسان است، فشار در کف ظرف هم پس از مخلوط کردن دو مایع تغییری نمی کند (هالا فهمیدین چرا از نقطه B کمک گرفتیم؟!) و می توان فشار در نقطه A را پس از مخلوط شدن دو مایع به صورت روبه رو نوشت: $P'_A = P_B - \rho_{\text{مخلوط}} gh$ می بینید که در دو حالت، فشار در کف ظرف منهای عبارت های $\rho_1 gh$ و $\rho_{\text{مخلوط}} gh$ می شود. چون مخلوط ρ کم تر از ρ_1 است، انتظار داریم که حاصل تفاضل $\rho_{\text{مخلوط}} gh$ بزرگ تر از $P_B - \rho_1 gh$ شود؛ یعنی $P'_A > P_A$ است.

۲۱۰- **گزینه ۲**

۲۱۱- **گزینه ۲** پیش از آن که حل این تست را برایتان توضیح دهم، خواهش می کنم به دو نکته مهم توجه کنید. اول این که با دیدن پاسخ طولانی این تست، به هیچ وجه از خواندن آن صرف نظر نکنید؛ نفسی عمیق بکشید و با دقت تمام، همه آنچه را برایتان نوشته ام، بخوانید. دوم این که نمی دانم چرا وقتی در صورت تستی خبری از مقدارهای عددی نیست و صرفاً قرار است قضاوتی در مورد افزایش یا کاهش یک کمیت کنیم، اغلب بچه ها فکر می کنند نیازی به نوشتن «راه حل» نیست و پاسخ تست را باید با احساس و شهود داد! به همین دلیل است که وقتی چنین تست هایی در یک آزمون داده می شود، تعداد بچه هایی که آن ها را زنده رها می کنند، اندک اند و اغلب خود را قانع می کنند که گزینه ای را بزنند. یادتان باشد که اتفاقاً چنین تست هایی، اغلب بسیار دشوارند و خطر غلط زدن آن ها بسیار زیاد است و اگر راه حل قانع کننده ای نیافتید، بهتر است آن ها را نزنید!

آفه وقتی توو تست هیچ مقداری بومون ندره، په پوری باید راهل براش بنویسیم!



بسیار ساده است! کافی است مقدار کمیت هایی را که لازم داریم با یک نماد نشان دهید! مثلاً در این جا که چگالی و ارتفاع دو مایع را به شما نداده است، آن ها را با نمادهای ρ_1, ρ_2, h_1 و h_2 نشان دهید. همین الان به شما نشان می دهم که چنین تستی را باید چگونه حل کنیم. با من همراه باشید:



$$P = \rho_1 gh_1 + \rho_2 gh_2$$

$$\rho_{\text{مخلوط}} = \frac{m + m}{V_1 + V_2} = \frac{2m}{\frac{m}{\rho_1} + \frac{m}{\rho_2}} = \frac{2m}{m(\frac{\rho_2 + \rho_1}{\rho_1 \rho_2})} = \frac{2\rho_1 \rho_2}{\rho_1 + \rho_2}$$

ابتدا که دو مایع با هم مخلوط نیستند، فشار مایع در کف ظرف، برابر است با:

پس از مخلوط کردن دو مایع، مایع جدیدی با چگالی مخلوط ρ خواهیم داشت:

چون حجم مخلوط برابر مجموع حجم دو مایع است، ارتفاع مخلوط هم باید برابر مجموع ارتفاع دو مایع در حالت اول باشد و فشار مخلوط در کف ظرف، به صورت مقابل به دست می آید:

$$P' = \rho_{\text{مخلوط}} gh_{\text{مخلوط}} = \left(\frac{2\rho_1 \rho_2}{\rho_1 + \rho_2}\right) g(h_1 + h_2) = \left(\frac{2\rho_1 \rho_2}{\rho_1 + \rho_2}\right) gh_1 + \left(\frac{2\rho_1 \rho_2}{\rho_1 + \rho_2}\right) gh_2$$

اکنون باید P' را با P مقایسه کنیم. بد نیست برای این منظور، بنویسیم: $P' \circ P$ و باید داخل دایره، یکی از علامت های $<$ ، $>$ و $=$ را قرار دهیم! فعلاً کار را با همان نماد \circ پیش می بریم:

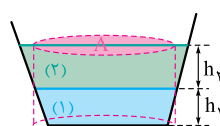
$$P' \circ P \Rightarrow \left(\frac{2\rho_1 \rho_2}{\rho_1 + \rho_2}\right) gh_1 + \left(\frac{2\rho_1 \rho_2}{\rho_1 + \rho_2}\right) gh_2 \circ \rho_1 gh_1 + \rho_2 gh_2$$

اکنون g را از دو طرف ساده می کنیم و جمله هایی را که h_1 دارند، در یک طرف و جمله هایی را که h_2 دارند، در طرف دیگر قرار می دهیم. باید با صبوری و دقت تمام، محاسبات لازم را به صورت زیر انجام دهید:

$$\left(\frac{2\rho_1 \rho_2}{\rho_1 + \rho_2}\right) h_1 - \rho_1 h_1 \circ \rho_2 h_2 - \left(\frac{2\rho_1 \rho_2}{\rho_1 + \rho_2}\right) h_2 \Rightarrow \rho_1 h_1 \left(\frac{2\rho_2}{\rho_1 + \rho_2} - 1\right) \circ \rho_2 h_2 \left(1 - \frac{2\rho_1}{\rho_1 + \rho_2}\right)$$

$$\Rightarrow \rho_1 h_1 \left(\frac{2\rho_2 - \rho_1 - \rho_2}{\rho_1 + \rho_2}\right) \circ \rho_2 h_2 \left(\frac{\rho_1 + \rho_2 - 2\rho_1}{\rho_1 + \rho_2}\right)$$

$$\Rightarrow \rho_1 h_1 \left(\frac{\rho_2 - \rho_1}{\rho_1 + \rho_2}\right) \circ \rho_2 h_2 \left(\frac{\rho_2 - \rho_1}{\rho_1 + \rho_2}\right) \Rightarrow \rho_1 h_1 \circ \rho_2 h_2$$



می بینید که همه چیز در گرو آن است که بفهمیم $\rho_1 h_1$ چه ارتباطی با $\rho_2 h_2$ دارد! برای این منظور به یک ابتکار هولناک (!) نیاز داریم. اگر همان گونه که در شکل روبه رو می بینید، در ذهن خود استوانه ای بکشیم که سطح قاعده آن برابر سطحی باشد که در مرز جدایی دو مایع داریم، حتماً قبول دارید که جرمی از مایع (۱) که در این استوانه قرار دارد (m_1)، قطعاً از جرمی از مایع (۲) که در این استوانه قرار دارد (m_2)، بیشتر است. (فراموش نکنید که جرم کل دو مایع یکسان بود!) به این ترتیب می توان نوشت:

$$m_1 > m_2 \Rightarrow \rho_1 V_1 > \rho_2 V_2 \Rightarrow \rho_1 A h_1 > \rho_2 A h_2 \Rightarrow \rho_1 h_1 > \rho_2 h_2$$

بالآخره تمام شد! حالا فهمیدیم که داخل دایره باید علامت $>$ قرار گیرد؛ یعنی: $P' \circ P$



۲۱۲ - گزینه ۳

قبول دارید خط فکری مربوط به حل این تست، همان است که در تست مهم قبلی دیدیم؟! در شکل زیر، باز هم به عنوان یک ابتکار عمل، دو استوانه خیالی رسم کرده‌ایم. سطح قاعده این استوانه در هر دو شکل، برابر سطح آزاد جیوه (و یا مساحت کف ظرف ب) است.

توجه کنید که ارتفاع آب لزوماً بیشتر از جیوه نیست؛ چون با آن که حجم ۱ kg آب بیشتر از ۱ kg جیوه است، اما مساحت مقطع ظرف‌ها یکسان نیست. چون جرم کل جیوه و آب برابر است، قطعاً با توجه به شکل می‌پذیرید که جرم آبی که داخل استوانه شکل ب قرار می‌گیرد، قطعاً کم‌تر از جرم جیوه‌ای است که داخل استوانه شکل الف جای می‌گیرد:

$$m_{\text{آب}} < m_{\text{جیوه}} \Rightarrow \rho_{\text{آب}} V_{\text{آب}} < \rho_{\text{جیوه}} V_{\text{جیوه}} \Rightarrow \rho_{\text{آب}} Ah_{\text{آب}} < \rho_{\text{جیوه}} Ah_{\text{جیوه}} \Rightarrow \rho_{\text{آب}} h_{\text{آب}} < \rho_{\text{جیوه}} h_{\text{جیوه}}$$

با ضرب کردن دو طرف در g، می‌توان به فشار مایع رسید:

$$\rho_{\text{آب}} gh_{\text{آب}} < \rho_{\text{جیوه}} gh_{\text{جیوه}} \Rightarrow P_{\text{آب}} < P_{\text{جیوه}}$$

۲۱۴ - گفته شده که غشای (پوسته) D در عمق معینی از یک دریاچه قرار دارد، چنان‌که می‌دانید فشار در یک عمق داخل مایع، یکسان است. هم‌چنین، به دلیل آن که فشار کمیته نرده‌ای است، به طرز قرار گرفتن غشا وابسته نیست.

۲۱۵ - نیرویی که این استوانه به سطح افقی زیر خود وارد می‌کند، هم‌اندازه با وزن آن است. برای محاسبه فشار،

به جای وزن، ابتدا mg را می‌گذاریم و چون چگالی استوانه را به ما داده است، به فکر استفاده از رابطه $\rho = \frac{m}{V}$ (البته به صورت $m = \rho V$) می‌افتیم:

$$P = \frac{F}{A} = \frac{mg}{A} = \frac{\rho Vg}{A}$$

$$P = \frac{\rho Ahg}{A} = \rho gh = 800 \times 10 \times 0.4 = 3200 \text{ Pa}$$

می‌بینید که مساحت قاعده استوانه، تأثیری در پاسخ ندارد!

۲۱۶ - با استفاده از فشار هوا، می‌توان فشار در هر یک از دو نقطه A و B را جداگانه به دست آورد؛ فقط توجه کنید که نقطه B در عمق ۶۰ سانتی‌متری

(یا ۰/۶ متری) از سطح آزاد آب قرار دارد. چگالی آب را هم باید با یکای SI (یعنی ۱۰۰۰ کیلوگرم بر متر مکعب) در رابطه قرار داد.

$$P_A = P_0 + \rho gh_A = 9/9 \times 10^4 + \frac{1000 \times 10 \times 0.1}{1} = 10 \times 10^4 = 10^5 \text{ Pa}$$

$$P_B = P_0 + \rho gh_B = 9/9 \times 10^4 + \frac{1000 \times 10 \times 0.6}{6 \times 10^4} = 10/5 \times 10^4 \text{ Pa}$$

$$\frac{P_B}{P_A} = \frac{10/5 \times 10^4}{10^5} = \frac{10/5}{10} = \frac{2}{10} = \frac{1}{5}$$

۲۱۷ - اگر وزن هر مکعب را W و مساحت هر وجه آن را A بنامیم، در شکل (۲)، وزن کل برابر ۸W و مساحت کف برابر ۴A است:

$$\frac{P_2}{P_1} = \frac{4A}{\frac{8W}{A}} = 2$$

۲۱۸ - ابتدا با استفاده از شیب نمودارهای داده‌شده، چگالی دو مایع را به دست می‌آوریم:

$$\rho_A = \frac{10}{10} = 1 \text{ g/cm}^3, \rho_B = \frac{10}{10} = 1 \text{ g/cm}^3$$

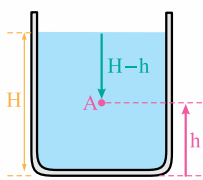
$$\rho_{\text{مخلوط}} = \frac{m_A + m_B}{\frac{m_A}{\rho_A} + \frac{m_B}{\rho_B}} = \frac{250 + 200}{\frac{250}{1} + \frac{200}{1}} = 0.9 \text{ g/cm}^3$$

اکنون می‌توان چگالی مخلوط و فشار آن را به دست آورد:

$$P = \rho_{\text{مخلوط}} gh = 900 \times 10 \times 0.25 = 2250 \text{ Pa}$$

۲۱۹ - قرار بود برای تشخیص نمودار درست، به دنبال یک رابطه ریاضی بین کمیت‌های روی دو محور باشیم.

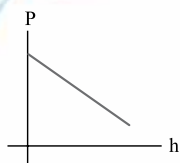
بله! اما شما قبلاً این کار را برامون کرده بودین و با استفاده از رابطه $P = P_0 + \rho gh$ نتیجه گرفته بودین که برای هر کرم از مایع‌ها، نمودارمون به شکل یه قط با شیب مثبت، یعنی گزینه (۲) درسته نه گزینه (۳)!!



باید کمی دقتان را بالا ببرید! در رابطه $P = P_0 + \rho gh$ منظور از h در حقیقت «عمق» نقطه مورد نظر از سطح آزاد مایع بود؛ اما در این تست، یک شیپنت کوچک وجود دارد! این بار h را نمایش ارتفاع نقطه مورد نظر نسبت به کف ظرف گرفته است.

همان‌گونه که در شکل روبه‌رو می‌بینید، اگر ارتفاع کل مایع را با H نشان دهیم و نقطه A در ارتفاع h بالاتر از کف ظرف باشد، عمق این نقطه نسبت به سطح آزاد مایع برابر (H-h) خواهد بود و رابطه $P = P_0 + \rho gh$ به صورت زیر درمی‌آید:

$$P = P_0 + \rho g(H-h) \Rightarrow P = \underbrace{(P_0 + \rho gH)}_{\text{مقدار ثابت (عرض از مبدأ)}} - \underbrace{\rho gh}_{\text{مقدار ثابت (شیب)}}$$



رابطه آخر، نشان می‌دهد که نمودار مورد نظر، خط راستی است با عرض از مبدأ مثبت و شیب منفی؛ درست مثل شکل روبه‌رو. وقتی در ظرف دو مایع داریم، دوتا از همین خطها داریم که به دنبال هم قرار می‌گیرند و چون از نظر قدرمطلق، شیب نمودار برابر pg است، شیب نمودار برای مایعی که چگالی بیشتری دارد، بیشتر است.

۲۲۰- امیدوارم از شکل عجیب و غریب ظرف نترسیده باشید! خواهید دید چیزی که برای ما اهمیت دارد، سطح مقطع قسمت بالایی ظرف است. اگر

ارتفاع آب اضافه‌شده را با Δh نشان دهیم، افزایش فشار به دلیل آب اضافه‌شده برابر $\Delta P = \rho g \Delta h$ می‌شود؛ به این ترتیب، چیزی که نیاز داریم، Δh است. توجه کنید که حجم مایع اضافه‌شده را می‌دانیم (۲ لیتر و یا 2×10^{-3} متر مکعب) و با توجه به استوانه‌ای بودن آب اضافه‌شده می‌توان نوشت:

$$A \Delta h = 2 \times 10^{-3} = 0.4 \Delta h \Rightarrow \Delta h = \frac{2 \times 10^{-3}}{0.4} = 0.5 \text{ m}$$

حجم آب اضافه‌شده $= A \Delta h = 2 \times 10^{-3} = 0.4 \Delta h \Rightarrow \Delta h = \frac{2 \times 10^{-3}}{0.4} = 0.5 \text{ m}$

افزایش فشار در کف ظرف $\Delta P = \rho g \Delta h = 1000 \times 10 \times 0.5 = 5000 \text{ Pa}$

۲۲۱- فرض کنید همانند شکل روبه‌رو، روغن سرتاسر لوله را پر کرده است. نقطه A را در پایین‌ترین سطح روغن

(یعنی مرز جدایی روغن و آب) در نظر می‌گیریم. این نقطه در عمق h زیر سطح آزاد روغن است و اگر چگالی روغن را ρ_1 بنامیم، فشار در این نقطه برابر می‌شود با:

$$P_A = P_0 + \rho_1 g h$$

نقطه B نیز نقطه‌ای هم‌تراز با نقطه A، اما خارج لوله و داخل آب است. این نقطه در عمق $(h - \Delta)$ سانتی‌متر زیر سطح آزاد آب قرار دارد:

$$P_B = P_0 + \rho_2 g (h - \Delta)$$

چون دو نقطه A و B روی یک خط افقی قرار دارند (هم‌ترازند)، فشار در این دو نقطه باید برابر باشد:

$$P_A = P_B \Rightarrow P_0 + \rho_1 g h = P_0 + \rho_2 g (h - \Delta) \Rightarrow \rho_1 g h = \rho_2 g (h - \Delta) \Rightarrow 0.9 h = 1(h - \Delta) \Rightarrow 0.1 h = \Delta \Rightarrow h = 50 \text{ cm}$$

بیشترین نیازی به تبدیل واحد نبود؟

چون می‌خواستیم دو فشار را برابر قرار دهیم، کافی بود کمیت‌های مانند هم در دو طرف رابطه، با واحدهای مثل هم گذاشته شوند؛ مثلاً ارتفاع‌ها با واحد سانتی‌متر و چگالی‌ها با واحد گرم بر سانتی‌متر مکعب گذاشته شدند.

۲۲۲- با مکیدن مقداری از هوای داخل لوله، فشار آن کاهش می‌یابد و به همین دلیل، دو مایع در لوله‌ها بالا

می‌روند. این فشار هوای کاهش‌یافته داخل لوله را P_g می‌نامیم و کار خود را از سمت راست شکل روبه‌رو شروع می‌کنیم! فشار در نقطه E از یک طرف برابر $P_E = P_g + \rho_{\text{نفت}} g h_A$ و از طرف دیگر، برابر با فشار در نقطه D (یعنی برابر فشار هوا) است:

$$P_D = P_0 = P_E = P_g + \rho_{\text{نفت}} g h_A$$

همین کار را می‌توان برای طرف دیگر و دو نقطه F و G تکرار کرد و به این نتیجه رسید:

$$P_G = P_0 = P_F = P_g + \rho_{\text{آب}} g h_B$$

با مقایسه دو رابطه‌ای که نوشتیم، به راحتی نتیجه می‌شود که طرف رنگی آن‌ها باید برابر باشند:

$$\frac{P_g}{\rho_{\text{نفت}}} + g h_A = \frac{P_g}{\rho_{\text{آب}}} + g h_B \Rightarrow 0.8 h_A = 1 h_B \Rightarrow \frac{h_B}{h_A} = 0.8$$

توجه دارید که قطر مقطع لوله‌ها، تأثیری در پاسخ ندارد!

۲۲۳- چون در دو ظرف به «مقدار مساوی» آب ریخته‌ایم، می‌توانیم حجم آب دو ظرف را برابر قرار دهیم:

$$A h_1 = \frac{3}{4} A h_2 \Rightarrow h_1 = \frac{3}{4} h_2$$

$$\frac{P_1}{\rho_1} = \frac{P_0 + \rho_1 g h_1}{\rho_1} = \frac{P_0 + \frac{3}{4} \rho_1 g h_2}{\rho_1} > 1 \Rightarrow P_1 > P_2$$

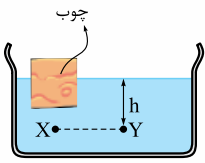
حالا می‌توان نسبت فشار کل در کف دو ظرف را تشکیل داد:

$$\frac{P_1}{\rho_1} = \frac{P_0 + \frac{3}{4} \rho_1 g h_2}{\rho_1} = \frac{\frac{3}{4} (P_0 + \rho_1 g h_2) - \frac{1}{4} P_0}{\rho_1 + \rho_1 g h_2} = \frac{3}{4} - \frac{\frac{1}{4} P_0}{\rho_1 + \rho_1 g h_2} < \frac{3}{4} \Rightarrow P_1 < \frac{3}{4} P_2$$

۲۲۴- قرار بود برای انتخاب نمودار صحیح، بدون آن‌که تحت تأثیر احساسات

خود قرار بگیرید، به دنبال یک رابطه ریاضی بین کمیت‌های دو محور باشید! اگر رابطه $P = P_0 + \rho g h$ را با معادله ریاضی $y = ax + b$ مقایسه کنید، متوجه می‌شوید که نمودار مورد نظر، خط راستی با عرض از مبدأ P_0 و شیب pg است. (شکل مقابل، سمت چپ) برای تطبیق این نمودار با احساسات (!) به شکل مقابل (سمت راست) توجه کنید. در این شکل می‌بینید که با بیرون ریختن مایع و کاهش ارتفاع، در حقیقت روی این نمودار از راست به چپ خواهیم رفت.

۲۲۵- **گزینه ۱** اختلاف فشار بین دو نقطه از یک مایع که در راستای قائم به اندازه h از هم فاصله دارند، همیشه برابر ρgh است. در حقیقت با افزایش فشار بر سطح آزاد مایع، فشار در تمام نقطه‌های مایع به یک اندازه افزایش می‌یابد و اختلاف فشار بین دو نقطه ثابت می‌ماند.



۲۲۶- **گزینه ۱** بیاید به جای نقطه X به نقطه Y نگاه کنیم! چون نقطه Y در عمق h زیر سطح آزاد مایع است، فشار در آن برابر $P = P_0 + \rho gh$ است، از طرفی چون نقطه X با نقطه Y هم‌تراز است، (یعنی دو نقطه روی یک خط افقی قرار دارند)، فشار در آن دو مساوی است.

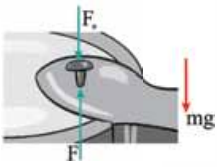
یعنی وجود چوب هیچ تأثیری روی فشار ندارد؟! ... آگه چوب نبود که بازم فشار همین می‌شد!



در حقیقت، وجود چوب، بر روی h تأثیر گذاشته است! توجه کنید که با شناور کردن چوب در مایع، سطح آزاد مایع بالاتر می‌رود.



۲۲۷- **گزینه ۱** گفته بودیم که اگر نقطه‌های هم‌تراز، متعلق به یک مایع باشند، فشار در آن‌ها برابر است.



۲۲۸- **گزینه ۱** پیش از هر چیز، یادآوری می‌کنم که طبق تعریف فشار $(P = \frac{F}{A})$ ، نیرو را می‌توان با ضرب کردن فشار در مساحت به دست آورد:

اکنون توجه کنید که به وزنه، همانند شکل روبه‌رو، دو نیروی رو به پایین و یک نیروی رو به بالا وارد می‌شود: نیروی F_0 ، از طرف هوای بیرون دیگ، وزنه را به پایین هل می‌دهد و وزن وزنه، نیز رو به پایین است. نیروی F هم از طرف بخار داخل دیگ، وزنه را به بالا هل می‌دهد. چون وزنه ساکن است، جمع دو نیروی رو به پایین، باید با نیروی رو به بالا برابر باشد:

$$F_0 + mg = F \Rightarrow P_0 A + mg = PA \Rightarrow 1 \times 10^5 \times 4 \times 10^{-6} + m \times 10 = 2 \times 10^5 \times 4 \times 10^{-6}$$

$$\Rightarrow m \times 10 = \frac{8 \times 10^{-1} - 4 \times 10^{-1}}{0.4} \Rightarrow m = 0.04 \text{ kg} = 0.04 \text{ kg} \times \frac{1000 \text{ g}}{1 \text{ kg}} = 40 \text{ g}$$

آنتی با کتاب‌دوستی

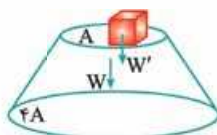
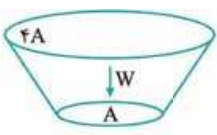
۲۲۹- **گزینه ۲** فشار پیمانهای داده شده، ناشی از وزن شخص است و کافی است از رابطه فشار، استفاده کنیم:

$$P_g = \frac{F}{A} = \frac{mg}{A} \Rightarrow 0.25 \times 10^5 = \frac{75 \times 10}{\frac{\pi R^2}{4}} \Rightarrow R^2 = \frac{75 \times 10}{\frac{\pi}{4} \times 0.25 \times 10^5} \Rightarrow R = 0.1 \text{ m}$$

۲۳۰- **گزینه ۲** تبدیل زنیبه‌ای یگاها رو که فوب یارتونه؟! ... با توجه به این که «پاسکال»، یعنی «نیوتون بر متر مربع»، می‌توان به صورت زیر نوشت:

$$10 \frac{\text{N}}{\text{cm}^2} \times \frac{1 \text{ cm}^2}{10^{-4} \text{ m}^2} = 10^5 \text{ N/m}^2 = 10^5 \text{ Pa} = 10^5 \text{ Pa} \times \frac{\text{kPa}}{10^3 \text{ Pa}} = 100 \text{ kPa}$$

۲۳۱- **گزینه ۲** توجه کنید که طبق فرمول مساحت دایره $(A = \pi R^2)$ این مساحت با مجذور شعاع متناسب است؛ بنابراین اگر مساحت قاعده کوچک را A بنامیم، مساحت قاعده بزرگ برابر $4A$ خواهد بود. این نوع قضاوت را می‌توان به صورت مقابل خلاصه کرد:



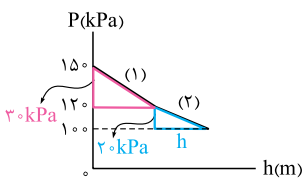
خلاصه کرد:

$$A = \frac{\pi}{4} (R)^2$$

اگر وزن خود مخروط را W و وزن وزنه روی آن را W' بنامیم، با استفاده از برابری فشار در دو حالت، خواهیم نوشت:

$$P = \frac{W}{A} = \frac{W + W'}{4A} \Rightarrow 4W = W + W' \Rightarrow W' = 3W$$

۲۳۲- **گزینه ۴** دیده بودیم که شیب نمودار برابر $-\rho g$ است؛ بنابراین با توجه به شکل روبه‌رو، می‌توان نوشت:



$$\text{قدرمطلق شیب} = \rho g \Rightarrow \begin{cases} \rho_1 g = \frac{30 \times 10^3}{h} \\ \rho_2 g = \frac{20 \times 10^3}{h} \end{cases}$$

$$\frac{\rho_1}{\rho_2} = \frac{3}{2} \Rightarrow \frac{\rho_1}{1000} = \frac{3}{2} \Rightarrow \rho_1 = 1500 \text{ kg/m}^3$$

با تقسیم دو طرف رابطه‌های بالا بر یکدیگر، خواهیم داشت:



۲۳۳- **کتابخانه ۱** قبلاً در بخش «تمرین»، در قالب دو تست به این موضوع پرداختیم و دیدیم برای قضاوت در مورد فشار در نقطه A، بهتر است از ثابت ماندن فشار در کف ظرف کمک بگیریم و برای قضاوت در مورد فشار در نقطه B، بهتر است از ثابت ماندن فشار در سطح آزاد استفاده کنیم. (یادتون اومد کدام تست‌ها رو می‌گم یا نه؟!)