

فارسی: درس اول
 ریاضی: صفحه ۷ تا ۹
 علوم: درس اول
 هدیه: درس اول
 اجتماعی: درس اول



نام و نام خانوادگی:
 نام معلم:
 کلاس:

فارسی

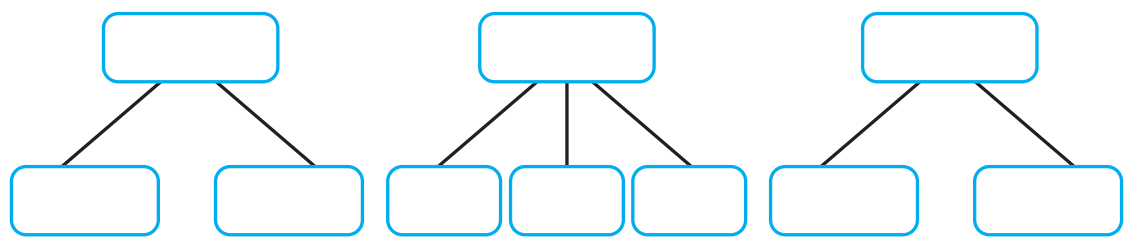
۱- از درس محله‌ی ما، کلمه‌هایی را بنویس که نشانه‌های زیر را داشته باشد.

ط	ض ض	ح ح	غ غ غ غ
<input type="text"/>	<input type="text"/>	<input type="text"/>	<input type="text"/>
<input type="text"/>	<input type="text"/>	<input type="text"/>	<input type="text"/>

۲- شعر و جمله‌ها را بخوان و هم‌معنی واژه‌های مشخص شده را از میان کلمه‌ها پیدا کن و در کمانک بنویس. (۱ کلمه اضافی است.)

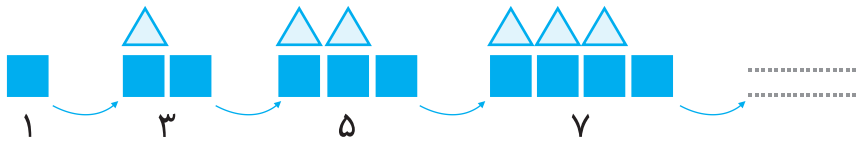
مناره	پایان	بزرگی	سبز
دوروبر	همدل	دلواپس	

خدایی که از بوی گل، بهتر است صیبی‌تر () از خنده‌ی مادر است
 او به اطراف (.....) نگاه می‌کرد. گنبد فیروزه‌ای (.....) و گلدسته‌های (.....) بلند
 آن، عظمتی (.....) داشت. امید نگران (.....) بود.
 ۳- در جمله‌های زیر، چه کلمه‌هایی با هم ارتباط معنایی دارند؟ پیدا کن و بنویس.
 بازارچه تعداد زیادی مغازه و دکان کوچک و بزرگ داشت. بعضی از آن‌ها لباس و کیف و کفش می‌فروختند و بعضی
 دیگر، کتاب و دفتر.



ریاضی

۱- الگوی شکل و عددی زیر را کامل کرده و رابطه‌ی الگو را توضیح دهید.



۲- الگوی عددی زیر را ادامه داده و توضیح بده چه رابطه‌ای بین اعداد وجود دارد.

۱۲ - ۱۶ - ۱۸ - -

۱۵۸ - ۲۷۴ - ۳۹۰ - -

۳- امیرعلی هر روز ۳ صفحه از روز قبل بیش‌تر مطالعه می‌کند. اگر او روز اول ۱۰ صفحه مطالعه کرده باشد، پس از چند روز می‌تواند یک کتاب ۵۸ صفحه‌ای را تمام کند؟

۴- محمدحسین هر بادکنک را ۲۰۰ تومان می‌خرد و ۲۷۰ تومان می‌فروشد. با توجه به جدول به سؤالات پاسخ بده.

تعداد بادکنک	۱	۲	۳	۴	۵
سود بادکنک					

الف) فروش یک بادکنک چند تومان برایش سود دارد؟

ب) اگر او ۳ بادکنک بفروشد چه قدر سود می‌برد؟

ج) چند بادکنک بفروشد تا ۲۸۰ تومان سود کند؟

د) چند بادکنک بفروشد تا بتواند با سود آن یک بادکنک برای خودش بردارد؟

فارسی: درس اول
ریاضی: صفحه ۷ تا ۹
علوم: درس اول
هدیه: درس اول
اجتماعی: درس اول



نام و نام خانوادگی:

نام معلم:

کلاس:

علوم

الف) گزینه‌ی درست را علامت بزن.

۱) اولین گام در پژوهش کدام یک از گزینه‌های زیر است؟

- الف) جمع‌آوری اطلاعات ب) طرح سؤال ج) پیش‌بینی د) آزمایش

۲) خوردن کدام یک از گزینه‌های زیر از نظر بهداشتی درست است؟

- الف) چیپس ب) پفک ج) نوشابه د) لبنیات و گوشت

ب) مراحل جمع‌آوری اطلاعات در شکل زیر پراکنده شده است. هر مرحله را به شماره‌ی درست آن وصل کن.

پرسش از افراد متخصص	تهیه‌ی جدول	گفت‌وگو و مشورت	تهیه‌ی پرسشنامه	تهیه‌ی گزارش
(۳)	(۵)	(۴)	(۱)	(۲)

ج) به پرسش‌های زیر پاسخ کوتاه بده.

۱) افرادی که مراحل روش علمی را به ترتیب و به درستی انجام می‌دهند، چه می‌نامند؟

۲) برای پیدا کردن پاسخ سؤال «کدام قسمت از خانه برای کاشتن دانه‌ی لوبیا مناسب‌تر است؟»، چه باید کرد؟
.....

۳) چگونه می‌توان پاسخ یک پرسش را پیدا کرد؟
.....

هدیه‌های آسمان

۱- جاهای خالی را با کلمه‌های مناسب کامل کن.

الف) یکی از بهترین راه‌های تشکر از خدا، از نعمت‌های اوست.

ب) به یاد نعمت‌هایی باشید که خدا به شما داده است. (همیشه - گاهی)

۲- درست یا نادرست بودن هر جمله را مشخص کن.

الف) آفرینش بعضی از نعمت‌ها برای آسایش و راحتی انسان می‌باشد.
ب) بدون استفاده از انگشت شست، به سختی دکمه‌ی لباس بسته می‌شود.

۳- مهم‌ترین عضو بدن کدام است؟ چرا؟

مطالعات اجتماعی

۱- جاهای خالی را با کلمه‌های مناسب کامل کن.

الف) هویت و ملیت ما با مشخص می‌شود.

ب) نوزادان تا درست نمی‌بینند ولی صداها را خوب می‌شنوند.

۲- روی نواری که در بیمارستان دور دست نوزادان می‌بندند چه اطلاعاتی نوشته شده است؟

--	--	--	--	--



۳- برای انجام چه کارهایی به شناسنامه نیاز است؟

--	--	--

۴- مشخصات خودت را در صفحه‌ی اول شناسنامه کامل کن.

شماره ملی		نام	
		نام خانوادگی	
		شماره شناسنامه	
شهرستان	ماه	(هـ ش) روز	تاریخ تولد
محل بخش		سال	به عدد
تولده دهستان		ماه	(هـ ق) روز
شهر-روستا	سال		
محل تنظیم سند	شماره شناسنامه	نام	والدین
			پدر
			مادر

ارزیابی آموزگار



فارسی: درس اول
ریاضی: صفحه ۱۰ تا ۱۵
علوم: درس اول
هدیه: درس دوم
اجتماعی: درس دوم



نام و نام خانوادگی:
نام معلم:
کلاس:

فارسی

۱- کلمه‌ها را بخوان.

صاف، عظمتی، نگران، خندید، بسکتبال، شروع، علاقه، دروازه‌بان، راحت، موضوع، بایستد، صمیمی، تصمیم، نظر، نام‌نویسی، معرفی، رتبه، انتها، فیروزه‌ای

کدام یک از کلمه‌های بالا را در درس محله‌ی ما، خواندی؟ بنویس.

.....
.....

۲- در هر گروه از واژه‌ها، یک کلمه با بقیه متناسب نیست. دور آن خط بکش.

شوت، تاشاچی، داور، اورژانس
عقربه‌ی بزرگ، زمان، رومیزی، ثانیه

۳- با توجه به ماشین کلمات، در جاهای خالی کلمه‌ی مناسب بنویس.

پرنده‌گان	+ ان	دروازه‌بان	مسابقه
		مهمان	لحظه

۴- با توجه به شعر پدربزرگ، جاهای خالی را کامل کن.




مادر برای او زود	با خنده باز از من
یک	پرسید:
او	کردم تشکر از او
انگار درد می‌کرد

۵- برای تصویر دو جمله‌ی زیبا بنویس.



ریاضی

۱- با توجه به کار ماشین‌ها در جای خالی عدد مناسب بنویس.

۱۵				۱۴	
۱۲					
۷	-۶		+۳	۸	۱۲
					۱۵

۲- در شمارش ۶ تا ۶ تا عددهای قبل و بعد از عدد ۳۶ را مشخص کن.

۱۲ - - ۲۴ - - ۳۶ - - ۴۸ -

۳- الگوهای زیر را ادامه بده، سپس رابطه‌ی الگو را توضیح بده.

۲۹ ۲۵ ۲۱

رابطه‌ی الگو:

۴۸ ۴۶ ۴۴

رابطه‌ی الگو:

۱۲۰ ۲۴۰ ۳۶۰

رابطه‌ی الگو:

۴- محمدرضا تصمیم دارد هر روز تعدادی طناب بزند. مربی ورزش به او گفت روز اول فقط ۵ تا طناب بزند و روزهای بعد هر روز، ۷ تا به تعداد روز قبل اضافه کند. در چندمین روز، او ۳۳ تا طناب می‌زند؟

.....


.....

فارسی: درس اول
ریاضی: صفحه ۱۰ تا ۱۱
علوم: درس اول
هدیه: درس دوم
اجتماعی: درس دوم



نام و نام خانوادگی:
نام معلم:
کلاس:

۵- تعداد دایره‌های زیر را به شکل‌های مختلف بشمار و عبارت جمع مربوطه را زیر آن‌ها بنویس.



۱- درستی یا نادرستی سؤالات زیر را مشخص کن.

- الف) پژوهشگران پس از جمع‌آوری اطلاعات با یادداشت کردن اطلاعات و مرتب و رسم جدول به آن‌ها نظم می‌دهند.
- ب) یکی از روش‌های جمع‌آوری اطلاعات مشاهده می‌باشد.
- ج) دانشمندان برای جمع‌آوری مطالب خود اول آزمایش می‌کنند.

۲- مهرداد از دوستان خود پرسید: «در هفته چند لیوان شیر می‌نوشید؟» او پاسخ دوستانش را در جدولی یادداشت کرد.

اطلاعات جدول مقابل را در یک نمودار ستونی،

مرتب کن.


تعداد بچه‌ها	تعداد لیوان‌های شیر
///	صفر
### ### ///	یک تا سه لیوان
### ////	چهار تا پنج لیوان
### //	شش لیوان یا بیشتر

هدیه‌های آسمان

- ۱- جاهای خالی را با کلمه‌های مناسب کامل کن.
الف) یکی از بهترین وقت‌ها برای دعا کردن، هنگام است.
ب) با می‌توانم از خدا بخواهم مریض‌ها را شفا دهد.
- ۲- درست یا نادرست بودن هر جمله را مشخص کن.
الف) فقط با دعا کردن می‌توانیم شکرگزار نعمت‌های خدا باشیم.
ب) معمولاً هنگام دعا کردن، دست‌های خود را به‌سوی بالا می‌بریم.
- ۳- برای چه کسانی می‌توانیم دعا کنیم؟


مطالعات اجتماعی

- ۱- جاهای خالی را با کلمه‌های مناسب کامل کن.
همه‌ی موجودات زنده می‌کنند و کامل‌تر و می‌شوند.
رشد کردن، در موجودات زنده به‌وجود می‌آورد.
تغییرات بدن از زمان آغاز می‌شود.
- ۲- هر تصویر مربوط به کدام نوع از تغییرات رشد می‌باشد؟



- ۳- خط زمان چیست؟

ارزپایی آموزگار



فارسی: درس دوم
ریاضی: صفحه ۱۷ تا ۱۸
علوم: درس دوم
هدیه: درس ۱ و ۲
اجتماعی: درس سوم



نام و نام خانوادگی:

نام معلم:

کلاس:



۱- از درس «زنگ ورزش» کلمه‌های خواسته شده را پیدا کن و بنویس.

--	--	--

الف) سه کلمه‌ی جعب با نشانه‌های (ها، ان، ات).

--	--	--

ب) سه کلمه که نشانه‌ی (ص ص) داشته باشد.

--	--	--

ج) سه کلمه که نشانه‌ی (ط) داشته باشد.

۲- مخالف هر کلمه را بنویس.

	سختی		ماهرانه		مفید
--	------	--	---------	--	------

۳- دو کلمه به جای کلمه‌ای که در زیر آن خط کشیده شده است بنویس.



او به چه رشته‌ی آموزشی علاقه‌مند است؟

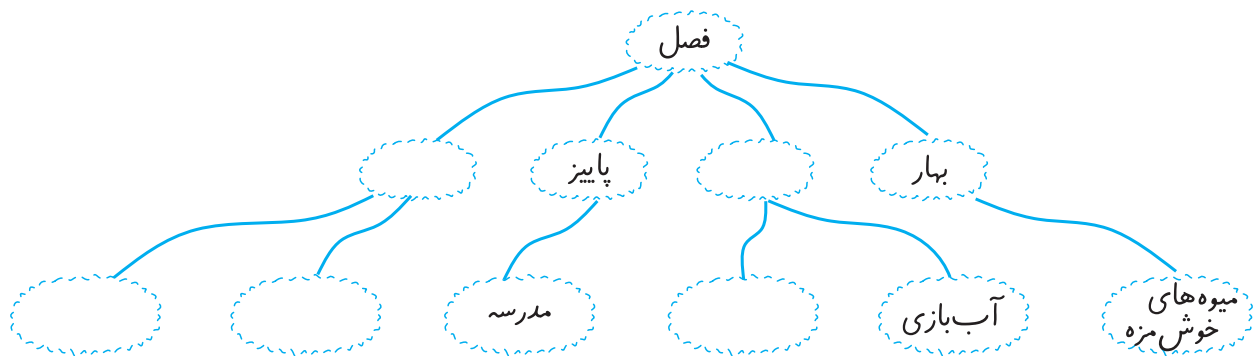
فردای آن روز با دوستم به استخر رفتیم.

۴- جمله‌های درست را با علامت ✓ و جمله‌های نادرست را با x نشان بده.

آیا امسال تو و خانواده‌ات به شیراز می‌روید؟

من و پدرم در اتاق مشغول بازی و تفریح بودیم.

ماهان و دوستانش منتظر مربی بودیم.



ریاضی

۱- جدول زیر کارهای فاطمه در یک روز تعطیل می‌باشد. با توجه به آن به سوالات پاسخ بده.

کارهای انجام شده	نوبت دکتر	خواب	نماز، ورزش، صبحانه	انجام تکالیف و مطالعه	نهار و تماشای تلویزیون	استراحت و حمام	شام و استراحت
زمان انجام کار	۵ تا ۷ بعدازظهر	۲ تا ۶ صبح	۸ تا ۶ قبل از ظهر	۹ تا ۱۲ قبل از ظهر	۱۳ تا ۱۶	۴ تا ۵ بعدازظهر	۸ تا ۱۰ بعدازظهر

الف) فاطمه ساعت بعدازظهر یا نوبت دکتر دارد.

ب) فاطمه در مجموع چند ساعت خوابیده است؟

ج) او در مجموع چند ساعت به تماشای تلویزیون، خوردن نهار، استراحت و حمام مشغول بوده است؟

۲- کارهای روز جمعه‌ی خود را در قبل از ظهر و بعد از ظهر روی ساعت‌های زیر نشان دهید.
(مطالعه - بازی - خواب - خوردن - غذا - انجام تکلیف و ...)




بعد از ظهر



قبل از ظهر

۳- قطار تهران - مشهد، ساعت ۸ صبح از تهران به سمت مشهد حرکت کرد و پس از ۱۰ ساعت به مشهد رسید. قطار چه ساعتی به مشهد رسید؟



فارسی: درس دوم
ریاضی: صفحه ۱۷ تا ۱۸
علوم: درس دوم
هدیه: درس ۱ و ۲
اجتماعی: درس سوم






نام و نام خانوادگی:
نام معلم:
کلاس:

علوم

۱- گزینه‌ی درست را با علامت ✓ مشخص کن.

الف) کدام یک از مواد غذایی با بقیه متفاوت است؟



کره

ماست

ب) کدام ماده‌ی غذایی چربی بیش‌تری دارد؟

پنیر

شیر

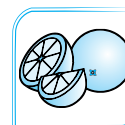
۲- جاهای خالی را با کلمات مناسب پُر کن.

الف) بشقاب سلامت به ما نشان می‌دهد که بهتر است هر روز چه مقدار از هر بخوریم.

ب) آجیل و حبوبات در گروه و خرما در گروه قرار می‌گیرند.

ج) ما باید از گروه‌های و بیشتر از گروه چربی‌ها و گوشت‌ها استفاده کنیم.

۳- مریم می‌خواهد برای ناهار، قرمه‌سبزی بپزد. به او نشان بده که هر کدام از مواد غذایی در کدام گروه قرار می‌گیرد؟



۴- جمله‌ی درست یا نادرست را با علامت ✓ مشخص کن.

الف) بیش‌تر غذاهایی که می‌خوریم، مخلوطی از چند گروه مواد غذایی هستند.

ب) دوغ و پنیر در گروه شیر و لبنیات قرار دارند.

ج) چربی‌ها برای ما مفید هستند.

هدیه‌های آسمان

۱- جاهای خالی را با کلمه‌های مناسب کامل کن.

(الف) دعا کردن یعنی در تمام لحظات

(ب) خدا در آیات ۸ و ۹ سوره‌ی بَلَد می‌فرماید: «آیا ما به انسان، و و دو ندادیم؟»

۲- برای تشکر از خدا چه کارهایی را باید و چه کارهایی را نباید انجام دهیم؟

مطالعات اجتماعی

۱- جاهای خالی را با کلمه‌های مناسب کامل کن.

(الف) استعدادها و انسان‌ها با هم فرق دارد.

(ب) هیچ‌وقت دو نفر کاملاً به هم نیستند.

(ج) خداوند ما را با و آفریده است.

۲- بین تو و دوستت چه تفاوت‌ها و چه شباهت‌هایی وجود دارد؟ در جدول زیر بنویس.

شباهت	تفاوت

۳- ماهان دروازه‌بان خیلی خوبی است و وقتی در دروازه می‌ایستد خیال همه راحت است که گل نمی‌خورد. کدام گزینه

ویژگی ماهان را به درستی نشان می‌دهد؟



تفاوت در استعداد و توانایی

تفاوت در قد و هیکل

تفاوت در جنسیت

تفاوت در وزن

ارزپایی آموزگار





نام و نام خانوادگی:

نام معلم:

کلاس:

فارسی

۱- هر جمله را به مکان مناسب خودش وصل کن.

- | | |
|--------------------------------------|---|
| <input type="radio"/> خانه‌ی سلامت | <input type="radio"/> نهادی که برای حفظ و رشد زبان فارسی تلاش می‌کند. |
| <input type="radio"/> آموزشگاه نقاشی | <input type="radio"/> مکانی که مردم برای درمان به آن جا می‌روند. |
| <input type="radio"/> فرهنگستان | <input type="radio"/> مکانی که کودکان در آن جا نقاشی می‌آموزند. |

۲- متن زیر را بخوان، اطلاعات آشکار را از متن پیدا کن و بنویس.


شناسنامه‌ی هر کس نشان می‌دهد که او کیست و از کدام خانواده است. شناسنامه نشان می‌دهد که ما ایرانی هستیم. پس باید در نگه‌داری از آن کوشا باشیم.

.....

.....

.....

۳- به تصویرها نگاه کن و درباره‌ی موضوع آن‌ها یک بند بنویس.




.....

.....

.....


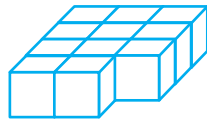
۴- با دیدن تصویر مقابل به یاد چه مثلی افتادی؟



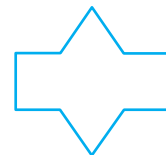
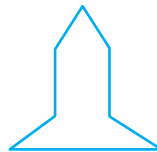
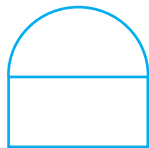

این مثل را چه موقع به کار می‌برند؟

ریاضی

۱- شکل‌های زیر از چند مکعب کوچک درست شده‌اند؟



۲- خط تقارن شکل‌های زیر را رسم کن.



۳- الگوی عددی زیر را تا سه الگو کامل کن.

۶ ، ۱۲ ، ، ،

..... ، ، ۵۶ ، ۶۴ ، ۷۲

۱ ، ۳ ، ۶ ، ۱۰ ، ، ،

۴- جاهای خالی را با عدد مناسب کامل کن.

الف) ساعت ۱۹:۲۰ یعنی همان بعد از ظهر

ب) شکل گسترده‌ی مکعب شامل مربع هم‌اندازه است.

ج) حاصل جمع عبارت $۴ + ۲ + ۵ + ۹ + ۲ + ۶$ می‌شود

د) در شمارش ۵ تا ۵ تا عدد قبل از ۴۵ است.

فارسی: درس ۲
ریاضی: صفحه ۱۹ تا ۲۴
علوم: درس ۲
هدیه: درس ۳
اجتماعی: درس ۲ و ۳



نام و نام خانوادگی:

نام معلم:

کلاس:

علوم

۱- جاهای خالی را با کلمات مناسب پُر کن.

- الف) خوردن مواد غذایی مثل تخم مرغ و عدس به کمک می کند.
ب) با دیدن تصویر بشقاب سلامت نتیجه می گیریم که باید از گروه کم تر استفاده کرد.
ج) گروه غلات به ما می دهند و بعضی و مواد لازم را به بدن می رسانند.
د) برای سالم ماندن مواد غذایی باید آن ها را در نگهداری کرد.

۲- جمله ی درست یا نادرست را با علامت ✓ مشخص کن.

- | | |
|---------------------------------|-------------------------------|
| <input type="checkbox"/> نادرست | <input type="checkbox"/> درست |
| <input type="checkbox"/> نادرست | <input type="checkbox"/> درست |
| <input type="checkbox"/> نادرست | <input type="checkbox"/> درست |

الف) مهم ترین وعده ی غذایی شام است.

ب) آب میوه های بسته بندی شده دارای مواد نگهدارنده هستند.

ج) برچسب سلامت بر روی خوراکی ها درباره ی انرژی هر یک از مواد غذایی به ما اطلاعاتی می دهد.

۳- با توجه به تصویر پاسخ بده.

در زمان خرید این مواد غذایی به چه نکاتی باید توجه کرد؟


.....

۴- چرا به بعضی از مواد خوراکی، مواد نگهدارنده و مواد افزودنی اضافه می کنند؟

.....

۵- وجود یک سطر قرمز یا دو سطر رنگ زرد بر روی برچسب سیب سلامت نشانه ی چیست؟

.....



هدیه‌های آسمان

۱- جاهای خالی را با کلمه‌های مناسب کامل کن.

الف) حضرت محمد انسانی بوده است؛ یک انسان خوب و مهربان .
 ب) به کسی که نوزاد را به او می‌سپارند تا برای مدتی از او نگهداری کند، گفته می‌شود.

۲- درست یا نادرست بودن هر جمله را مشخص کن.

الف) نام مادر حضرت محمد، حلیمه بود.

ب) حضرت محمد مثل همه‌ی انسان‌ها زندگی می‌کرد.

۳- با خواندن هر جمله به یاد کدام ویژگی پیامبر می‌افتی؟ با خط به هم وصل کن.

الف) من کسی را دارم که همیشه و همه‌جا با من است.	<input type="radio"/>	مرتب و پاکیزه
ب) موهایش را شانه کشید	<input type="radio"/>	مهربان و دلسوز
ج) برادرانم سختی بیابان را تحمل می‌کنند ولی من در سایه‌ی خیمه استراحت می‌کنم.	<input type="radio"/>	خداپرست

مطالعات اجتماعی

۱- چرا مسخره کردن کار نادرستی است؟

.....


۲- چرا بعضی از افراد کارها را بهتر انجام می‌دهند؟

.....

۳- فرشته در کودکی موهای کوتاه و مشکی داشت. اما اکنون موهای بلند و روشنی دارد. او در کودکی نمی‌توانست بخواند اما اکنون می‌تواند. از زمان تولد تاکنون چه تغییراتی در فرشته به وجود آمده است؟

<input type="checkbox"/> تغییر نیازها - تغییر توانایی‌ها	<input type="checkbox"/> تغییر رشد بدن - تغییر توانایی
<input type="checkbox"/> تغییر رشد - تغییر نیازها	<input type="checkbox"/> تغییر توانایی - تغییر نیازها

ارزیابی آموزگار



فارسی: درس ۳
 ریاضی: صفحه ۳۷ تا ۳۹
 علوم: درس ۳
 هدیه: درس ۴
 اجتماعی: درس ۴



نام و نام خانوادگی:
 نام معلم:
 کلاس:

فارسی

۱- با حروف درهم ریخته کلمه بساز، سپس معنای هر کلمه را بنویس.

<input type="text"/>	<input type="text"/>	<input type="text"/>	<input type="text"/>	<input type="text"/>

۲- کلمه‌هایی را که در یک خانواده هستند کنار هم بنویس.

تعجب، تقسیم، سعید، علمی، قسمت، معلم، عجیب، مسعود

۳- جمله‌های ناتمام را به دلخواه کامل کن.

آشغال و زباله
 شنیدن صدای چشمه و

۴- مرتب کن.

خوب، ببینید، عزیز، طبیعت، و، خدا، راه، بچه‌های، آفریده‌های، زیبایی‌های

.....

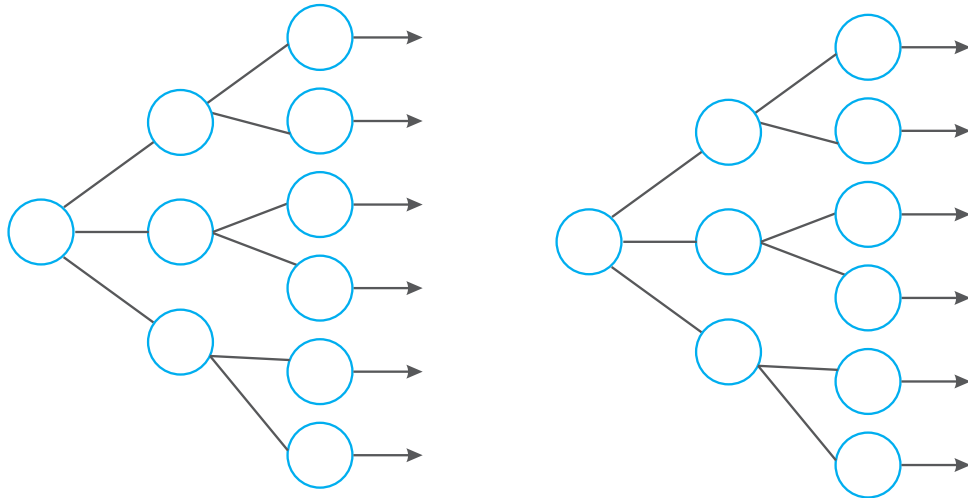
۵- متن زیر را بخوان و کلمه‌های مخالف را نشان بده.

یکی بود، یکی نبود. پیرمردی با دخترش در هوایی پاکیزه در دامنه‌ی کوه زندگی می‌کرد. دختر هر روز صبح به حیوانات اهلی غذا می‌داد. سپس سبدش را برمی‌داشت و به دنبال پونه‌های سبز وحشی و تازه می‌گشت. او شب‌ها سبدش را خالی می‌کرد و آن‌ها را می‌شست تا آلوده نباشند.

ریاضی

۱- همهی عددهای سه رقمی را که رقم صدگان آن‌ها ۷ یا ۹ و رقم دهگان آن‌ها ۱، ۶، ۴ و رقم یکان آن‌ها ۲ یا ۵ باشد

بنویس.



۲- با رقم‌های ۵ و ۰ و ۷ همهی عددهای سه رقمی بدون تکرار ارقام را بنویس.

۳- مدیر مدرسه تصمیم گرفت دانش‌آموزان را به اردو ببرد. در روز اردو ۶ اتوبوس که ظرفیت هر کدام ۳۰ نفر است پر شد. ۱۵ دانش‌آموز هم با مینی‌بوس رفتند. کل دانش‌آموزانی که به اردو رفتند چند نفر هستند؟

۴- محمد و علی به چند حالت می‌توانند با سکه‌های ۱۰۰ و ۲۰۰ ریالی، ۶۰۰ ریال درست کنند؟

۵- الگوهای زیر را کامل کن.

۹۹۰ ، ۹۹۱ ، ۹۹۲ ، ، ،

۱۰۰۰ ، ۲۰۰۰ ، ۳۰۰۰ ، ، ،

۱۵۰۰ ، ۲۰۰۰ ، ۲۵۰۰ ، ، ،

فارسی: درس ۳
ریاضی: صفحه ۳۷ تا ۳۹
علوم: درس ۳
هدیه: درس ۴
اجتماعی: درس ۴



نام و نام خانوادگی:

نام معلم:

کلاس:

علوم

۱- گزینه‌ی درست را علامت ✓ بزن.
* چه تعداد از جمله‌ها صحیح است؟

- با کمک حس بینایی می‌توان سنگین یا سبک بودن مواد را تشخیص داد.
- با حس بینایی و لامسه به راحتی نمی‌توان مواد را از نظر سبکی و سنگینی مرتب کرد.
- با ترازوی تعادلی می‌توان جرم اجسام را با هم مقایسه کرد.
- همه‌ی اجسام از ماده تشکیل شده‌اند.

(د) ۴

(ج) ۲

(ب) ۳

(الف) ۱

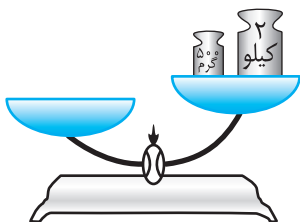
۲- در جاهای خالی کلمات مناسب بنویس.

- به مقدار ماده‌ی تشکیل دهنده‌ی هر جسم آن جسم می‌گویند.
- برای اندازه‌گیری جرم مواد، از یکای و استفاده می‌شود.
- هر کیلوگرم برابر با گرم است.

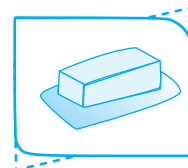

۳- نام وسیله‌ی روبه‌رو چیست؟

چه کاربردی دارد؟

در چه جاهایی دیده‌ای؟



۴- هر یک از مواد زیر را با چه واحدی اندازه‌گیری می‌کنیم؟



.....

.....

.....

.....

۵- یک سیب و یک توپ پلاستیکی تقریباً هم‌اندازه داریم. جرم آن‌ها را با هم مقایسه کن.