

به نام خدای مهربان



مقدمه

با توجه به این که امتحانات پایان سال یازدهم هم مثل دوازدهم نهایی شده و تأثیر مستقیم در قبولی کنکور شما داره، ما با مشورت بهترین دبیران زیست کشور، تصمیم گرفتیم مجموعه‌ای براتون گردآوری کنیم به طوری که با مطالعه اون در امتحان نهایی، همه سؤالات براتون تکراری میشه! پس با خیال راحت شروع به مطالعه این مجموعه کنید تا به امید خدا نمره ۲۰ رو کنار درس زیست‌شناسی در کارنامه خودتون هک کنید.

ساختار بیست یک

این مجموعه شامل ۱ کتاب پرسؤال ۲ کاربرد امتحانی و ۲ خلاصه کپسولی هست.

۱ کتاب پرسؤال

در کتاب پرسؤال فصل به فصل و گفتار به گفتار مطابق ساختار کتاب درسی، درسنامه و سؤالات مربوط به اون آورده شده. اول هر فصل یک **باکس مشاوره** براتون آوردیم تا با ساختار کلی فصل و مباحثی که قراره بخونید آشنا بشید. **درسنامه‌ها**مون بهتون کمک می‌کنن تمام مطالب آموزشی مهم و کاربردی رو خیلی شیک و مجلسی یاد بگیرین، چون مطالب درسی رو به صورت نموداری چیدمان کردیم، تا با آرامش! روی مطالب تمرکز کنین و از مطالعه کردن لذت کافی ببرین! **پرسش‌ها**مون کارکشته‌اند و حرفه‌ای! این قسمت از کتاب رو چنان رنگارنگ و باب میل تمام سلیق نگاشتیم که مطمئن باشین حظ می‌کنین از این تنوع در سؤالات!

باورتون نمی‌شه؟ خب بفرمایین، این شما و این تنوع **تیپ‌های پرسشی** این کتاب!

سؤالات جای خالی: این سؤالات کمکتون می‌کنن که با متن کتاب درسی و تمام زیر و بماش آشنا بشین.

پرسش‌های درست و نادرست: جملاتی به شما داده می‌شه و فقط باید بگین تک‌تک جمله‌ها صحیح هست یا نه، به همین سادگی!

انتخاب کلمه: سؤالاتی که شما رو تو دوراهی قرار می‌ده و باید یک راه راست رو انتخاب کنین؛ امیدواریم رستگار بشین!

سؤالات چهارگزینه‌ای: این تیپ از سؤالات بوی کنکور می‌ده، خارجی‌ها بهش می‌گن تست! از همین الان می‌تونین میخ کنکورتون رو بکوبین! اگرچه، پای این تیپ از سؤالات به امتحانات تشریحی هم باز شده! پس خوب حواستون رو جمع کنین!

کشف ارتباط: این که «چه موضوعی مربوط به چیه» رو باید از دل چندین موضوع شناسایی کنین! بازیه جالبیه! حالشو ببرین!

سؤالات تصویری: زیسته و تصاویرش! مگه می‌شه کتاب زیست باشه، اما سؤالاتی تصویری توش نباشه! تو این کتاب تمام تصاویر کتاب درسی رو خوب خوب یاد می‌گیرین؛ چقدر واسه آینده‌تون مهمه! (می‌دونین که منظورمون همون کنکوره!)

سؤالات جدولی - نموداری: جدول و نمودارهای بی‌نظیر این کتاب، کمک می‌کنه بتونین سؤالات رو یکجا، همه‌جانبه و چندموضوعی بررسی کنین. این تیپ مورد پسند همه هست، می‌دونیم!

سؤالات تشریحی: این که بتونین برای سؤالی، پاسخ تشریحی بنویسین، تو امتحاناتتون خیلی مهمه، ما هم که هدفمون کمک به شماهاست؛ پس این تیپ سؤالات هم تقدیمتون!

۲ کاربرد امتحانی

در کاربرد امتحانی، شما با چندین سری امتحان روبه‌رو هستید که شامل امتحان‌های فصل به فصل، دو امتحان نوبت اول، امتحان‌های شبیه‌ساز نهایی و امتحان‌های نهایی اخیر هست! تمام تلاشمون رو کردیم که محتوا و ظاهر همه امتحان‌ها بیشترین شباهت رو به امتحان نهایی داشته باشه و شما قبل از امتحان نهایی‌تون، بتونین بارها و بارها نهایی بدین!

۲ خلاصه کپسولی

یک محتوای فوق‌العاده مفید برای مرور و جمع‌بندی! با توجه به این که به طور مستقیم و غیرمستقیم ۵، ۶ نمره از امتحان نهایی از تصویرهای کتاب درسی میاد، ما هم براتون همه شکل‌های مهم کتاب درسی و نکاتشون رو گردآوری کردیم.

قدرانی

و اما مرسی از خیلی‌ها

از تیم خوش‌فکر و خلاق انتشارات مهروماه خیلی خیلی متشکریم که در گردآوری مجموعه بیست یک، فوق‌العاده عمل کردن.

مواظب خوبی‌هاتون باشید!

فهرست

فصل اول:

تنظیم عصبی

پاسخنامه	سوالات امتحانی	درسنامه	گفتار
۲۴۴	۱۲	۶	۱ گفتار
۲۴۷	۲۶	۲۰	۲ گفتار

فصل دوم:

حواس

پاسخنامه	سوالات امتحانی	درسنامه	گفتار
۲۵۰	۳۸	۳۵	۱ گفتار
۲۵۲	۴۹	۴۳	۲ گفتار
۲۵۵	۵۹	۵۷	۳ گفتار

فصل سوم:

دستگاه حرکتی

پاسخنامه	سوالات امتحانی	درسنامه	گفتار
۲۵۷	۶۷	۶۳	۱ گفتار
۲۵۹	۷۶	۷۲	۲ گفتار

فصل چهارم:

تنظیم شیمیایی

پاسخنامه	سوالات امتحانی	درسنامه	گفتار
۲۶۲	۸۴	۸۲	۱ گفتار
۲۶۳	۹۳	۸۸	۲ گفتار

فصل پنجم:

ایمنی

پاسخنامه	سوالات امتحانی	درسنامه	گفتار
۲۶۶	۱۰۳	۱۰۱	۱ گفتار
۲۶۷	۱۱۲	۱۰۸	۲ گفتار
۲۷۰	۱۲۳	۱۱۹	۳ گفتار

فصل ششم:

تقسیم باخته

پاسخنامه	سوالات امتحانی	درسنامه	گفتار
۲۷۳	۱۳۳	۱۳۰	۱ گفتار
۲۷۴	۱۴۳	۱۳۸	۲ گفتار
۲۷۷	۱۵۲	۱۵۰	۳ گفتار

فصل هفتم:

تولیدمثل

پاسخنامه	سوالات امتحانی	درسنامه	گفتار
۲۷۹	۱۶۲	۱۵۹	۱ گفتار
۲۸۲	۱۷۴	۱۶۹	۲ گفتار
۲۸۴	۱۸۵	۱۸۱	۳ گفتار
۲۸۶	۱۹۳	۱۹۱	۴ گفتار

فصل هشتم:

تولیدمثل نهان دانگان

پاسخنامه	سوالات امتحانی	درسنامه	گفتار
۲۸۷	۲۰۰	۲۹۸	۱ گفتار
۲۸۹	۲۰۸	۲۰۶	۲ گفتار
۲۹۱	۲۱۷	۲۱۴	۳ گفتار

فصل نهم:

پاسخ گیاهان به محرکها

پاسخنامه	سوالات امتحانی	درسنامه	گفتار
۲۹۳	۲۲۸	۲۲۴	۱ گفتار
۲۹۵	۲۳۷	۲۳۴	۲ گفتار



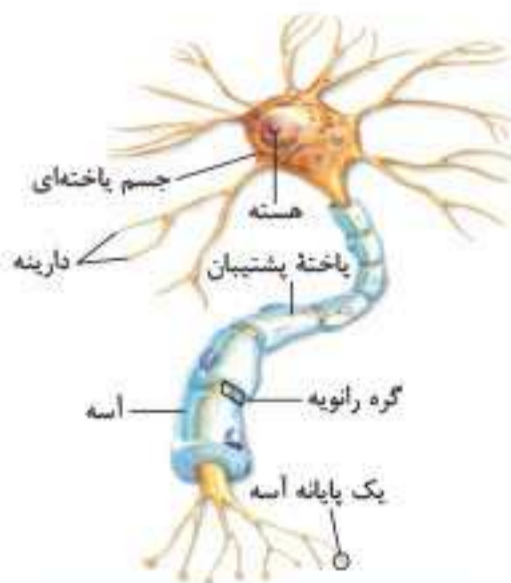
مشاوره: ورودتون به اولین فصل کتاب زیست یازدهم رو تبریک می‌گیم. فصل تنظیم عصبی شامل دو گفتار است. در گفتار اول ابتدا با انواع یاخته‌های بافت عصبی آشنا می‌شیم (یاخته‌های عصبی و غیر عصبی) مثلاً این که الزاماً هر یاخته بافت عصبی، عصبی نیست! یاخته‌های عصبی یا همان نورون‌ها از نظر عملکرد به سه نوع تقسیم می‌شن، یادگیری صفر تا صد این یاخته‌ها از واجبات این فصل محسوب می‌شه. در ادامه این گفتار عملکرد یاخته عصبی مورد بررسی قرار می‌گیره، طبق توضیحات کتاب درسی اگر یاخته عصبی تحریک نشده باشه در حالت آرامش هست و اگر تحریک شود دچار پتانسیل عمل شده و بعد از این وضعیت وارد فاز پتانسیل آرامش می‌شه. توجه داشته باشید دانستن میزان غلظت یون‌های سدیم و پتاسیم در داخل و خارج یاخته عصبی و نحوه جابه‌جایی این یون‌ها در سه وضعیت مطرح شده به واسطه پروتئین‌های غشایی (کانال‌های نشستی، دریچه‌دار و پمپ) بسیار مورد نظر طراحان است. پس در یادگیری این بخش به هیچ وجه کوتاهی نکنین. در ادامه موضوع هدایت پیام عصبی و سپس انتقال پیام عصبی یا به عبارتی مبحث سیناپس (همایه) مطرح می‌شه. در گفتار دوم ساختار دستگاه عصبی به صورت جامع در چندین بخش توضیح داده می‌شه البته در ابتدای این گفتار نحوه حفاظت از دستگاه عصبی مورد بررسی قرار می‌گیره و در ادامه وظایف بخش‌های مختلف دستگاه عصبی مرکزی ارائه می‌شه. از مهم‌ترین قسمت‌های این گفتار فعالیت تشریح گوسفند و انعکاس عقب کشیدن دست هست که عملکرد بخش حرکتی دستگاه عصبی محیطی به نحوی توضیح داده شده که موضوعی مناسب برای به چالش کشیدن دانش‌آموزان ایجاد شده باشد. در اواخر گفتار دوم این فصل ورژن عصبی جانورانی چون هیدر، پلاناریا و حشرات بررسی می‌شه که توجه به تصاویر این بخش و نکات ریز آن‌ها بسیار حائز اهمیت است مثلاً موضوعی که اکثر دانش‌آموزان را وادار به اشتباه می‌کنه اینه که هیدر ساده‌ترین دستگاه عصبی را دارد در حالی که هیدر ساده‌ترین ساختار عصبی را دارد، چون این جانور فاقد دستگاه است.

تعداد سؤالات نهایی خرداد ۱۴۰۳	مباحثی که می‌خوانید
۲	گفتار ۱: یاخته‌های بافت عصبی / نحوه ایجاد پیام عصبی / نقش گره‌های رانویه / همایه (صفحات ۸ تا ۱ کتاب درسی)
۶	گفتار ۲: دستگاه عصبی مرکزی / مغز / ساختارهای دیگر مغز / اعتیاد / نخاع / دستگاه عصبی محیطی / دستگاه عصبی جانوران (صفحات ۱۸ تا ۹ کتاب درسی)

یاخته‌های بافت عصبی

گفتار ۱

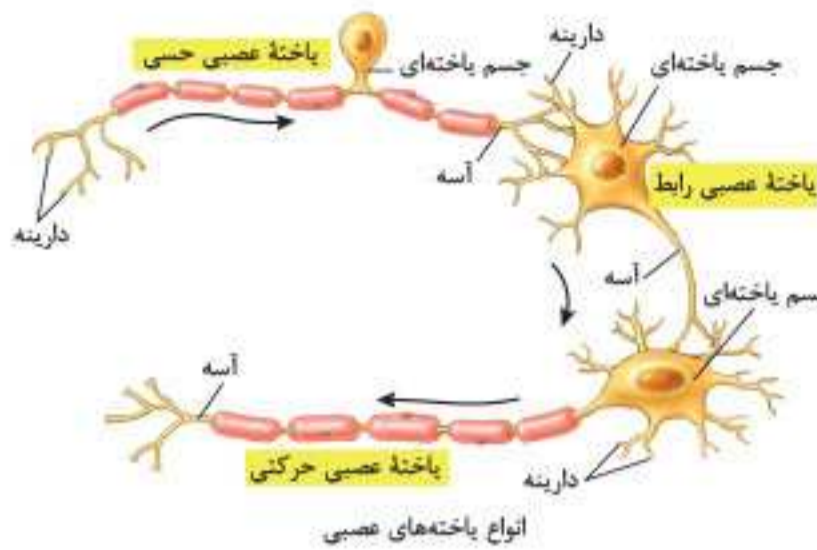
انواع یاخته‌های بافت عصبی



الف یاخته‌های عصبی

- عملکرد**
 - تحریک پذیرند.
 - در پاسخ به محرک پیام عصبی تولید می‌کنند.
 - پیام عصبی را هدایت می‌کنند.
 - پیام عصبی را به یاخته دیگر منتقل می‌کنند.
- اجزا**
 - دارینه (دندریت)**
 - ساختار: رشته‌ای
 - وظیفه: پیام عصبی را دریافت و به جسم یاخته عصبی هدایت می‌کند.
 - آسه (آکسون)**
 - ساختار: رشته‌ای
 - وظیفه: پیام عصبی را از جسم یاخته عصبی به انتهای خود که پایانه آسه نام دارد، هدایت می‌کند.
 - جسم یاخته‌ای**
 - ویژگی: محل قرارگرفتن هسته یاخته عصبی
 - وظیفه: مکان انجام سوخت‌وسازهای مورد نیاز یاخته‌های عصبی دریافت‌کننده پیام عصبی
- انواع** (تقسیم‌بندی از نظر کاری که انجام می‌دهند).

نکته: پیام عصبی از محل پایانه آسه یک یاخته عصبی به یاخته دیگر منتقل می‌شود.



وظیفه: پیام‌های عصبی را به سوی بخش مرکزی دستگاه عصبی (مغز و نخاع) می‌برد.

یاخته عصبی حسی

ویژگی: آکسون دارای غلاف میلین دندریت دارای غلاف میلین

وظیفه: پیام‌های عصبی را از بخش مرکزی به سوی اندام‌ها (مانند ماهیچه‌ها) می‌برد.

یاخته عصبی حرکتی

ویژگی: آکسون دارای غلاف میلین دندریت فاقد غلاف میلین

وظیفه: ارتباط لازم بین یاخته‌های عصبی را فراهم می‌کند. محل قرارگیری: مغز و نخاع

یاخته عصبی رابط

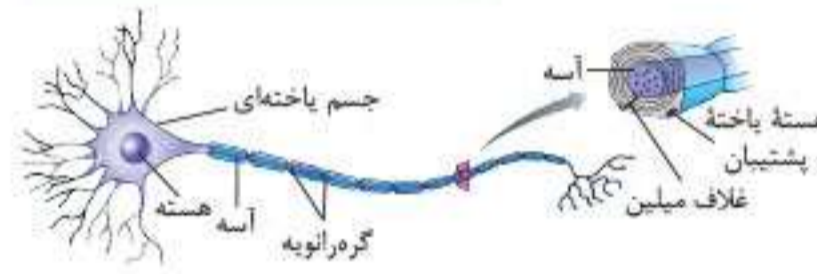
ویژگی: آکسون فاقد غلاف میلین یا واجد غلاف میلین دندریت فاقد غلاف میلین یا واجد غلاف میلین

ب) یاخته‌های پشتیبان

تعداد: تعداد یاخته‌های پشتیبان چندبرابر تعداد یاخته‌های عصبی است. وظیفه:

نکته: طول، محل خروج و تعداد انشعابات آسه و دارینه در یاخته‌های عصبی مختلف، با هم تفاوت دارند.

یادآوری: درون آسه و دارینه هسته وجود ندارد.



۱) ساخت غلاف میلین

- ۱- رشته‌های آکسون و دندریت بسیاری از یاخته‌های عصبی را میلین می‌پوشاند. عایق بندی رشته‌های آکسون و دندریت بسیاری از یاخته‌های عصبی بر عهده میلین است.
- ۲- دفاع از یاخته عصبی
- ۳- حفظ هم‌ایستایی مایع اطراف یاخته عصبی
- ۴- ایجاد داربست‌هایی برای استقرار یاخته‌های عصبی

یادآوری: میلین پیوسته نیست و در بخشی از رشته‌ها قطع می‌شود و گره رانویه را به وجود می‌آورد.

نکته: یاخته‌های پشتیبان در حفظ مقدار طبیعی یون‌ها در مایع اطراف یاخته عصبی نقش دارند. در سطح آسه و دارینه می‌توان هسته یاخته‌های پشتیبان (سازنده غلاف میلین) را مشاهده کرد. یاخته پشتیبان به دور رشته عصبی می‌پیچد و غلاف میلین را به وجود می‌آورد.



فعالیت ۱ / صفحه ۳ کتاب درسی

ساختار و کار سه نوع یاخته عصبی را که در شکل «انواع یاخته‌های عصبی» می‌بینید، مقایسه کنید.

پاسخ: ۱) نورون حسی یک دندریت و یک آکسون کوتاه‌تر دارد که هر دو از یک نقطه خارج شده و هر دو میلین دارند. وظیفه هدایت و انتقال پیام عصبی به نورون رابط را بر عهده دارد.

۲) نورون رابط چندین دندریت و یک آکسون دارد و همه بدون میلین هستند. البته طبق شکل کتاب درسی چون مطابق متن کتاب درسی نورون رابط می‌تواند میلین داشته باشد. وظیفه دریافت پیام عصبی از نورون حسی و هدایت و انتقال پیام عصبی به نورون حرکتی را بر عهده دارد.

۳) نورون حرکتی دندریت‌های کوتاه فراوان و یک آکسون بلند دارد. آکسون میلین دار و دندریت‌ها بدون میلین هستند. وظیفه دریافت پیام عصبی از نورون رابط و هدایت و انتقال پیام عصبی به ماهیچه و غدد را بر عهده دارد.

پیام عصبی و انواع پتانسیل

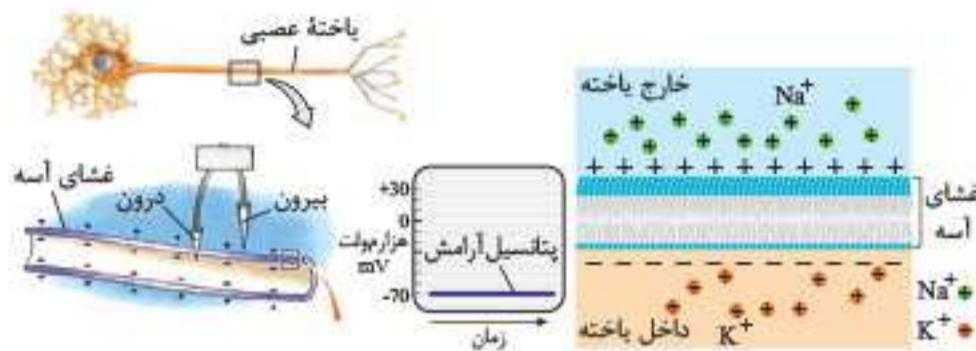
- چگونگی ایجاد پیام: در اثر تغییر مقدار یون‌ها در دو سوی غشای یاخته عصبی
- علت ایجاد پیام:
 - ۱ یکسان نبودن مقدار یون‌ها در دو سوی غشای یاخته عصبی
 - ۲ متفاوت بودن بار الکتریکی در دو سوی غشای یاخته عصبی
 - ۳ وجود اختلاف پتانسیل الکتریکی

پتانسیل آرامش

- وضعیت یاخته: حالتی که یاخته عصبی تحریک شده باشد.
- وضعیت پتانسیلی: اختلاف پتانسیل در دو سوی غشای یاخته عصبی زنده، -70 میلی‌ولت است.

وضعیت یون‌ها

- یون‌های سدیم: مقدار آن در بیرون غشا بیشتر از داخل آن است.
- یون‌های پتاسیم: مقدار آن در درون یاخته بیشتر از بیرون آن است.



وضعیت پروتئین‌های غشا

- وظیفه: یون‌های سدیم و پتاسیم را از غشا عبور می‌دهند.

انواع



کانال نشتی: با انتشار تسهیل شده یون‌های سدیم و پتاسیم را در عرض غشا عبور می‌دهد.

نکته: انرژی لازم برای انتشار تسهیل شده از انرژی جنبشی مولکول‌ها تأمین می‌شود.

- یون پتاسیم را از یاخته خارج می‌کند.
- یون سدیم را به یاخته وارد می‌کند.

پمپ سدیم - پتاسیم

- وظیفه: با هر بار فعالیت، سه یون سدیم خارج و دو یون پتاسیم را به یاخته عصبی وارد می‌کند.
- منبع انرژی: مولکول ATP



نکته: تعداد یون‌های پتاسیم خروجی بیشتر است، زیرا غشا به این یون نفوذپذیری بیشتری دارد.

پتانسیل عمل

- وضعیت یاخته: حالتی که یاخته عصبی تحریک می‌شود.
- وضعیت پتانسیلی: اختلاف پتانسیل دو سوی غشای یاخته عصبی زنده، به‌طور ناگهانی تغییر می‌کند و داخل یاخته از بیرون آن مثبت‌تر می‌شود.
- علت ایجاد پتانسیل: تحریک شدن یاخته عصبی
- محل ایجاد: در محل تحریک یاخته
- مدت عمل: کوتاه
- وضعیت یون‌ها

- یون سدیم در شروع پتانسیل عمل، به مقدار فراوانی وارد یاخته می‌شود.
- یون پتاسیم مدت کوتاهی پس از شروع پتانسیل عمل، به مقدار فراوانی از یاخته خارج می‌شود.

وضعیت پروتئین‌های غشای یاخته

نکته: دریچه مربوط به کانال‌های دریچه‌دار سدیمی به سمت خارج یاخته و دریچه مربوط به کانال‌های دریچه‌دار پتاسیمی به سمت داخل یاخته قرار دارد.

علت باز شدن: تغییر ولتاژ

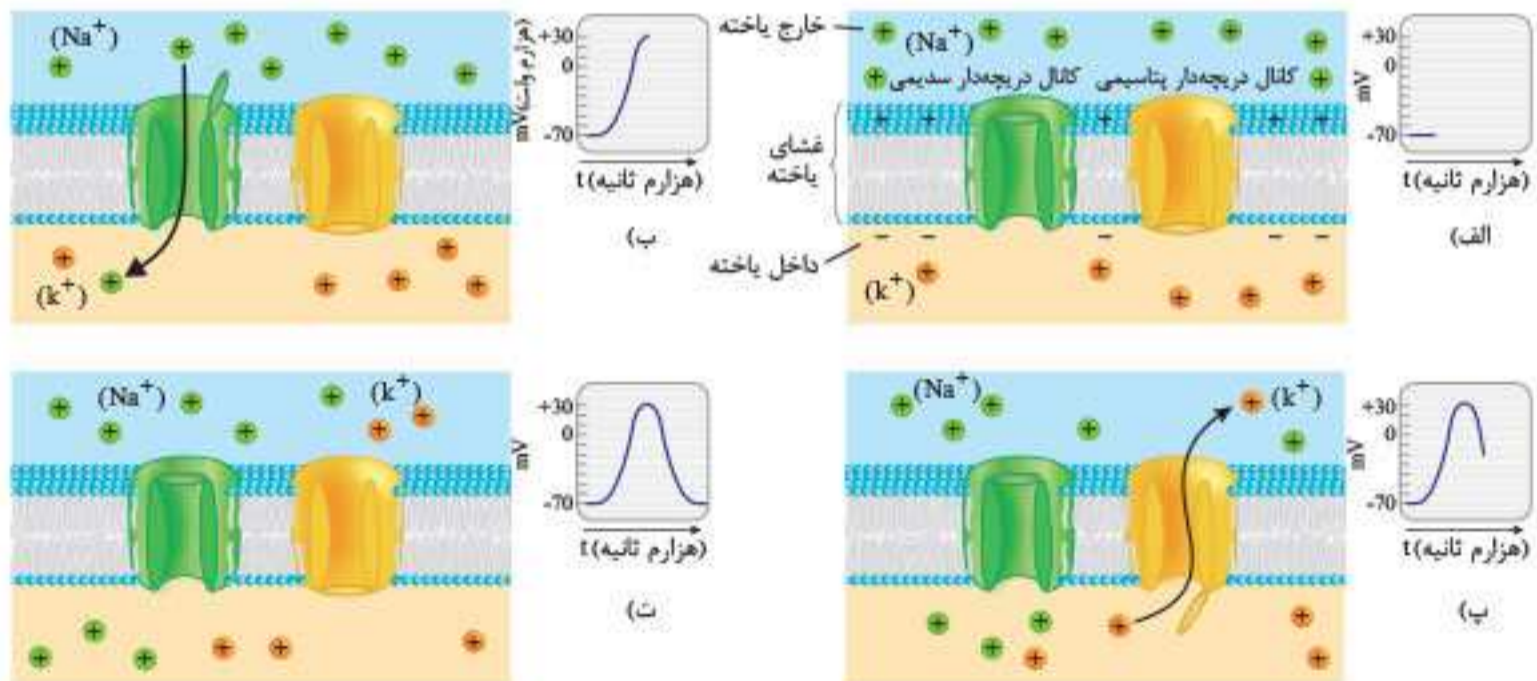
وظیفه: عبور دادن یون‌ها

- انواع**
- کانال‌های دریچه‌دار سدیمی
 - زمان باز شدن: وقتی غشای یاخته تحریک می‌شود.
 - وظیفه: وارد کردن یون‌های سدیم فراوان
 - نتیجه فعالیت: مثبت‌تر شدن بار الکتریکی درون یاخته
 - مدت عمل: کوتاه
 - کانال‌های دریچه‌دار پتاسیمی
 - زمان باز شدن: بعد از بسته شدن کانال‌های دریچه‌دار سدیمی
 - وظیفه: خارج کردن یون‌های پتاسیم
 - مدت عمل: کوتاه
- کانال‌های نشتی سدیمی و پتاسیمی: وضعیت همیشه باز هستند.

نکته: در پایان پتانسیل عمل، تفاوت مقدار یون‌های سدیم و پتاسیم دو سوی غشای یاخته، با مقدار آن‌ها در حالت آرامش، باعث فعالیت بیشتر پمپ سدیم - پتاسیم و برگشت وضعیت یون‌ها به حالت اول می‌شود.



وضعیت پیش‌روی: پتانسیل عمل در یک نقطه از یاخته عصبی ایجاد می‌شود و نقطه به نقطه در طول یاخته پیش می‌رود.



فعالیت ۲ / صفحه ۵ کتاب درسی

در گروه خود درباره پرسش‌های زیر گفت‌وگو کنید و نتیجه را به کلاس گزارش کنید
 ۱) کار پمپ سدیم - پتاسیم و کانال‌های نشتی را با هم مقایسه کنید.

پاسخ: کانال‌های نشتی یون پتاسیم را از یاخته خارج و یون سدیم را به یاخته وارد می‌کنند و این کار در جهت شیب غلظت انجام می‌شود، اما پمپ سدیم - پتاسیم این یون‌ها را در خلاف جهت کانال‌های نشتی جابه‌جا می‌کند (وارد کردن یون پتاسیم به یاخته و خارج کردن یون سدیم از یاخته)
 کانال‌های نشتی در جهت شیب غلظت و بدون صرف انرژی عمل می‌کنند، اما پمپ سدیم - پتاسیم در خلاف جهت شیب غلظت و با صرف انرژی زیستی یون‌ها را جابه‌جا می‌کند.

۲) چرا در حالت آرامش، بار مثبت درون یاخته‌های عصبی از بیرون آن‌ها کمتر است؟

پاسخ: به دلیل وجود یون‌های Na^+ بیشتر در بیرون یاخته و یون‌های K^+ کمتر درون یاخته عصبی.

فعالیت ۳ / صفحه ۶ کتاب درسی

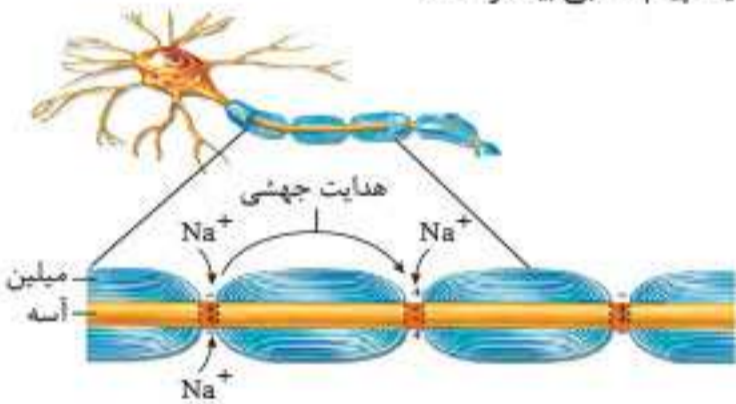
- وضعیت کانال‌های غشای یاخته عصبی را در ۴ مرحله شکل، چگونگی ایجاد پتانسیل عمل، مقایسه کنید.
- ۱) در حالت آرامش هر دو نوع کانال دریچه‌دار بسته و اختلاف پتانسیل حدود ۷۰- است.
 - ۲) در بخش بالای منحنی، کانال‌های دریچه‌دار سدیمی باز و کانال‌های پتاسیمی‌ها بسته‌اند. منحنی از ۷۰- به ۳۰+ می‌رسد.
 - ۳) در بخش پایین منحنی، کانال‌های دریچه‌دار پتاسیمی باز می‌شوند و کانال‌های سدیمی‌ها بسته‌اند. منحنی از ۷۰- به ۳۰+ برمی‌گردد.
 - ۴) در پایان پتانسیل عمل نیز هر دو نوع کانال دریچه‌دار بسته‌اند و اختلاف پتانسیل دوباره حدود ۷۰- است.

هدایت عصبی

در رشته‌های عصبی میلین‌دار

نکته: پتانسیل عمل در نورون‌های میلین‌دار فقط در محل گره‌هاست، اما پتانسیل عمل در نورون‌های بدون میلین در تمام طول نورون رخ می‌دهد.

- وضعیت سرعت:** بیشتر از یاخته فاقد میلین هم‌قطر
- عوامل مؤثر بر سرعت**
- وجود گره رانویه**
 - تعریف:** غلاف میلین پیوسته نیست و در قسمت‌هایی از رشته‌ها وجود ندارد که به آن قسمت‌ها، گره رانویه گویند.
 - ویژگی:** گره‌ها فاقد میلین‌اند.
 - در محل گره، رشته عصبی با محیط بیرون از یاخته ارتباط دارد.
 - نوع عمل:** ایجاد پتانسیل عمل در گره رانویه و هدایت پیام عصبی درون رشته عصبی از یک گره به گره دیگر (به صورت هدایت جهشی).
 - قطر رشته عصبی: هرچه قطر بیشتر، سرعت هدایت پیام عصبی بیشتر است.



نکته: خود میلین عایق است و از عبور یون‌ها از غشا جلوگیری می‌کند، زیرا غلاف میلین از چندین لایه غشای یاخته پشتیبان تشکیل شده است. در نتیجه در محل غلاف میلین پتانسیل یاخته عصبی تغییری نمی‌کند.

مثال: نورون‌های حرکتی در ماهیچه‌های اسکلتی

در رشته عصبی بدون میلین هم‌قطر

وضعیت سرعت: کمتر از یاخته دارای میلین هم‌قطر

اختلال در هدایت عصبی

علت: کاهش یا افزایش میزان میلین

مثال: بیماری مالتیپل اسکلروزیس (MS)

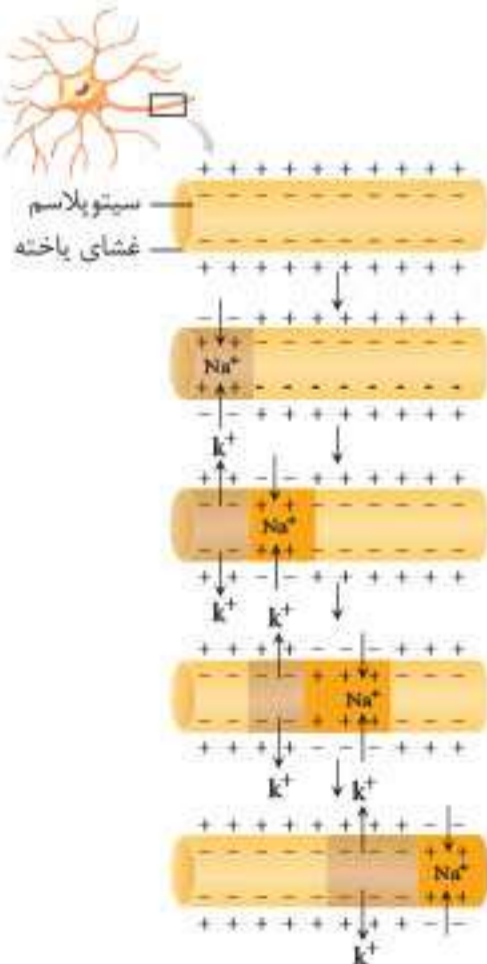
عامل ایجاد: از بین رفتن یاخته‌های پشتیبانی که در سیستم عصبی مرکزی، میلین می‌سازند.

عوارض: مختل شدن بینایی فرد
مختل شدن حرکت فرد

فعالیت ۴ / صفحه ۷ کتاب درسی

پژوهشگران بر این باورند که در گروه‌های رانویه، تعداد زیادی کانال دریچه‌دار وجود دارد. این موضوع با هدایت جهشی چه ارتباطی دارد؟

پاسخ: در هدایت جهشی، پتانسیل عمل فقط در گره‌های رانویه ایجاد می‌شود و در بخش‌های دیگر رشته که دارای میلین هستند، این جریان ایجاد نمی‌شود. بنابراین فقط در گره‌ها، وجود کانال‌ها لازم است. چون در این بخش‌ها فعالیت دارند.



انتقال عصبی (ارتباط ویژه همایه (سیناپس))

اجزا

۱ یاخته عصبی پیش‌همایه‌ای

ماده‌ای به نام ناقل عصبی در فضای همایه‌ای آزاد می‌کند. بعد از انتقال پیام‌ها، ناقل عصبی را دوباره جذب می‌کند.

علت

جلوگیری از انتقال بیش از حد پیام
جلوگیری از امکان انتقال پیام‌های جدید

۲ ناقل عصبی

یاخته سازنده: یاخته عصبی پیش‌همایه‌ای

محل ساخت: در جسم یاخته‌ای ساخته و درون ریزکیسه‌ها ذخیره می‌شوند.

نحوه آزادسازی: کیسه‌های حاوی ناقل عصبی از طریق برون‌رانی (اگزوسیتوز) در فضای همایه‌ای آزاد می‌شوند. (با مصرف ATP)

وظیفه: در یاخته دریافت‌کننده یعنی یاخته پس‌همایه‌ای پیام عصبی ایجاد می‌کند.

انواع پیام فعال کردن یاخته: برخی ناقل‌های عصبی تحریک‌کننده هستند.

پیام غیرفعال کردن یاخته: برخی ناقل‌های عصبی بازدارنده هستند.

نحوه پاک‌سازی از فضای همایه‌ای

- ۱ جذب توسط یاخته عصبی پیش‌همایه‌ای
- ۲ تجزیه توسط آنزیم‌ها

تعریف: فضایی بین یاخته‌ها در محل همایه

۲ فضای همایه‌ای

نقش: دریافت ناقل عصبی و رساندن آن به یاخته پس‌همایه‌ای

۴ **یاخته پس‌همایه‌ای:** ممکن است یاخته عصبی، یاخته ماهیچه‌ای و یا یاخته غده‌ای باشد.

چگونگی انتقال

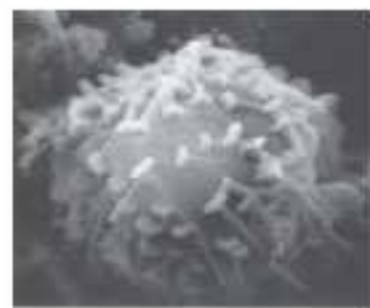
۱ پس از رسیدن ناقل عصبی به غشای یاخته پس‌همایه‌ای به پروتئین کانالی به نام گیرنده متصل می‌شود.

۲ اتصال ناقل عصبی به گیرنده، باعث بازشدن گیرنده می‌شود.

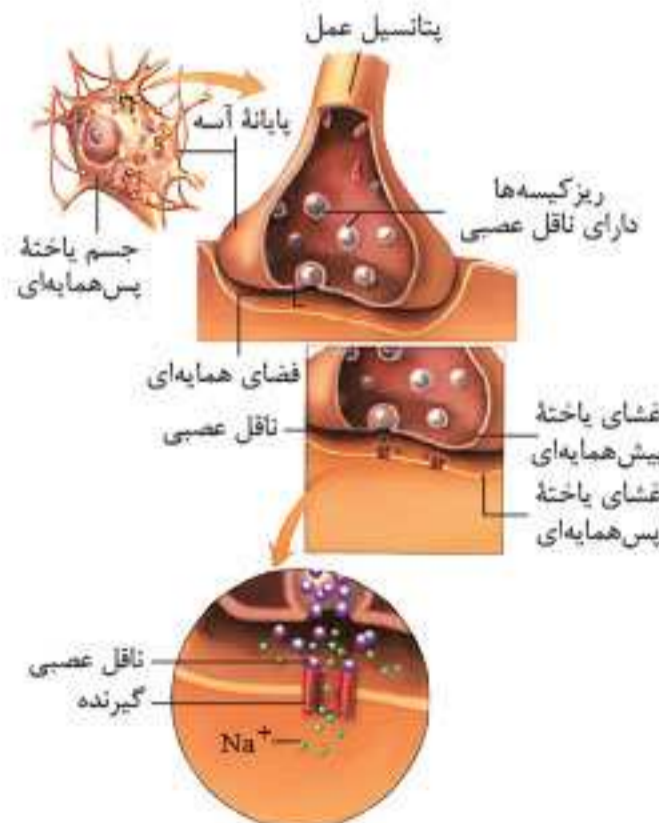
۳ تغییر نفوذپذیری غشای یاخته نسبت به یون

۴ تغییر فعالیت الکتریکی یاخته

نمونه عملکرد: موجب انقباض ماهیچه (نورون‌هایی که با یاخته‌های ماهیچه‌ای همایه دارند).



تصویر همایه با میکروسکوپ الکترونی


یادآوری: یک نورون پیش‌همایه‌ای

می‌تواند چندین همایه را با یاخته پس‌همایه‌ای تشکیل دهد.

نکته: شکل مولکول ناقل عصبی،

مکمل (نه مشابه) شکل گیرنده خود است.

سؤالات امتحان

سؤالات جای خالی

در هر یک از عبارات‌های زیر جای خالی را با کلمه مناسب کامل کنید.

۱. متخصصان برای بررسی فعالیت‌های مغز از _____ استفاده می‌کنند که جریان الکتریکی ثبت شده _____ را نشان می‌دهد. (مشابه شبه‌نهایی ۱۴۰۳)
۲. بافت عصبی از _____ و _____ تشکیل شده است.
۳. به طور کلی هر یاخته عصبی از سه بخش _____، _____ و _____ تشکیل می‌شود.
۴. یاخته‌های _____ با تولید غلاف میلین، آکسون و دندریت _____ از یاخته‌های عصبی را می‌پوشانند.
۵. به رشته‌هایی که پیام عصبی را دریافت و به جسم یاخته عصبی وارد می‌کنند، _____ گفته می‌شود.
۶. غلاف میلین در بخش‌هایی از آکسون قطع می‌شود که این بخش‌ها را _____ می‌نامند.
۷. بخش مشخص شده در تصویر مقابل، در حفظ _____ مایع اطراف یاخته‌های عصبی نقش دارد. (شبه‌نهایی ۱۴۰۳)



۸. یاخته‌های عصبی _____ پیام‌ها را از گیرنده‌های حسی به سوی بخش مرکزی دستگاه عصبی می‌آورند.
۹. یاخته‌های عصبی _____ پیام‌ها را از بخش مرکزی دستگاه عصبی به سوی اندام‌ها می‌برند.
۱۰. وقتی یاخته عصبی فعالیت عصبی ندارد، در دو سوی غشای آن اختلاف پتانسیلی در حدود _____ میلی‌ولت برقرار است که این اختلاف پتانسیل را _____ می‌نامند.
۱۱. در حالت آرامش، مقدار یون‌های _____، در بیرون غشای یاخته عصبی نسبت به درون یاخته بیشتر است.
۱۲. پمپ سدیم - پتاسیم دارای سه جایگاه اتصال برای یون _____ و دو جایگاه اتصال برای یون _____ است.
۱۳. در غشای یاخته‌های عصبی، مولکول‌های _____ وجود دارد که به عبور یون‌های سدیم و پتاسیم کمک می‌کنند.
۱۴. در هنگام پتانسیل عمل، ابتدا کانال‌های دریچه‌دار _____ باز می‌شوند. (دی ۸۹)
۱۵. هر عصب مجموعه‌ای از رشته‌های عصبی است که درون _____ قرار گرفته‌اند.
۱۶. وقتی پتانسیل عمل در یک نقطه از یاخته عصبی ایجاد می‌شود، نقطه به نقطه پیش می‌رود تا به انتهای رشته عصبی برسد، این جریان را _____ می‌نامند.
۱۷. هدایت پیام عصبی در یاخته‌های عصبی از جسم یاخته‌ای به سمت _____ است.
۱۸. به محلی که در آن یک نورون با یک یاخته دیگر، ارتباط برقرار می‌کند _____ می‌گویند. (شهریور ۹۱)
۱۹. رشته‌های میلین دار، پیام عصبی را _____ از رشته‌های بدون میلین، اما هم قطر، هدایت می‌کنند. (دی ۹۲)
۲۰. یاخته‌های عصبی به یکدیگر _____ اند.
۲۱. پژوهشگران براین باورند که در _____، تعداد زیادی کانال _____ وجود دارد. (+۲۰)
۲۲. پژوهشگران براین باورند که در _____، کانال‌های _____ وجود ندارند.
۲۳. در محل گره‌های رانویه، _____ وجود ندارد و رشته عصبی با محیط _____ از یاخته ارتباط دارد.
۲۴. در ماهیچه‌های _____ سرعت ارسال پیام اهمیت _____ دارد. (+۲۰)
۲۵. ناقل عصبی در یاخته‌های _____ ساخته و درون _____ ذخیره می‌شود.
۲۶. برای انتقال پیام از یاخته عصبی انتقال دهنده یا یاخته عصبی _____، ماده‌ای به نام _____ در فضای _____ آزاد می‌شود.
۲۷. ناقل عصبی با تغییر _____ غشای یاخته پس‌همایه‌ای به یون‌ها، _____ این یاخته‌ها را تغییر می‌دهند.
۲۸. تغییر در میزان طبیعی _____ از دلایل بیماری و اختلال درکار _____ است.
۲۹. پس از انتقال پیام عصبی، مولکول‌های ناقل _____، باید از فضای همایه‌ای _____ شوند. (+۲۰)
۳۰. _____ و _____ میزان میلین به بیماری منجر می‌شود.
۳۱. در بیماری ام.اس (مالتیپل اسکلروزیس) یاخته‌های _____ که در سیستم عصبی _____، میلین می‌سازند، از بین می‌روند.
۳۲. در افراد مبتلا به ام اس _____ و _____، مختل شده و فرد دچار بی‌حسی و لرزش می‌شود.



سؤالات درست و نادرست

درستی یا نادرستی هر یک از عبارات‌های زیر را مشخص کنید.



۳۳. نوار مغزی، جریان الکتریکی ثبت‌شده همه یاخته‌های بافت عصبی مغز است.



۳۴. یاخته‌های عصبی پس از تحریک شدن و تولید پیام عصبی، در طول آکسون خود پیام عصبی را به سمت پایانه آکسونی انتقال می‌دهند.



۳۵. تعداد یاخته‌های عصبی در بافت عصبی چند برابر یاخته‌های پشتیبان است.



۳۶. به هنگام تشکیل غلاف میلین در اطراف آکسون، هسته یاخته‌های پشتیبان به تدریج به حاشیه یاخته رانده می‌شود. **+۲۰**



۳۷. یاخته‌های عصبی حرکتی پیام‌ها را از بخش مرکزی دستگاه عصبی به سوی اندام‌ها می‌برند.



۳۸. در طول پتانسیل عمل همانند پتانسیل آرامش، می‌توان انتشار یون‌ها را از طریق کانال‌های نشستی مشاهده کرد.



۳۹. هر یاخته پشتیبان در بافت عصبی انسان، در بیماری MS آسیب می‌بیند.



۴۰. در هر یاخته عصبی، زمانی که پتانسیل درون یاخته بالاتر از صفر است، به‌طور حتم کانال‌های دریچه‌دار پتاسیمی بسته‌اند.



۴۱. همواره یاخته پس‌همایه‌ای همانند یاخته پیش‌همایه‌ای یک یاخته عصبی است.



۴۲. یاخته عصبی پیش‌همایه‌ای، همیشه سبب فعال شدن یاخته عصبی پس‌همایه‌ای می‌شود.



۴۳. در پی رسیدن پیام عصبی به پایانه آکسون، قطعاً ریزگیسه‌های همایه‌ای، به فضای همایه‌ای آزاد می‌شوند.



۴۴. در هنگام پتانسیل عمل، ابتدا کانال‌های دریچه‌دار پتاسیمی باز و پتاسیم وارد یاخته می‌شود. (شهریور ۸۸)



۴۵. نفوذپذیری غشای یاخته‌های عصبی در حالت آرامش به یون‌های سدیم بیشتر از یون‌های پتاسیم است.



۴۶. پمپ سدیم - پتاسیم یون‌های سدیم و پتاسیم را به کمک انتشار تسهیل‌شده جابه‌جا می‌کند.



۴۷. فعالیت بیشتر پمپ سدیم - پتاسیم موجب می‌شود غلظت یون‌های سدیم و پتاسیم در دو سوی غشا دوباره به پتانسیل آرامش بازگردد.



۴۸. در منحنی پتانسیل عمل، علت پایین رفتن منحنی، بسته شدن کانال‌های دریچه‌دار سدیمی و پتاسیمی است. (شهریور ۹۲)



۴۹. در حالت آرامش یاخته عصبی، مقدار یون‌های پتاسیم بیرون یاخته از درون آن بیشتر است.



۵۰. یون‌های سدیم و پتاسیم نمی‌توانند به روش انتقال فعال از کانال‌های نشستی غشای نوروون عبور کنند.



۵۱. در بخش‌هایی از یاخته‌های عصبی که دارای غلاف میلین هستند، غشای رشته عصبی در تماس با مایع اطراف آن قرار دارد. (دی ۹۵)



۵۲. هنگام انتقال پیام عصبی، ناقل‌های عصبی به گیرنده‌های خود که بر روی غشای یاخته پس‌همایه‌ای قرار دارند، متصل می‌شوند. **+۲۰** (دی ۹۵)



۵۳. تغییر در میزان طبیعی ناقل‌های عصبی از دلایل بیماری و اختلال در کار دستگاه عصبی است.



۵۴. در نقطه‌ای از نمودار پتانسیل عمل که حداقل اختلاف پتانسیل الکتریکی مشاهده می‌شود، به‌طور حتم کانال‌های دریچه‌دار سدیمی بسته است.



۵۵. ناقل عصبی پس از ورود به یاخته پس‌همایه‌ای باعث تغییر پتانسیل الکتریکی آن می‌شود.

سؤالات انتخاب کلمه

در هر یک از عبارات‌های زیر، جواب صحیح را از بین کلمات داخل پرانتز انتخاب کنید.

(شبه‌نهایی ۱۴۰۳)

۵۶. پیام عصبی از محل پایانه آکسون یک یاخته عصبی به یاخته دیگر (هدایت / منتقل) می‌شود.

۵۷. طبق شکل کتاب درسی در یاخته‌های عصبی حرکتی، (دندریت / آکسون) با غلاف میلین پوشیده نشده است.

۵۸. غلاف میلین باعث (افزایش / کاهش) سطح تماس غشای یاخته عصبی با مایع بین یاخته‌ای می‌شود.

۵۹. پایانه‌های آکسونی (همانند / برخلاف) جسم یاخته‌ای، فاقد غلاف میلین‌اند.

۶۰. تمام فعالیت‌های یک یاخته عصبی تحت کنترل (جسم یاخته‌ای / دندریت) آن است.

۶۱. با باز شدن کانال‌های دریچه‌دار سدیمی غشای یاخته عصبی، درون یاخته نسبت به بیرون (منفی‌تر / مثبت‌تر) می‌شود. **+۲۰**

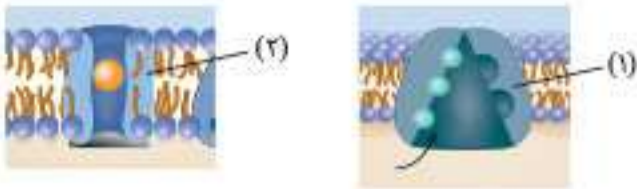
۶۲. در حالت آرامش تعداد یون‌های پتاسیم خروجی (بیشتر از / کمتر از) یون‌های سدیم ورودی است.

۶۳. کانال‌های نشستی یون‌های سدیم و پتاسیم را می‌توانند به روش (انتشار تسهیل‌شده / انتشار ساده) از غشا عبور می‌دهند.

۶۴. در حالت آرامش بار مثبت درون یاخته عصبی از بیرون آن (کمتر / بیشتر) است.
۶۵. در غشای یاخته‌های عصبی، پروتئین‌هایی به نام کانال‌های (نشستی / دریچه دار) وجود دارند که با تحریک یاخته عصبی باز می‌شوند و یون‌ها از آن‌ها عبور می‌کنند.
۶۶. دریچه کانال‌های پتاسیمی در سمت (خارج / داخل) غشا و دریچه کانال‌های سدیمی در (خارج / داخل) غشا قرار دارند.
۶۷. در شاخه بالارو پتانسیل عمل، کانالی که دریچه آن به سمت خارج قرار دارد (باز / بسته) می‌باشد. (خرداد ۱۴۰۳)
۶۸. وقتی یاخته عصبی تحریک می‌شود، در محل تحریک، اختلاف پتانسیل دوسوی غشا به طور (ناگهانی / تدریجی) تغییر می‌کند.
۶۹. فعالیت بیشتر پمپ سدیم - پتاسیم موجب می‌شود، غلظت یون‌های سدیم و پتاسیم در دو سوی غشا دوباره به (حالت آرامش / پتانسیل آرامش) بازگردد.
۷۰. به آسه یا دندریت بلند (رشته / رشته عصبی) می‌گویند.
۷۱. (انتقال / هدایت) پیام عصبی در رشته‌های عصبی میلین دار از رشته‌های بدون میلین هم قطر (سریع‌تر / کندتر) است.
۷۲. در طول رشته‌های عصبی میلین دار پیام عصبی به صورت (جهشی / نقطه به نقطه) هدایت می‌شود.
۷۳. ناقل عصبی در (یاخته عصبی / پایانه آکسونی) ساخته شده و درون ریزکیسه‌ها ذخیره می‌شود. +۲۰
۷۴. ناقل عصبی توسط یاخته عصبی (پیش / پس) همایه‌ای ساخته می‌شود.
۷۵. ناقل عصبی پس از رسیدن به غشای یاخته (پس همایه‌ای / پیش همایه‌ای)، به پروتئینی به نام گیرنده متصل می‌شود.

سوالات چهارگزینه‌ای

۷۶. چند مورد جمله زیر را به درستی تکمیل می‌کند؟
«در هر یاخته عصبی،»
الف) غلاف میلین، آکسون و دندریت را پوشانده است.
ب) جسم‌های یاخته‌ای، محل قرارگیری هسته و مکان انجام سوخت‌وسازهای یاخته‌ای هستند.
پ) پیام عصبی پس از هدایت، به یاخته عصبی دیگر منتقل می‌شود.
ت) ماده ناقل عصبی در حجیم‌ترین بخش آن ساخته می‌شود.
- ۴ (۱)
۳ (۲)
۲ (۳)
۱ (۴)
۷۷. کدام گزینه زیر درباره هر سیناپس موجود در بدن انسان به درستی بیان شده است؟
۱) پس از انتقال پیام عصبی، مولکول‌های ناقل عصبی می‌توانند به یاخته پس سیناپسی وارد شوند.
۲) هم‌زمان با انتقال پیام‌های عصبی، ریزکیسه‌های حاوی ناقل‌های عصبی وارد فضای سیناپسی می‌شوند.
۳) هم‌زمان با آزاد شدن ناقل‌های عصبی به فضای سیناپسی، سطح غشای یاخته پیش سیناپسی افزایش می‌یابد.
۴) با اتصال مولکول‌های ناقل به گیرنده خود درون یاخته پس سیناپسی، نفوذپذیری غشای آن نسبت به یون‌ها تغییر می‌کند.
۷۸. در نورون‌هایی که پیام عصبی را از دستگاه عصبی مرکزی خارج می‌کنند، نورون‌هایی که پیام‌های عصبی را به دستگاه عصبی مرکزی وارد می‌کنند،
۱) برخلاف - پیش از یک دندریت به جسم یاخته‌ای متصل است.
۲) همانند - رشته‌های سیتوپلاسمی در یک محل از جسم یاخته خارج می‌شوند.
۳) برخلاف - محل اصلی سوخت‌وساز، بین دو رشته عصبی میلین دار قرار گرفته است.
۴) همانند - طول رشته نزدیک‌کننده پیام به جسم یاخته‌ای بیشتر از رشته دیگر است.
۷۹. چند مورد جمله زیر را به نادرستی تکمیل می‌کند؟
«در طی پتانسیل آرامش ممکن نیست،»
الف) درون یاخته، یون‌های مثبت وجود داشته باشد.
ب) کانال‌های دریچه دار، باعث انتقال سدیم به داخل یاخته شوند.
پ) پمپ سدیم - پتاسیم، از انباشته شدن سدیم در درون یاخته جلوگیری کند.
ت) یون‌های پتاسیم، با مصرف انرژی زیستی به خارج از یاخته منتقل شوند.
- ۱ (۱)
۲ (۲)
۳ (۳)
۴ (۴)



۸۰. با توجه به شکل مقابل کدام گزینه جمله زیر را به درستی تکمیل می‌کند؟

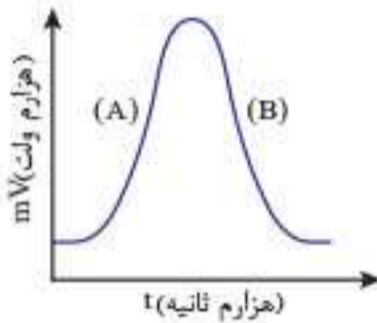
- «مولکول پروتئینی شماره (۱) _____ مولکول پروتئینی شماره (۲) _____»
- ۱) همانند - با مصرف انرژی ATP فعالیت می‌کند.
 - ۲) برخلاف - در جهت شیب غلظت یون‌ها را جابه‌جا می‌کند.
 - ۳) همانند - یون‌ها را فقط در یک جهت در خلال غشا جابه‌جا می‌کند.
 - ۴) برخلاف - در خلاف جهت شیب غلظت، یون‌ها را جابه‌جا می‌کند.

۸۱. در پتانسیل آرامش، نوعی پروتئین غشایی که از تراکم یون‌های سدیم درون یاخته می‌گاهد، _____

- ۱) با انتشار تسهیل شده یون‌ها را جابه‌جا می‌کند.
- ۲) فقط در غشای یاخته‌های عصبی یافت می‌شود.
- ۳) یون‌ها را در جهت شیب غلظت به یاخته وارد می‌کند.
- ۴) یون‌های مثبت مایع بین یاخته‌ای را افزایش می‌دهد.

۸۲. کدام گزینه جمله زیر را به نادرستی تکمیل می‌کند؟

- «در منحنی مقابل که تغییر پتانسیل غشا را نشان می‌دهد، در بخش A _____ بخش B _____»
- ۱) برخلاف - کانال‌های دریچه‌دار سدیمی باز هستند.
 - ۲) همانند - مانعی برای ورود یون سدیم به داخل یاخته وجود ندارد.
 - ۳) برخلاف - مانعی برای خروج پتاسیم از کانال دریچه‌دار وجود دارد.
 - ۴) همانند - اختلاف پتانسیل بین دو سوی غشا روند کاهشی دارد.



۸۳. در قسمت _____ نمودار پتانسیل عمل یک نورون، هیچ‌گاه _____ رخ نمی‌دهد.

- ۱) صعودی - خروج پتاسیم از درون نورون
- ۲) نزولی - ورود سدیم به سیتوپلاسم نورون
- ۳) صعودی - بسته شدن کانال‌های دریچه‌دار پتاسیمی
- ۴) نزولی - خروج سدیم با مصرف انرژی

۸۴. چند مورد عبارت زیر را به درستی تکمیل نمی‌کند؟

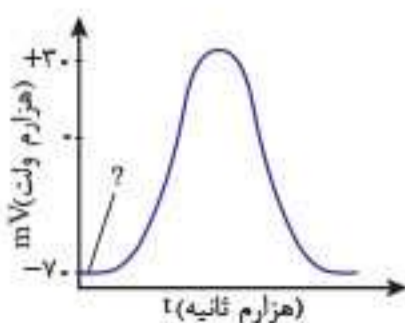
- «در هنگام ثبت تغییرات پتانسیل عمل ایجادشده در نورون رابط، هر زمانی که _____ می‌شود، _____»
- الف) اختلاف پتانسیل دو سوی غشا صفر - کانال‌های دریچه‌دار سدیمی باز هستند.
 - ب) کانال دریچه‌دار سدیمی، بسته - اختلاف پتانسیل بین دو سوی غشا $+30$ است.
 - پ) کانال‌های دریچه‌دار پتاسیمی باز - سدیم در جهت شیب غلظت وارد یاخته می‌شود.
 - ت) اختلاف پتانسیل غشا از $+30$ به صفر نزدیک - فعالیت همه کانال‌های دریچه‌دار مشاهده می‌شود.

۱ (۱) ۲ (۲)

۳ (۳) ۴ (۴)

۸۵. در منحنی تغییر پتانسیل الکتریکی غشا، زمانی که نقطه مشخص شده ثبت می‌شود، _____

- ۱) ممکن نیست یک یون بتواند به یاخته وارد و از آن خارج شود.
- ۲) مانعی برای ورود یون‌های سدیم به درون یاخته وجود دارد.
- ۳) خروج غیرفعالانه یون‌های پتاسیم از یاخته غیرممکن است.
- ۴) یاخته میزان مصرف آدنوزین تری فسفات را افزایش می‌دهد.

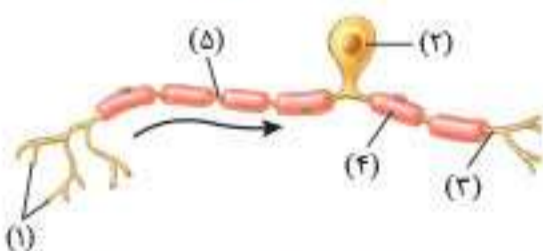
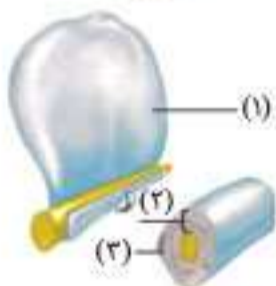
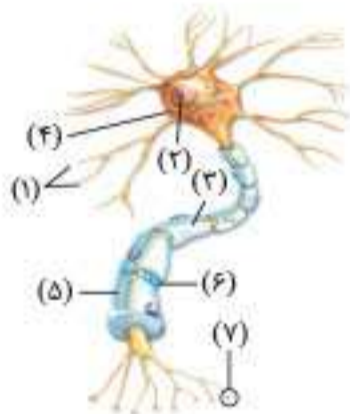


کشف ارتباط

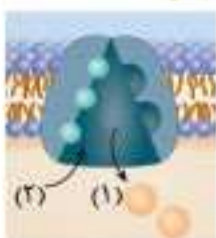
۸۶. هر یک از عبارات‌های ستون (الف) را به بخش مورد نظر در ستون (ب) متصل کنید. (دو مورد در ستون (ب) اضافی است).

(الف)	(ب)
الف) در دفاع از یاخته‌های عصبی و حفظ هم‌ایستایی مایع اطراف آن نقش دارند.	۱. جسم یاخته‌ای
ب) پروتئینی است در عرض غشای یاخته، که با صرف ATP یون‌ها را در دو سوی مختلف غشا انتقال می‌دهد.	۲. ناقل عصبی
پ) در یاخته‌های عصبی‌ای که دارای غلاف میلین هستند وجود دارد و سبب هدایت جهشی پیام عصبی می‌شود.	۳. یاخته‌های پشتیبان
ت) پروتئینی که در غشای یاخته پس‌سیناپسی، محل اتصال ناقل عصبی محسوب می‌شود.	۴. گیرنده
ث) محل قرار گرفتن هسته و انجام سوخت‌وساز یاخته‌های عصبی است.	۵. پمپ سدیم - پتاسیم
ج) در طی پتانسیل عمل، در منفی شدن پتانسیل غشا نقش دارد.	۶. گره رانویه
چ) ماده‌ای که در یاخته عصبی ساخته شده و از طریق برون‌رانی به فضای همایه‌ای آزاد می‌شود.	۷. ATP
ح) پمپ سدیم - پتاسیم از انرژی آن برای انتقال یون‌ها استفاده می‌کند.	۸. کانال‌های دریچه‌دار پتاسیمی
	۹. MS (ام.اس)
	۱۰. سیناپس

سؤالات تصویری



(شهریور ۸۷ و خرداد ۸۸)



۸۷. با توجه به شکل مقابل، به سؤالات زیر پاسخ دهید.

- الف) اجزای شماره‌گذاری شده را نام‌گذاری کنید.
- ب) کدام شماره محل ساخت ناقل عصبی است؟
- پ) نقش شماره (۶) چیست؟
- ت) شماره (۳) چه نقش‌هایی را بر عهده دارد؟

۸۸. با توجه به شکل مقابل، به سؤالات زیر پاسخ دهید.

- الف) اجزای شماره‌گذاری شده را نام‌گذاری کنید.
- ب) کدام شماره در ایجاد گره‌های رانویه نقش دارد؟
- پ) کدام شماره حاوی اطلاعات ژنتیکی است؟
- ت) در بافت عصبی تعداد و تنوع شماره یک کمتر است یا بیشتر؟

۸۹. با توجه به شکل مقابل، به سؤالات زیر پاسخ دهید.

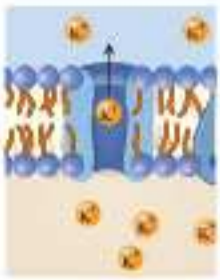
- الف) اجزای شماره‌گذاری شده را نام‌گذاری کنید.
- ب) کدام شماره (قسمت) در هدایت جهشی پیام نقش دارد؟
- پ) این شکل نشان‌دهنده کدام نوع از یاخته‌های عصبی است؟
- ت) شماره (۴) چگونه ساخته می‌شود؟

۹۰. شکل مقابل یک یاخته عصبی را نشان می‌دهد:

- الف) این شکل مربوط به کدام نوع یاخته عصبی می‌تواند باشد؟
- ب) این یاخته عصبی در کدام قسمت دستگاه عصبی قرار دارد و نقش آن چیست؟

۹۱. با توجه به شکل مقابل، به سؤالات زیر پاسخ دهید.

- الف) قسمت‌های شماره‌گذاری شده هر کدام، چه یونی را نشان می‌دهند؟
- ب) غلظت یون شماره (۱) در حالت آرامش در دو طرف غشا چگونه است؟
- پ) کانال‌های دریچه‌دار یون شماره (۲)، در بخش صعودی نمودار پتانسیل عمل بسته است یا باز؟



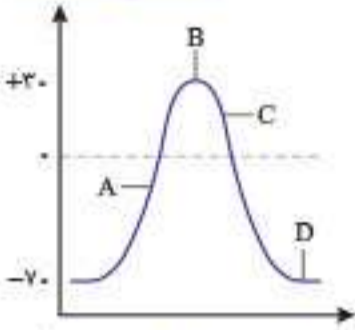
۹۲. با توجه شکل مقابل، به سؤالات زیر پاسخ دهید.

- الف) پروتئین مد نظر چه نام دارد؟
 ب) این پروتئین یون های سدیم را با چه روشی جابه جا می کند؟
 پ) این پروتئین یون های سدیم و پتاسیم را به کدام سمت از غشای یاخته عصبی جابه جا می کنند؟
 ت) این پروتئین در چه مرحله ای از پتانسیل عمل غیرفعال است؟

(شبه نهایی ۱۴۰۳)

۹۳. در ارتباط با ایجاد پیام عصبی به سؤالات زیر پاسخ دهید.

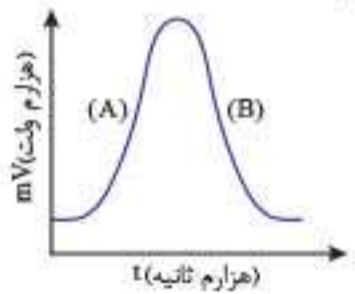
- الف) علت بالارفتن منحنی A چیست؟
 ب) در نقطه C اختلاف پتانسیل در دو سوی یاخته عصبی کاهش می یابد یا افزایش؟
 پ) در کدام بخش، میزان فعالیت پروتئین غشایی مصرف کننده ATP (نسبت به بقیه نواحی) بیشتر مشهود است؟



(خرداد ۸۴)

۹۴. با توجه به نمودار مقابل، به سؤالات زیر پاسخ دهید.

- الف) در نقطه های (A) و (B) چه نوع نقل و انتقالات یونی صورت می گیرد؟
 ب) علت بالارفتن منحنی در مرحله (A) و پایین آمدن منحنی در مرحله (B) را بنویسید.
 پ) علت مثبت شدن پتانسیل درون یاخته در (A) و پایین آمدن منحنی در نقطه (B) چیست؟

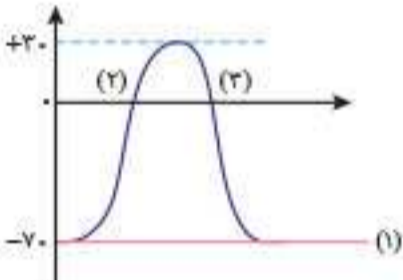


(خرداد ۸۶ و دی ۹۱ - باتغییر)

ت) قسمت (B) با باز شدن کدام کانال غشایی ثبت می شود؟

۹۵. تعیین کنید که هر کدام از واژه ها و عبارات های زیر مربوط به کدام بخش های نمودار مقابل هستند؟

- الف) باز بودن کانال های دریچه دار سدیمی؛
 ب) بسته شدن کانال های دریچه دار پتاسیمی؛
 پ) عبور یون ها از کانال های همیشه باز؛
 ت) باز بودن کانال های دریچه دار پتاسیمی؛

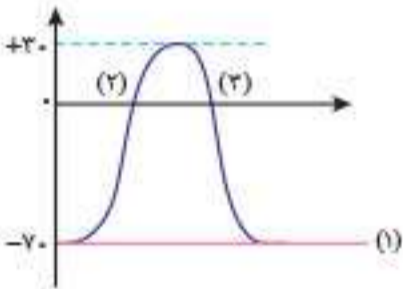


۹۶. با توجه به شکل مقابل، به سؤالات زیر پاسخ دهید.

- الف) منحنی شماره (۱)، کدام حالت یاخته عصبی را نشان می دهد؟
 ب) در کدام حالت، کانال های دریچه دار سدیمی باز است؟

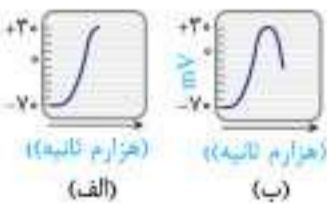
(خرداد ۹۰)

(خرداد ۹۱ - باتغییر)



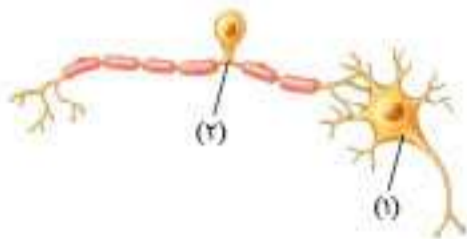
۹۷. با توجه به شکل های مقابل، به سؤالات زیر پاسخ دهید.

- الف) در کدام شکل یون های سدیم در جهت شیب غلظت وارد یاخته عصبی می شوند؟
 ب) در کدام شکل یون های پتاسیم در جهت شیب غلظت وارد یاخته عصبی می شوند؟
 پ) در کدام شکل به ترتیب کانال های دریچه دار سدیمی و پتاسیمی باز می شوند؟
 ت) در کدام شکل اختلاف پتانسیل الکتریکی از ۳۰ به سمت صفر شدن در حال کاهش است؟



۹۸. با توجه به شکل مقابل، به سؤالات زیر پاسخ دهید.

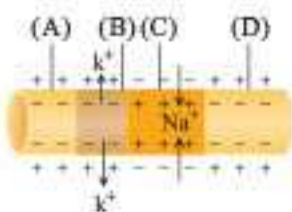
- الف) کدام شماره، یاخته عصبی پیش همایه ای است؟
 ب) دندریت یاخته شماره (۲) در کجا قرار دارد؟

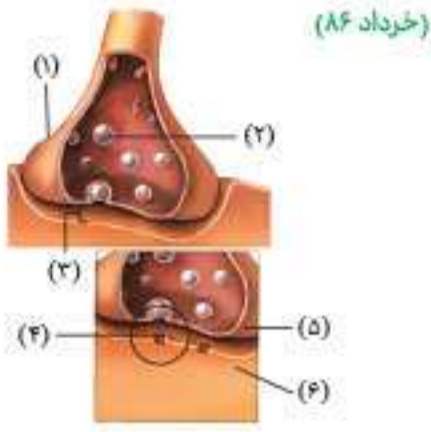


(شهریور ۹۴ و خرداد ۹۶)

۹۹. با توجه شکل مقابل، به سؤالات زیر پاسخ دهید.

- الف) در کدام نقطه مشخص شده کانال های دریچه دار سدیمی باز است؟
 ب) در کدام نقطه مشخص شده کانال های دریچه دار پتاسیمی باز است؟
 پ) شکل مقابل نشان دهنده هدایت پیام عصبی است یا انتقال پیام عصبی؟
 ت) کدام نقطه نشان دهنده حالت آرامش است؟
 ث) کدام نقطه نشان دهنده پتانسیل عمل است؟
 ج) کدام نقطه نشان دهنده قسمت صعودی پتانسیل عمل است؟





(خرداد ۸۶)

۱۰۰. با توجه به شکل مقابل، به سؤالات زیر پاسخ دهید.
الف) اجزای شماره‌گذاری شده را نام‌گذاری کنید.
ب) شماره (۴) در کدام قسمت یاخته ساخته می‌شود؟
پ) شماره (۲) با چه مکانیسمی محتویات خود را آزاد می‌کند؟
ت) جهت انتقال جریان عصبی، از شماره (۵) به (۶) است یا (۶) به (۵)؟

سؤالات جدولی - نموداری

۱۰۱. جدول‌های زیر را کامل کنید.

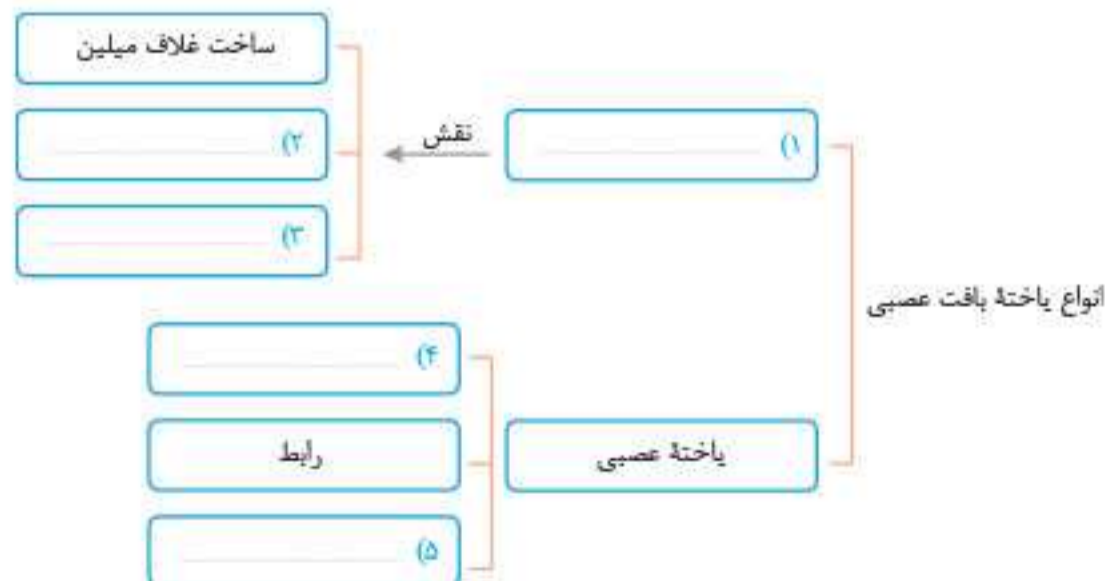
جدول (۱)

یاخته عصبی حسی	یاخته عصبی حرکتی	یاخته عصبی رابط
مقایسه دندریت و آکسون (۱) (۲)
تعداد آکسون (۴) (۵)
تعداد دندریت	عدد ۱	بیشتر از ۱ عدد
..... (۶) (۷) (۳)
..... (۶) (۷) (۳)
..... (۶) (۷) (۳)
..... (۶) (۷) (۳)

جدول (۲)

بخش بالاروی پتانسیل عمل	بخش پایین‌روی پتانسیل عمل	پتانسیل آرامش
در جهت شیب غلظت (۱)	در جهت شیب غلظت (۲)	در خارج یاخته بیشتر از داخل
در جهت شیب غلظت (۶)	در جهت شیب غلظت (۷) (۵)
..... (۱۰)	باز (۹)
..... (۱۲) (۱۱)	پسته
باز (۱۴) (۱۳)
..... (۳)	در جهت شیب غلظت (۴)	در حال خروج از یاخته
..... (۴)	در خلاف شیب غلظت (۵) (۶)
..... (۸)	در خلاف شیب غلظت (۹) (۱۰)
..... (۱۰) (۱۱) (۱۲)
..... (۱۲) (۱۴) (۱۳)

۱۰۲. نمودار زیر را کامل کنید.





سؤالات تشریحی



۱۰۳. سه عملکرد اصلی یاخته‌های عصبی را بیان کنید.

۱۰۴. کدام یاخته عصبی فقط در مغز و نخاع قرار دارد؟ و ساختار کلی آن شبیه کدام یاخته عصبی است؟

۱۰۵. سه قسمت یاخته‌های عصبی را نام ببرید و نقش هر یک را توضیح دهید.

۱۰۶. ناقل عصبی چیست؟ کجا ساخته می‌شود؟ و با چه فرایندی از یاخته عصبی خارج می‌شود؟

۱۰۷. در صورت غیرفعال شدن پمپ سدیم - پتاسیم در یاخته‌های عصبی، چه اتفاقاتی ممکن است رخ دهد؟ دو مورد را ذکر کنید.

۱۰۸. وقایع عملکرد پمپ سدیم - پتاسیم را به ترتیب بیان کنید.

۱۰۹. چرا در حالت آرامش، بار مثبت درون یاخته‌های عصبی از بیرون آن کمتر است؟

۱۱۰. پروتئین‌هایی که در طی پتانسیل عمل تغییر شکل می‌دهند، نام ببرید.

۱۱۱. هر یک از موارد زیر را تعریف کنید.

ب) پتانسیل آرامش

الف) هدایت جهشی

ت) ناقل عصبی

پ) گره‌های رانویه

۱۱۲. در اطراف جسم یاخته‌ای کدام نورون‌ها گره رانویه دیده می‌شود؟

۱۱۳. در بیماری مالتیپل اسکلروزیس (MS)، کدام یاخته‌های بافت عصبی مغز تخریب می‌شوند؟ علائم این بیماری را بنویسید؟

۱۱۴. در بیماری MS سطح تماس غشای نورون با مایع بین یاخته‌ای افزایش می‌یابد یا کاهش؟ چرا؟

۱۱۵. یاخته انتقال دهنده پیام عصبی چه نام دارد؟

۱۱۶. چگونه یک ناقل عصبی پس از اتصال به گیرنده‌های نورون پس سیناپسی پیام عصبی را انتقال می‌دهند؟

۱۱۷. در نوک قله نمودار پتانسیل عمل کدام یون (سدیم و پتاسیم) به ترتیب در خارج و داخل یاخته غلظت بیشتری دارد؟

۱۱۸. پس از انتقال پیام عصبی چرا مولکول‌های ناقل باقی مانده باید از فضای سیناپسی تخلیه شوند؟

۱۱۹. در کدام یک از سیناپس‌ها، اختلاف پتانسیل دو سوی غشای یاخته پس همایه‌ای تغییر می‌کند؟

۱۲۰. روش‌های تخلیه ناقل عصبی از فضای سیناپسی به چه شیوه‌ای صورت می‌گیرد؟

(شهریور ۸۷ و شهریور ۹۰ - باتغییر)

۱۲۱. چرا در پتانسیل آرامش یاخته عصبی، خارج یاخته نسبت به داخل یاخته مثبت‌تر است؟

(خرداد ۸۸)

۱۲۲. اثر فعالیت پمپ سدیم-پتاسیم، بر غلظت یون پتاسیم درون یاخته عصبی را بنویسید.

۱۲۳. پمپ سدیم - پتاسیم میزان یون‌های مثبت داخل یاخته را کاهش می‌دهد یا افزایش؟ چرا؟

(شهریور ۸۸)

۱۲۴. انتقال دهنده‌های عصبی پس از رسیدن به یاخته عصبی پس همایه‌ای، سبب چه نوع تغییراتی در پتانسیل الکتریکی آن می‌شوند؟

۱۲۵. هنگام پتانسیل آرامش، در صورت ادامه روند خروج پتاسیم از یاخته، سرانجام تراکم پتاسیم داخل یاخته به شدت کاهش می‌یابد. یاخته چگونه بر این مشکل چیره می‌شود؟

(دی ۸۸ و دی ۹۰)

۱۲۶. در چه مناطقی از یک یاخته عصبی میلین دار، غشا با مایع اطراف آن در تماس است؟

(خرداد ۸۹ - باتغییر)

۱۲۷. نقش گره‌های رانویه در افزایش سرعت پیام عصبی را توضیح دهید.

۱۲۸. پس از رسیدن پتانسیل عمل به پایانه آکسون یاخته عصبی پیش همایه‌ای، چه اعمالی صورت می‌گیرد تا در یاخته عصبی پس همایه‌ای، تغییر پتانسیل الکتریکی انجام شود؟

(دی ۸۹)

۱۲۹. چه چیزی سبب بازگشت یاخته عصبی به پتانسیل آرامش می‌شود؟ و برای ایجاد حالت آرامش به چه چیزی نیاز است؟

۱۳۰. در پتانسیل عمل به دنبال باز شدن کدام کانال‌های پروتئینی غشای یاخته عصبی، اختلاف پتانسیل درون یاخته به $+40$ میلی‌ولت می‌رسد؟ (خرداد ۹۳ - باتغییر)

(دی ۹۲ و شهریور ۹۳)

۱۳۱. در حالت استراحت، نفوذپذیری غشای یاخته عصبی نسبت به کدام یون بیشتر و نسبت به کدام یون کمتر است؟

(شهریور ۹۵)

۱۳۲. چرا هدایت پیام عصبی در رشته‌های میلین دار بسیار سریع‌تر از رشته‌های فاقد میلین هم قطر است؟

۱۳۳. چرا سرعت هدایت در رشته‌های عصبی با قطر زیادتر، بیشتر است؟


(شبه‌نهایی ۱۴۰۳)

۱۳۴. چرا پس از انتقال پیام عصبی، مولکول‌های ناقل باقی مانده باید از فضای سیناپسی تخلیه شوند؟ (دو مورد)

۱۳۵. مولکول‌های ناقل باقی مانده در فضای همایه‌ای (سیناپسی) علاوه بر جذب دوباره به یاخته پیش همایه‌ای، به چه روش دیگری تخلیه می‌شوند؟ (خرداد ۱۴۰۳)

بخش دوم

پاسخنامه



پاسخ سؤالات فصل ۱

- ۵۶. منتقل
- ۵۷. دندربیت
- ۵۸. کاهش
- ۵۹. همانند
- ۶۰. جسم یاخته‌ای
- ۶۱. مثبت‌تر
- ۶۲. بیشتر از
- ۶۳. انتشار تسهیل شده
- ۶۴. کمتر
- ۶۵. دریچه‌دار
- ۶۶. گزینه ۴
- ۶۶. داخل - خارج
- ۶۷. باز
- ۶۸. ناگهانی
- ۶۹. حالت آرامش
- ۷۰. رشته عصبی
- ۷۱. هدایت - سریع‌تر
- ۷۲. جهشی
- ۷۳. یاخته عصبی
- ۷۴. پیش
- ۷۵. پس همایه‌ای

• بررسی تک‌تک موارد:

الف: **نادرست** یاخته‌های عصبی می‌توانند بدون میلین باشند. / ب: **نادرست** هر یاخته عصبی یک جسم یاخته‌ای دارد. / پ: **نادرست** پیام عصبی می‌تواند به یاخته‌های غیرعصبی مانند یاخته‌های ماهیچه‌ای نیز منتقل شود. / ت: **درست** ناقل عصبی در همه یاخته‌های عصبی درون جسم یاخته‌ای که بخش حجیم یاخته عصبی است، ساخته می‌شود.

۷۷. گزینه ۳ به منظور انتقال پیام عصبی، ناقل‌های عصبی با برون‌رانی از یاخته پیش‌سیناپسی خارج می‌شوند. در برون‌رانی غشای ریزکیسه به غشای یاخته می‌پیوندند و سطح غشای یاخته افزایش می‌یابد.

• بررسی سایر گزینه‌ها:

گزینه ۱: پس از انتقال پیام عصبی، مولکول‌های ناقل عصبی می‌توانند به یاخته پیش‌همایه‌ای (نه پس‌همایه‌ای) وارد شوند و یا توسط آنزیم‌ها در فضای سیناپسی تجزیه شوند.

گزینه ۲: ریزکیسه‌ها وارد فضای همایه‌ای نمی‌شوند؛ بلکه محتویات ریزکیسه‌ها که همان ناقل عصبی است به فضای همایه‌ای وارد می‌شود.

گزینه ۴: گیرنده ناقل عصبی درون یاخته پس‌همایه‌ای قرار ندارد؛ بلکه در غشای یاخته پس‌همایه‌ای قرار دارد.

۷۸. گزینه ۱ یاخته‌های عصبی حرکتی پیام را از دستگاه عصبی مرکزی خارج و یاخته‌های عصبی حسی، پیام را به دستگاه عصبی مرکزی وارد می‌کنند. یاخته عصبی حرکتی، چند دندربیت و یاخته عصبی حسی یک دندربیت دارند.

• بررسی سایر گزینه‌ها:

گزینه ۲: در یاخته‌های عصبی حرکتی یک آکسون و چند دندربیت وجود دارد که از نقاط مختلف جسم یاخته‌ای خارج می‌شوند.

گزینه ۳: جسم یاخته‌ای محل اصلی سوخت‌وساز یاخته عصبی است. طبق شکل کتاب درسی، در یاخته عصبی حرکتی جسم یاخته‌ای می‌تواند بین دندربیت‌های فاقد میلین و آکسون میلین‌دار قرار گیرد. اما در یاخته‌های عصبی حسی جسم یاخته‌ای می‌تواند بین دندربیت میلین‌دار و آکسون میلین‌دار قرار گیرد.

گزینه ۴: دندربیت پیام را به جسم یاخته‌ای نزدیک و آکسون پیام را از جسم یاخته‌ای دور می‌کند. در یاخته‌های عصبی حرکتی، طول دندربیت از آکسون کمتر است.

۷۹. گزینه ۲

• بررسی تک‌تک موارد:

الف: **نادرست** در پتانسیل آرامش یون‌های مثبت در داخل و خارج یاخته وجود دارند؛ منتها تعداد این یون‌های مثبت در خارج یاخته بیشتر است. / ب: **درست** کانال‌های دریچه‌دار سدیمی و پتاسیمی در پتانسیل آرامش فعالیت ندارند. / پ: **نادرست** پمپ سدیم - پتاسیم در پتانسیل آرامش و عمل فعالیت دارد. این پمپ از انباشته شدن سدیم در درون یاخته و پتاسیم در بیرون یاخته جلوگیری می‌کند. / ت: **نادرست** یون‌های پتاسیم طی انتشار تسهیل شده و از طریق کانال‌ها به خارج یاخته منتقل می‌شوند. در انتشار، انرژی زیستی مصرف نمی‌شود.

- ۱. نوار مغزی - یاخته‌های عصبی (نورون‌ها)
- ۲. یاخته‌های عصبی - یاخته‌های پشتیبان (نوروگلیاها)
- ۳. جسم یاخته‌ای، دارینه (دندربیت) و آسه (آکسون)
- ۴. پشتیبان - بسیاری
- ۵. دارینه (دندربیت)
- ۶. گره رانویه
- ۷. هم‌ایستایی
- ۸. حسی
- ۹. حرکتی
- ۱۰. (۷۰-) - پتانسیل آرامش
- ۱۱. سدیم
- ۱۲. سدیم - پتاسیم
- ۱۳. پروتئینی
- ۱۴. سدیمی
- ۱۵. بافت پیوندی
- ۱۶. پیام عصبی
- ۱۷. پایانه آکسون
- ۱۸. همایه (سیناپس)
- ۱۹. سریع‌تر
- ۲۰. نجسبیده
- ۲۱. گره‌های رانویه / دریچه‌دار
- ۲۲. فاصله بین گره‌ها / دریچه‌دار
- ۲۳. میلین / بیرون
- ۲۴. اسکلتی / زیادی
- ۲۵. عصبی - ریزکیسه‌ها
- ۲۶. پیش‌همایه‌ای (پیش‌سیناپسی) - ناقل عصبی - همایه‌ای (سیناپسی)
- ۲۷. نفوذپذیری - پتانسیل الکتریکی
- ۲۸. ناقل‌های عصبی - دستگاه عصبی
- ۲۹. باقی‌مانده - تخلیه
- ۳۰. کاهش - افزایش
- ۳۱. پشتیبانی - مرکزی
- ۳۲. بینایی - حرکت
- ۳۳. **نادرست** نوار مغزی فقط جریان الکتریکی ثبت شده یاخته‌های عصبی است.
- ۳۴. **نادرست** پیام عصبی در طول یک یاخته عصبی هدایت می‌شود.
- ۳۵. **نادرست** در بافت عصبی تعداد یاخته‌های پشتیبان بیشتر است.
- ۳۶. **درست**
- ۳۷. **درست**
- ۳۸. **درست**
- ۳۹. **نادرست** کلمه «هر» جمله را نادرست می‌کند.
- ۴۰. **نادرست** در بخش نزولی منحنی از $+20$ تا $+40$ کانال‌های دریچه‌دار پتاسیمی بازند.
- ۴۱. **نادرست** ممکن است یاخته پس‌همایه‌ای یک یاخته ماهیچه‌ای باشد.
- ۴۲. **نادرست** ممکن است یاخته عصبی پیش‌همایه‌ای سبب غیر فعال شدن یاخته پس‌همایه‌ای شود.
- ۴۳. **نادرست** محتویات ریزکیسه آزاد می‌شود نه خود ریزکیسه!
- ۴۴. **نادرست** ابتدا کانال‌های دریچه‌دار سدیمی باز می‌شوند.
- ۴۵. **نادرست** به یون‌های پتاسیم بیشتر از یون‌های سدیم است.
- ۴۶. **نادرست** پمپ انتقال فعال دارد.
- ۴۷. **نادرست** به حالت آرامش باز می‌گردد.
- ۴۸. **نادرست** علت پایین رفتن منحنی، باز شدن کانال‌های دریچه‌دار پتاسیمی است و بسته شدن کانال‌های دریچه‌دار سدیمی است.
- ۴۹. **نادرست** همواره میزان یون‌های پتاسیم درون یاخته بیشتر از بیرون یاخته است.
- ۵۰. **درست**
- ۵۱. **نادرست** فقط در گره‌های رانویه تماس با مایع اطراف برقرار است.
- ۵۲. **درست**
- ۵۳. **درست**
- ۵۴. **نادرست** چون در دو نقطه حداقل اختلاف پتانسیل الکتریکی داریم بخش صعودی و نزولی نمودار
- ۵۵. **نادرست** ناقل عصبی وارد یاخته پس‌همایه‌ای نمی‌شود.



یون‌های سدیم همواره از طریق کانال‌های نشستی و در جهت شیب غلظت وارد یاخته عصبی می‌شوند. / ت: **نادرست** در ابتدای مرحله نزولی پتانسیل عمل، پتانسیل غشا از +۲۰ به صفر می‌رسد. در این زمان کانال‌های دریچه‌دار سدیمی بسته‌اند و فعالیت ندارند.

۸۵. گزینه ۴ نقطه مشخص شده در شکل، انتهای پتانسیل عمل را نشان می‌دهد. در این زمان پمپ سدیم - پتاسیم فعالیت بیشتری دارد.

• بررسی سایر گزینه‌ها:

گزینه ۱: پمپ سدیم - پتاسیم و کانال‌های نشستی در همه زمان‌ها فعالیت می‌کنند. بنابراین همواره یون‌های سدیم و پتاسیم می‌توانند به‌طور هم‌زمان از یاخته خارج و به یاخته وارد شوند. یون‌های سدیم از طریق پمپ سدیم - پتاسیم، از یاخته خارج و از طریق کانال‌های نشستی به یاخته وارد می‌شوند. یون‌های پتاسیم از طریق پمپ سدیم - پتاسیم به یاخته وارد و از طریق کانال‌های نشستی از یاخته خارج می‌شوند.

گزینه ۲: یون‌های سدیم می‌توانند از طریق کانال‌های نشستی وارد یاخته شوند. بنابراین مانعی برای ورود آن‌ها به یاخته وجود ندارد.

گزینه ۳: یون‌های پتاسیم توسط کانال‌های نشستی و به‌صورت غیرفعال از یاخته عصبی خارج می‌شوند.

۸۶. الف (ب / ۳ / پ / ۵ / ت / ۶ / ج / ۱ / ث / ۴ / ج / ۸ / چ / ۲ / ح / ۷)

۸۷. الف (۱) دندریت، (۲) هسته، (۳) یاخته پشتیبان، (۴) جسم یاخته‌ای، (۵) آکسون، (۶) گره رانویه، (۷) پایانه آکسونی / **ب** شماره ۴ (جسم یاخته‌ای) / **پ** پیام عصبی از یک گره به گره دیگر می‌جهد و باعث هدایت جهشی پیام عصبی می‌شود که در نهایت سرعت هدایت پیام عصبی افزایش می‌یابد. /

ت (۱) ساخت غلاف میلین، (۲) دفاع از یاخته‌های عصبی، (۳) حفظ هم‌ایستایی مایع اطراف یاخته‌های عصبی (مثل حفظ مقدار طبیعی یون‌ها)، (۴) ایجاد داربست‌هایی برای استقرار یاخته‌های عصبی

۸۸. الف (۱) یاخته پشتیبان (۲) غلاف میلین (۳) هسته / **ب** شماره ۱ (یاخته پشتیبان) / **پ** شماره ۳ (هسته) / **ت** در بافت عصبی تعداد یاخته‌های پشتیبان چندبرابر یاخته‌های عصبی است و انواع گوناگونی دارند.

۸۹. الف (۱) دندریت، (۲) جسم یاخته‌ای، (۳) آکسون، (۴) غلاف میلین، (۵) گره رانویه / **ب** شماره ۵ (گره رانویه) / **پ** نورون حسی / **ت** یاخته پشتیبان به دور رشته عصبی می‌پیچد و غلاف میلین را به وجود می‌آورد.

۹۰. الف یاخته رابط / **ب** در بخش مرکزی دستگاه عصبی قرار دارد که ارتباط لازم بین یاخته‌های عصبی حسی و حرکتی را فراهم می‌کند.

۹۱. الف (۱) پتاسیم، (۲) سدیم / **ب** در بیرون از یاخته کم و در داخل یاخته زیاد / **پ** باز

۹۲. الف کانال نشستی / **ب** انتشار تسهیل شده / **پ** یون‌های سدیم را به درون یاخته و یون‌های پتاسیم را به خارج از یاخته منتقل می‌کند. / **ت** در همه مراحل پتانسیل عمل فعال است.

۹۳. الف باز شدن کانال‌های دریچه‌دار سدیمی / **ب** کاهش / **پ** D

۹۴. الف در مرحله A یون سدیم توسط کانال‌های دریچه‌دار و نشستی وارد یاخته و در مرحله B یون پتاسیم توسط کانال‌های دریچه‌دار و نشستی از یاخته خارج می‌شود. پمپ سدیم - پتاسیم یون‌های سدیم را از یاخته خارج و یون‌های پتاسیم را به یاخته وارد می‌کند.

ب باز شدن کانال‌های دریچه‌دار سدیمی در مرحله (A)

باز شدن کانال‌های دریچه‌دار پتاسیمی در مرحله (B)

پ ورود ناگهانی مقدار زیادی یون سدیم مرحله (A)

خروج ناگهانی مقدار زیادی یون پتاسیم مرحله (B)

ت کانال دریچه‌دار پتاسیمی

۸۰. گزینه ۴ مولکول پروتئینی شماره یک، پمپ سدیم - پتاسیم و مولکول پروتئینی شماره دو، نوعی کانال نشستی است. پمپ سدیم - پتاسیم برخلاف کانال‌های نشستی، مواد را در خلاف جهت شیب غلظت جابه‌جا می‌کند.

• بررسی سایر گزینه‌ها:

گزینه ۱: کانال‌ها در طی فعالیت خود ATP مصرف نمی‌کنند.

گزینه ۲: پمپ سدیم - پتاسیم برخلاف کانال‌های نشستی، در خلاف (نه در جهت) شیب غلظت مواد را جابه‌جا می‌کند.

گزینه ۳: پمپ سدیم - پتاسیم مواد را در دو جهت جابه‌جا می‌کند؛ در واقع یون‌های سدیم را از یاخته خارج و یون‌های پتاسیم را به یاخته وارد می‌کند.

۸۱. گزینه ۴ در پتانسیل آرامش، پمپ سدیم - پتاسیم و کانال‌های نشستی فعالیت دارند که در این بین پمپ سدیم - پتاسیم با خارج کردن یون‌های سدیم از یاخته، از میزان یون‌های سدیم درون یاخته می‌کاهد. پمپ سدیم - پتاسیم در هر بار فعالیت سه یون سدیم را از یاخته خارج و دو یون پتاسیم را به یاخته وارد می‌کند؛ بنابراین میزان یون‌های مثبت را در مایع بین یاخته‌ای افزایش می‌دهد.

• بررسی سایر گزینه‌ها:

گزینه‌های ۱ و ۳: پمپ سدیم - پتاسیم انتقال فعال انجام می‌دهد. در انتقال فعال یون‌ها در خلاف جهت (نه در جهت) شیب غلظت جابه‌جا می‌شوند.

گزینه ۲: پمپ سدیم - پتاسیم در غشای سایر یاخته‌های زنده بدن نیز مشاهده می‌شود.

۸۲. گزینه ۴ در نمودار پتانسیل عمل، نزدیکی به صفر یعنی کاهش اختلاف پتانسیل بین دو سوی غشا و دوری از صفر یعنی افزایش آن!

• بررسی سایر گزینه‌ها:

گزینه ۱: بخش A مرحله صعودی پتانسیل عمل و بخش B مرحله نزولی پتانسیل عمل را نشان می‌دهد. در بخش صعودی برخلاف بخش نزولی پتانسیل عمل، کانال‌های دریچه‌دار سدیمی باز هستند و مقدار زیادی یون سدیم وارد یاخته عصبی می‌شود.

گزینه ۲: کانال‌های نشستی سدیم همیشه فعال هستند. بنابراین یون‌های سدیم همیشه وارد یاخته می‌شوند و مانعی برای ورود یون‌های سدیم به یاخته وجود ندارد.

گزینه ۳: در مرحله صعودی پتانسیل عمل، کانال‌های دریچه‌دار پتاسیمی بسته‌اند و یون‌های پتاسیم نمی‌توانند از طریق این کانال‌ها از یاخته خارج شوند. اما در مرحله نزولی پتانسیل عمل کانال‌های دریچه‌دار پتاسیمی بازند و یون‌های پتاسیم از طریق این کانال‌ها از یاخته خارج می‌شوند.

۸۳. گزینه ۲ بسته شدن کانال‌های دریچه‌دار پتاسیمی در انتهای مرحله نزولی پتانسیل عمل انجام می‌شود.

• بررسی سایر گزینه‌ها:

گزینه‌های ۱ و ۲: در یک یاخته عصبی زنده، کانال‌های نشستی و پمپ سدیم - پتاسیم همواره فعالیت می‌کنند، بنابراین یون‌های سدیم و پتاسیم همواره هم به یاخته وارد و هم از یاخته خارج می‌شوند.

گزینه ۴: در تمامی مراحل زندگی نورون، یون‌های سدیم توسط پمپ سدیم - پتاسیم با مصرف انرژی از یاخته خارج می‌شوند.

۸۴. گزینه ۲

• بررسی تک‌تک موارد:

الف: **نادرست** اختلاف پتانسیل غشای یک نورون یک بار در مرحله صعودی پتانسیل عمل و یک بار در مرحله نزولی پتانسیل عمل، صفر می‌شود. در مرحله نزولی پتانسیل عمل، کانال‌های دریچه‌دار سدیمی بسته هستند. / **ب: درست** در پتانسیل +۲۰ میلی‌ولت، کانال‌های دریچه‌دار سدیمی بسته می‌شوند و با این اتفاق، نفوذپذیری غشا به یون‌های سدیم کم می‌شود. / **پ: درست** کانال‌های دریچه‌دار پتاسیمی در مرحله نزولی پتانسیل عمل باز هستند. دقت کنید که

۱۰۹. دو دلیل دارد:
- دلیل اول: وجود کانال‌های نشستی که از طریق آن‌ها تعداد یون‌های پتاسیم خروجی بیشتر از یون‌های سدیم ورودی است. زیرا غشا به این یون نفوذپذیری بیشتری دارد.
- دلیل دوم: وجود پمپ سدیم - پتاسیم که با فعالیت این پمپ سه یون سدیم از یاخته عصبی خارج و دو یون پتاسیم به آن وارد می‌شود.
۱۱۰. پمپ سدیم - پتاسیم و کانال دریچه‌دار سدیمی و پتاسیمی با تغییر شکل خود در جابه‌جایی یون‌ها مؤثرند.
۱۱۱. الف پیام عصبی در رشته‌های عصبی میلین دار از یک گره به گره دیگر هدایت می‌شود. در این حالت به نظر می‌رسد پیام عصبی از یک گره به گره دیگر می‌جهد. به همین علت این هدایت را هدایت جهشی می‌نامند.
- ب وقتی یاخته عصبی فعالیت عصبی ندارد در دو سوی غشای آن اختلاف پتانسیلی در حدود ۷۰- میلی‌ولت برقرار است که به آن پتانسیل آرامش می‌گویند.
- پ غلاف میلین پیوسته نیست و در بخش‌هایی از رشته‌های آکسون و دندریت قطع می‌شود. این بخش‌ها را گره رانویه می‌نامند.
- ت ماده شیمیایی که توسط یاخته پیش‌همایه‌ای در فضای همایه‌ای آزاد می‌شود و بر یاخته پس‌همایه‌ای اثر می‌کند.
۱۱۲. در اطراف جسم یاخته‌ای هیچ یک از نورون‌ها غلاف میلین و در نتیجه گره رانویه دیده نمی‌شود.
۱۱۳. یاخته‌های پشتیبانی که در سیستم عصبی مرکزی میلین می‌سازند از بین می‌روند. علائم این بیماری اختلال در بینایی و حرکت فرد و ایجاد بی‌حسی و لرزش است.
۱۱۴. افزایش: چون در بیماری MS یاخته‌های پشتیبانی که میلین می‌سازند در دستگاه عصبی مرکزی از بین می‌روند در نتیجه در غیاب میلین سطح تماس غشای نورون با مایع بین یاخته‌ای افزایش می‌یابد.
۱۱۵. یاخته پیش‌سیناپسی
۱۱۶. ناقل عصبی پس از رسیدن به غشای یاخته پس‌همایه‌ای، به پروتئینی به نام گیرنده متصل می‌شود. این پروتئین همچنین کانالی است که با اتصال ناقل عصبی به آن باز می‌شود. به این ترتیب، ناقل عصبی با تغییر نفوذپذیری غشای یاخته پس‌همایه‌ای به یون‌ها، پتانسیل الکتریکی این یاخته را تغییر می‌دهد. براساس این که ناقل عصبی تحریک‌کننده یا بازدارنده باشد، یاخته پس‌همایه‌ای تحریک، یا فعالیت آن مهار می‌شود.
۱۱۷. همواره میزان یون سدیم در خارج و یون پتاسیم در داخل یاخته بیشتر است.
۱۱۸. تا از انتقال بیش از حد پیام جلوگیری شود.
۱۱۹. سیناپس‌های تحریکی و مهاری هر دو اختلاف پتانسیل دو سوی غشای یاخته پس‌همایه‌ای را تغییر می‌دهند، در سیناپس تحریکی با وارد شدن یون سدیم از طریق گیرنده ناقل عصبی موجود در سطح غشای یاخته پس‌همایه‌ای به داخل یاخته، پتانسیل الکتریکی غشا مثبت‌تر می‌شود و در سیناپس مهاری با خارج شدن یون پتاسیم از طریق گیرنده ناقل عصبی موجود در سطح غشای یاخته پس‌همایه‌ای، پتانسیل الکتریکی غشا منفی‌تر خواهد شد.
۱۲۰. از دو طریق انجام می‌شود: ۱) بازجذب ناقل به یاخته پیش‌همایه‌ای ۲) ترشح آنزیم‌های تجزیه‌کننده ناقل از یاخته پیش‌همایه‌ای
۱۲۱. زیرا در حالت آرامش مقدار یون‌های سدیم در بیرون غشای یاخته‌های عصبی زنده از داخل آن بیشتر است.
۱۲۲. در هر بار فعالیت این پمپ دو یون پتاسیم وارد یاخته می‌شود.
۱۲۳. کاهش. چون پمپ سدیم - پتاسیم با هر بار فعالیت خود ۲ یون پتاسیم وارد یاخته و ۳ یون سدیم از یاخته خارج می‌کند پس می‌توان گفت این پمپ میزان یون‌های مثبت داخل یاخته را کاهش می‌دهد.

۹۵. الف / ۲ / ب / ۱ / پ / ۱ / ۲ / ۳ / ت / ۳
۹۶. الف پتانسیل آرامش / ب ۲
۹۷. الف در هر دو شکل الف و ب / ب در هر دو شکل الف و ب / پ الف - ب / ت ب
۹۸. الف یاخته شماره ۲ / ب اندام‌های حسی (مانند پوست) (قبل جسم یاخته‌ای)
۹۹. الف C / B / پ هدایت پیام عصبی / ت D / A / ج C
۱۰۰. الف ۱) پایانه آکسون، ۲) ریزکیسه‌های دارای ناقل عصبی، ۳) فضای همایه‌ای، ۴) ناقل عصبی، ۵) غشای یاخته پیش‌همایه‌ای، ۶) غشای یاخته پس‌همایه‌ای / ب در جسم یاخته‌ای / پ برون‌رانی / ت ۵ به ۶
۱۰۱. جدول (۱)
- ۱) آکسون بلندتر از دندریت، ۲) آکسون بلندتر از دندریت، ۳) دریافت پیام از گیرنده‌های حسی و رساندن آن به بخش مرکزی دستگاه عصبی، ۴) رساندن پیام‌ها از بخش مرکزی دستگاه عصبی به سوی اندام‌ها (مانند ماهیچه‌ها)، ۵) ۱ عدد، ۶) ۱ عدد، ۷) بیشتر از ۱ عدد
- جدول (۲)
- ۱) در حال ورود به یاخته، ۲) در حال خروج از یاخته، ۳) در حال ورود به یاخته، ۴) در حال خروج از یاخته، ۵) در داخل یاخته بیشتر از خارج، ۶) در حال خروج از یاخته، ۷) در حال ورود به یاخته، ۸) در حال ورود به یاخته، ۹) باز، ۱۰) باز، ۱۱) باز، ۱۲) بسته، ۱۳) بسته، ۱۴) بسته
۱۰۲. ۱) یاخته غیرعصبی (نوروگلیا)، ۲) دفاع از یاخته‌های عصبی، ۳) حفظ هم‌ایستایی مایع اطراف یاخته‌های عصبی یا ایجاد داربست‌هایی برای استقرار یاخته‌های عصبی، ۴) حسی، ۵) حرکتی
۱۰۳. ۱) تحریک‌پذیری و ایجاد پیام عصبی ۲) هدایت پیام عصبی ۳) انتقال پیام عصبی
۱۰۴. با توجه به شکل ۳ از کتاب درسی یاخته عصبی رابط فقط در مغز و نخاع بوده که این یاخته شبیه یاخته عصبی حرکتی است ولی آکسون آن نسبت به یاخته عصبی حرکتی کوتاه‌تر است.
۱۰۵. ۱) دندریت: رشته‌ای است که پیام‌ها را دریافت و به جسم یاخته عصبی وارد می‌کند.
- ۲) جسم یاخته‌ای: محل قرار گرفتن هسته و انجام سوخت و ساز یاخته‌های عصبی است و می‌تواند پیام را نیز دریافت‌کند.
- ۳) آکسون: رشته‌ای است که پیام عصبی را از جسم یاخته‌ای تا انتهای خود که پایانه آکسون نام دارد، هدایت می‌کند.
۱۰۶. برای انتقال پیام از یاخته عصبی انتقال‌دهنده یا یاخته عصبی پیش‌سیناپسی، ماده‌ای به نام ناقل عصبی در فضای سیناپسی آزاد می‌شود. ناقل عصبی در جسم یاخته‌های عصبی ساخته و درون ریزکیسه‌ها ذخیره می‌شود. این کیسه‌ها در طول آکسون هدایت می‌شوند تا به پایانه آن برسند و با فرایند برون‌رانی خارج می‌شوند.
۱۰۷. ۱) تفاوت غلظت یون‌ها کاهش یافته و در نهایت از بین می‌رود و پتانسیل الکتریکی غشا به سمت صفر می‌رود.
- ۲) اختلال در عملکرد یاخته‌های عصبی و بروز بیماری می‌شود.
۱۰۸. ۳ یون سدیم از درون یاخته به پمپ سدیم - پتاسیم متصل می‌شود. مولکول ATP توسط این پمپ تجزیه شده و به ADP و گروه فسفات تبدیل می‌شود (گروه فسفات ایجاد شده به پمپ متصل می‌ماند).
- یون‌های سدیم به بیرون یاخته منتقل می‌شوند، ۲ یون پتاسیم به پمپ متصل می‌شود، گروه فسفات از پمپ جدا می‌شود، یون‌های پتاسیم به داخل یاخته وارد می‌شوند.



۱۲۴. پتانسیل الکتریکی این یاخته را تغییر می‌دهد و براساس این‌که انتقال دهندهٔ عصبی تحریک‌کننده یا بازدارنده باشد، یاخته پس‌همایه‌ای را تحریک یا فعالیت آن را مهار می‌کند.
۱۲۵. وجود پمپ سدیم - پتاسیم که با استفاده از انرژی مولکول ATP با هر بار فعالیت دو یون پتاسیم را به یاخته وارد می‌کند.
۱۲۶. در محل گرهٔ رانویه
۱۲۷. در این گره‌ها پتانسیل عمل ایجاد می‌شود و پیام عصبی درون رشتهٔ عصبی از یک گره به گرهٔ دیگر هدایت می‌شود. در این حالت به نظر می‌رسد پیام عصبی از یک گره به گرهٔ دیگر می‌جهد. به همین علت، این هدایت را هدایت جهشی می‌نامند.
۱۲۸. کیسه‌های محتوی ناقل‌های عصبی با برون‌رانی، ناقل عصبی را در فضای همایه‌ای آزاد می‌کنند.
۱۲۹. با بسته شدن کانال‌های دریچه‌دار پتاسیمی یاختهٔ عصبی به پتانسیل آرامش بازمی‌گردد و برای ایجاد حالت آرامش نیاز است تا پمپ سدیم - پتاسیم با فعالیت بیشتر خود غلظت یون‌های سدیم و پتاسیم را به حالت آرامش برگرداند.
۱۳۰. کانال‌های دریچه‌دار سدیمی
۱۳۱. به یون پتاسیم بیشتر و به یون سدیم کمتر.
۱۳۲. زیرا غلاف میلین در بخش‌هایی از رشته به نام گرهٔ رانویه قطع می‌شود و پیام عصبی درون رشته از یک گره به گرهٔ دیگر هدایت می‌شود. (به صورت جهشی)
۱۳۳. در رشته‌های عصبی با قطر بیشتر تعداد کانال‌های دریچه‌دار بیشتر بوده و در نتیجه هدایت پیام عصبی هم سریع‌تر خواهد بود.
۱۳۴. تا از انتقال بیش از حد پیام عصبی جلوگیری شود و امکان انتقال پیام جدید فراهم شود.
۱۳۵. آنزیم‌هایی که ناقل عصبی را تجزیه می‌کنند.
۱۳۶. مادهٔ سفید
۱۳۷. مایع مغزی نخاعی - ضربه‌گیر - مرکزی
۱۳۸. ستون مهره‌ها - مننژ
۱۳۹. اکسیژن - گلوکز - داروها
۱۴۰. مخ
۱۴۱. رشته‌های عصبی
۱۴۲. بسیاری - شرایط محیطی
۱۴۳. جسم یاخته‌های - رشته‌های
۱۴۴. حسی - حرکتی - ارتباطی
۱۴۵. ریاضیات - استدلال - هنری
۱۴۶. مادهٔ خاکستری - چند میلی‌متر
۱۴۷. یادگیری - تفکر - عملکرد هوشمندانه
۱۴۸. بصل‌النخاع
۱۴۹. کرمینه
۱۵۰. وضعیت بدن - تعادل - اندام‌های حسی
۱۵۱. تالاموس
۱۵۲. پل مغزی - اشک
۱۵۳. پل مغزی - بینایی - حرکت
۱۵۴. بصل‌النخاع
۱۵۵. سامانهٔ کناره‌ای (لیمبیک)
۱۵۶. حسی - قشر مخ
۱۵۷. اسبک مغز - یادگیری
۱۶۵. اپی‌فیز
۱۶۶. پینه‌ای - کم عمقی - رابط سه‌گوش
۱۶۷. سه‌گوش - طولی - تالاموس‌ها
۱۶۸. کرمینه - درخت زندگی - بطن چهارم
۱۶۹. دستگاه عصبی محیطی - مغزی - نخاعی
۱۷۰. حسی - حرکتی
۱۷۱. نخاع - محیطی
۱۷۲. دو - حرکتی - پیکری - خودمختار
۱۷۳. صاف - قلب - غده‌ها - فعال
۱۷۴. پیکری - خودمختار
۱۷۵. مجموعه‌ای - دیوارهٔ بدن
۱۷۶. نردبان مانندی
۱۸۳. درست
۱۸۴. نادرست انعکاس‌هایی که در ناحیه سر اتفاق می‌افتد تحت کنترل قشر مخ صورت می‌گیرد.
۱۸۵. نادرست رابط‌های پینه‌ای و سه‌گوش سفیدرنگ هستند.
۱۸۶. درست
۱۸۷. نادرست تالاموس و هیپوتالاموس را به قشر مخ وصل می‌کند.
۱۸۸. درست
۱۸۹. نادرست مشکلات کبدی، سکتۀ قلبی و انواع سرطان‌ها از پیامدهای مصرف بلندمدت الکل است.
۱۹۰. درست
۱۹۱. درست
۱۹۲. درست
۱۹۳. نادرست سمپاتیک بر پاراسمپاتیک غلبه دارد.
۱۹۴. درست
۱۹۵. درست
۱۹۶. درست
۱۹۷. نادرست منتشر می‌شود.
۱۹۸. درست
۱۹۹. درست
۲۰۰. نادرست شکمی
۲۰۱. نادرست در حشرات یک طناب عصبی شکمی وجود دارد.
۲۰۲. درست
۲۰۳. درست
۲۰۴. خاکستری - سفید
۲۰۵. بسیاری
۲۰۶. چپ
۲۰۷. حسی
۲۱۲. هیپوتالاموس
۲۱۳. برگشت‌پذیر - بیشتر - لیمبیک
۲۱۴. به سرعت
۲۱۵. است
۲۱۶. قشر مخ
۲۱۷. سامانهٔ کناره‌ای
۲۲۲. پشتی - شکمی
۲۲۳. حرکتی - محیطی - ناآگاهانه - همیشه
۲۲۴. معمولاً
۲۲۵. عدد
۲۲۶. واجد
۲۲۷. هیدر
۲۰۸. برخی
۲۰۹. تالاموس
۲۱۰. پایین - بالای
۲۱۱. اولیه - اغلب
۲۱۸. بلند
۲۱۹. عقب - پایین
۲۲۰. بصل‌النخاع
۲۲۱. کمر
۲۲۸. همه
۲۲۹. محیطی
۲۳۰. بیشتر
۲۳۱. هیدر

